



おうちで、やろう。

Study at home. 小学校受験の家庭学習教材

指示の聞き取り 18

それぞれの設問に答えましょう。指示は1度ですべて読み上げます。しっかり聞いて取り組みましょう。

①鉛筆で左から右へ向かってO→X→△の順番で3回かきます。枠の中に入るように大きさにも注意しましょう。

②鉛筆で左から右へ向かってX→O→Xの順番で3回かきます。枠の中に入るように大きさにも注意しましょう。

③鉛筆で左から右へ向かってO→O→◎の順番で3回かきます。枠の中に入るように大きさにも注意しましょう。

④鉛筆で左から右へ向かって△→O→X→△の順番で3回かきます。枠の中に入るように大きさにも注意しましょう。

①

②

③

④



おうちで、やろう。

Study at home. 小学校受験の家庭学習教材

図形：移動 27

左の四角がお手本です。このお手本の○を真ん中の太い四角の中の矢印の方向へ1マスずつ動かします。移動した後の場所を考えて、右の四角の中に○をかきます。

①

○		
○		

↑
→
→
↓
←
↓

④

	○	
	○	

↑
↗
←
↘
←
←

②

	○	○

↑
↓
←
→
↑
↓

⑤

	○	○

↑
↖
→
↑
↘
→

③

	○	
		○

↑
←
↑
→
↓
←

⑥

	○	
○		

↗
↖
→
↓
↑
↖

※1. このプリントは、しながわ・目黒こどもスクールのウェブサイトでダウンロードができます。無断複写・引用はご遠慮ください。
 ※2. このプリントを活用したオンライン授業のスケジュールは、しながわ・目黒こどもスクールのウェブサイトでご確認ください。



おうちで、やろう。

Study at home. 小学校受験の家庭学習教材

図形：移動 28

左の四角がお手本です。このお手本の○を真ん中の太い四角の中の矢印の方向へ1マスずつ動かします。移動した後の場所を考えて、右の四角の中に○をかきます。

①

○		
○		

↓
→
↓
→
←
↑

④

	○	
	○	

←
↗
↘
↓
←
→

②

	○	
		○

←
↑
→
↑
↓
↓

⑤

		○
	○	

↗
↓
↘
←
↑
↙

③

		○
	○	

←
↓
↓
→
↓
↑

⑥

○		
	○	

↗
←
→
↑
↘
↙

※1. このプリントは、しながわ・目黒こどもスクールのウェブサイトでダウンロードができます。無断複写・引用はご遠慮ください。
※2. このプリントを活用したオンライン授業のスケジュールは、しながわ・目黒こどもスクールのウェブサイトでご確認ください。



おうちで、よろう。

Study at home. 小学校受験の家庭学習教材

図形：移動 29

左の四角がお手本です。このお手本の○を真ん中の太い四角の中の矢印の方向へ1マスずつ動かします。移動した後の場所を考えて、右の四角の中に○をかきます。

①

○		
○	○	

→
↓
↓
↓
←
↑

④

○		
○		
○		

↓
↗
→
↓
↖
↗

②

	○	
		○
		○

↑
←
↓
→
↓
↓

⑤

	○	
		○
	○	

↑
↖
→
↓
↖
→

③

	○	○
	○	

←
↑
↑
→
↓
←

⑥

		○
	○	
		○

↖
↓
→
↓
↖
↑

※1. このプリントは、しながわ・目黒こどもスクールのウェブサイトでダウンロードができます。無断複写・引用はご遠慮ください。
※2. このプリントを活用したオンライン授業のスケジュールは、しながわ・目黒こどもスクールのウェブサイトでご確認ください。



おうちで、やろう。

Study at home. 小学校受験の家庭学習教材

推理：じゃんけん8

女の子と男の子が5回じゃんけんをします。じゃんけんに勝った時だけクッキーを2枚もらうことができます。負け、あいこはクッキーをもらうことができません。この約束でじゃんけんをして、勝った手に○をつけ、最後に持っているクッキーの数だけ右の太い枠に○をかきます。

	①	②	③	④	⑤	
	①	②	③	④	⑤	

	①	②	③	④	⑤	
	①	②	③	④	⑤	

	①	②	③	④	⑤	
	①	②	③	④	⑤	

	①	②	③	④	⑤	
	①	②	③	④	⑤	

※1. このプリントは、しながわ・目黒こどもスクールのウェブサイトでダウンロードができます。無断複写・引用はご遠慮ください。
※2. このプリントを活用したオンライン授業のスケジュールは、しながわ・目黒こどもスクールのウェブサイトでご確認ください。



おうちで、やろう。

Study at home. 小学校受験の家庭学習教材

推理：じゃんけん9

女の子と男の子が5回じゃんけんをします。じゃんけんに勝った時だけクッキーを3枚もらうことができます。負け、あいこはクッキーをもらうことができません。この約束でじゃんけんをして、勝った手に○をつけ、最後に持っているクッキーの数だけ右の太い枠に○をかきます。

	①	②	③	④	⑤	
	①	②	③	④	⑤	

	①	②	③	④	⑤	
	①	②	③	④	⑤	

	①	②	③	④	⑤	
	①	②	③	④	⑤	

	①	②	③	④	⑤	
	①	②	③	④	⑤	

※1. このプリントは、しながわ・目黒こどもスクールのウェブサイトでダウンロードができます。無断複写・引用はご遠慮ください。
※2. このプリントを活用したオンライン授業のスケジュールは、しながわ・目黒こどもスクールのウェブサイトでご確認ください。



おうちで、やろう。

Study at home. 小学校受験の家庭学習教材

推理：じゃんけん 10

女の子と男の子が5回じゃんけんをします。じゃんけんに勝った時はクッキーを2枚もらうことができ、あいこのときは2人とも1枚もらえます。負けたときはもらえません。この約束でじゃんけんをして、勝った手に○を、あいこの手に△をつけて最後に持っているクッキーの数だけ右の太い枠に○をかきます。

	①	②	③	④	⑤	
	①	②	③	④	⑤	

	①	②	③	④	⑤	
	①	②	③	④	⑤	

	①	②	③	④	⑤	
	①	②	③	④	⑤	

	①	②	③	④	⑤	
	①	②	③	④	⑤	

※1. このプリントは、しながわ・目黒こどもスクールのウェブサイトでダウンロードができます。無断複写・引用はご遠慮ください。

※2. このプリントを活用したオンライン授業のスケジュールは、しながわ・目黒こどもスクールのウェブサイトでご確認ください。

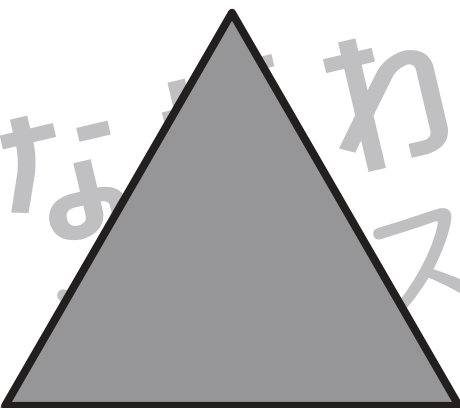



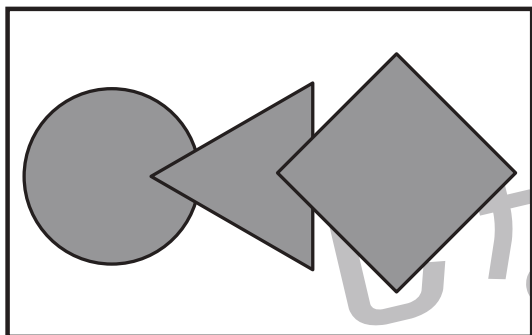


おうちで、やろう。

Study at home. 小学校受験の家庭学習教材

巧緻性：はさみ 1

- ①点線のところをはさみで切ります。
 - ②切った下の部分にある灰色の○、△、□をはさみで切ります。
 - ③切った上の部分にある形の中に左上のお手本と同じになるようにのりで貼ります。
- ※この問題に解答はありません。



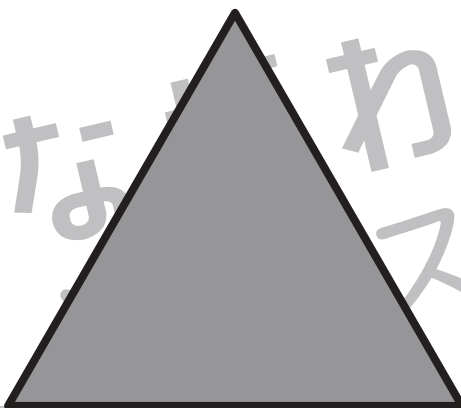



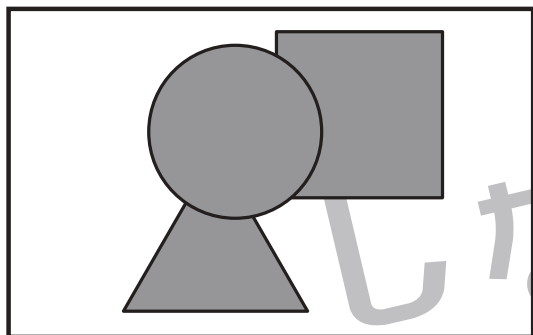


おうちで、やろう。

Study at home. 小学校受験の家庭学習教材

巧緻性：はさみ 2

- ①点線のところをはさみで切ります。
 - ②切った下の部分にある灰色の○、△、□をはさみで切ります。
 - ③切った上の部分にある形の中に左上のお手本と同じになるようにのりで貼ります。
- ※この問題に解答はありません。





おうちで、やろう。

Study at home. 小学校受験の家庭学習教材

巧緻性：はさみ 3

- ①点線のところをはさみで切ります。
 - ②切った下の部分にある灰色の○、△、□をはさみで切ります。
 - ③切った上の部分にある形の中に左上のお手本と同じになるようにのりで貼ります。
- ※この問題に解答はありません。

