








おうちで、やろう。

Study at home. 小学校受験の家庭学習教材

記憶：絵の記憶6 記憶用紙

別紙『記憶 - 絵の記憶6』を行う際に使用します。記憶する際は問題用紙は裏返しにします。
覚えた組み合わせになるように左と右の四角の点と点を結びます。
※2023年5月26日（金）のオンライン授業では実施中に記憶する絵を画面で表示します。



※1. このプリントは、しながわ・目黒こどもスクールのウェブサイトでダウンロードができます。無断複写・引用はご遠慮ください。
※2. このプリントを活用したオンライン授業のスケジュールは、しながわ・目黒こどもスクールのウェブサイトでご確認ください。





おうちで、やろう。

Study at home. 小学校受験の家庭学習教材

記憶：絵の記憶6

別紙『記憶 - 絵の記憶6記憶用紙』を使用します。記憶用紙の絵を見た後に問題に取り組みましょう。
覚えた組み合わせになるように左と右の四角の点と点を結びます。

	●	
	●	
	●	
	●	
	●	

※1. このプリントは、しながわ・目黒こどもスクールのウェブサイトでダウンロードができます。無断複写・引用はご遠慮ください。
 ※2. このプリントを活用したオンライン授業のスケジュールは、しながわ・目黒こどもスクールのウェブサイトでご確認ください。



おうちで、やろう。

Study at home. 小学校受験の家庭学習教材


指示の聞き取り 19

それぞれの設問に答えましょう。指示は1度ですべて読み上げます。しっかり聞いて取り組みましょう。

- ①左から4番目のカエルに○をつけます。
- ②右から8番目のてるてる坊主に○をつけます。
- ③真ん中のカタツムリに○をつけます。
- ④カエルだけかぞえて左から4番目のカエルに○をつけます。

目黒

①




②



③



④



※1. このプリントは、しながわ・目黒こどもスクールのウェブサイトでダウンロードができます。無断複写・引用はご遠慮ください。
 ※2. このプリントを活用したオンライン授業のスケジュールは、しながわ・目黒こどもスクールのウェブサイトでご確認ください。

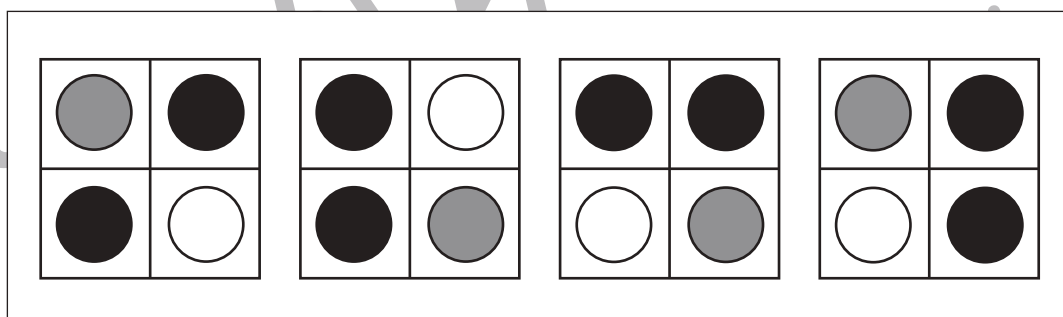
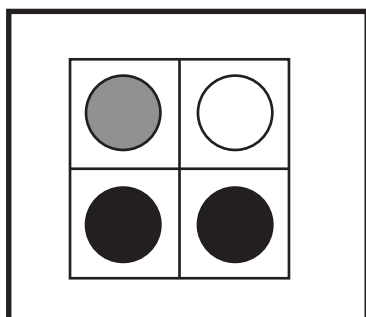
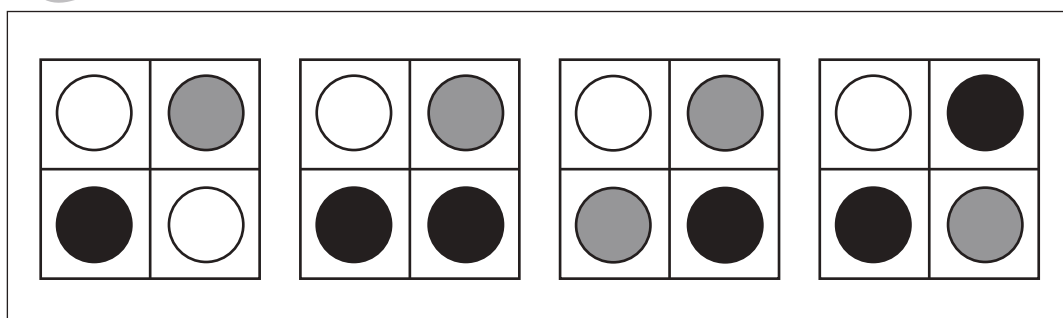
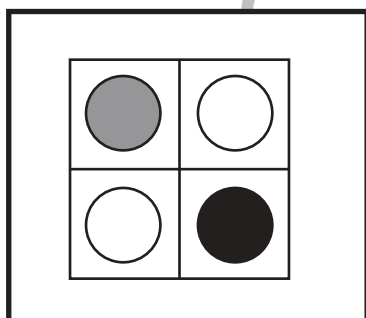
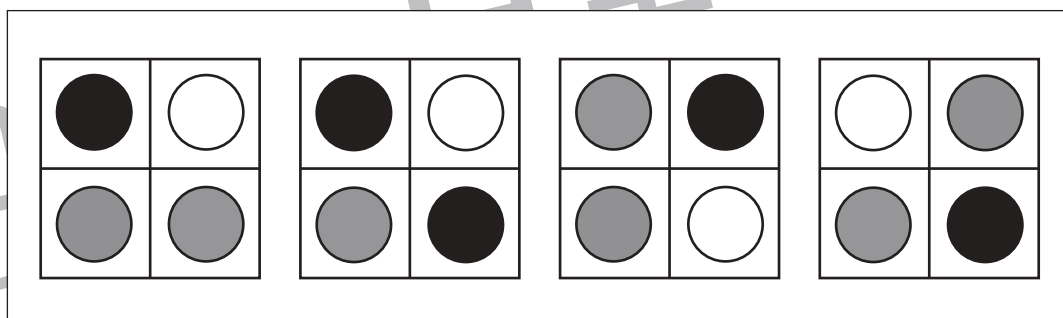
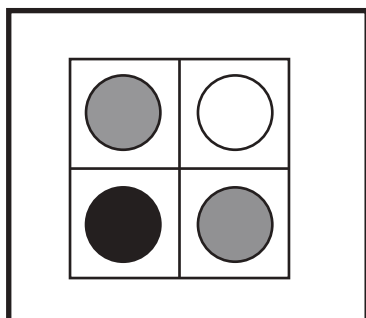
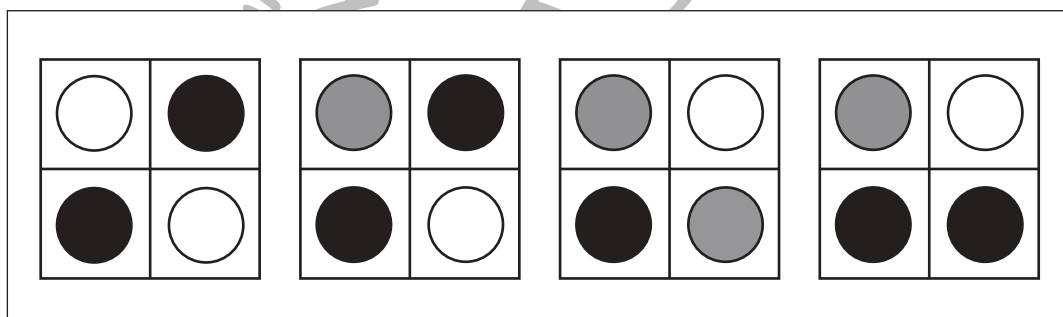
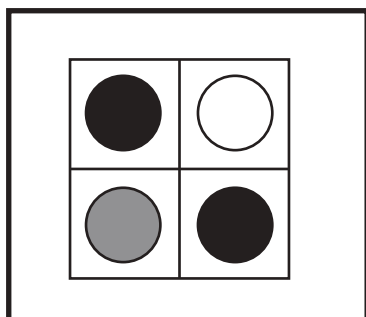
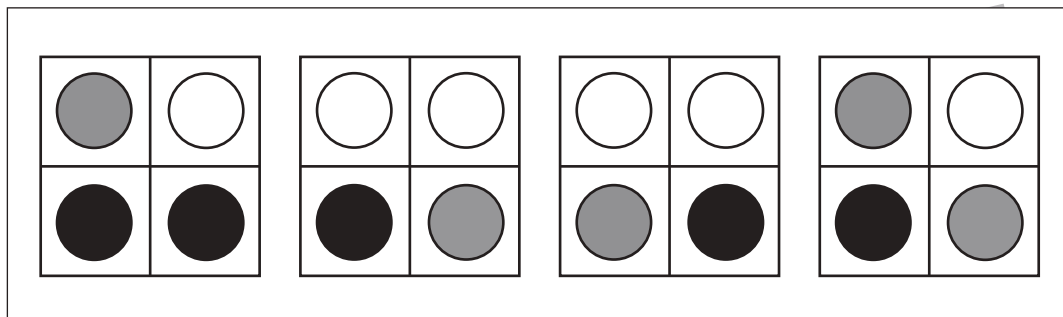
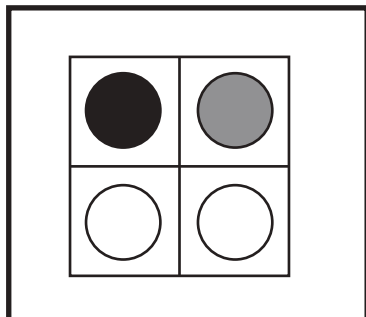


おうちで、やろう。

Study at home. 小学校受験の家庭学習教材

図形：同図形 14

左の太い四角の中がお手本です。お手本と同じ形を右の中から見つけて○をつけます。
お手本は回転してもよいですが、裏返しにはいけません。



※1. このプリントは、しながわ・目黒こどもスクールのウェブサイトでダウンロードができます。無断複写・引用はご遠慮ください。

※2. このプリントを活用したオンライン授業のスケジュールは、しながわ・目黒こどもスクールのウェブサイトでご確認ください。

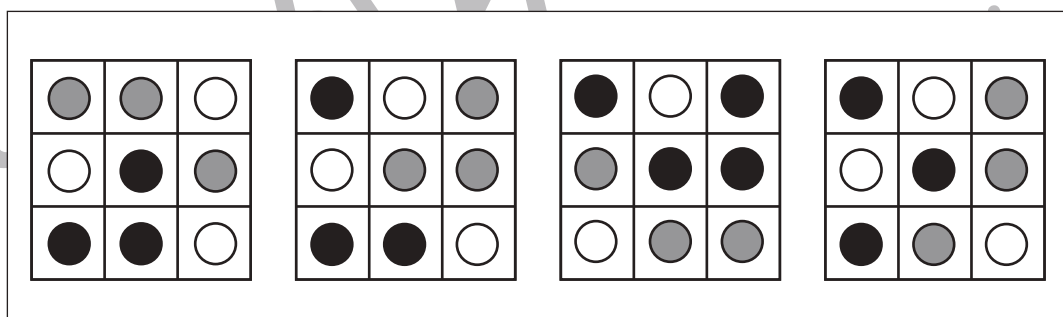
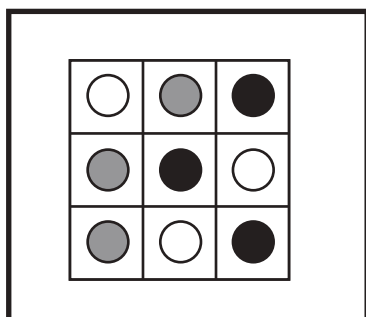
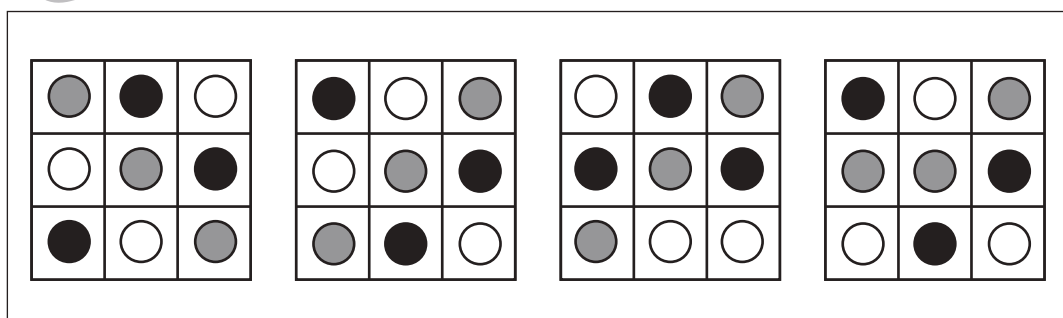
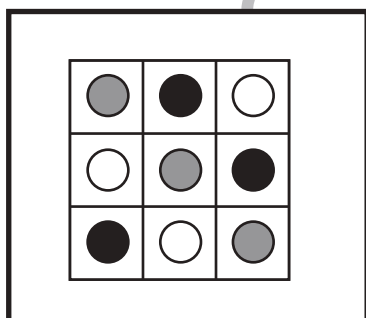
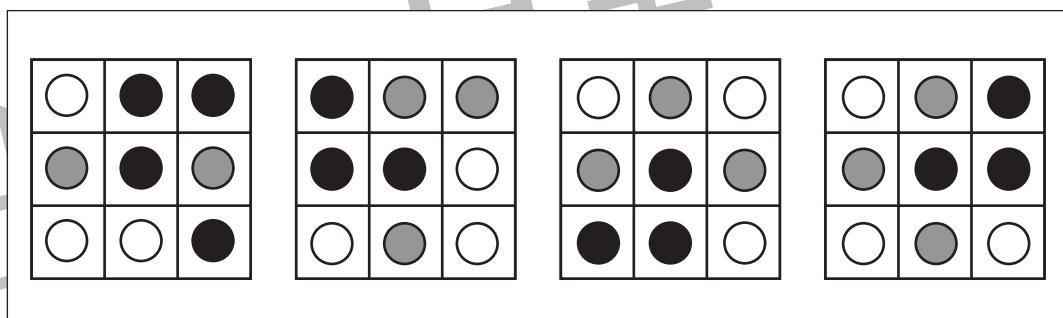
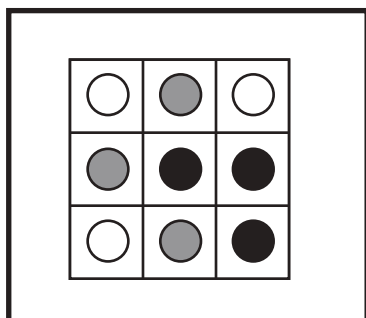
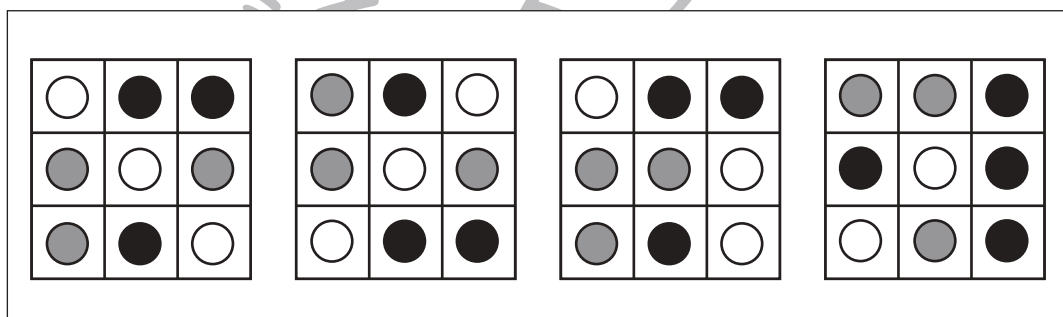
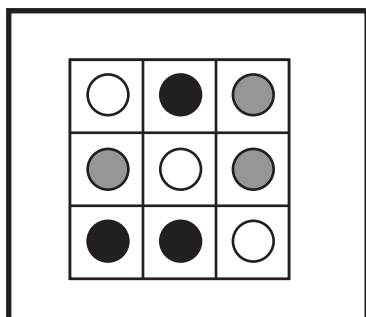
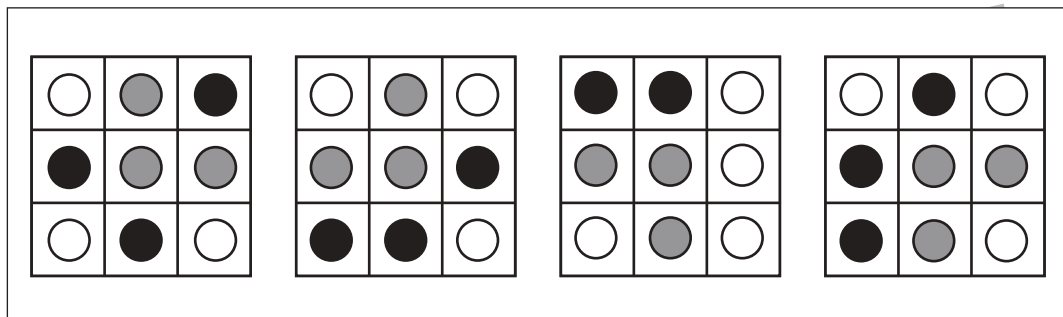
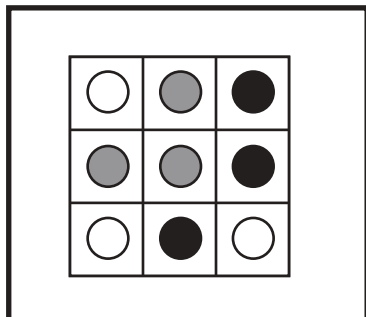


おうちで、やろう。

Study at home. 小学校受験の家庭学習教材

図形：同図形 15

左の太い四角の中がお手本です。お手本と同じ形を右の中から見つけて○をつけます。
お手本は回転してもよいですが、裏返しにはいけません。



※1. このプリントは、しながわ・目黒こどもスクールのウェブサイトでダウンロードができます。無断複写・引用はご遠慮ください。
※2. このプリントを活用したオンライン授業のスケジュールは、しながわ・目黒こどもスクールのウェブサイトでご確認ください。




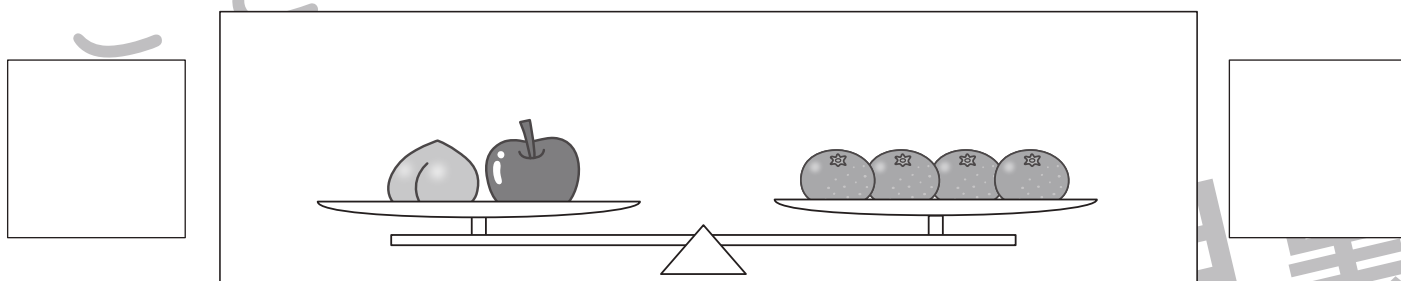
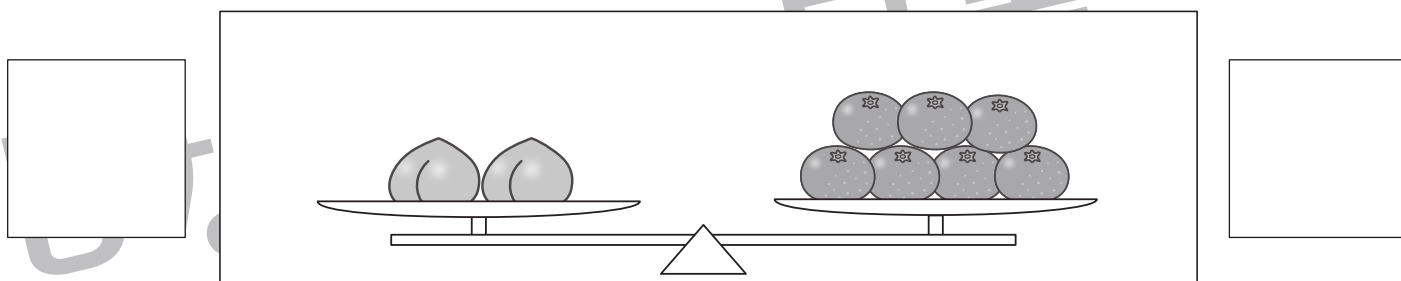
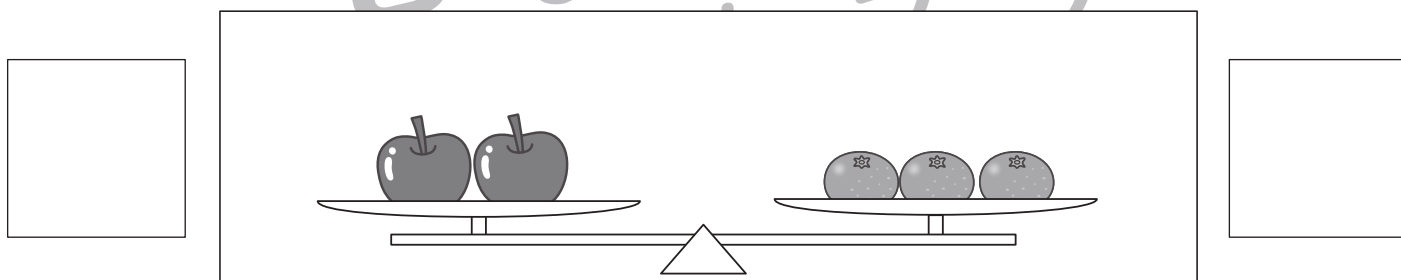



おうちで、やろう。

Study at home. 小学校受験の家庭学習教材

推理：重さの置き換え 1

天秤に果物をのせて重さ比べをしました。上の太い四角の中が約束です。この約束のとき、下の四角の中で下がるのは右と左どちらですか。下がる方の四角に○をかきます。釣り合うときは両方の四角に○をかきます。



※1. このプリントは、しながわ・目黒こどもスクールのウェブサイトからダウンロードできます。無断複写・引用はご遠慮ください。
 ※2. このプリントを活用したオンライン授業のスケジュールは、しながわ・目黒こどもスクールのウェブサイトでご確認ください。

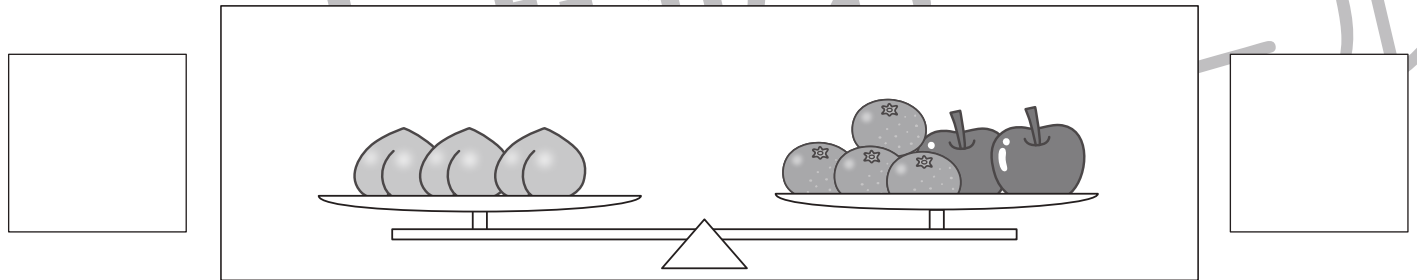
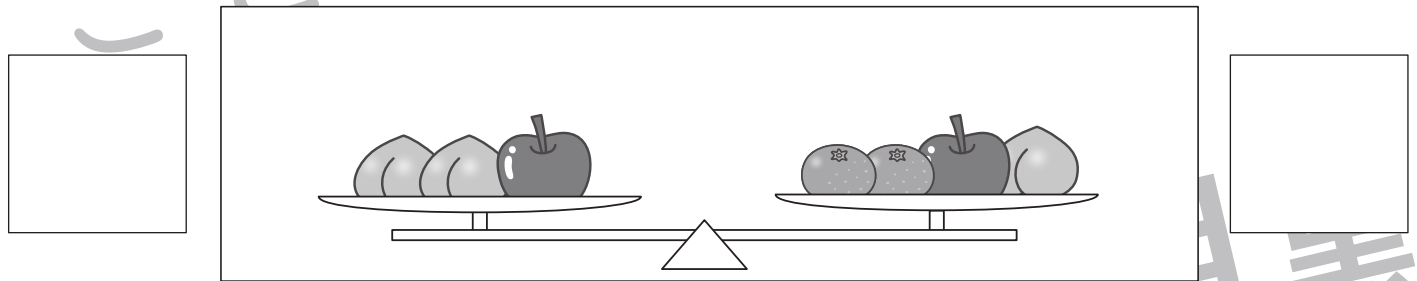
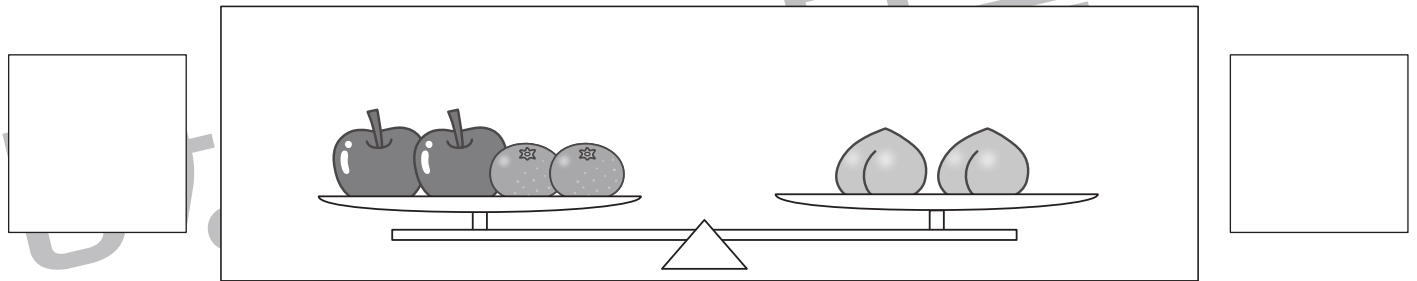
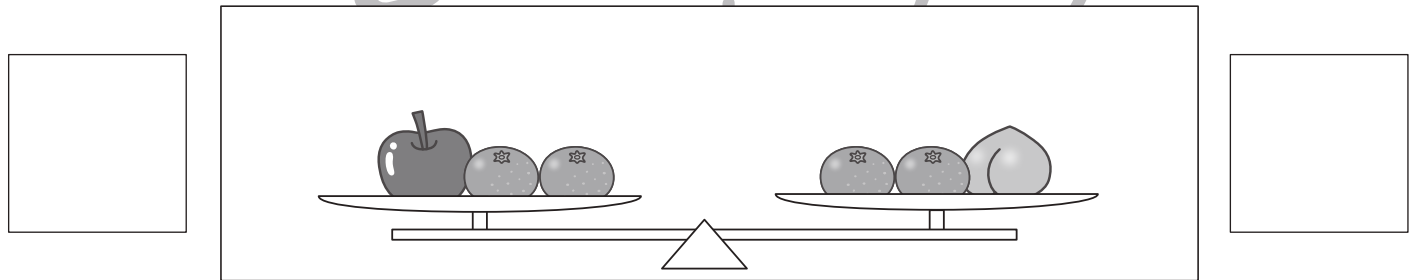



おうちで、やろう。

Study at home. 小学校受験の家庭学習教材

推理：重さの置き換え2

天秤に果物をのせて重さ比べをしました。上の太い四角の中が約束です。この約束のとき、下の四角の中で下がるのは右と左どちらですか。下がる方の四角に○をかきます。釣り合うときは両方の四角に○をかきます。



※1. このプリントは、しながわ・目黒こどもスクールのウェブサイトでダウンロードができます。無断複写・引用はご遠慮ください。
 ※2. このプリントを活用したオンライン授業のスケジュールは、しながわ・目黒こどもスクールのウェブサイトでご確認ください。

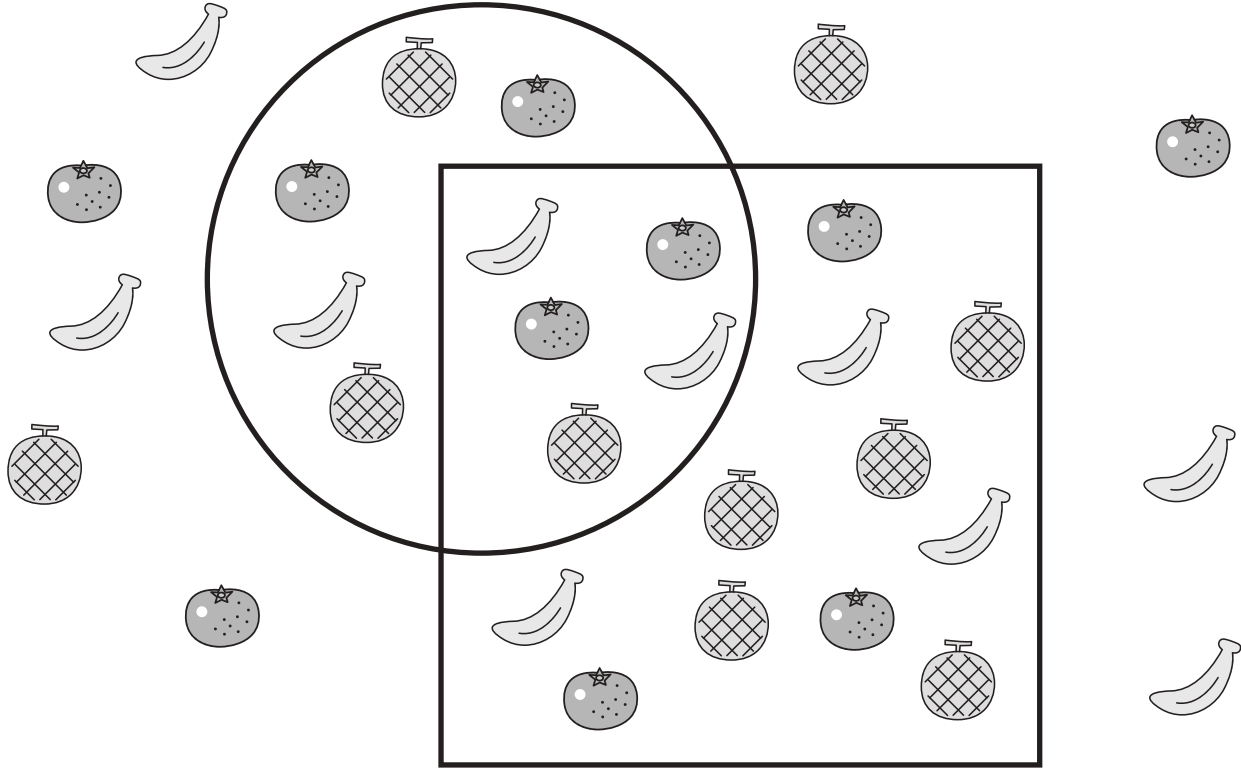


おうちで、やろう。

Study at home. 小学校受験の家庭学習教材

数量：計数 36

- ①丸の中にあるミカンの数だけ○をかきます。
- ②四角の中にあるメロンの数だけ○をかきます。
- ③丸と四角が重なっている場所にあるミカンとメロンとバナナを合わせた数だけ○をかきます。
- ④丸と四角の外にあるバナナの数だけ○をかきます。



①

②

③

④

※1. このプリントは、しながわ・目黒こどもスクールのウェブサイトからダウンロードができます。無断複写・引用はご遠慮ください。
 ※2. このプリントを活用したオンライン授業のスケジュールは、しながわ・目黒こどもスクールのウェブサイトでご確認ください。




おうちで、やろう。

Study at home. 小学校受験の家庭学習教材

数量：計数 37

- ①丸の中で三角が重なっていない場所にあるバナナの数だけ○をかきます。
- ②三角の中で丸が重なっていない場所にあるリンゴの数だけ○をかきます。
- ③丸と三角が重なっている場所のバナナの数だけ○をかきます。
- ④丸と三角の外にあるメロンとリンゴを合わせた数だけ○をかきます。



①

②

③

④

※1. このプリントは、しながわ・目黒こどもスクールのウェブサイトでダウンロードができます。無断複写・引用はご遠慮ください。
 ※2. このプリントを活用したオンライン授業のスケジュールは、しながわ・目黒こどもスクールのウェブサイトでご確認ください。

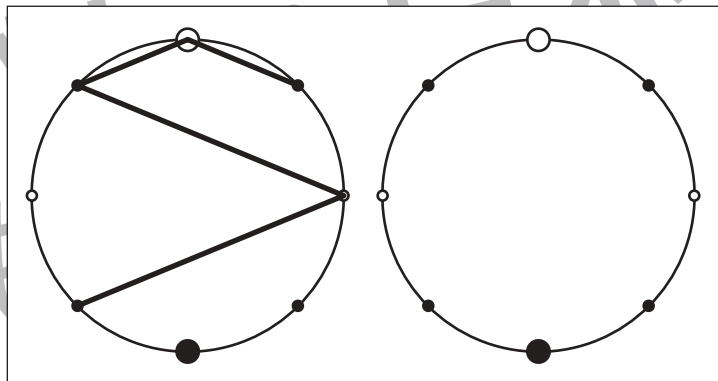
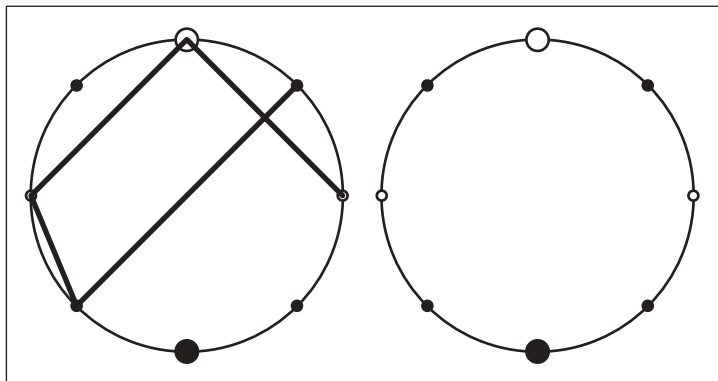
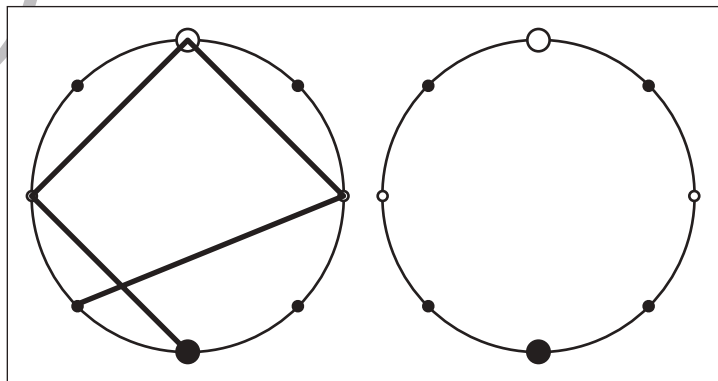
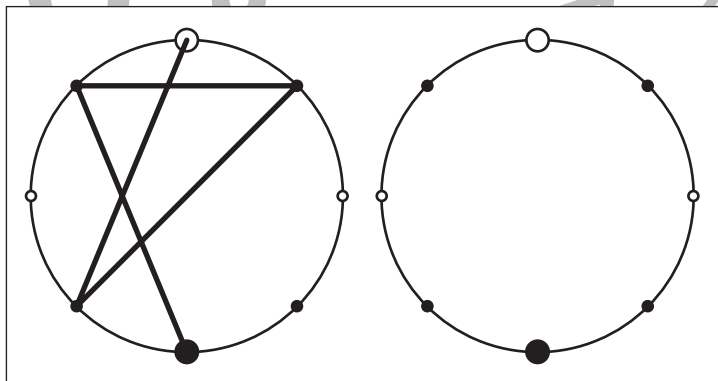
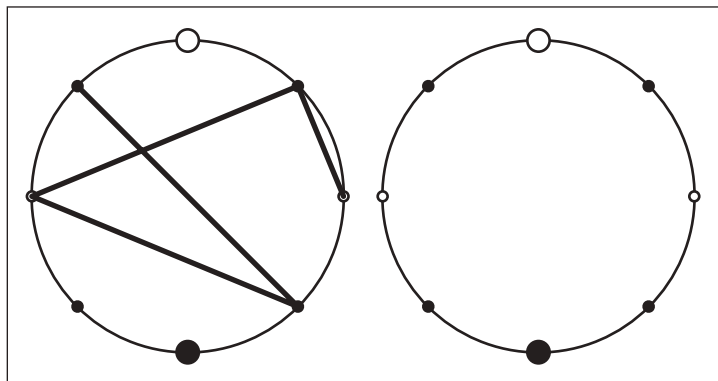
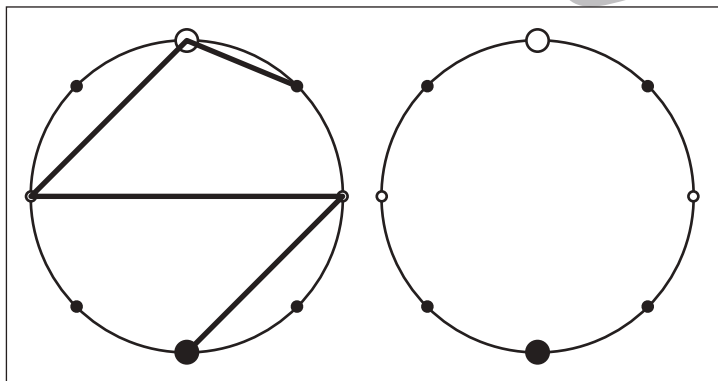
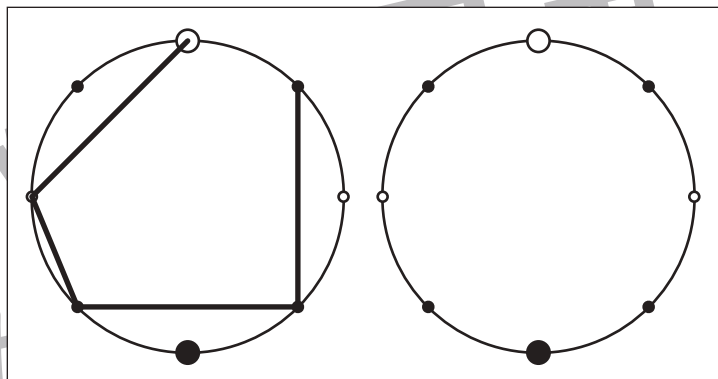
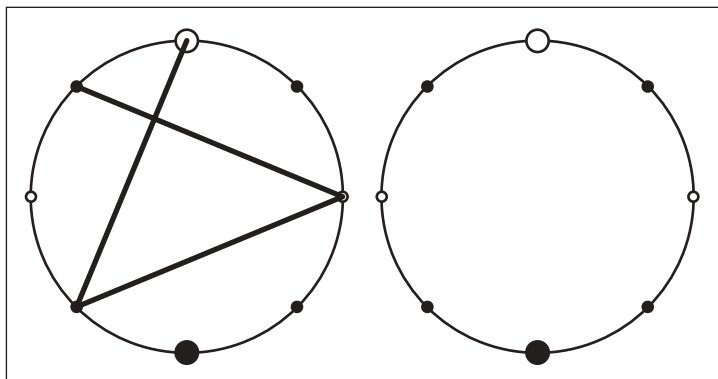


おうちで、やろう。

Study at home. 小学校受験の家庭学習教材

図形：点図形 33

左のお手本を見て、右にそっくり描き写しましょう。※このプリントに解答はありません。



※1. このプリントは、しながわ・目黒こどもスクールのウェブサイトでダウンロードができます。無断複写・引用はご遠慮ください。
※2. このプリントを活用したオンライン授業のスケジュールは、しながわ・目黒こどもスクールのウェブサイトでご確認ください。