



おうちで、やろう。

Study at home. 小学校受験の家庭学習教材

言語：音の数 30

四角の中の絵の名前はいくつの音でできていますか。その数だけ、絵の下のマスに1つずつ○をかきます。

○	○	○		

○	○	○	○	

○	○	○	○	

○	○	○	○	○
○	○			

○	○	○	○	○
○	○			

○	○	○	○	○
○				

○	○	○	○	○
○				

○	○	○	○	○

○	○	○	○	○
○				

○	○	○	○	○
○				

※1. このプリントは、しながわ・目黒こどもスクールのウェブサイトでダウンロードができます。無断複写・引用はご遠慮ください。
 ※2. このプリントを活用したオンライン授業のスケジュールは、しながわ・目黒こどもスクールのウェブサイトでご確認ください。



おうちで、やろう。

Study at home. 小学校受験の家庭学習教材

言語：音の数 31

四角の中の絵の名前の音の数を合わせるといくつになりますか。その数だけ、絵の下のマスに1つずつ○をかきます。

○	○	○	○	○	○	○	○
○	○						

○	○	○	○	○	○	○	○
○	○	○	○				

○	○	○	○	○	○	○	○
○							

○	○	○	○	○	○	○	○
○	○						

○	○	○	○	○	○	○	○
○	○	○	○	○	○		

○	○	○	○	○	○	○	○
○	○	○	○	○			

○	○	○	○	○	○	○	○
○	○	○	○				

○	○	○	○	○	○	○	○
○	○	○	○	○	○		

○	○	○	○	○	○	○	○
○	○	○	○	○			

○	○	○	○	○	○	○	○
○	○	○	○	○	○	○	○

※1. このプリントは、しながわ・目黒こどもスクールのウェブサイトからダウンロードできます。無断複写・引用はご遠慮ください。
※2. このプリントを活用したオンライン授業のスケジュールは、しながわ・目黒こどもスクールのウェブサイトでご確認ください。









おうちで、やろう。



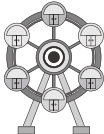
Study at home. 小学校受験の家庭学習教材




言語：音の数 32




四角の中の絵の名前の音の数を比べます。音の数が一番多いものはどれかを考えて、その数だけ絵の下のマスに1つずつ○をかきます。




				
○	○	○	○	○
○				




				
○	○	○	○	○




				
○	○	○	○	○
○				




				
○	○	○	○	○




				
○	○	○	○	○

				
○	○	○	○	○

				
○	○	○	○	○
○	○			

				
○	○	○	○	

				
○	○	○	○	○
○	○	○		

				
○	○	○	○	

※1. このプリントは、しながわ・目黒こどもスクールのウェブサイトでダウンロードができます。無断複写・引用はご遠慮ください。

※2. このプリントを活用したオンライン授業のスケジュールは、しながわ・目黒こどもスクールのウェブサイトでご確認ください。




おうちで、やろう。

Study at home. 小学校受験の家庭学習教材

常識：仲間外れ 4

横に並んだ5つの絵の中で、仲間外れのものを1つ見つけて×をつけます。



※1. このプリントは、しながわ・目黒こどもスクールのウェブサイトからダウンロードできます。無断複写・引用はご遠慮ください。

※2. このプリントを活用したオンライン授業のスケジュールは、しながわ・目黒こどもスクールのウェブサイトでご確認ください。



おうちで、やろう。

Study at home. 小学校受験の家庭学習教材

図形：重ね 31

太い四角の中の形は、透き通っていない紙でできています。太い四角の中の左の紙の上に右の紙を重ねた時の見え方として正しいものを右の四角から選んで○をつけます。紙は向きを変えずにそのまま重ねます。

※1. このプリントは、しながわ・目黒こどもスクールのウェブサイトでダウンロードができます。無断複写・引用はご遠慮ください。

※2. このプリントを活用したオンライン授業のスケジュールは、しながわ・目黒こどもスクールのウェブサイトでご確認ください。

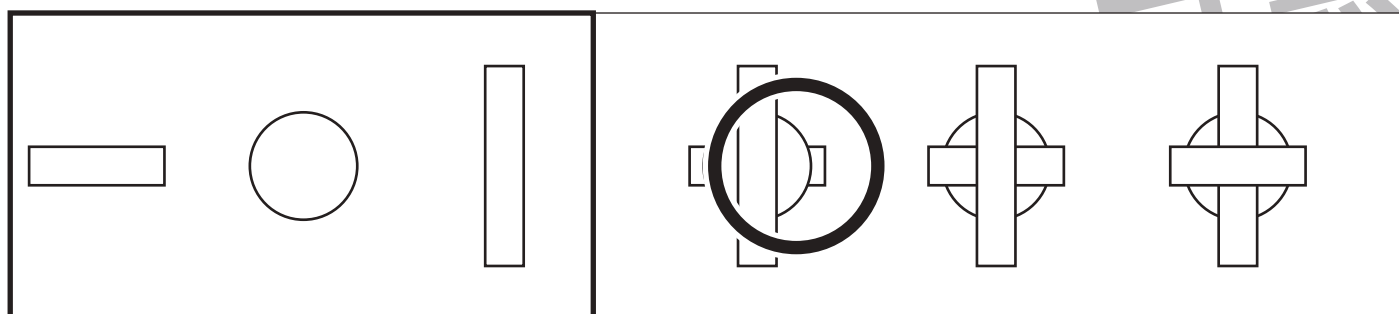
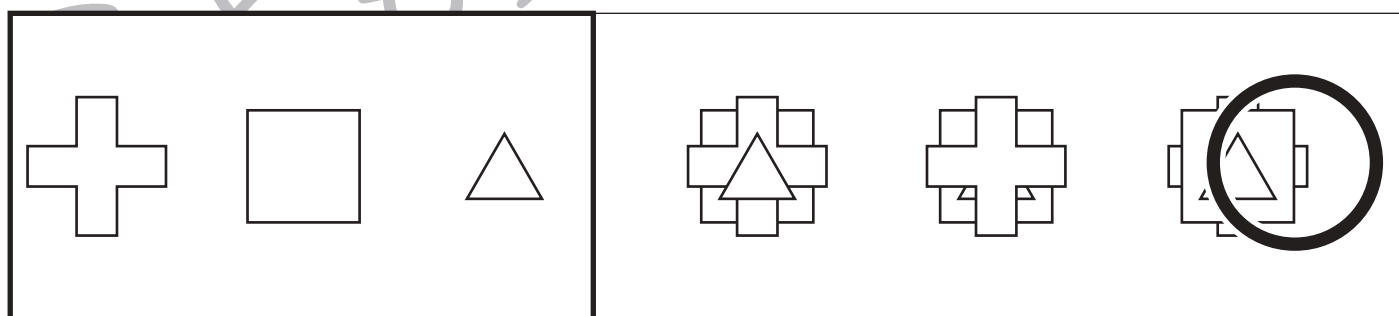

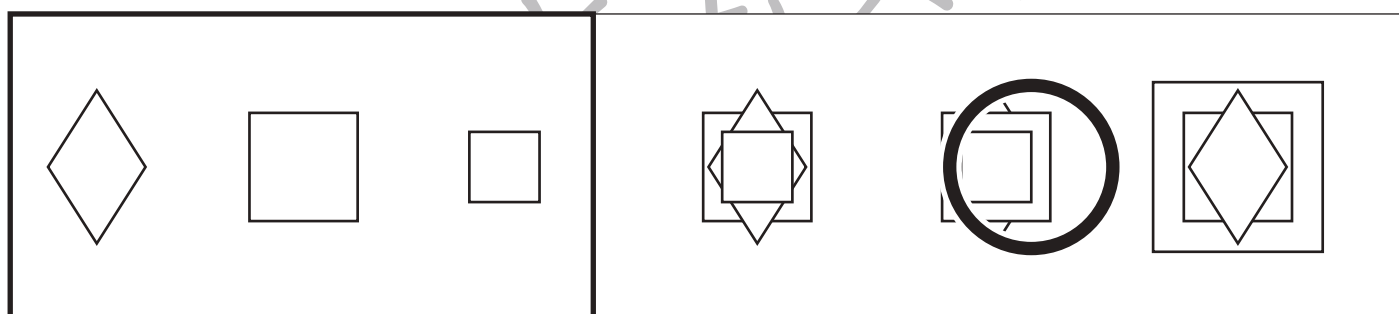
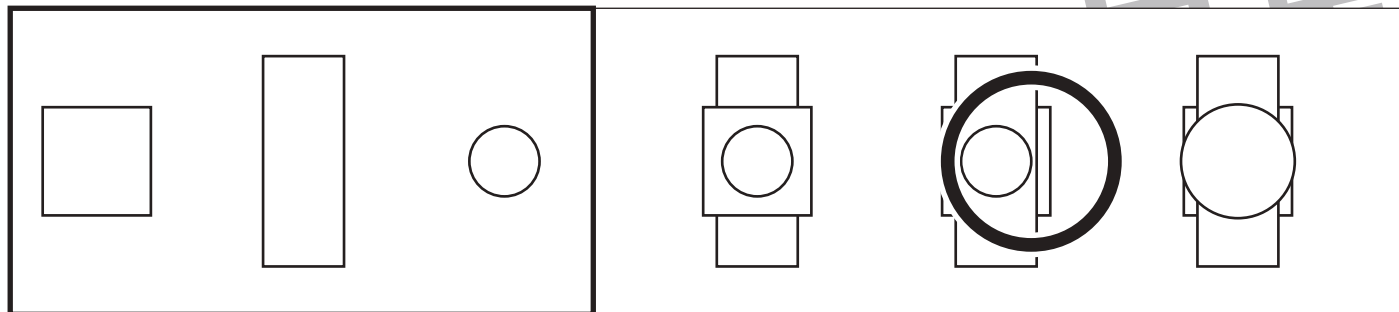


おうちで、やろう。

Study at home. 小学校受験の家庭学習教材

図形：重ね 32

太い四角の中の形は、透き通っていない紙でできています。太い四角の中の左の紙の上に真ん中と右の紙を順番に重ねます。見え方として正しいものを右の四角の中から選んで○をつけます。紙は向きを変えずにそのまま重ねます。



※1. このプリントは、しながわ・目黒こどもスクールのウェブサイトからダウンロードできます。無断複写・引用はご遠慮ください。
 ※2. このプリントを活用したオンライン授業のスケジュールは、しながわ・目黒こどもスクールのウェブサイトでご確認ください。



おうちで、やろう。

Study at home. 小学校受験の家庭学習教材

図形：重ね 33

太い四角の中の形は、透き通っていない紙でできています。太い四角の中の左の紙の上に右の紙を重ねます。見え方として正しいものを右の四角の中から選んで○をつけます。紙は向きを変えずにそのまま重ねます。

※1. このプリントは、しながわ・目黒こどもスクールのウェブサイトからダウンロードできます。無断複写・引用はご遠慮ください。

※2. このプリントを活用したオンライン授業のスケジュールは、しながわ・目黒こどもスクールのウェブサイトでご確認ください。

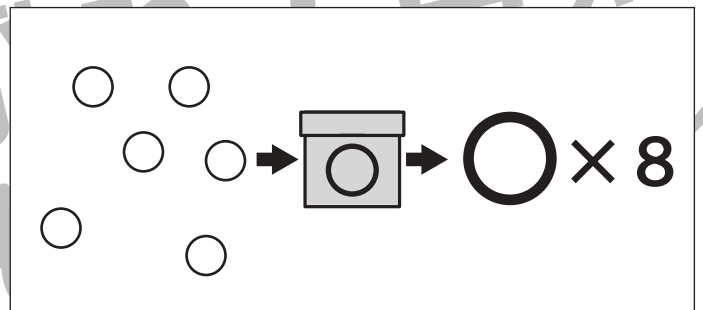
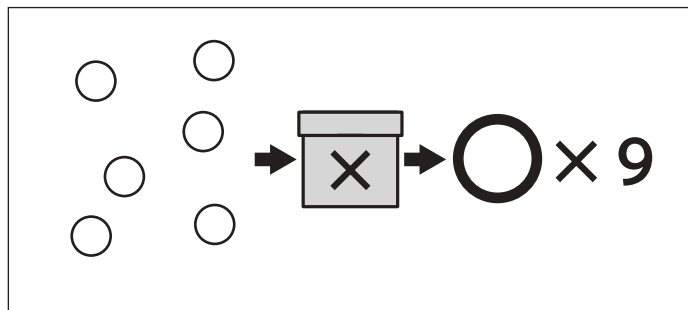
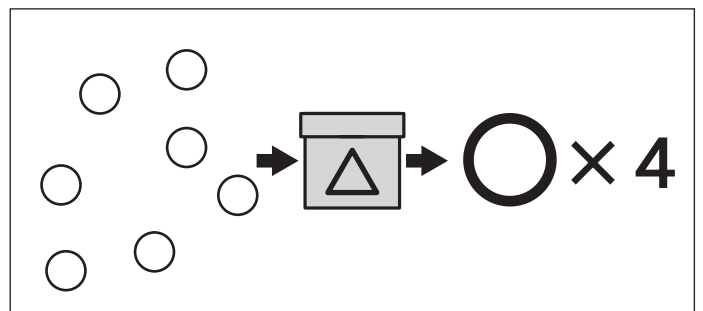
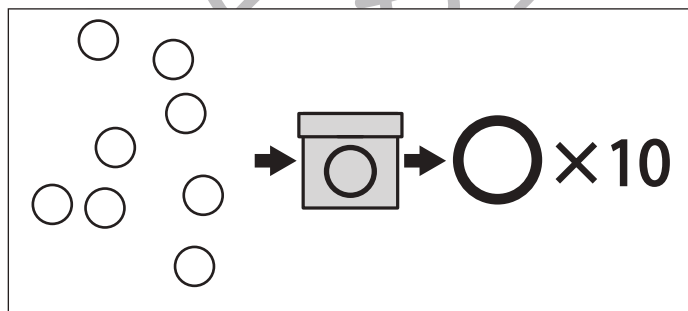
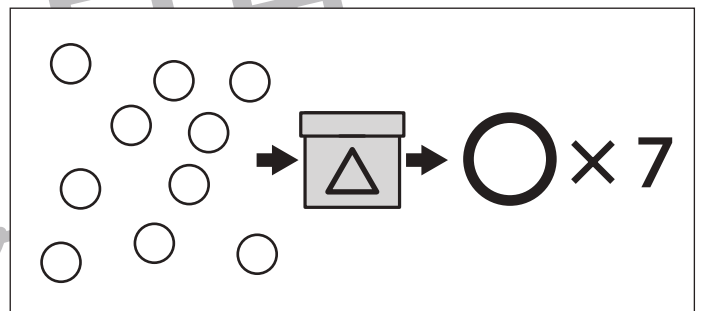
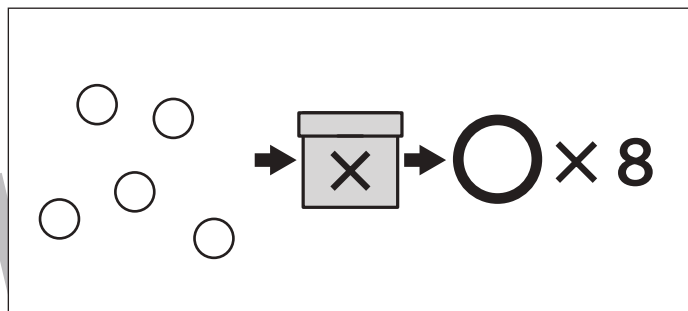
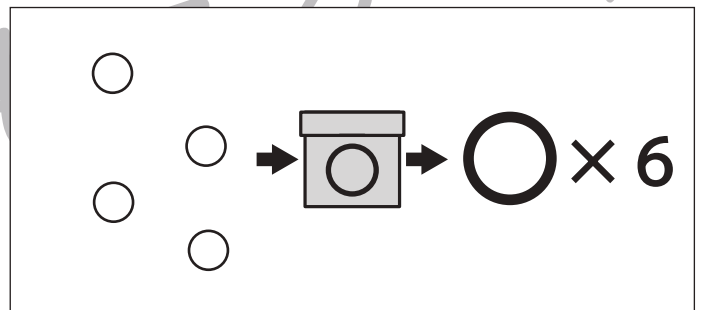
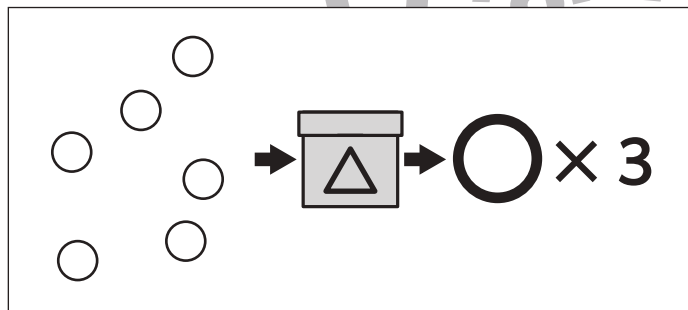
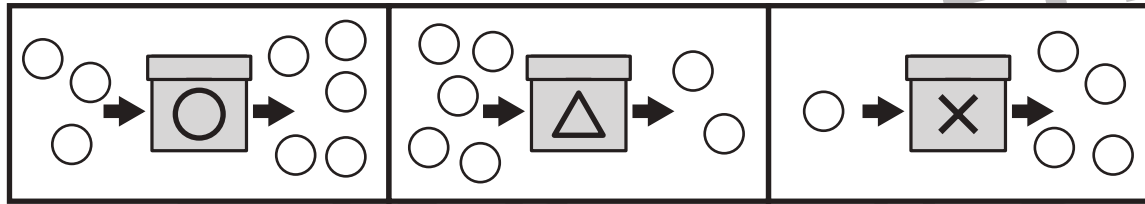


おうちで、やろう。

Study at home. 小学校受験の家庭学習教材

推理：ブラックボックス6

太い四角がお約束です。丸の箱を通ると白丸は2つ増えます。三角の箱を通ると白丸は3つ減ります。ハツの箱を通ると白丸は3つ増えます。この約束の時、下のそれぞれの四角の中の白丸が箱を通ると、いくつになって出てきますか。その数だけ、箱の右側に○をかきます。



※1. このプリントは、しながわ・目黒こどもスクールのウェブサイトでダウンロードができます。無断複写・引用はご遠慮ください。
 ※2. このプリントを活用したオンライン授業のスケジュールは、しながわ・目黒こどもスクールのウェブサイトでご確認ください。

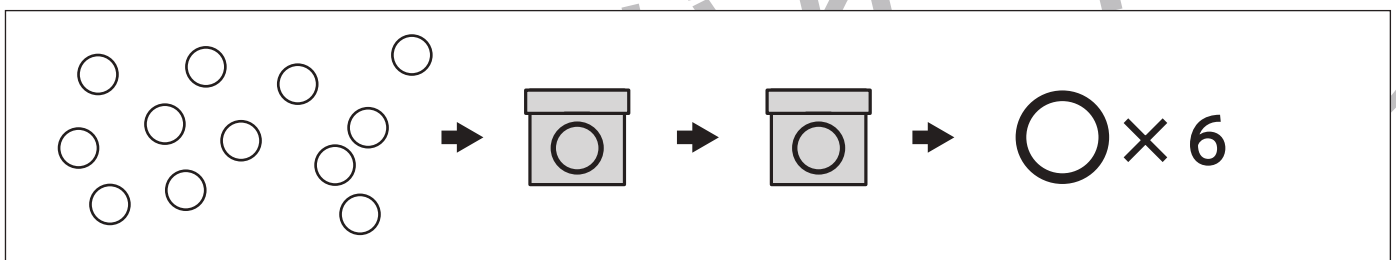
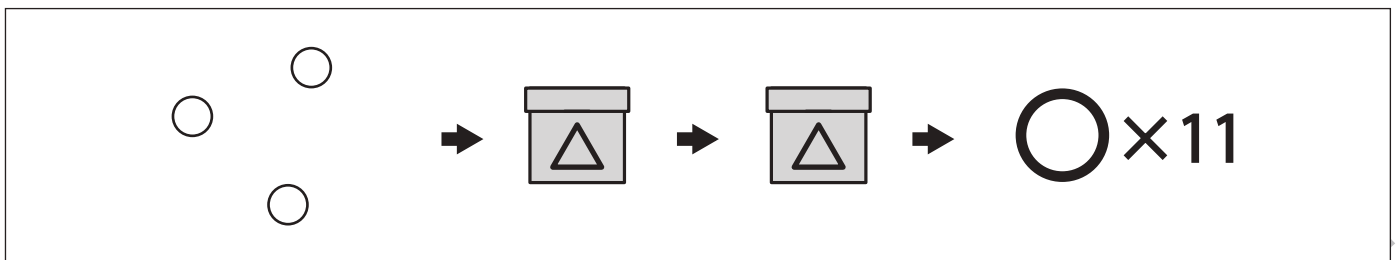
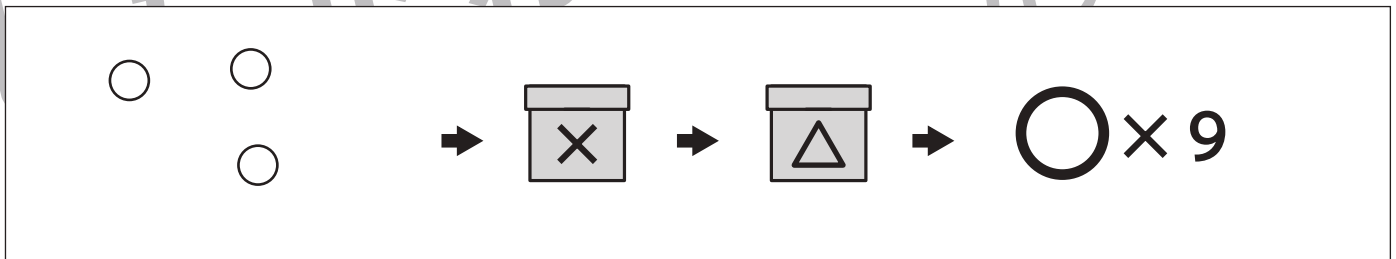
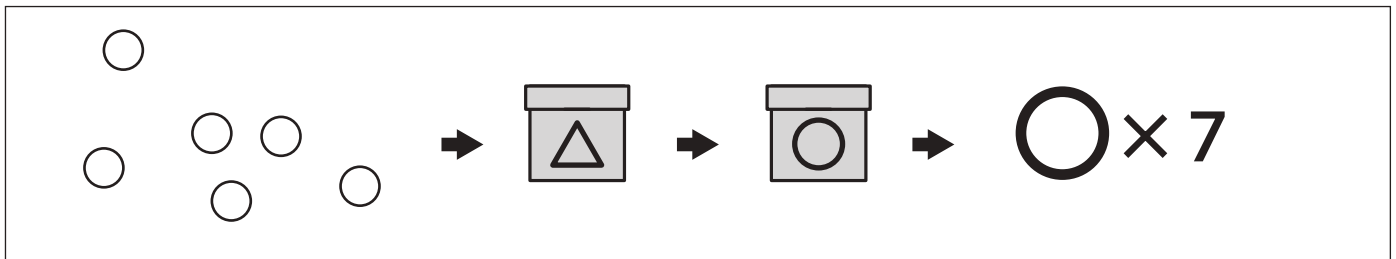
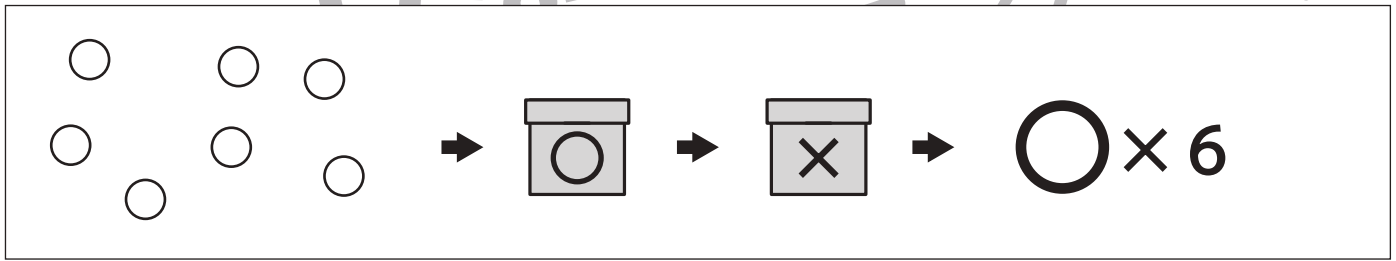
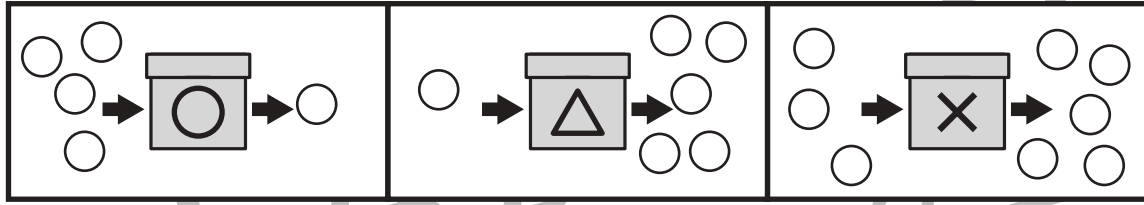


おうちで、やろう。

Study at home. 小学校受験の家庭学習教材

推理：ブラックボックス7

太い四角がお約束です。丸の箱を通ると白丸は3つ減ります。三角の箱を通ると白丸は4つ増えます。バツの箱を通ると白丸は2つ増えます。この約束の時、下のそれぞれの四角の中の白丸が2つの箱を通ると、いくつになって出てきますか。その数だけ、箱の右側に○をかきます。



※1. このプリントは、しながわ・目黒こどもスクールのウェブサイトでダウンロードができます。無断複写・引用はご遠慮ください。
 ※2. このプリントを活用したオンライン授業のスケジュールは、しながわ・目黒こどもスクールのウェブサイトでご確認ください。

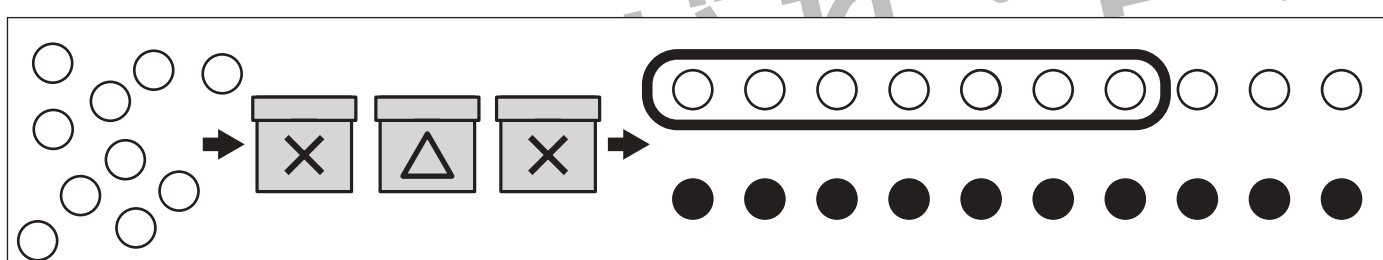
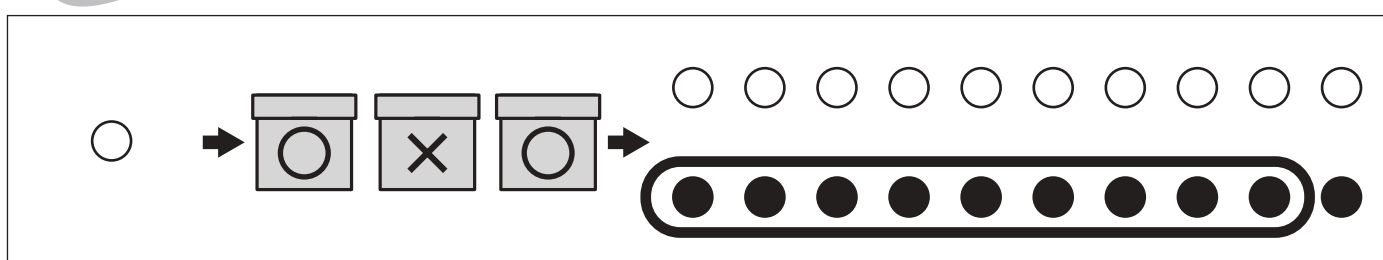
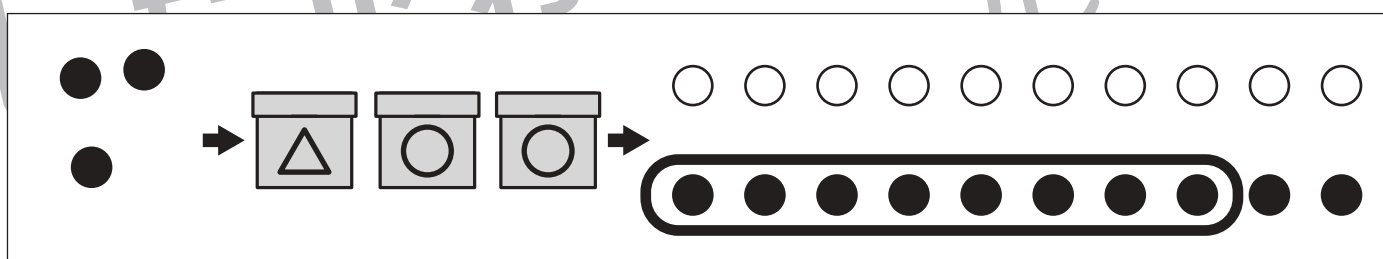
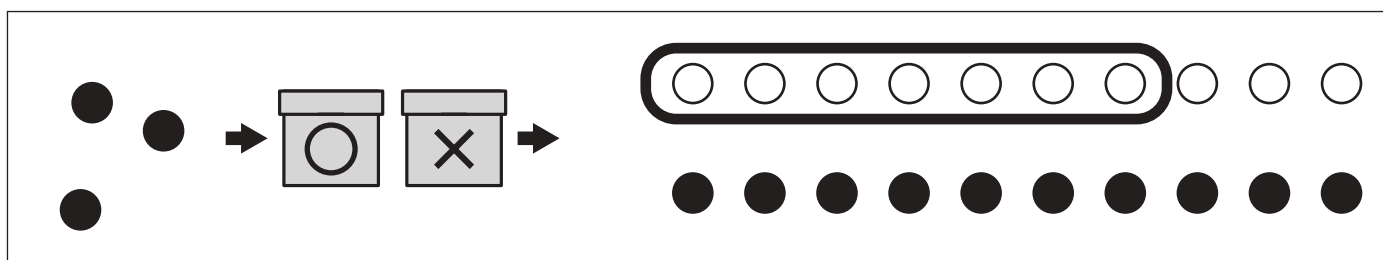
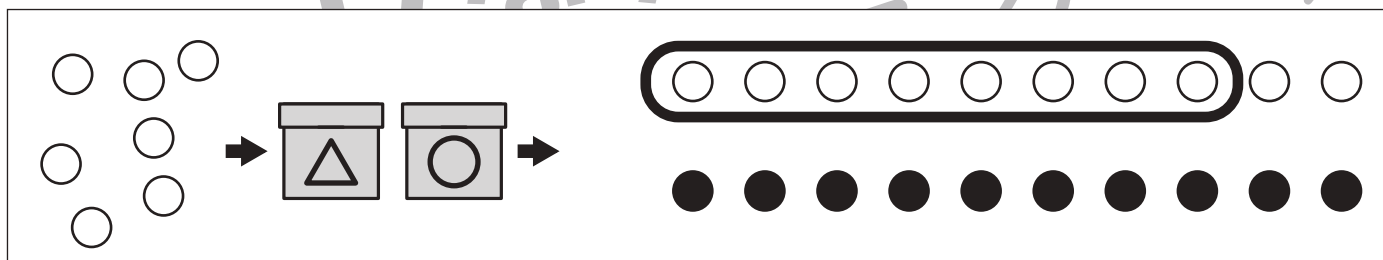
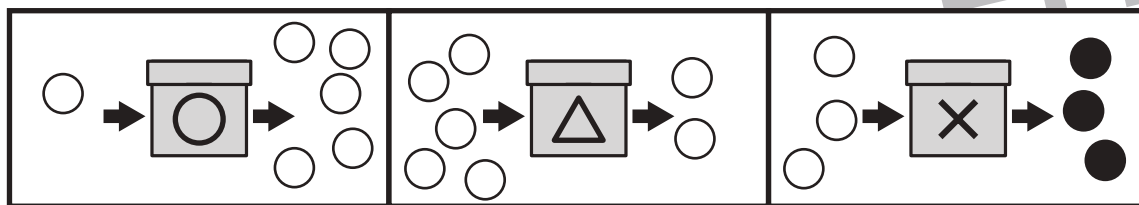


おうちで、やろう。

Study at home. 小学校受験の家庭学習教材

推理：ブラックボックス8

太い四角がお約束です。丸の箱を通ると丸の数は4つ増えます。三角の箱を通ると丸の数は3つ減ります。バツの箱を通ると白丸は黒丸に、黒丸は白丸に色が変わります。この約束の時、下のそれぞれの四角の中の丸が箱を通ると、何色の丸がいくつになって出てきますか。出てきた色の丸の数だけ、箱の右側の○をまとめて囲みます。



※1. このプリントは、しながわ・目黒こどもスクールのウェブサイトでダウンロードができます。無断複写・引用はご遠慮ください。
 ※2. このプリントを活用したオンライン授業のスケジュールは、しながわ・目黒こどもスクールのウェブサイトでご確認ください。