



# おうちで、やろう。

Study at home. 小学校受験の家庭学習教材

## 図形：模写6

左の四角の中にかいてある形を真ん中の四角の中の同じ場所に写します。続けて、真ん中の四角の中にかいた形と、元々かかれていた形を一番右の四角の中の同じ場所に写します。


※1. このプリントは、しながわ・目黒こどもスクールのウェブサイトでダウンロードができます。無断複写・引用はご遠慮ください。

※2. このプリントを活用したオンライン授業のスケジュールは、しながわ・目黒こどもスクールのウェブサイトでご確認ください。



# おうちで、やろう。

Study at home. 小学校受験の家庭学習教材

## 図形：模写7

左の四角の中にかいてある形を真ん中の四角の中の同じ場所に写します。続けて、真ん中の四角の中にかいた形と、元々かかれていた形を一番右の四角の中の同じ場所に写します。

	▶		▶	
	▶		▶	
	▶		▶	
	▶		▶	

※1. このプリントは、しながわ・目黒こどもスクールのウェブサイトでダウンロードができます。無断複写・引用はご遠慮ください。  
 ※2. このプリントを活用したオンライン授業のスケジュールは、しながわ・目黒こどもスクールのウェブサイトでご確認ください。


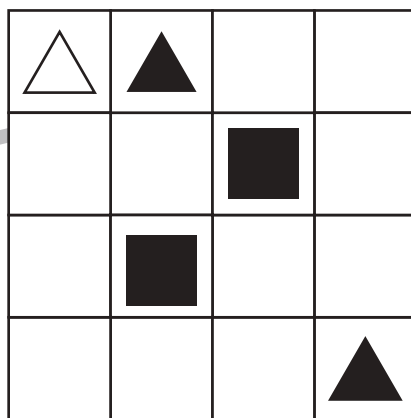
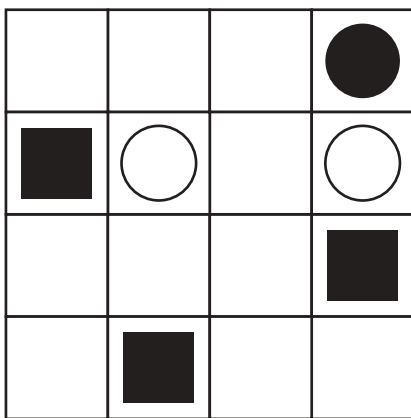

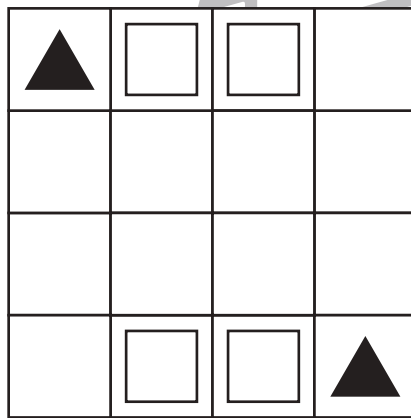
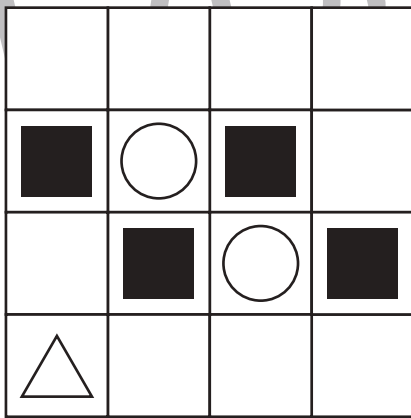
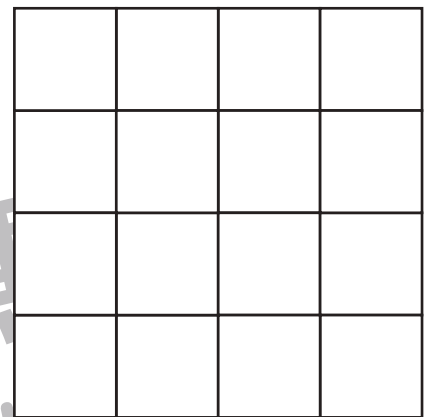
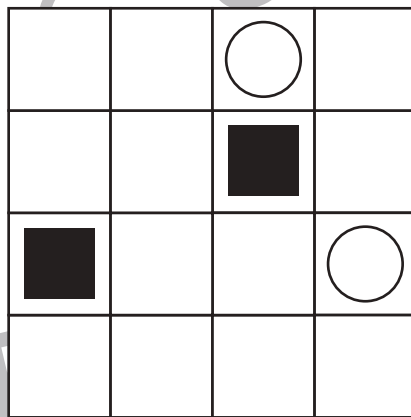
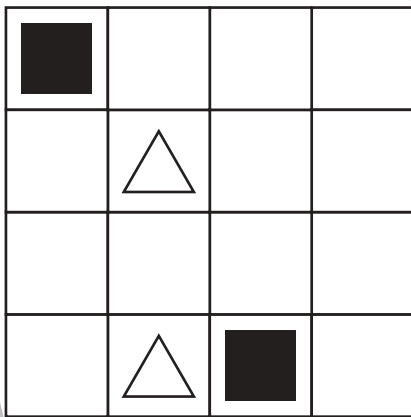
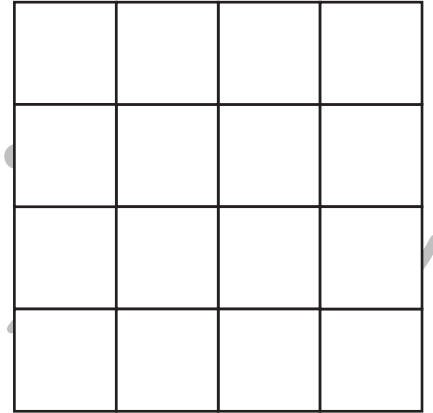
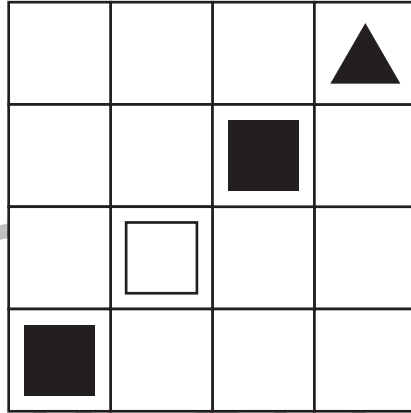
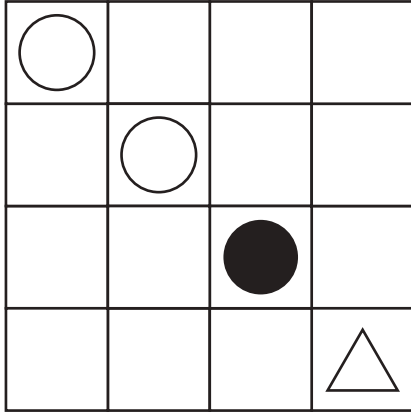


# おうちで、やろう。

Study at home. 小学校受験の家庭学習教材

## 図形：模写 8

左の四角の中にかいてある形を真ん中の四角の中の同じ場所に写します。続けて、真ん中の四角の中にかいた形と、元々かかれていた形を一番右の四角の中の同じ場所に写します。



※1. このプリントは、しながわ・目黒こどもスクールのウェブサイトでダウンロードができます。無断複写・引用はご遠慮ください。  
 ※2. このプリントを活用したオンライン授業のスケジュールは、しながわ・目黒こどもスクールのウェブサイトでご確認ください。



# おうちで、やろう。

Study at home. 小学校受験の家庭学習教材

## 推理：積み木 8

上の四角の中の積み木のうち、灰色の積み木はいくつありますか。その数だけ下のマスに○をかきます。  
隠れている積み木はすべて白色の積み木です。







※1. このプリントは、しながわ・目黒こどもスクールのウェブサイトでダウンロードができます。無断複写・引用はご遠慮ください。  
 ※2. このプリントを活用したオンライン授業のスケジュールは、しながわ・目黒こどもスクールのウェブサイトでご確認ください。



# おうちで、やろう。

Study at home. 小学校受験の家庭学習教材

## 推理：積み木 9

上の四角の中の積み木のうち、灰色の積み木はいくつありますか。その数だけ下のマスに○をかきます。  
隠れている積み木はすべて灰色の積み木です。







※1. このプリントは、しながわ・目黒こどもスクールのウェブサイトでダウンロードができます。無断複写・引用はご遠慮ください。  
 ※2. このプリントを活用したオンライン授業のスケジュールは、しながわ・目黒こどもスクールのウェブサイトでご確認ください。



# おうちで、やろう。

Study at home. 小学校受験の家庭学習教材

## 推理：条件推理 27

ルールに沿って果物を拾います。拾った果物の数だけ下の四角に○をかきましょう。

<ルール>①縦・横・斜めの直線で矢印の方向に進みます。②進む方向は途中で変えられません。③一度拾った果物をもう一度拾うことはできません。

3x3 grid with 4 apples. A downward arrow is at the top center.

3x3 grid with 5 apples. A rightward arrow is at the middle left.

3x3 grid with 6 apples. A downward-left diagonal arrow is at the top center.

3x3 grid with 5 apples. Two downward arrows are at the top left and top center.

3x3 grid with 6 apples. A rightward arrow is at the middle left, and a leftward arrow is at the middle right.

3x3 grid with 6 apples. Two downward-left diagonal arrows are at the top left and top right.

3x3 grid with 6 apples. A rightward arrow is at the middle left, and a diagonal arrow is at the bottom left.

3x3 grid with 6 apples. A downward arrow is at the top center, a rightward arrow is at the middle left, and a diagonal arrow is at the middle right.

3x3 grid with 6 apples. A rightward arrow is at the middle left, and two diagonal arrows are at the top left and top right.

※1. このプリントは、しながわ・目黒こどもスクールのウェブサイトでダウンロードができます。無断複写・引用はご遠慮ください。  
※2. このプリントを活用したオンライン授業のスケジュールは、しながわ・目黒こどもスクールのウェブサイトでご確認ください。




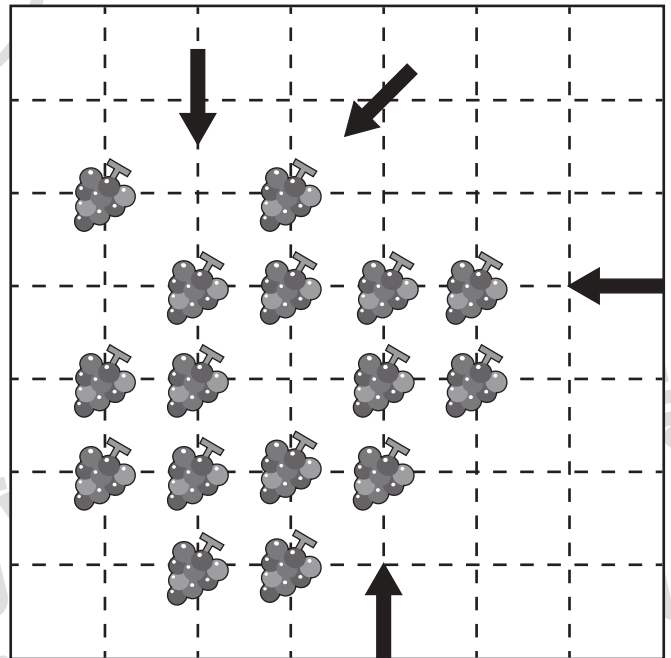

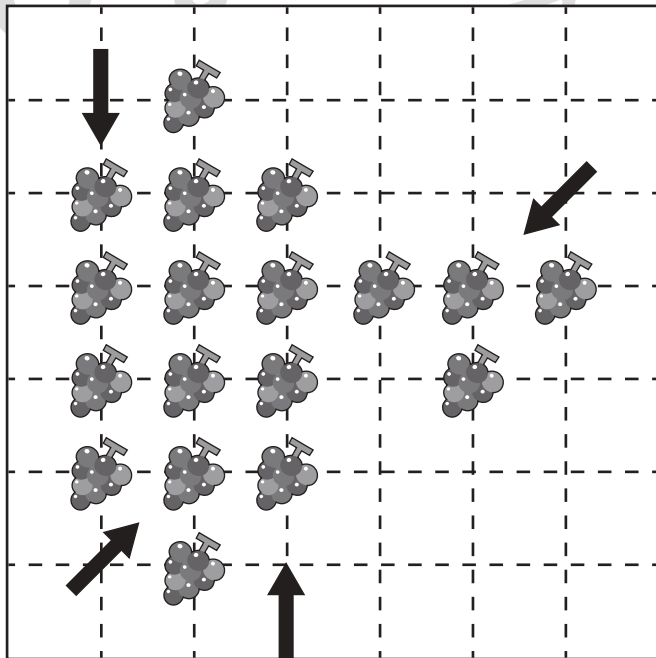

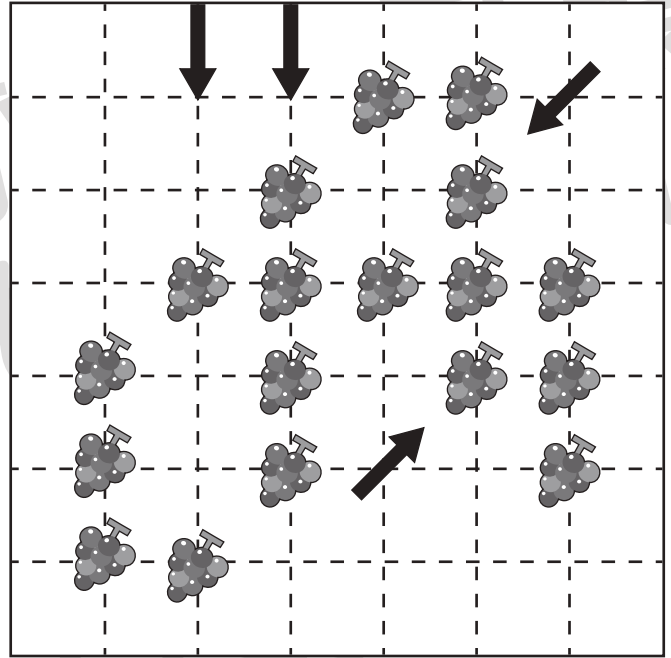

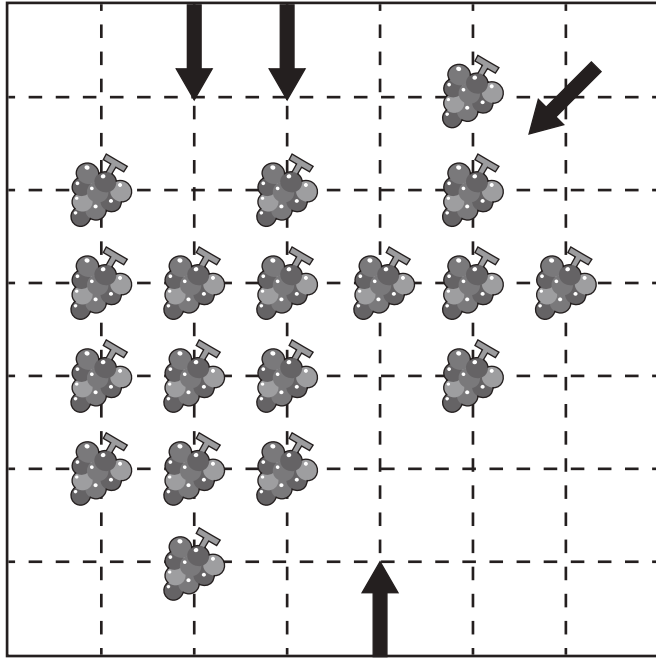
# おうちで、やろう。

Study at home. 小学校受験の家庭学習教材

## 推理：条件推理 28

ルールに沿って果物を拾います。拾った果物の数だけ下の四角に○をかきましょう。

<ルール>①縦・横・斜めの直線で矢印の方向に進みます。②進む方向は途中で変えられません。③一度拾った果物をもう一度拾うことはできません。



※1. このプリントは、しながわ・目黒こどもスクールのウェブサイトでダウンロードができます。無断複写・引用はご遠慮ください。

※2. このプリントを活用したオンライン授業のスケジュールは、しながわ・目黒こどもスクールのウェブサイトでご確認ください。






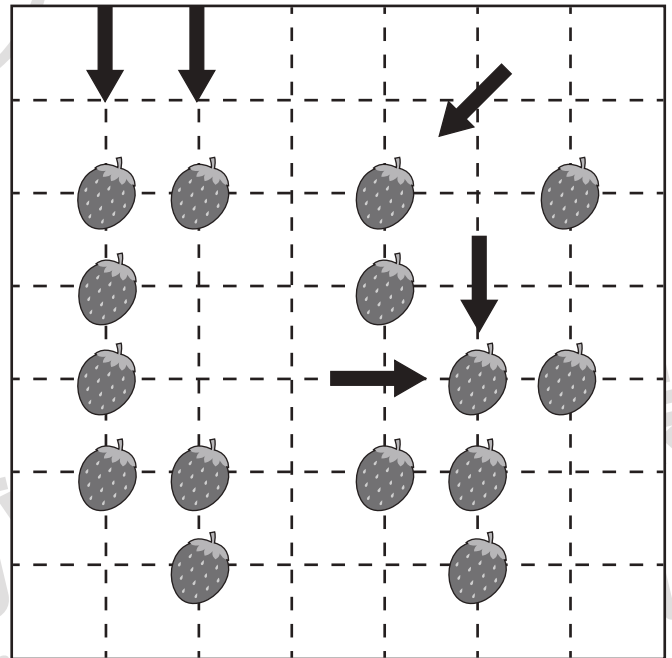

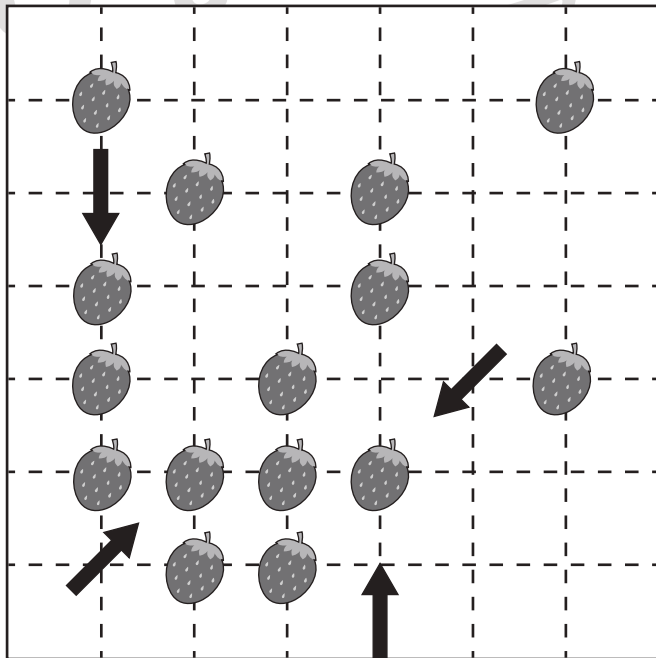

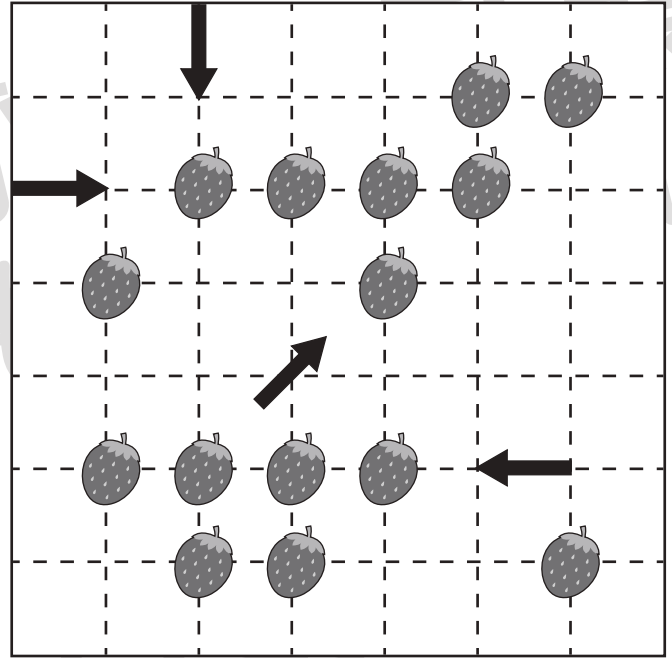

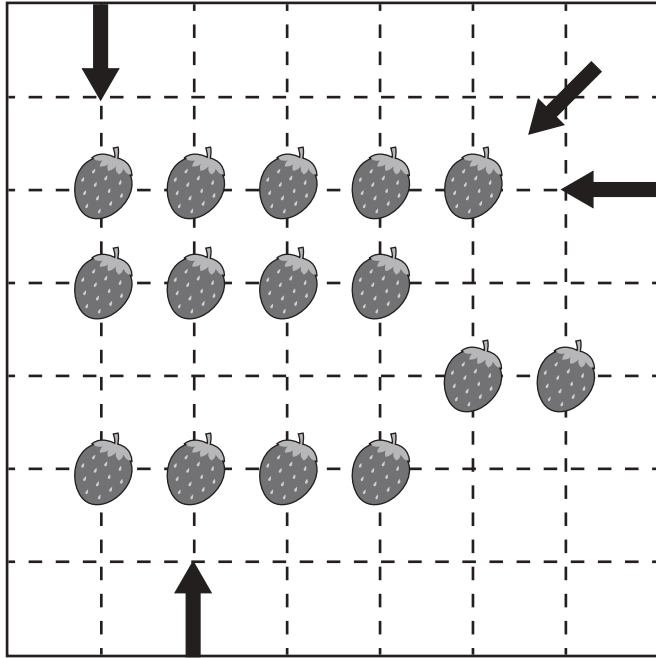
# おうちで、やろう。

Study at home. 小学校受験の家庭学習教材

## 推理：条件推理 29

ルールに沿って果物を拾います。拾わなかった果物の数だけ下の四角に○をかきましょう。

<ルール>①縦・横・斜めの直線で矢印の方向に進みます。②進む方向は途中で変えられません。③一度拾った果物をもう一度拾うことはできません。



※1. このプリントは、しながわ・目黒こどもスクールのウェブサイトでダウンロードができます。無断複写・引用はご遠慮ください。

※2. このプリントを活用したオンライン授業のスケジュールは、しながわ・目黒こどもスクールのウェブサイトでご確認ください。





# おうちで、やろう。

Study at home. 小学校受験の家庭学習教材

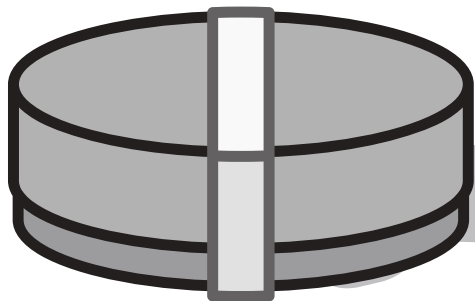
## □頭試問 3

保護者の方が面接官となり、絵を見せながらお子さまに質問をします。

太い四角にはお子さまが話した内容を、下の3つ並んだ四角にはそれぞれの項目に沿ってチェックをつけましょう。

※このプリントに解答はありません。

③左の絵は空のお弁当箱です。この中に何が入っていたらうれしいですか。




背すじが伸びている

足を閉じてお話しできる

質問に対応できる

①左の森の奥には家があります。どんな家だとおもいますか。




背すじが伸びている

足を閉じてお話しできる

質問に対応できる

②左の絵（ハンカチ）はどんな時に使いますか。  
（質問後）今、本物を持っていたら使って見せてください。



背すじが伸びている

足を閉じてお話しできる

質問に対応できる

②左の絵（バス）に乗る時に、してはいけないことはなんですか。  
（質問後）理由も教えてください。



背すじが伸びている

足を閉じてお話しできる

質問に対応できる

※1. このプリントは、しながわ・目黒こどもスクールのウェブサイトでダウンロードができます。無断複写・引用はご遠慮ください。

※2. このプリントを活用したオンライン授業のスケジュールは、しながわ・目黒こどもスクールのウェブサイトでご確認ください。



# おうちで、やろう。

Study at home. 小学校受験の家庭学習教材

巧緻性：はさみ 4

- ①点線のところをはさみで切ります。
  - ②切った下の部分にある☆をはさみで切ります。
  - ③切った上の部分にある形の中に右上のお手本と同じになるようにのりで貼ります。
- ※この問題に解答はありません。

