



おうちで、やろう。

Study at home. 小学校受験の家庭学習教材

図形：模写6

左の四角の中にかいてある形を真ん中の四角の中の同じ場所に写します。続けて、真ん中の四角の中にかいた形と、元々かかれていた形を一番右の四角の中の同じ場所に写します。

	▶		▶	
	▶		▶	
	▶		▶	
	▶		▶	

※1. このプリントは、しながわ・目黒こどもスクールのウェブサイトでダウンロードができます。無断複写・引用はご遠慮ください。

※2. このプリントを活用したオンライン授業のスケジュールは、しながわ・目黒こどもスクールのウェブサイトでご確認ください。



おうちで、やろう。

Study at home. 小学校受験の家庭学習教材

図形：模写7

左の四角の中にかいてある形を真ん中の四角の中の同じ場所に写します。続けて、真ん中の四角の中にかいた形と、元々かかれていた形を一番右の四角の中の同じ場所に写します。

	▶		▶	
	▶		▶	
	▶		▶	
	▶		▶	

※1. このプリントは、しながわ・目黒こどもスクールのウェブサイトでダウンロードができます。無断複写・引用はご遠慮ください。

※2. このプリントを活用したオンライン授業のスケジュールは、しながわ・目黒こどもスクールのウェブサイトでご確認ください。



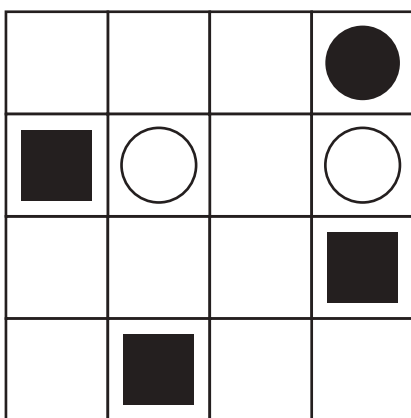


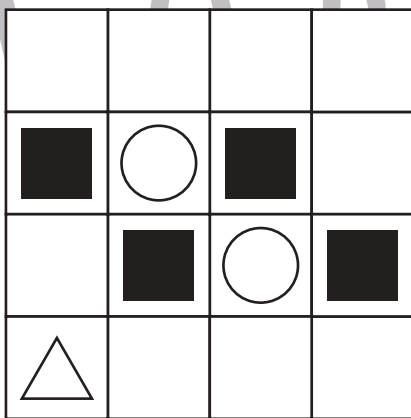

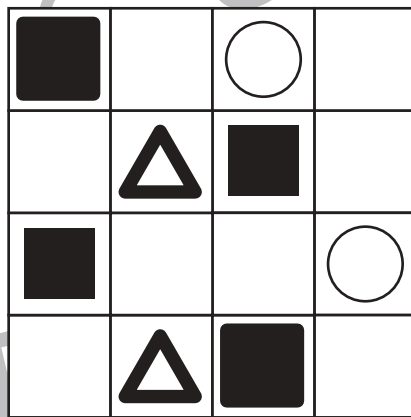
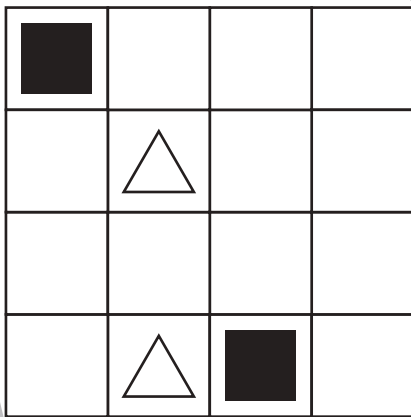


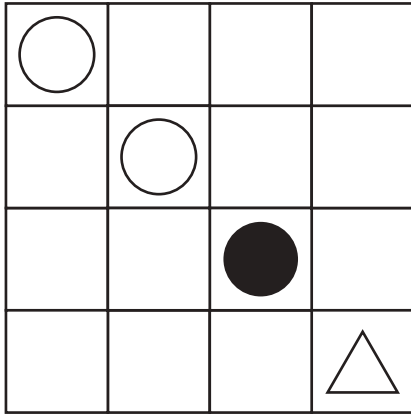


おうちで、やろう。

Study at home. 小学校受験の家庭学習教材

図形：模写 8

左の四角の中にかいてある形を真ん中の四角の中の同じ場所に写します。続けて、真ん中の四角の中にかいた形と、元々かかれていた形を一番右の四角の中の同じ場所に写します。



※1. このプリントは、しながわ・目黒こどもスクールのウェブサイトでダウンロードができます。無断複写・引用はご遠慮ください。

※2. このプリントを活用したオンライン授業のスケジュールは、しながわ・目黒こどもスクールのウェブサイトでご確認ください。



おうちで、やろう。

Study at home. 小学校受験の家庭学習教材

推理：積み木 8

上の四角の中の積み木のうち、灰色の積み木はいくつありますか。その数だけ下のマスに○をかきます。
隠れている積み木はすべて白色の積み木です。

○	○	○	○

○	○	○	○
○			

○	○	○	○
○	○		

○	○	○	○
○	○		

○	○	○	○
○	○	○	

○	○	○	○
○			

※1. このプリントは、しながわ・目黒こどもスクールのウェブサイトでダウンロードができます。無断複写・引用はご遠慮ください。
 ※2. このプリントを活用したオンライン授業のスケジュールは、しながわ・目黒こどもスクールのウェブサイトでご確認ください。



おうちで、やろう。

Study at home. 小学校受験の家庭学習教材

推理：積み木 9

上の四角の中の積み木のうち、灰色の積み木はいくつありますか。その数だけ下のマスに○をかきます。
隠れている積み木はすべて灰色の積み木です。

○	○	○	○
○	○		

○	○	○	○
○	○	○	○
○	○		

○	○	○	○
○	○	○	○
○			

○	○	○	○
○	○	○	○

○	○	○	○
○	○	○	○
○	○	○	○

○	○	○	○
○	○	○	○
○	○		

※1. このプリントは、しながわ・目黒こどもスクールのウェブサイトでダウンロードができます。無断複写・引用はご遠慮ください。
 ※2. このプリントを活用したオンライン授業のスケジュールは、しながわ・目黒こどもスクールのウェブサイトでご確認ください。



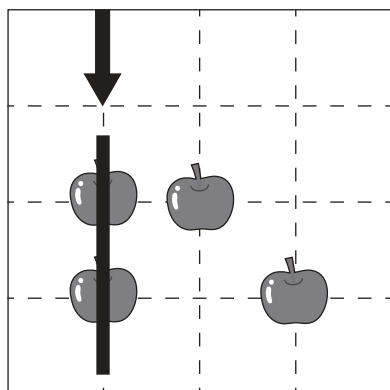
おうちで、やろう。

Study at home. 小学校受験の家庭学習教材

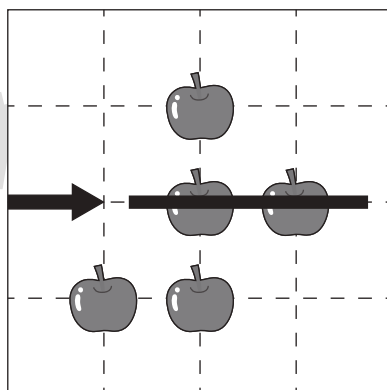
推理：条件推理 27

ルールに沿って果物を拾います。拾った果物の数だけ下の四角に○をかきましょう。

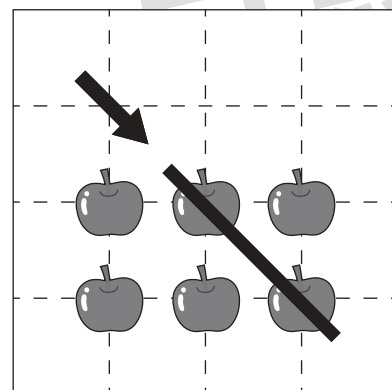
<ルール>①縦・横・斜めの直線で矢印の方向に進みます。②進む方向は途中で変えられません。③一度拾った果物をもう一度拾うことはできません。



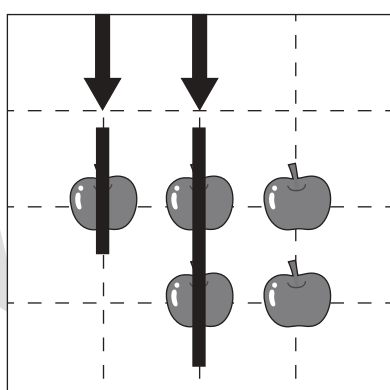
○×2



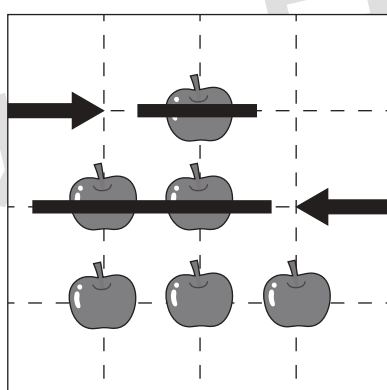
○×2



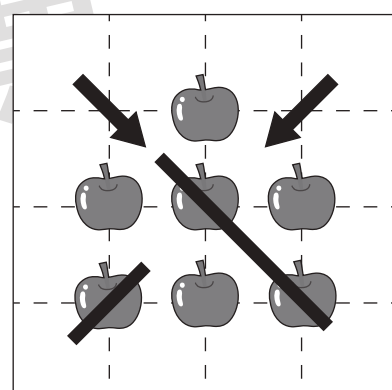
○×2



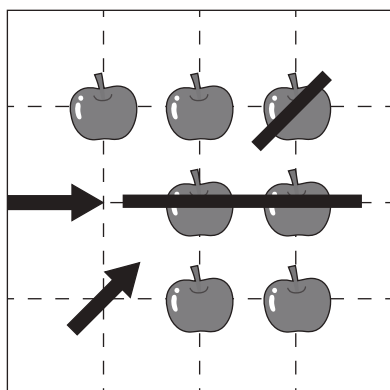
○×3



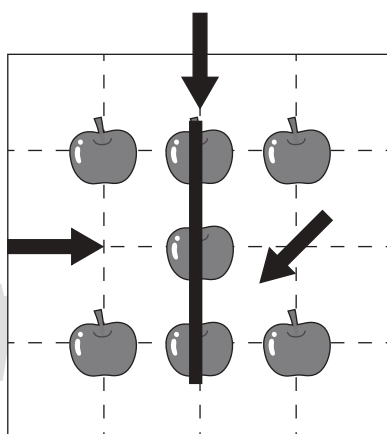
○×3



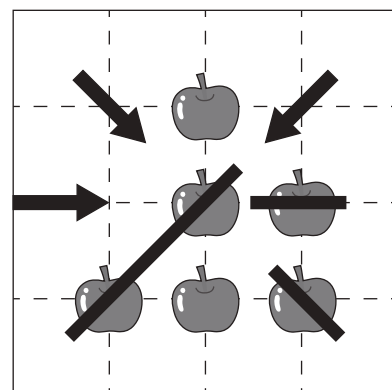
○×3



○×3



○×3



○×4

※1. このプリントは、しながわ・目黒こどもスクールのウェブサイトでダウンロードができます。無断複写・引用はご遠慮ください。

※2. このプリントを活用したオンライン授業のスケジュールは、しながわ・目黒こどもスクールのウェブサイトでご確認ください。





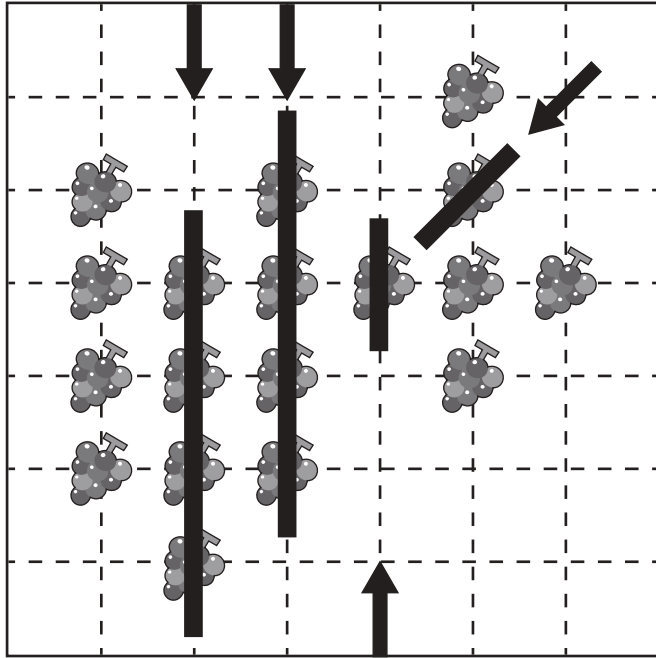
おうちで、やろう。

Study at home. 小学校受験の家庭学習教材

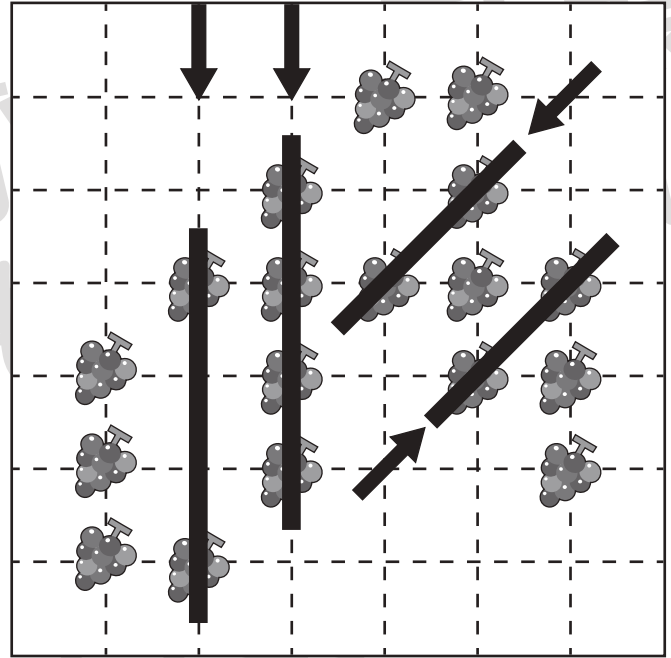
推理：条件推理 28

ルールに沿って果物を拾います。拾った果物の数だけ下の四角に○をかきましょう。

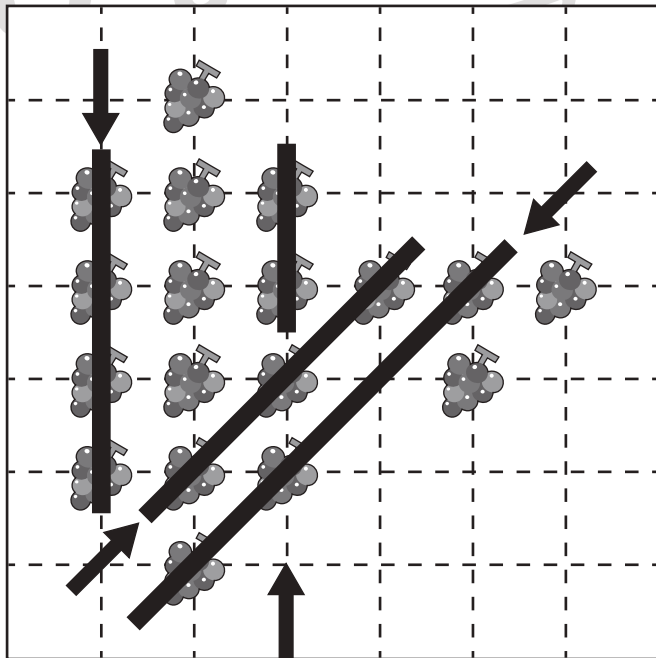
<ルール>①縦・横・斜めの直線で矢印の方向に進みます。②進む方向は途中で変えられません。③一度拾った果物をもう一度拾うことはできません。



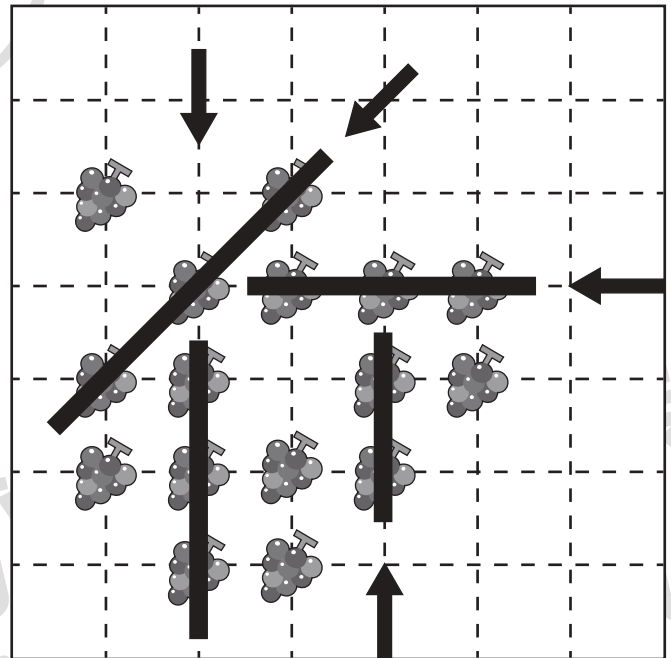
○ × 10



○ × 10



○ × 12



○ × 11

※1. このプリントは、しながわ・目黒こどもスクールのウェブサイトでダウンロードができます。無断複写・引用はご遠慮ください。

※2. このプリントを活用したオンライン授業のスケジュールは、しながわ・目黒こどもスクールのウェブサイトでご確認ください。





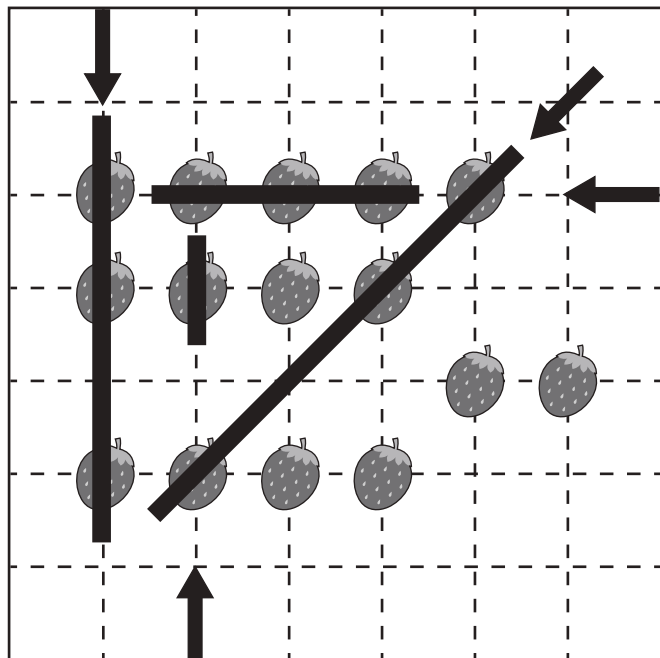
おうちで、やろう。

Study at home. 小学校受験の家庭学習教材

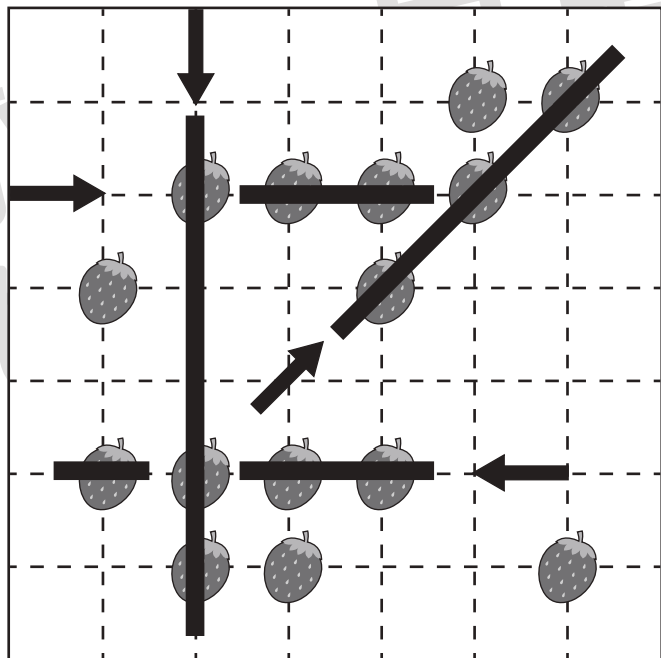
推理：条件推理 29

ルールに沿って果物を拾います。拾わなかった果物の数だけ下の四角に○をかきましょう。

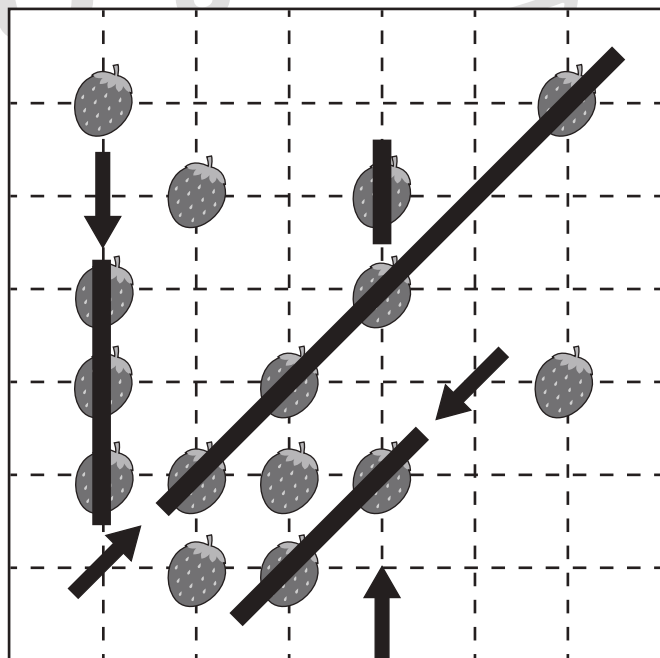
<ルール>①縦・横・斜めの直線で矢印の方向に進みます。②進む方向は途中で変えられません。③一度拾った果物をもう一度拾うことはできません。



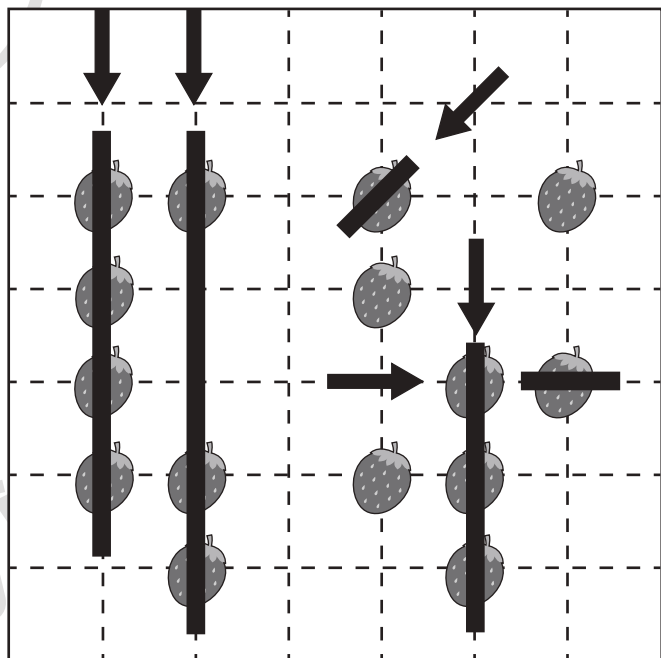
○ × 5



○ × 4



○ × 5



○ × 3

※1. このプリントは、しながわ・目黒こどもスクールのウェブサイトでダウンロードができます。無断複写・引用はご遠慮ください。

※2. このプリントを活用したオンライン授業のスケジュールは、しながわ・目黒こどもスクールのウェブサイトでご確認ください。

