



おうちで、やろう。 年中児版

Study at home. 小学校受験の家庭学習教材

記憶：絵の記憶3

記憶用紙

別紙『記憶 - 絵の記憶3』を行う際に使用します。記憶用紙は点線で折って(切って)、①、②、③の問題の際にそれぞれ20秒間ずつ記憶させてください。記憶する際は問題用紙は裏返しにします。記憶後①、②、③それぞれの問題に答えましょう。


①今、見た絵に出てきた動物に○をつけましょう。

②今、見た絵に果物はそれぞれいくつありましたか。その数だけ○をかきましょう。


③今、見た絵の同じ濃さになるように鉛筆で色を塗りましょう。

目黒


①



②



③




※1. このプリントは、しながわ・目黒こどもスクールのウェブサイトダウンロードができます。無断複写・引用はご遠慮ください。

※2. このプリントを活用したオンライン授業のスケジュールは、しながわ・目黒こどもスクールのウェブサイトでご確認ください。



別紙『記憶 - 絵の記憶3記憶用紙』を使用します。記憶用紙の形を見た後に①、②、③の問題に取り組みましょう。
※このプリントの解答は記憶用紙で確認してください。

①



②





○ × 3



○ × 2

③





上下の絵を見比べて、変わっているところを5つ探します。見つけたら、下の絵の変わっている部分に○をつけましょう。





おうちで、やろう。 年中児版

Study at home. 小学校受験の家庭学習教材

推理：なぞなぞ 7




①～④のなぞなぞをとりて、答えに○をつけましょう。

①12がつに やってくる「た・た・た」は なんでしょう。

②カメラの なかに くらしていそうな いきものは なんでしょう。

③ひを けせる ぼうしは なんでしょう。

④さかだちをしたら すうじに なる いろは なんでしょう。その いろで ○の なかを ぬりましょう。(ひんとは 6)



※1. このプリントは、しながわ・目黒こどもスクールのウェブサイトダウンロードできます。無断複写・引用はご遠慮ください。

※2. このプリントを活用したオンライン授業のスケジュールは、しながわ・目黒こどもスクールのウェブサイトでご確認ください。



おうちで、やろう。 年中児版

Study at home. 小学校受験の家庭学習教材

推理：なぞなぞ 8




①～④のなぞなぞをとりて、答えに○をつけましょう。

①うみに いる「さん・さん・さん・さん・さん」は なんでしょう。

②ふくを きていないのに おなかに ポケットが ある どうぶつは なんでしょう。

③じぶんの かおが うつりそうなおもちは なんでしょう。

④カブを 10こも たべそうな なまへの むしは なんでしょう。



※1. このプリントは、しながわ・目黒こどもスクールのウェブサイトでダウンロードができます。無断複写・引用はご遠慮ください。

※2. このプリントを活用したオンライン授業のスケジュールは、しながわ・目黒こどもスクールのウェブサイトでご確認ください。



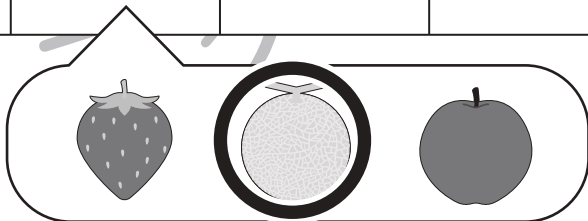
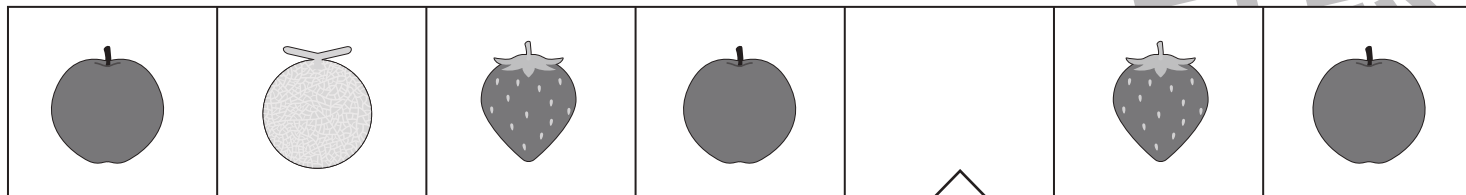
おうちで、やろう。 年中児版

Study at home. 小学校受験の家庭学習教材




図形：系列完成6

それぞれの四角の中に、絵がある決まりで並んでいます。空いているマスに入るもの考えて吹き出しの絵に○をつけましょう。

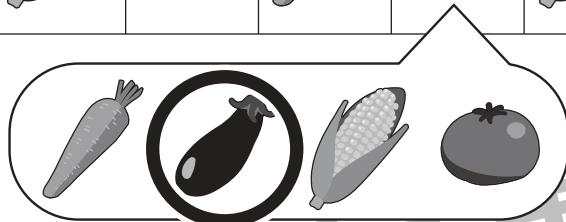
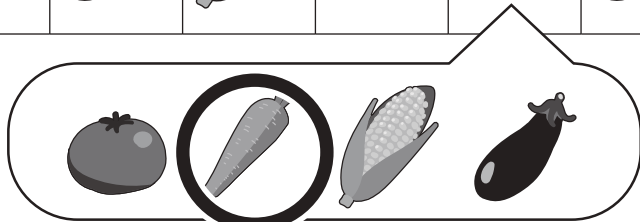

①



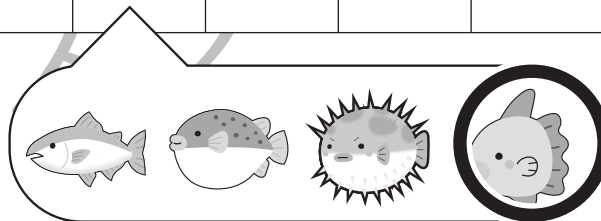

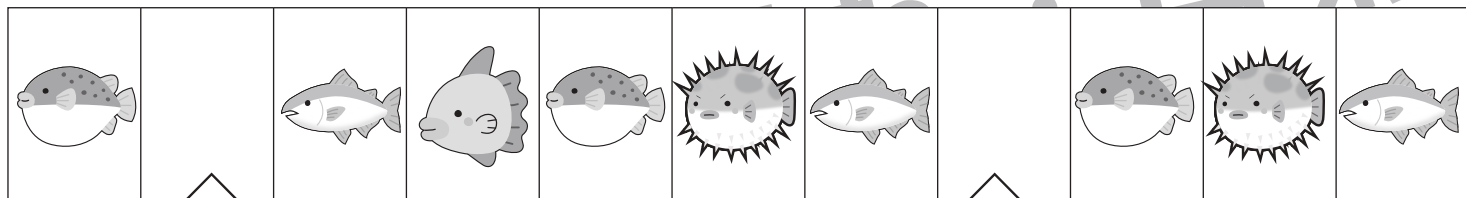
②



③



④



※1. このプリントは、しながわ・目黒こどもスクールのウェブサイトからダウンロードできます。無断複写・引用はご遠慮ください。

※2. このプリントを活用したオンライン授業のスケジュールは、しながわ・目黒こどもスクールのウェブサイトでご確認ください。














おうちで、やろう。 年中児版

Study at home. 小学校受験の家庭学習教材

数量：対応 1

一番左の四角の中の果物がお友だち 1 人分です。

真ん中の四角の中には何人分の果物があるのかを考えて、その数だけ右の四角に○をかきましょう。





おうちで、やろう。 年中児版

Study at home. 小学校受験の家庭学習教材

□頭試問 1

保護者の方が面接官となり、絵を見せながらお子さまに質問をします。

太い四角にはお子さまが話した内容を、下の3つ並んだ四角にはそれぞれの項目に沿ってチェックをつけましょう。

※解答は一例です。

①左の女の子は、お気に入りのおもちゃが壊れてしまって泣いています。
なんと行ってあげたら泣き止むと思いますか。



私の気に入りのおもちゃを貸してあげるよ。など

背すじが伸びている

足を閉じてお話しできる

質問に対応できる

②一人で寂しそうに遊んでいるお友だちがいます。
なんと声をかけてあげますか。



一緒に遊ぼうと誘う。など

背すじが伸びている

足を閉じてお話しできる

質問に対応できる

③左の男の子は走っています。走っても良い場所と、走ってはいけない場所
をどのくらい知っていますか。思いつくだけ教えてください。



走っても良い場所

走ってはいけない場所

体育館・運動場・公園の中
など


人や車がたくさんいるところ
廊下・お店の中など

背すじが伸びている

足を閉じてお話しできる

質問に対応できる

④左の乗り物に乗る時に、してはいけないことは何ですか。
(質問後) どうして、してはいけないのですか。理由も教えてください。



してはいけないこと

理由

大きな声で話しては
いけない。など

周りの人の迷惑になるから
です。など

背すじが伸びている

足を閉じてお話しできる

質問に対応できる

※1. このプリントは、しながわ・目黒こどもスクールのウェブサイトでダウンロードができます。無断複写・引用はご遠慮ください。

※2. このプリントを活用したオンライン授業のスケジュールは、しながわ・目黒こどもスクールのウェブサイトでご確認ください。