



おうちで、やろう。年中児版

Study at home. 小学校受験の家庭学習教材

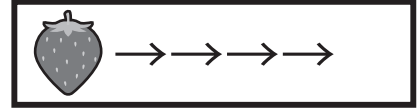
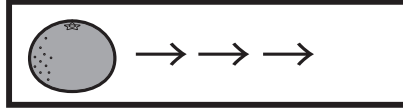
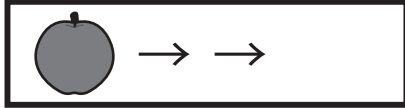
指示理解 11

下の太い四角が約束です。お話を聞いて、約束通りにマスを進みましょう。リンゴと言ったら2マス、ミカンと言ったら3マス、イチゴと言ったら4マス進めます。①～③のお話をよく聞いて、答えましょう。

①「リンゴ→ミカン」ついた場所に○をつけます。

②「ミカン→イチゴ→リンゴ」ついた場所に×をつけます。

③「イチゴ→ミカン→リンゴ→ミカン」ついた場所に◎をつけます。



★						

※1. このプリントは、しながわ・目黒こどもスクールのウェブサイトでダウンロードができます。無断複写・引用はご遠慮ください。

※2. このプリントを活用したオンライン授業のスケジュールは、しながわ・目黒こどもスクールのウェブサイトでご確認ください。



おうちで、やろう。 年中児版

Study at home. 小学校受験の家庭学習教材

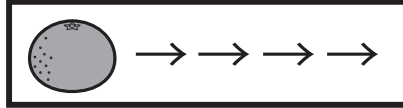
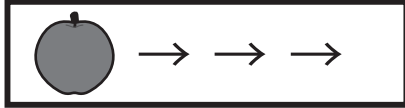
指示理解 12

下の太い四角が約束です。お話を聞いて、約束通りにマスを進みましょう。リンゴと言ったら3マス、ミカンと言ったら4マス、イチゴと言ったら5マス進めます。①～③のお話をよく聞いて、答えましょう。

①「リンゴ→ミカン→イチゴ」ついた場所に○をつけます。

②「ミカン→イチゴ→ミカン→リンゴ→ミカン」ついた場所に×をつけます。

③「イチゴ→ミカン→リンゴ→ミカン→リンゴ→イチゴ→リンゴ」ついた場所に◎をつけます。



★						

※1. このプリントは、しながわ・目黒こどもスクールのウェブサイトでダウンロードができます。無断複写・引用はご遠慮ください。

※2. このプリントを活用したオンライン授業のスケジュールは、しながわ・目黒こどもスクールのウェブサイトでご確認ください。







おうちで、やろう。 年中児版

Study at home. 小学校受験の家庭学習教材

推理：重さ3

バネを使って重さ比べをします。①～③の問題に答えましょう。

- ①一番重いものに○をつけましょう。
- ②二番目に重くないものに○をつけましょう。
- ③二番目に軽くないものに○をつけましょう。



※1. このプリントは、しながわ・目黒こどもスクールのウェブサイトでダウンロードができます。無断複写・引用はご遠慮ください。
 ※2. このプリントを活用したオンライン授業のスケジュールは、しながわ・目黒こどもスクールのウェブサイトでご確認ください。






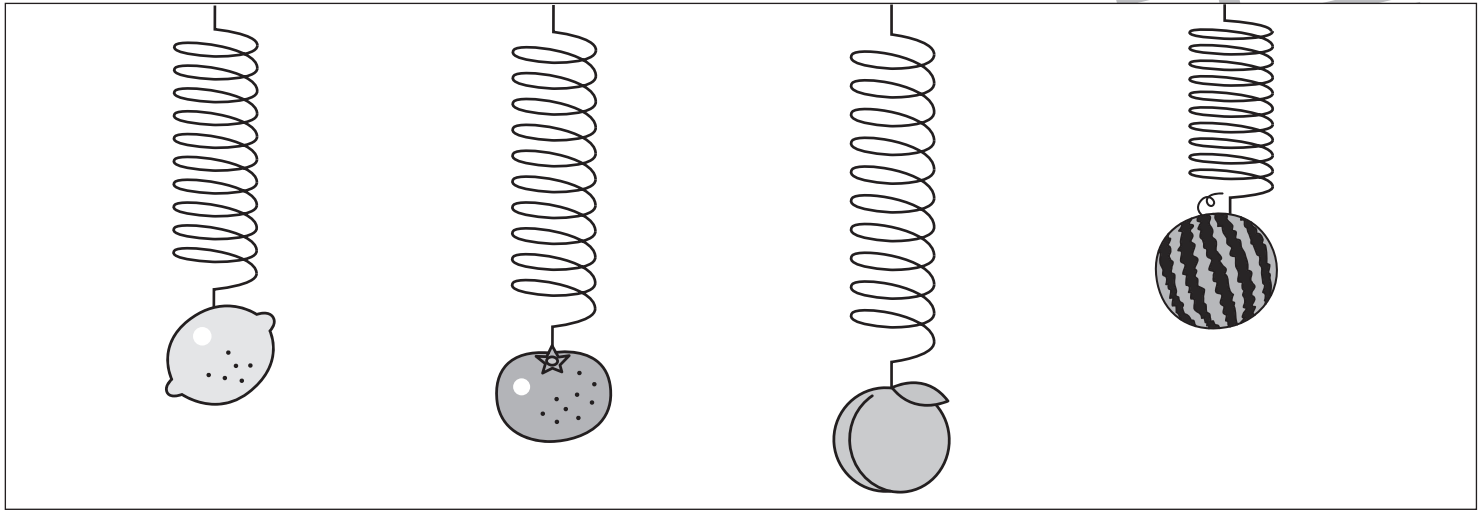
おうちで、やろう。 年中児版

Study at home. 小学校受験の家庭学習教材

推理：重さ4

バネを使って重さ比べをします。①～③の問題に答えましょう。

- ①一番重いものに○をつけましょう。
- ②二番目に重いものに○をつけましょう。
- ③一番軽いものに○をつけましょう。



※1. このプリントは、しながわ・目黒こどもスクールのウェブサイトでダウンロードができます。無断複写・引用はご遠慮ください。
 ※2. このプリントを活用したオンライン授業のスケジュールは、しながわ・目黒こどもスクールのウェブサイトでご確認ください。

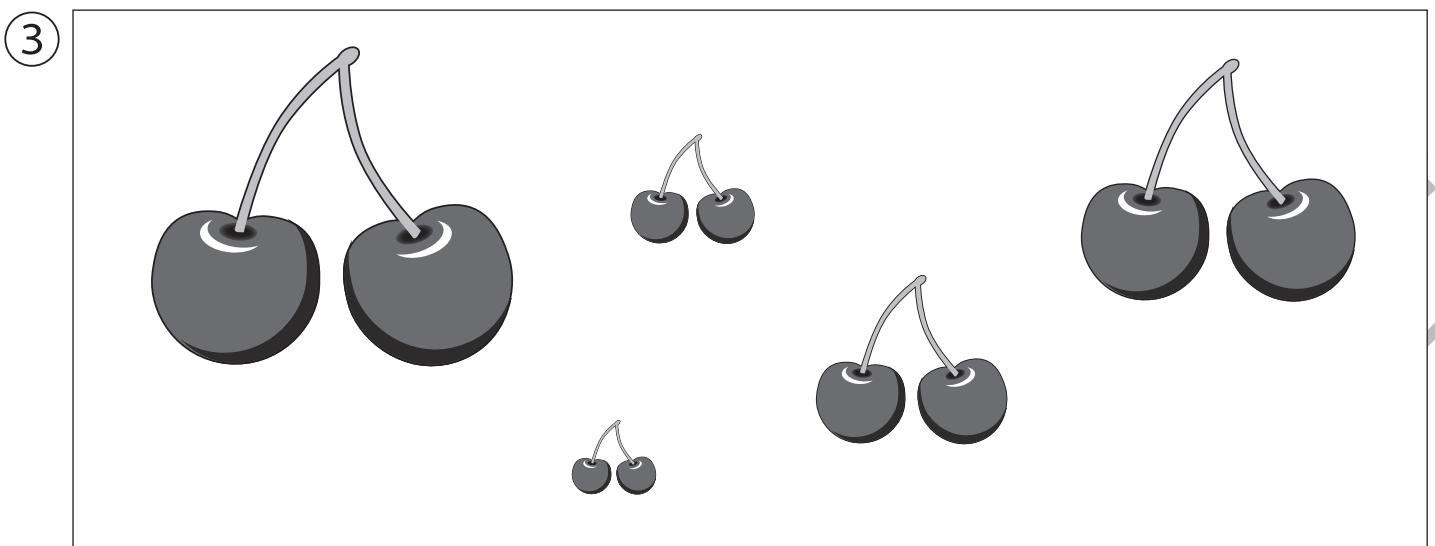




おうちで、やろう。 年中児版

Study at home. 小学校受験の家庭学習教材

推理：順位付け3

- ① 4つの星の中で1番目に小さい星を黄色のクーピーで、2番目に大きい星を青のクーピーで塗りましょう。
- ② 絵の中で背が一番小さい人に○、背が二番目に小さい人に×をかきましょう。
- ③ 絵の中で3番目に小さいものに×、一番大きいものに○をかきましょう。



※1. このプリントは、しながわ・目黒こどもスクールのウェブサイトからダウンロードできます。無断複写・引用はご遠慮ください。
※2. このプリントを活用したオンライン授業のスケジュールは、しながわ・目黒こどもスクールのウェブサイトでご確認ください。



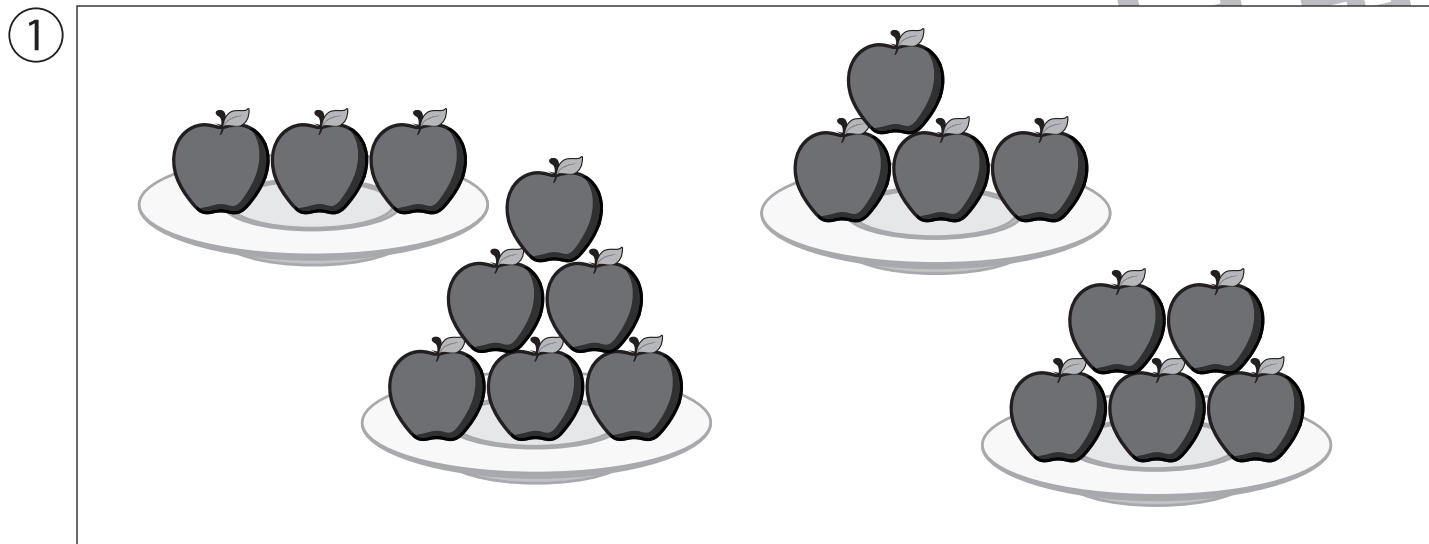


おうちで、やろう。 年中児版

Study at home. 小学校受験の家庭学習教材

推理：順位付け4

- ①お皿の上のリンゴが1番多いものに○、3番目に多いものに×をかきましょう。
- ②5番目に高い木に○をかきましょう。
- ③4つの木の中でリンゴが一番多くなっている木を○、リンゴが4番目に多くなっている木に×をかきましょう。



※1. このプリントは、しながわ・目黒こどもスクールのウェブサイトでダウンロードができます。無断複写・引用はご遠慮ください。
 ※2. このプリントを活用したオンライン授業のスケジュールは、しながわ・目黒こどもスクールのウェブサイトでご確認ください。



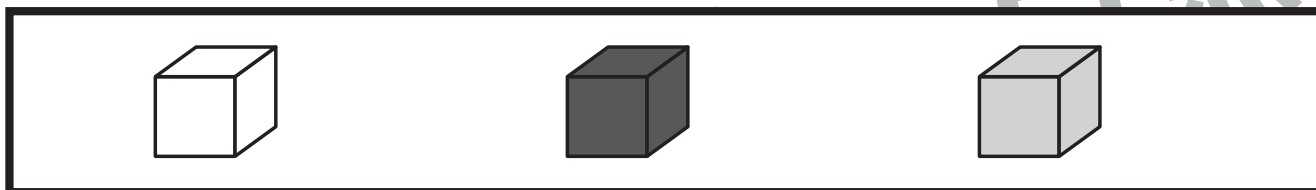
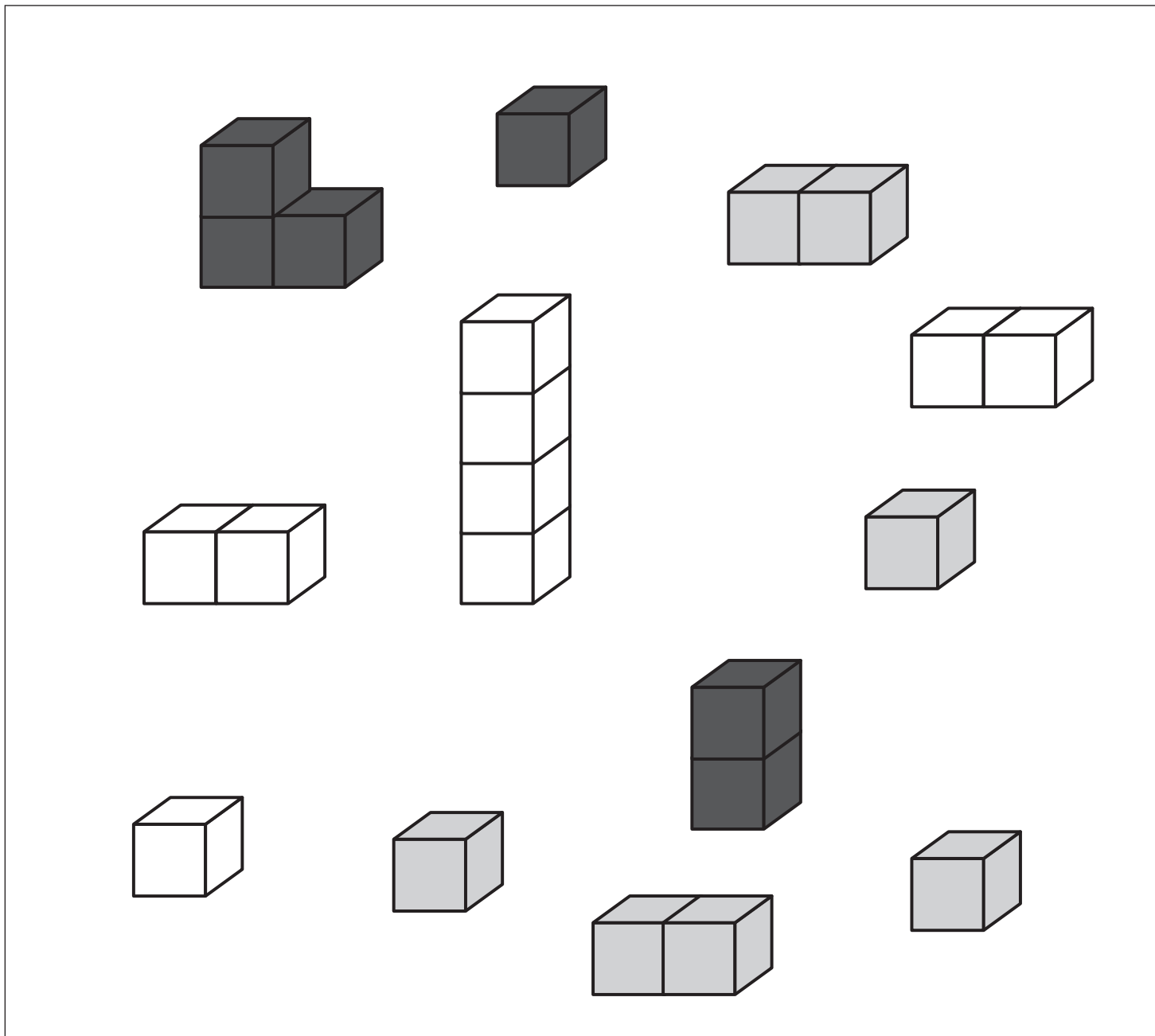
おうちで、やろう。 年中児版

Study at home. 小学校受験の家庭学習教材

数量：条件推理 8

下の四角の中に、3色の積み木が並んでいます。

同じ色の積み木をできるだけ高く積みます。積み木は、ばらばらにすることも出来ます。この時、一番高く積むことができる積み木を★の四角から選んで○をつけ、☆の四角に積んだ積み木の数だけ○をかきましょう。



※1. このプリントは、しながわ・目黒こどもスクールのウェブサイトからダウンロードできます。無断複写・引用はご遠慮ください。

※2. このプリントを活用したオンライン授業のスケジュールは、しながわ・目黒こどもスクールのウェブサイトでご確認ください。





おうちで、やろう。 年中児版

Study at home. 小学校受験の家庭学習教材

上下の絵を見比べて、変わっているところを5つ探します。見つけたら、下の絵の変わっている部分に○をつけましょう。

