




# おうちで、やろう。 年中児版

Study at home. 小学校受験の家庭学習教材

巧緻性：運筆6

下の四角の中の点線を、はみ出ないようになぞって絵を完成させましょう。

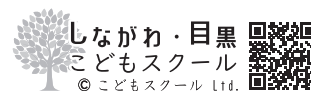
※この問題に解答はありません。



ICT 教育の小学校受験

※1. このプリントは、しながわ・目黒こどもスクールのウェブサイトからダウンロードができます。無断複写・引用はご遠慮ください。

※2. このプリントを活用したオンライン授業のスケジュールは、しながわ・目黒こどもスクールのウェブサイトでご確認ください。






# おうちで、やろう。 年中児版

Study at home. 小学校受験の家庭学習教材


言語：おわりの音 3

- ①おわりの音が「ま」の絵に○をつけましょう。 ②おわりの音が「い」の絵に○をつけましょう  
 ③おわりの音が「こ」の絵に○をつけましょう。 ④おわりの音が「う」の絵に○をつけましょう。


①




②



③



①



※1. このプリントは、しながわ・目黒こどもスクールのウェブサイトからダウンロードができます。無断複写・引用はご遠慮ください。  
 ※2. このプリントを活用したオンライン授業のスケジュールは、しながわ・目黒こどもスクールのウェブサイトでご確認ください。











# おうちで、やろう。 年中児版

Study at home. 小学校受験の家庭学習教材

言語：仲間はずれ3

左の四角の中の絵と仲間でないものを、右の四角の中から見つけて○をつけましょう。



※1. このプリントは、しながわ・目黒こどもスクールのウェブサイトからダウンロードができます。無断複写・引用はご遠慮ください。

※2. このプリントを活用したオンライン授業のスケジュールは、しながわ・目黒こどもスクールのウェブサイトでご確認ください。



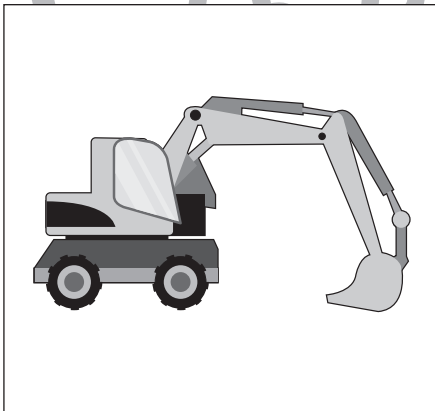
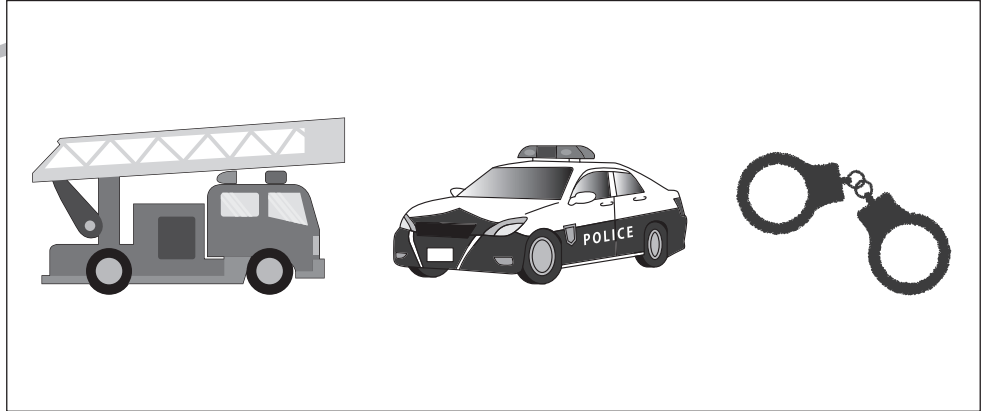



# おうちで、やろう。 年中児版

Study at home. 小学校受験の家庭学習教材

言語：仲間はずれ4

左の四角の中の絵と仲間でないものを、右の四角の中から見つけて○をつけましょう。



※1. このプリントは、しながわ・目黒こどもスクールのウェブサイトでダウンロードができます。無断複写・引用はご遠慮ください。  
※2. このプリントを活用したオンライン授業のスケジュールは、しながわ・目黒こどもスクールのウェブサイトでご確認ください。


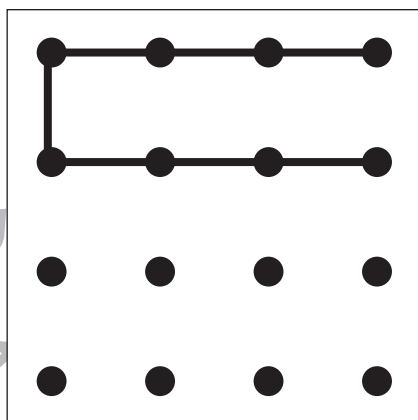
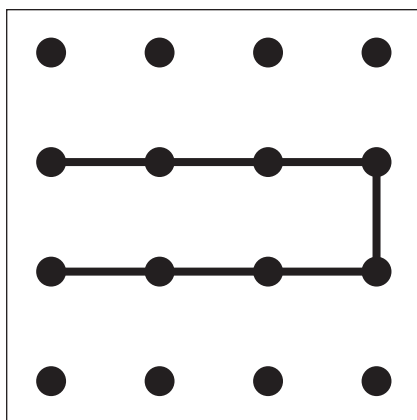

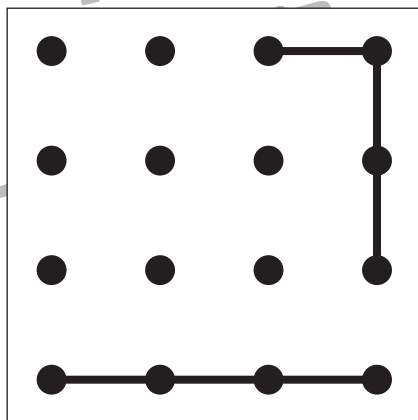
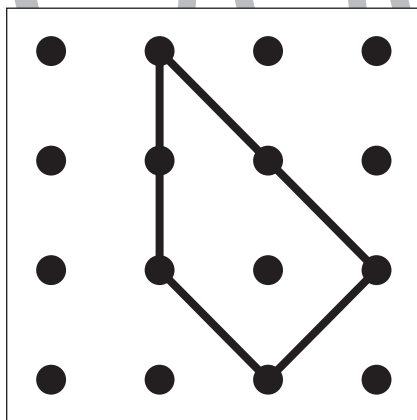

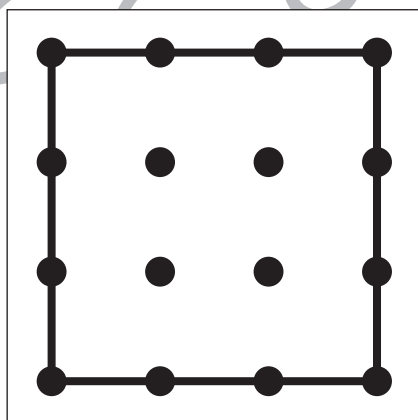


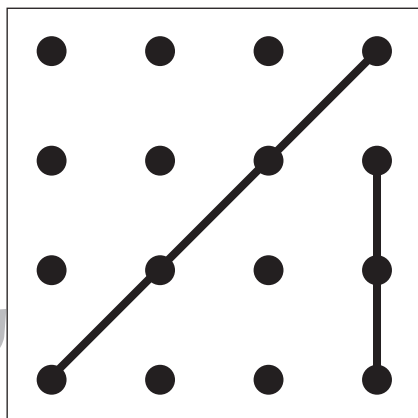
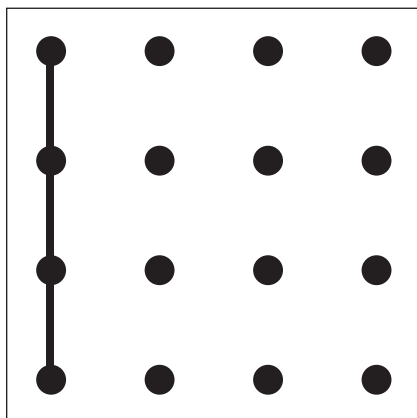


# おうちで、やろう。 年中児版

Study at home. 小学校受験の家庭学習教材

## 図形：重ね点図形6

左と右の点図形を重ねたとき、どんな形になりますか。矢印の右側の四角に書きましょう。



※1. このプリントは、しながわ・目黒こどもスクールのウェブサイトでダウンロードができます。無断複写・引用はご遠慮ください。

※2. このプリントを活用したオンライン授業のスケジュールは、しながわ・目黒こどもスクールのウェブサイトでご確認ください。













# おうちで、やろう。 年中児版

Study at home. 小学校受験の家庭学習教材

推理：影6

右の四角の中は、左の四角の中の絵が影になったものです。同じ絵を見つけて、点と点を線で結びましょう。



※1. このプリントは、しながわ・目黒こどもスクールのウェブサイトでダウンロードができます。無断複写・引用はご遠慮ください。  
※2. このプリントを活用したオンライン授業のスケジュールは、しながわ・目黒こどもスクールのウェブサイトでご確認ください。


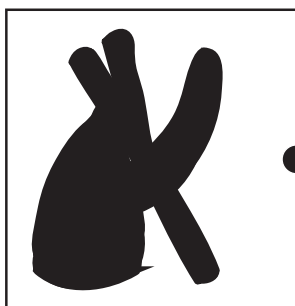

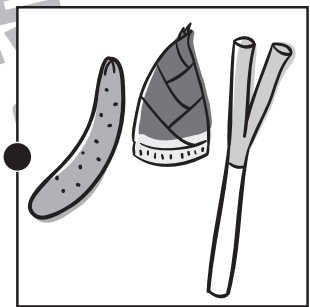





# おうちで、やろう。年中児版

Study at home. 小学校受験の家庭学習教材

推理：影7

左の四角の中は、右の四角の中の絵が影になったものです。同じ絵を見つけて、点と点を線で結びましょう。



※1. このプリントは、しながわ・目黒こどもスクールのウェブサイトでダウンロードができます。無断複写・引用はご遠慮ください。  
※2. このプリントを活用したオンライン授業のスケジュールは、しながわ・目黒こどもスクールのウェブサイトでご確認ください。



# おうちで、やろう。年中児版

Study at home. 小学校受験の家庭学習教材

上下の絵を見比べて、変わっているところを4つ探します。見つけたら、下の絵の変わっている部分に○をつけましょう。

