




- ①～④の話を聞き、おもちゃに○をつけましょう。
- ①上から2段目の一番左のおもちゃに○をつけましょう。
- ②下から3段目の右から3番目のおもちゃに△をつけましょう。
- ③真ん中の列の上から4番目のおもちゃに□をつけましょう。
- ④一番右の列の下から2段目のおもちゃに×をつけましょう。



# 射的





# おうちで、やろう。 年中児版


Study at home. 小学校受験の家庭学習教材

言語：動詞3

①～④の問題に答えましょう。

- ①「まく」という言葉に合う絵を見つけて○をつけましょう。
- ②「とる」という言葉に合う絵を見つけて△をつけましょう。
- ③「つむ」という言葉に合う絵を見つけて□をつけましょう。
- ④「さす」という言葉に合う絵を見つけて×をつけましょう。

目黒



※1. このプリントは、しながわ・目黒こどもスクールのウェブサイトでダウンロードができます。無断複写・引用はご遠慮ください。  
 ※2. このプリントを活用したオンライン授業のスケジュールは、しながわ・目黒こどもスクールのウェブサイトでご確認ください。




# おうちで、やろう。 年中児版

Study at home. 小学校受験の家庭学習教材

常識：季節 11

上の太い四角の中の絵の季節と同じ季節の絵を見つけて○をつけましょう。



※1. このプリントは、しながわ・目黒こどもスクールのウェブサイトからダウンロードできます。無断複写・引用はご遠慮ください。  
※2. このプリントを活用したオンライン授業のスケジュールは、しながわ・目黒こどもスクールのウェブサイトでご確認ください。





①動物たちはりんごを使って背比べをします。ハリネズミさんはりんご一個と同じ高さ、ネコさんはりんご二個と同じ高さ、ウサギさんとタヌキさんとイヌさんはりんご三個と同じ高さ、フタさんはりんご四個と同じ高さです。一番背が高いのは誰でしたか。その動物の顔に○をつけましょう。


②動物たちのお話をきいて、問題に答えましょう。必要であれば、下の四角に印をつけながら聞いてもかまいません。  
 「この中だと、僕がりんご一個分の高さで一番小さいんだね」とハリネズミくんが言いました。「私は、りんごが三個分の高さだよ」とゾウさんが言いました。「私はりんご2個分の高さだな」とウシさんが言いました。「僕は、ハリネズミくんとゾウさんのりんごをあわせてくらいの高さだよ」とキリンさんが言いました。「僕はハリネズミくんとウシさんのりんごをあわせてくらいの高さだよ」とライオンくんが言いました。「僕はキリンさんのりんごの半分の数の高さだよ」とトラさんが言いました。一番身長が高いのは誰でしょう。


※1. このプリントは、しながわ・目黒こどもスクールのウェブサイトからダウンロードができます。無断複写・引用はご遠慮ください。  
 ※2. このプリントを活用したオンライン授業のスケジュールは、しながわ・目黒こどもスクールのウェブサイトでご確認ください。



# おうちで、やろう。 年中児版

Study at home. 小学校受験の家庭学習教材

## 推理：積み木 10

左の積み木を積み重ねてできる形を右の中からさがして、線で結びましょう。


※1. このプリントは、しながわ・目黒こどもスクールのウェブサイトでダウンロードができます。無断複写・引用はご遠慮ください。

※2. このプリントを活用したオンライン授業のスケジュールは、しながわ・目黒こどもスクールのウェブサイトでご確認ください。














# おうちで、やろう。 年中児版

Study at home. 小学校受験の家庭学習教材

数量：対応2

一番左の四角の中の食べ物が1人分です。

真ん中の四角の中には何人分の食べ物があるのかを考えて、その数だけ右の四角に〇をかきましょう。



※1. このプリントは、しながわ・目黒こどもスクールのウェブサイトでダウンロードができます。無断複写・引用はご遠慮ください。

※2. このプリントを活用したオンライン授業のスケジュールは、しながわ・目黒こどもスクールのウェブサイトでご確認ください。











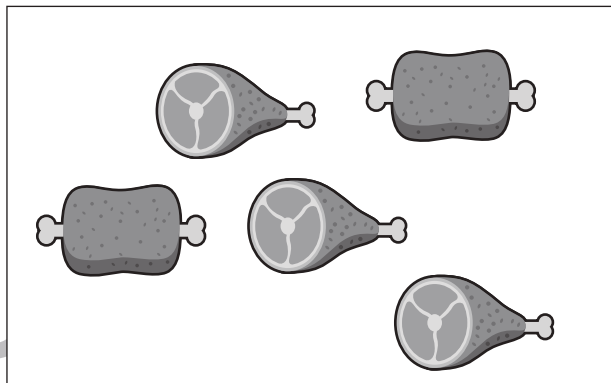

# おうちで、やろう。 年中児版

Study at home. 小学校受験の家庭学習教材

数量：対応3

一番左の四角の中の食べ物が1人分です。

真ん中の四角の中には何人分の食べ物があるのかを考えて、その数だけ右の四角に○をかきましょう。



※1. このプリントは、しながわ・目黒こどもスクールのウェブサイトでダウンロードができます。無断複写・引用はご遠慮ください。

※2. このプリントを活用したオンライン授業のスケジュールは、しながわ・目黒こどもスクールのウェブサイトでご確認ください。

















# おうちで、やろう。 年中児版

Study at home. 小学校受験の家庭学習教材

運筆：塗り 1

- ①ヨットが描いてあるマス青色で塗ります。
  - ②小魚（カクレクマノミ）が描いてあるマス黄色で塗ります。
  - ③イルカが描いてあるマス水色で塗ります。
- 色を塗る時は、はみ出さないように丁寧に塗りましょう。きれいに塗れたら、何かの絵が出てきます。

しながわ・目黒  
こどもスクール

		水	水	水	水			
	水	水	水	黄	黄	水		
	水	黄	水	黄	黄	水	水	
	水	水	水	黄	水	水	水	水
	水		水	水	水	水	水	水
	水		水	水	水	水	水	水
水			青	青			青	青

しながわ  
こどもスクール  
答え：ぞう

ICT 教育の小学校受験

※1. このプリントは、しながわ・目黒こどもスクールのウェブサイトからダウンロードできます。無断複写・引用はご遠慮ください。  
 ※2. このプリントを活用したオンライン授業のスケジュールは、しながわ・目黒こどもスクールのウェブサイトでご確認ください。

