



おうちで、やろう。

Study at home. 小学校受験の家庭学習教材

常識：なぞなぞ3

①～⑤の問題を聞いて、下の四角の中から正しいものを選びます。


①私はみんなが飲む牛乳を作ることができます。私に○をつけてください。

②私は鳥の仲間なのに水の中を泳ぐことができます。私に△をつけてください。

③私の背中にはこぶがあるので水がない砂漠でも長い距離を歩くことができます。私に□をつけてください。

④私の毛は毛糸になり、マフラーやセーターを作ることができます。私に◎をつけてください。

⑤私はジャンプが得意です。しっぽで体を支えることもできます。私に×をつけてください。



※1. このプリントは、しながわ・目黒こどもスクールのウェブサイトでダウンロードができます。無断複写・引用はご遠慮ください。

※2. このプリントを活用したオンライン授業のスケジュールは、しながわ・目黒こどもスクールのウェブサイトでご確認ください。



おうちで、やろう。

Study at home. 小学校受験の家庭学習教材

言語：音の数 33

絵の名前の音の数が同じもの同士を探して点と点を線で結びます。



※1. このプリントは、しながわ・目黒こどもスクールのウェブサイトでダウンロードができます。無断複写・引用はご遠慮ください。
 ※2. このプリントを活用したオンライン授業のスケジュールは、しながわ・目黒こどもスクールのウェブサイトでご確認ください。

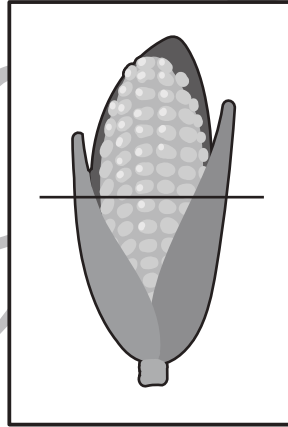
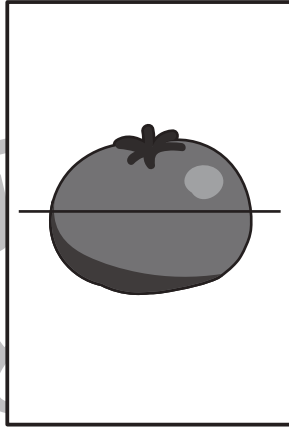
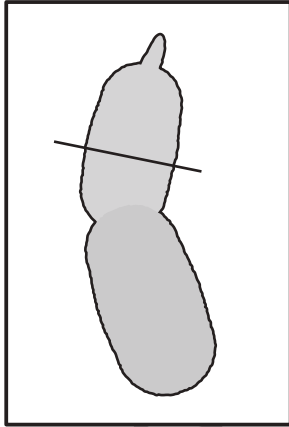
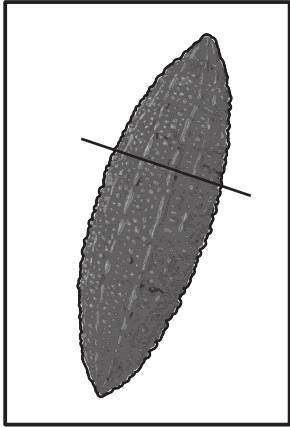


おうちで、やろう。

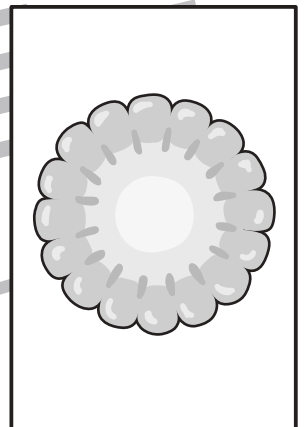
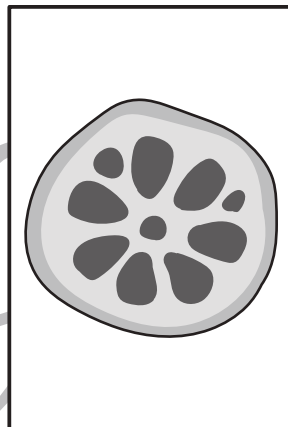

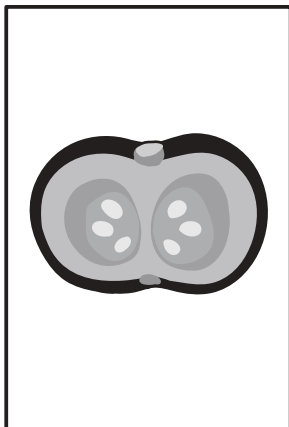
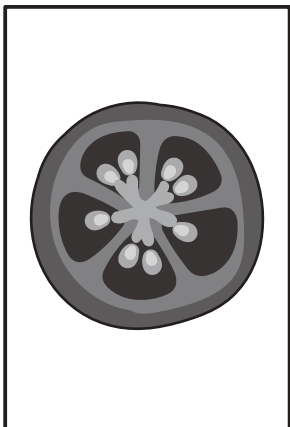
Study at home. 小学校受験の家庭学習教材

常識：断面図6

上の野菜を、線のところで切ったときの見え方を下から選んで線でつなげましょう。



しながわ・目黒
こどもスクール



※1. このプリントは、しながわ・目黒こどもスクールのウェブサイトでダウンロードができます。無断複写・引用はご遠慮ください。
※2. このプリントを活用したオンライン授業のスケジュールは、しながわ・目黒こどもスクールのウェブサイトでご確認ください。




おうちで、やろう。

Study at home. 小学校受験の家庭学習教材

常識：仲間分け3

仲間をみつけて、絵と絵を線でつなぎましょう。仲間はそれぞれ3つずつあります。

- ①土の下に出来た茎や根を食べる野菜
- ②果実を食べる野菜
- ③葉っぱを食べる野菜



※1. このプリントは、しながわ・目黒こどもスクールのウェブサイトでダウンロードができます。無断複写・引用はご遠慮ください。

※2. このプリントを活用したオンライン授業のスケジュールは、しながわ・目黒こどもスクールのウェブサイトでご確認ください。









おうちで、やろう。


Study at home. 小学校受験の家庭学習教材

推理：じゃんけん 11



上にある手とじゃんけんをします。
パーが○、チョキが×、グーが△の約束で、下の問題に答えましょう。

①左の四角から順番に、上の手に勝つ手・負ける手・あいこの手の記号をかきます。

②左の四角から順番に、上の手とあいこの手・勝つ手・負ける手の記号をかきましょう。

※1. このプリントは、しながわ・目黒こどもスクールのウェブサイトでダウンロードができます。無断複写・引用はご遠慮ください。
 ※2. このプリントを活用したオンライン授業のスケジュールは、しながわ・目黒こどもスクールのウェブサイトでご確認ください。



おうちで、やろう。

Study at home. 小学校受験の家庭学習教材

推理：じゃんけん 12

上にある手とじゃんけんをします。
パーが○、チョキが×、グーが△の約束で、下の問題に答えましょう。

①左の四角から順番に、上の手に負ける手、勝つ手、あいこの手の記号をかきます。

②左の四角から順番に、上の手に勝つ手、負ける手、あいこの手の記号をかきましょう。

※1. このプリントは、しながわ・目黒こどもスクールのウェブサイトでダウンロードができます。無断複写・引用はご遠慮ください。
※2. このプリントを活用したオンライン授業のスケジュールは、しながわ・目黒こどもスクールのウェブサイトでご確認ください。

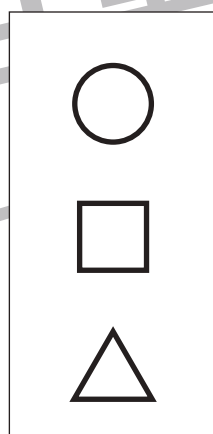
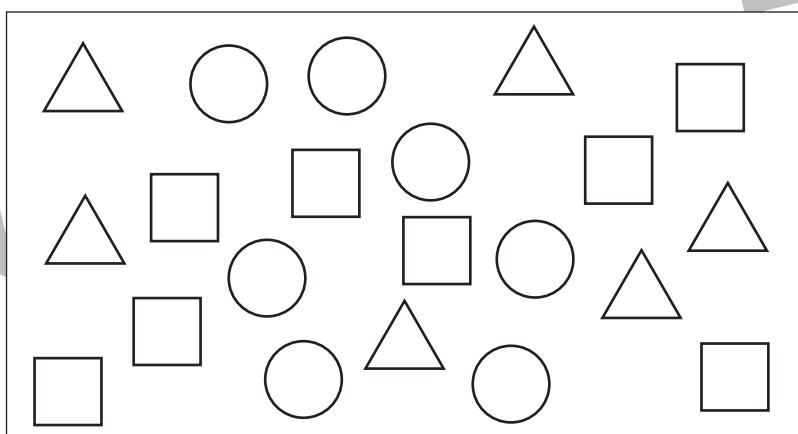
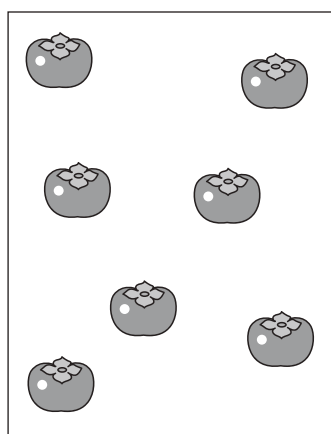
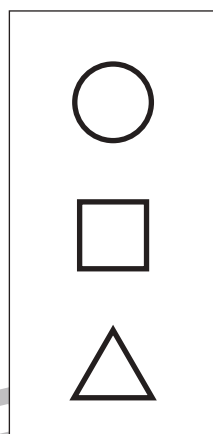
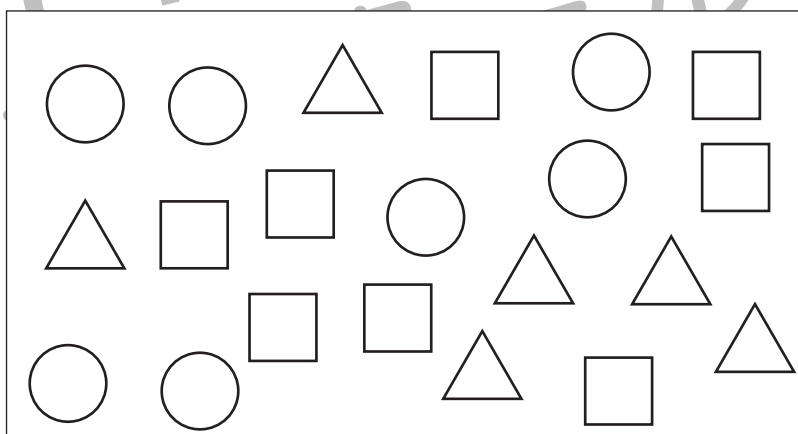

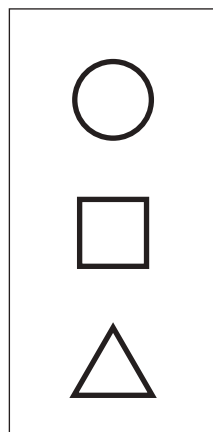
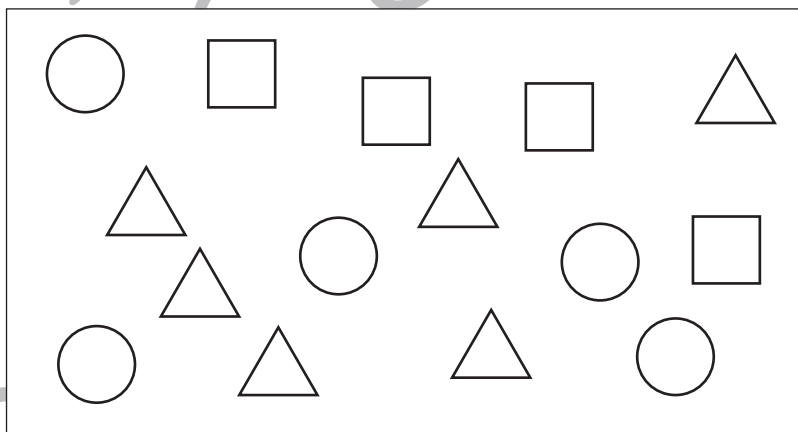
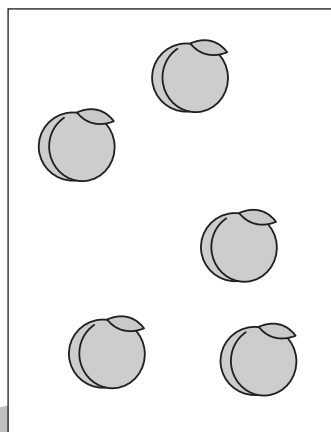

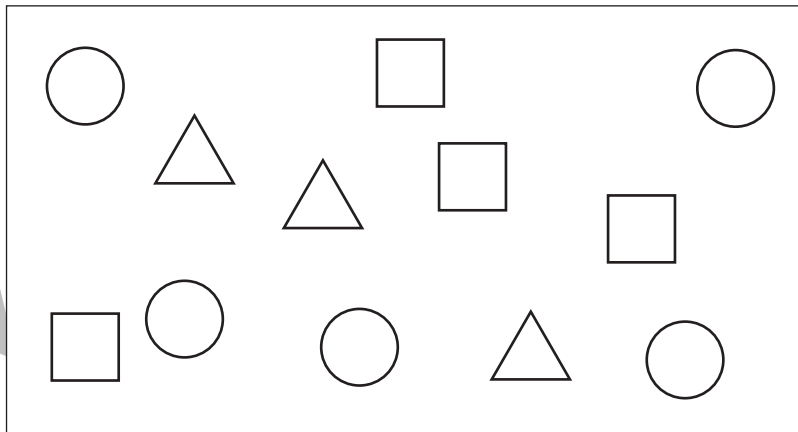
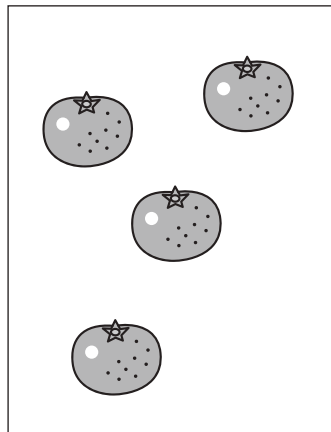


おうちで、やろう。

Study at home. 小学校受験の家庭学習教材

数量：同数 10

左の四角の中の果物の数と同じ数の記号を真ん中の四角の中から見つけて、右の四角の記号に○をつけます。



※1. このプリントは、しながわ・目黒こどもスクールのウェブサイトでダウンロードができます。無断複写・引用はご遠慮ください。
※2. このプリントを活用したオンライン授業のスケジュールは、しながわ・目黒こどもスクールのウェブサイトでご確認ください。


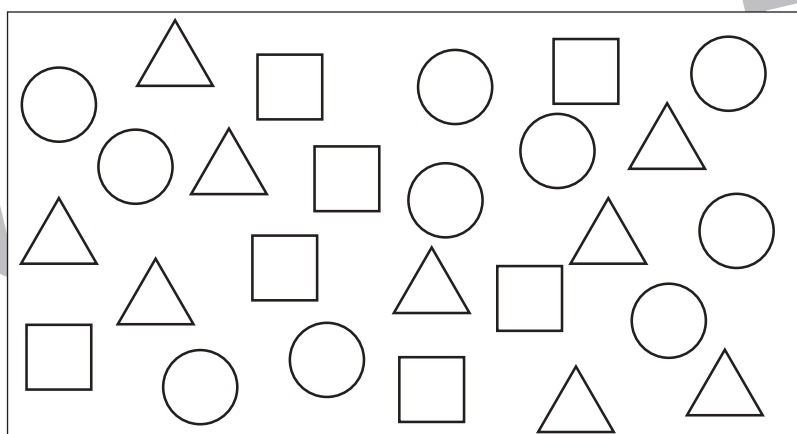
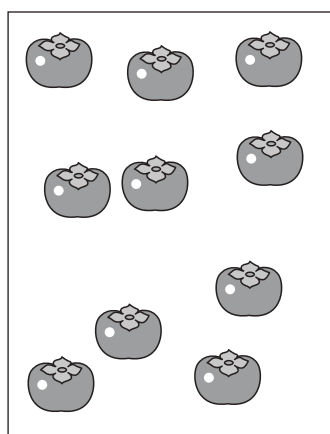
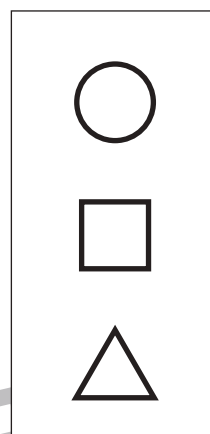


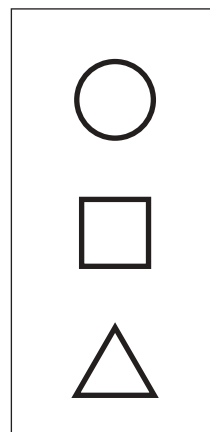
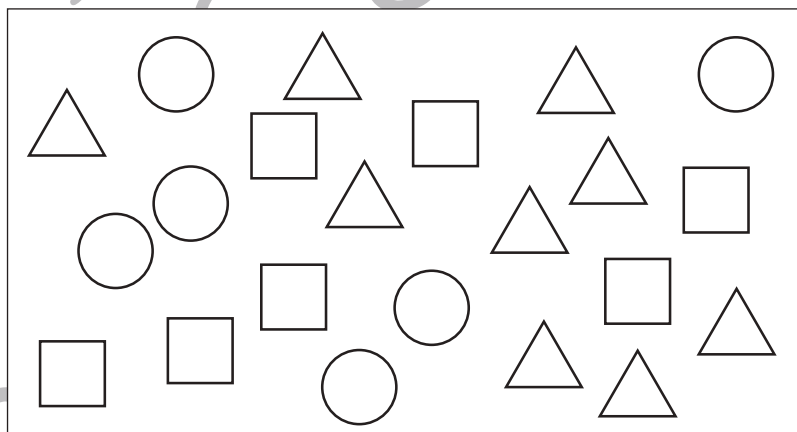
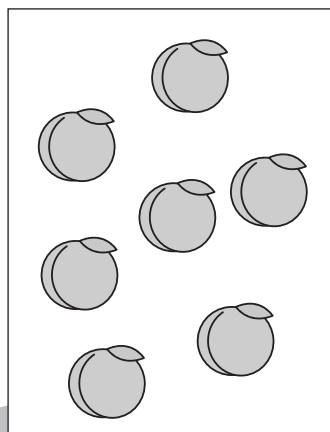

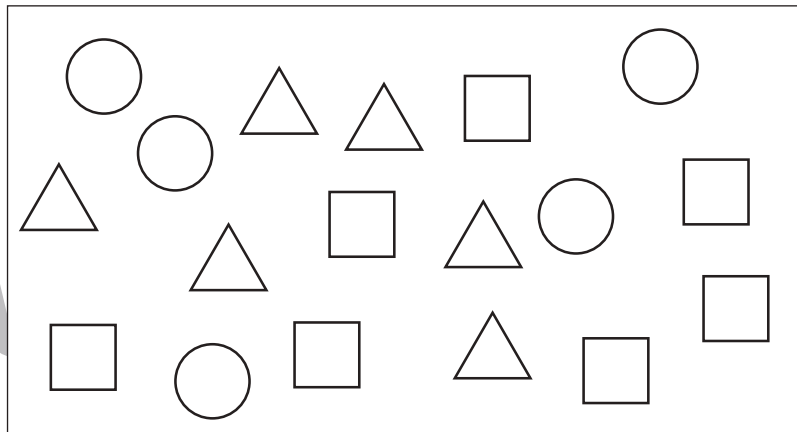



おうちで、やろう。

Study at home. 小学校受験の家庭学習教材

数量：同数 11

左の四角の中の果物の数と同じ数の記号を真ん中の四角の中から見つけて、右の四角の記号に○をつけます。



※1. このプリントは、しながわ・目黒こどもスクールのウェブサイトでダウンロードができます。無断複写・引用はご遠慮ください。
※2. このプリントを活用したオンライン授業のスケジュールは、しながわ・目黒こどもスクールのウェブサイトでご確認ください。


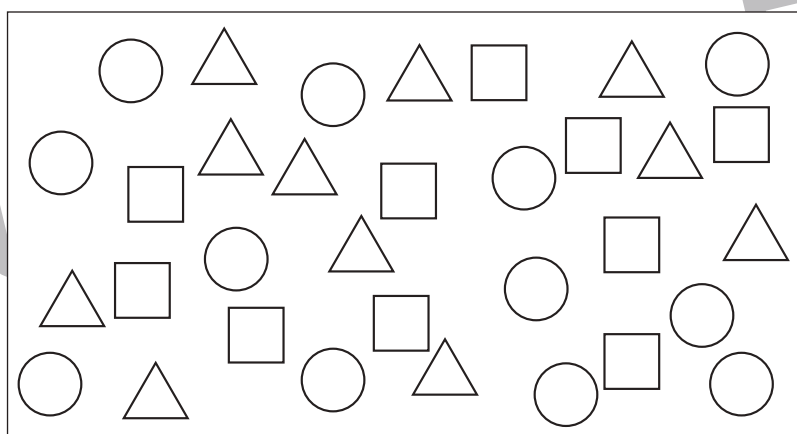
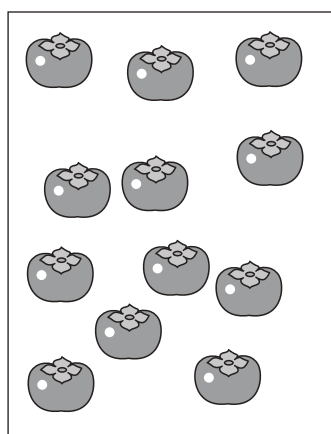



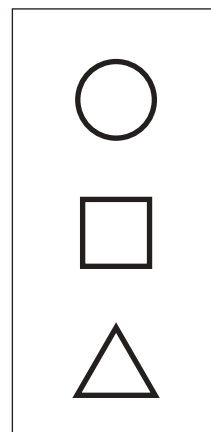
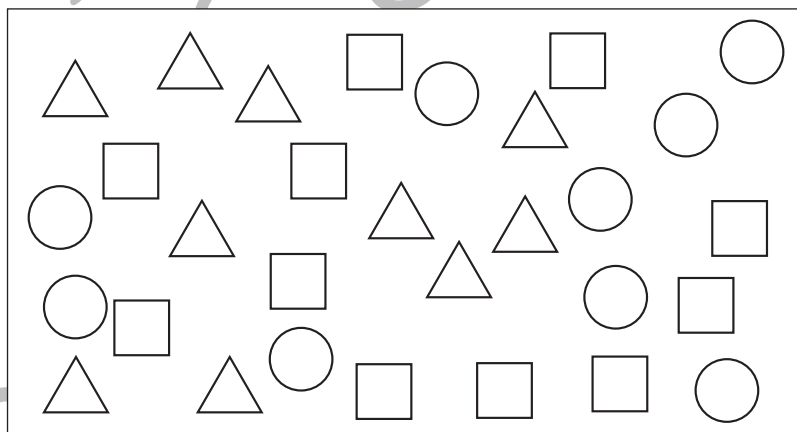
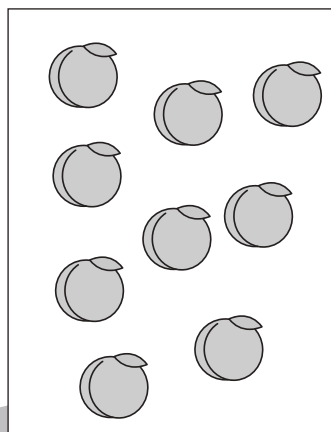

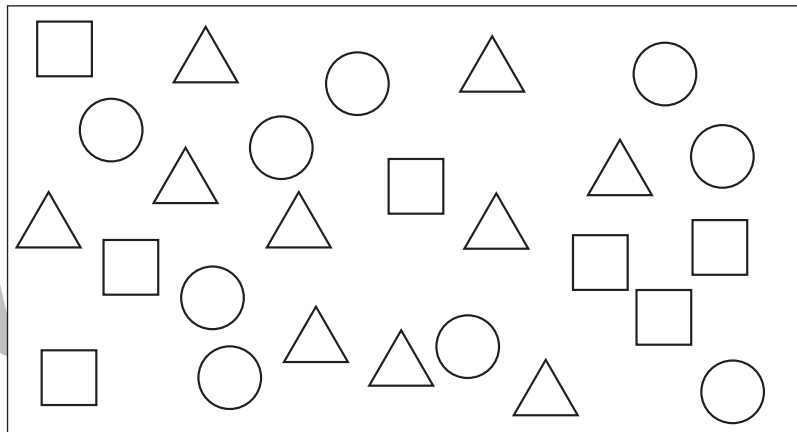
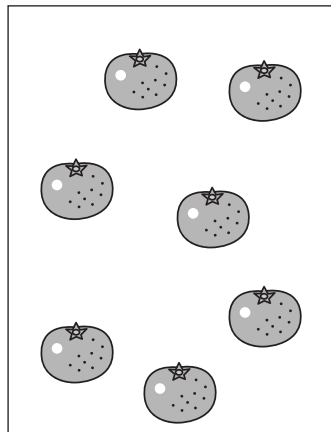


おうちで、やろう。

Study at home. 小学校受験の家庭学習教材

数量：同数 12

左の四角の中の果物の数と同じ数の記号を真ん中の四角の中から見つけて、右の四角の記号に○をつけます。



※1. このプリントは、しながわ・目黒こどもスクールのウェブサイトでダウンロードができます。無断複写・引用はご遠慮ください。
※2. このプリントを活用したオンライン授業のスケジュールは、しながわ・目黒こどもスクールのウェブサイトでご確認ください。

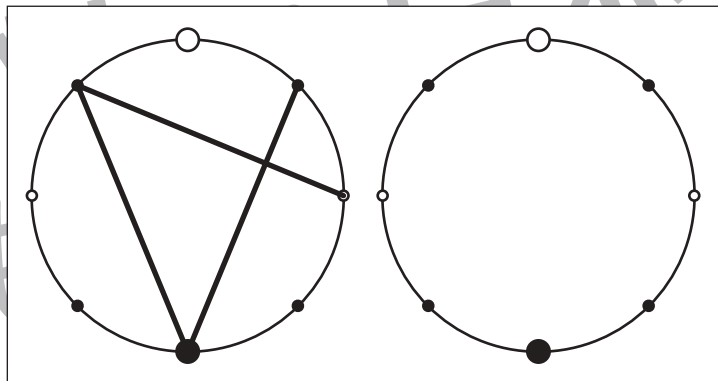
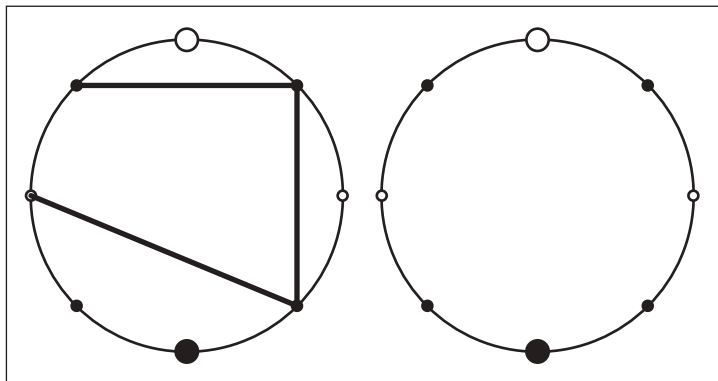
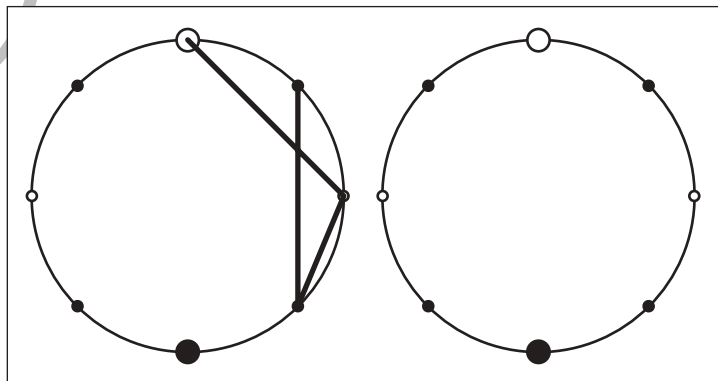
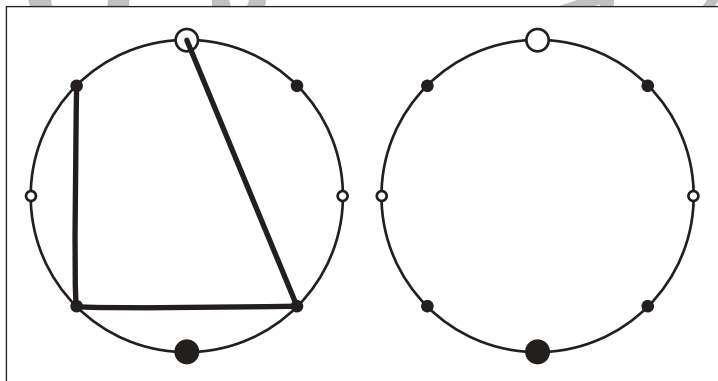
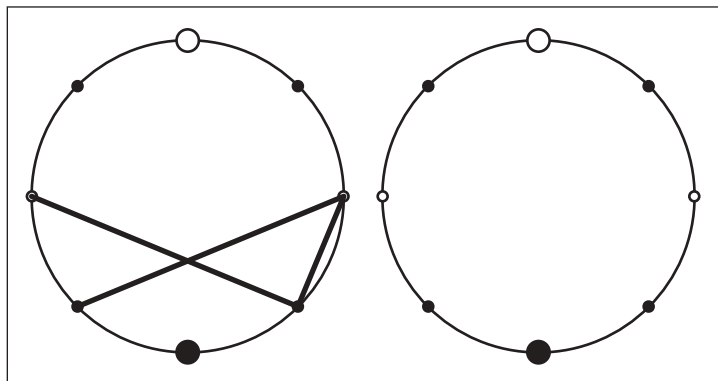
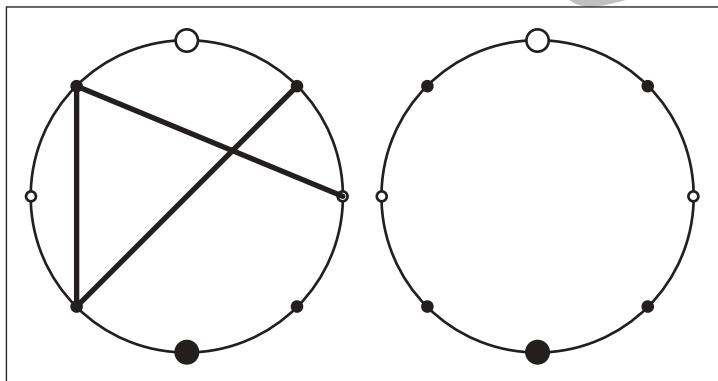
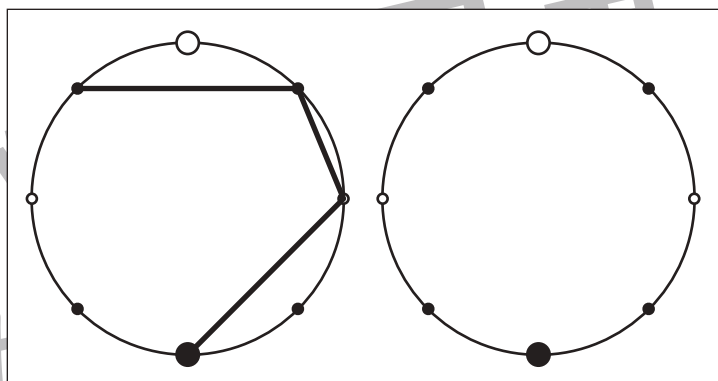
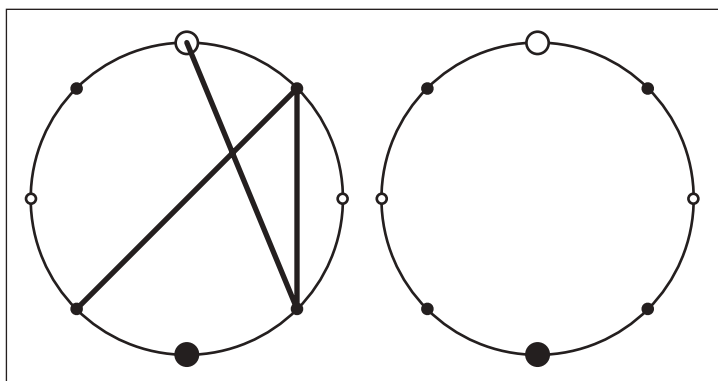


おうちで、やろう。

Study at home. 小学校受験の家庭学習教材

図形：点図形 34

左のお手本を見て、右にそっくり描き写しましょう。※このプリントに解答はありません。



※1. このプリントは、しながわ・目黒こどもスクールのウェブサイトでダウンロードができます。無断複写・引用はご遠慮ください。
※2. このプリントを活用したオンライン授業のスケジュールは、しながわ・目黒こどもスクールのウェブサイトでご確認ください。