



おうちで、やろう。

Study at home. 小学校受験の家庭学習教材


指示の聞き取り 20

動物たちは手をつないで横一列に並んでいます。


それぞれお話をよく聞いてパンダくんのいる場所を考えます。

- ①パンダくんはウサギさんの右手と手をつないでいます。パンダくんのいる場所を考えて口の中を鉛筆で塗りましょう。
- ②パンダくんはライオンくんの左手と手をつないでいます。パンダくんのいる場所を考えて口の中を鉛筆で塗りましょう。
- ③パンダくんはクマくんの右手と手をつないでいます。パンダくんのいる場所を考えて口の中を鉛筆で塗りましょう。
- ④パンダくんはネコさんの左手と手をつないでいます。パンダくんのいる場所を考えて口の中を鉛筆で塗りましょう。


①




②



③



④



※1. このプリントは、しながわ・目黒こどもスクールのウェブサイトダウンロードができます。無断複写・引用はご遠慮ください。

※2. このプリントを活用したオンライン授業のスケジュールは、しながわ・目黒こどもスクールのウェブサイトでご確認ください。



おうちで、やろう。

Study at home. 小学校受験の家庭学習教材

常識：なぞなぞ4

①～⑤の問題を聞いて、下の四角の中から正しいものを選びます。

- ①私は走ることが得意です。人を乗せることもできます。私に○をつけてください。
- ②私は仲間で動くことが多いです。私の顔やお尻は赤いです。私に△をつけてください。
- ③私は片足で立つことが得意な鳥です。私に□をつけてください。
- ④私は木にいることが多く、ユーカリの葉が大好きです。私に◎をつけてください。
- ⑤私は冬眠します。2本足で立って歩くこともできます。私に×をつけてください。



※1. このプリントは、しながわ・目黒こどもスクールのウェブサイトでダウンロードができます。無断複写・引用はご遠慮ください。
 ※2. このプリントを活用したオンライン授業のスケジュールは、しながわ・目黒こどもスクールのウェブサイトでご確認ください。

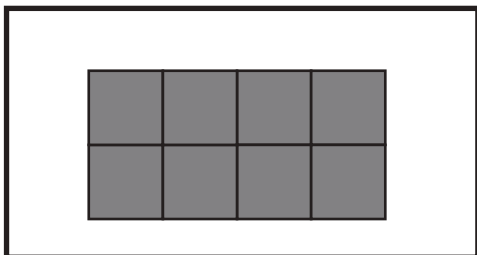


おうちで、やろう。

Study at home. 小学校受験の家庭学習教材

図形：構成 17

左上のお手本と同じ形を作るには、上と下のどの形を組み合わせたらよいですか。点と点を線で結びます。それぞれの形は向きを変えてもいいですが、裏返してはいけません。



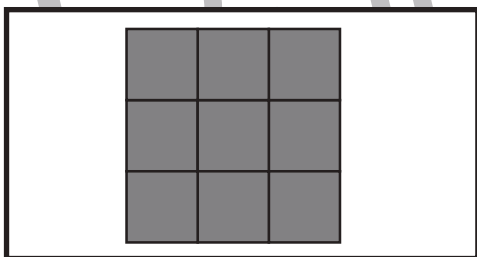
Four pieces from the top row:

- Piece 1: 2x1 square on top, 3x1 horizontal bar on bottom.
- Piece 2: 1x1 square on top, 2x1 horizontal bar on bottom.
- Piece 3: 2x1 horizontal bar on top, 2x1 horizontal bar on bottom.
- Piece 4: 2x2 square.

Two crossing lines connecting dots in the center.

Four pieces from the bottom row:

- Piece 5: 2x1 square on top, 2x1 horizontal bar on bottom.
- Piece 6: 2x2 square.
- Piece 7: 3x1 horizontal bar on top, 1x1 square on bottom.
- Piece 8: 2x1 horizontal bar on top, 2x1 horizontal bar on bottom.



Four pieces from the top row:

- Piece 9: 2x2 square on top, 1x1 square on bottom.
- Piece 10: 2x2 square on top, 3x1 horizontal bar on bottom.
- Piece 11: 3x1 horizontal bar on top, 1x1 square on bottom.
- Piece 12: 2x1 horizontal bar on top, 2x1 horizontal bar on bottom.

Two crossing lines connecting dots in the center.

Four pieces from the bottom row:

- Piece 13: 2x1 horizontal bar on top, 2x1 horizontal bar on bottom.
- Piece 14: 1x1 square on top, 3x1 horizontal bar on bottom.
- Piece 15: 1x1 square on top, 2x1 horizontal bar on bottom.
- Piece 16: 2x2 square.

※1. このプリントは、しながわ・目黒こどもスクールのウェブサイトでダウンロードができます。無断複写・引用はご遠慮ください。
※2. このプリントを活用したオンライン授業のスケジュールは、しながわ・目黒こどもスクールのウェブサイトでご確認ください。

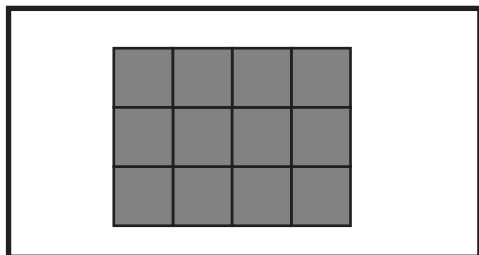


おうちで、やろう。

Study at home. 小学校受験の家庭学習教材

図形：構成 18

左上のお手本と同じ形を作るには、上と下のどの形を組み合わせたらよいですか。点と点を線で結びます。それぞれの形は向きを変えてもいいですが、裏返してはいけません。



Four pairs of shapes are shown, each with a line connecting two dots. The top row contains four shapes, and the bottom row contains four shapes. The connections are as follows:

- Pair 1: A shape with a top row of 4 squares and two squares at the bottom corners is connected to a shape with a top row of 4 squares and two squares at the bottom corners.
- Pair 2: A shape with a top row of 2 squares, a middle row of 3 squares, and a bottom row of 3 squares is connected to a shape with a top row of 2 squares, a middle row of 3 squares, and a bottom row of 3 squares.
- Pair 3: A shape with a top row of 2 squares, a middle row of 3 squares, and a bottom row of 3 squares is connected to a shape with a top row of 2 squares, a middle row of 3 squares, and a bottom row of 3 squares.
- Pair 4: A shape with a top row of 3 squares and a bottom row of 3 squares is connected to a shape with a top row of 3 squares and a bottom row of 3 squares.



Four pairs of shapes are shown, each with a line connecting two dots. The top row contains four shapes, and the bottom row contains four shapes. The connections are as follows:

- Pair 1: A shape with a top row of 4 squares, a middle row of 3 squares, and a bottom row of 3 squares is connected to a shape with a top row of 4 squares, a middle row of 3 squares, and a bottom row of 3 squares.
- Pair 2: A shape with a top row of 4 squares, a middle row of 3 squares, and a bottom row of 3 squares is connected to a shape with a top row of 4 squares, a middle row of 3 squares, and a bottom row of 3 squares.
- Pair 3: A shape with a top row of 4 squares, a middle row of 3 squares, and a bottom row of 3 squares is connected to a shape with a top row of 4 squares, a middle row of 3 squares, and a bottom row of 3 squares.
- Pair 4: A shape with a top row of 4 squares, a middle row of 3 squares, and a bottom row of 3 squares is connected to a shape with a top row of 4 squares, a middle row of 3 squares, and a bottom row of 3 squares.

※1. このプリントは、しながわ・目黒こどもスクールのウェブサイトでダウンロードができます。無断複写・引用はご遠慮ください。
※2. このプリントを活用したオンライン授業のスケジュールは、しながわ・目黒こどもスクールのウェブサイトでご確認ください。



おうちで、やろう。

Study at home. 小学校受験の家庭学習教材

数量：加減 28

左のサイコロの目の数より3つ多いもの右の四角の中から選んで○をつけます。

※1. このプリントは、しながわ・目黒こどもスクールのウェブサイトからダウンロードできます。無断複写・引用はご遠慮ください。

※2. このプリントを活用したオンライン授業のスケジュールは、しながわ・目黒こどもスクールのウェブサイトでご確認ください。



おうちで、やろう。

Study at home. 小学校受験の家庭学習教材

数量：加減 29

左の2つのサイコロの目を合わせた数より2つ多いもの右の四角の中から選んで○をつけます。

※1. このプリントは、しながわ・目黒こどもスクールのウェブサイトからダウンロードできます。無断複写・引用はご遠慮ください。

※2. このプリントを活用したオンライン授業のスケジュールは、しながわ・目黒こどもスクールのウェブサイトでご確認ください。



おうちで、よろう。

Study at home. 小学校受験の家庭学習教材

数量：長さ4

上の太い四角の中の棒の長さがお手本です。下の四角の棒の長さを合わせてお手本と同じ長さになるものを下の四角の中から選び○をつけます。

A large rectangle containing a horizontal bar that spans 7 segments of the ruler below it.

Three bars of different lengths are shown above a ruler with 5 segments. The bar that is 4 segments long is circled in black.

Three bars of different lengths are shown above a ruler with 5 segments. The bar that is 7 segments long is circled in black.

Three bars of different lengths are shown above a ruler with 5 segments. The bar that is 4 segments long is circled in black.

Three bars of different lengths are shown above a ruler with 5 segments. The bar that is 3 segments long is circled in black.

Three bars of different lengths are shown above a ruler with 5 segments. The bar that is 4 segments long is circled in black.

Three bars of different lengths are shown above a ruler with 5 segments. The bar that is 7 segments long is circled in black.

※1. このプリントは、しながわ・目黒こどもスクールのウェブサイトでダウンロードができます。無断複写・引用はご遠慮ください。
 ※2. このプリントを活用したオンライン授業のスケジュールは、しながわ・目黒こどもスクールのウェブサイトでご確認ください。



おうちで、よろう。

Study at home. 小学校受験の家庭学習教材

数量：長さ5

上の太い四角の中の棒の長さがお手本です。下の四角の棒の長さを合わせてお手本と同じ長さになるものを下の四角の中から選び○をつけます。

A large rectangle containing a thick gray bar at the top. Below it is a horizontal line with 10 vertical tick marks, dividing it into 10 equal segments. The bar's length is exactly 5 segments.

A box containing three gray bars of different lengths and a ruler with 5 segments. The bars are approximately 2, 4, and 1 segment long.

A box containing three gray bars and a ruler with 5 segments. The bars are approximately 4, 2, and 3 segments long. The 3-segment bar is circled in black.

A box containing three gray bars and a ruler with 5 segments. The bars are approximately 1, 3, and 4 segments long. The 3-segment bar is circled in black.

A box containing three gray bars and a ruler with 5 segments. The bars are approximately 5, 2, and 4 segments long.

A box containing three gray bars and a ruler with 5 segments. The bars are approximately 1, 2, and 4 segments long. The 4-segment bar is circled in black.

A box containing three gray bars and a ruler with 5 segments. The bars are approximately 2, 5, and 1 segment long.

※1. このプリントは、しながわ・目黒こどもスクールのウェブサイトでダウンロードができます。無断複写・引用はご遠慮ください。
 ※2. このプリントを活用したオンライン授業のスケジュールは、しながわ・目黒こどもスクールのウェブサイトでご確認ください。




おうちで、やろう。

Study at home. 小学校受験の家庭学習教材

処理：計数5

上の四角の中の絵の数をかぞえて、下の四角の同じ絵の右にその数より2つ多い数の○をかきます。
この問題はスピードを意識して取り組む練習をしてみましょう。(1分～1分30秒)



○×7



○×10



○×12



○×9