



おうちで、やろう。

Study at home. 小学校受験の家庭学習教材

指示の聞き取り 20

動物たちは手をつないで横一列に並んでいます。

それぞれお話をよく聞いてパンダくんのいる場所を考えます。


①パンダくんはウサギさんの右手と手をつないでいます。パンダくんのいる場所を考えて口の中を鉛筆で塗りましょう。

②パンダくんはライオンくんの左手と手をつないでいます。パンダくんのいる場所を考えて口の中を鉛筆で塗りましょう。


③パンダくんはクマくんの右手と手をつないでいます。パンダくんのいる場所を考えて口の中を鉛筆で塗りましょう。

④パンダくんはネコさんの左手と手をつないでいます。パンダくんのいる場所を考えて口の中を鉛筆で塗りましょう。


①




②



③



④



※1. このプリントは、しながわ・目黒こどもスクールのウェブサイトでダウンロードができます。無断複写・引用はご遠慮ください。

※2. このプリントを活用したオンライン授業のスケジュールは、しながわ・目黒こどもスクールのウェブサイトでご確認ください。




おうちで、やろう。

Study at home. 小学校受験の家庭学習教材

常識：なぞなぞ4

①～⑤の問題を聞いて、下の四角の中から正しいものを選びます。

- ①私は走ることが得意です。人を乗せることもできます。私に○をつけてください。
- ②私は仲間で動くことが多いです。私の顔やお尻は赤いです。私に△をつけてください。
- ③私は片足で立つことが得意な鳥です。私に□をつけてください。
- ④私は木にいることが多く、ユーカリの葉が大好きです。私に◎をつけてください。
- ⑤私は冬眠します。2本足で立って歩くこともできます。私に×をつけてください。



※1. このプリントは、しながわ・目黒こどもスクールのウェブサイトでダウンロードができます。無断複写・引用はご遠慮ください。

※2. このプリントを活用したオンライン授業のスケジュールは、しながわ・目黒こどもスクールのウェブサイトでご確認ください。

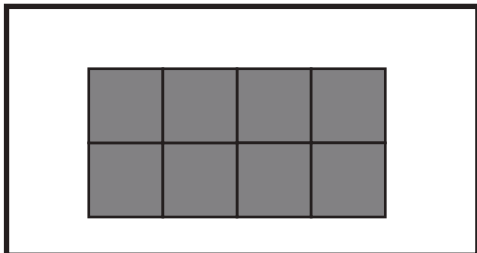


おうちで、やろう。

Study at home. 小学校受験の家庭学習教材

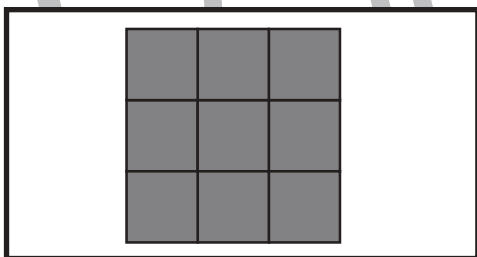
図形：構成 17

左上のお手本と同じ形を作るには、上と下のどの形を組み合わせたらいですか。点と点を線で結びます。それぞれの形は向きを変えてもいいですが、裏返してはいけません。



Four pairs of shapes for matching. Each pair consists of a shape above two dots and a shape below two dots.

- Pair 1: Top shape is a 2x3 rectangle with one square on top left. Bottom shape is a 2x3 rectangle.
- Pair 2: Top shape is a 2x2 square with one square on top left. Bottom shape is a 2x2 square.
- Pair 3: Top shape is a 2x2 square with one square on top left and one on top right. Bottom shape is a 2x2 square.
- Pair 4: Top shape is a 2x2 square. Bottom shape is a 2x2 square.



Four pairs of shapes for matching. Each pair consists of a shape above two dots and a shape below two dots.

- Pair 1: Top shape is a 3x2 rectangle with one square on top left. Bottom shape is a 3x2 rectangle.
- Pair 2: Top shape is a 2x3 rectangle with one square on top right. Bottom shape is a 2x3 rectangle.
- Pair 3: Top shape is a 3x2 rectangle with one square on top left and one on top right. Bottom shape is a 3x2 rectangle.
- Pair 4: Top shape is a 3x2 rectangle with one square on top left and one on top right. Bottom shape is a 3x2 rectangle.

※1. このプリントは、しながわ・目黒こどもスクールのウェブサイトでダウンロードができます。無断複写・引用はご遠慮ください。
※2. このプリントを活用したオンライン授業のスケジュールは、しながわ・目黒こどもスクールのウェブサイトでご確認ください。



おうちで、やろう。

Study at home. 小学校受験の家庭学習教材

図形：構成 18

左上のお手本と同じ形を作るには、上と下のどの形を組み合わせたらいですか。点と点を線で結びます。それぞれの形は向きを変えてもいいですが、裏返してはいけません。

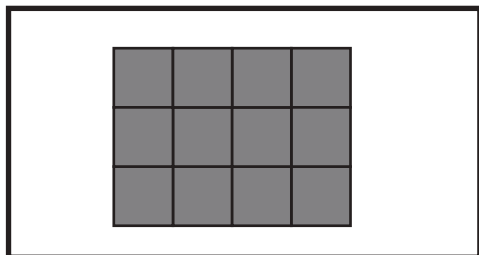


Figure 18 Puzzle 1: A 3x4 grid target shape. Below it are 12 pieces, each with a dot at its top-left corner. The pieces are:

- 1. A 2x4 horizontal bar.
- 2. A 2x2 square with a 1x1 square attached to the top-left corner.
- 3. A 2x2 square with a 1x1 square attached to the top-right corner.
- 4. A 1x3 horizontal bar.
- 5. A 2x2 square with a 1x1 square attached to the bottom-left corner.
- 6. A 2x2 square with a 1x1 square attached to the bottom-right corner.
- 7. A 1x4 horizontal bar.
- 8. A 2x2 square with a 1x1 square attached to the top-right corner.
- 9. A 1x3 horizontal bar with a 1x1 square attached to the bottom-right corner.
- 10. A 1x3 horizontal bar with a 1x1 square attached to the bottom-right corner.
- 11. A 1x3 horizontal bar with a 1x1 square attached to the bottom-right corner.
- 12. A 1x3 horizontal bar with a 1x1 square attached to the bottom-right corner.



Figure 18 Puzzle 2: A 3x5 grid target shape. Below it are 12 pieces, each with a dot at its top-left corner. The pieces are:

- 1. A 3x3 square with a 1x1 square attached to the top-right corner.
- 2. A 3x3 square with a 1x1 square attached to the top-right corner.
- 3. A 2x3 horizontal bar with a 1x1 square attached to the top-right corner.
- 4. A 3x3 square with a 1x1 square attached to the top-right corner.
- 5. A 2x3 horizontal bar with a 1x1 square attached to the bottom-right corner.
- 6. A 2x3 horizontal bar with a 1x1 square attached to the bottom-right corner.
- 7. A 2x3 horizontal bar with a 1x1 square attached to the bottom-right corner.
- 8. A 2x3 horizontal bar with a 1x1 square attached to the bottom-right corner.
- 9. A 2x3 horizontal bar with a 1x1 square attached to the bottom-right corner.
- 10. A 2x3 horizontal bar with a 1x1 square attached to the bottom-right corner.
- 11. A 2x3 horizontal bar with a 1x1 square attached to the bottom-right corner.
- 12. A 2x3 horizontal bar with a 1x1 square attached to the bottom-right corner.

※1. このプリントは、しながわ・目黒こどもスクールのウェブサイトでダウンロードができます。無断複写・引用はご遠慮ください。
※2. このプリントを活用したオンライン授業のスケジュールは、しながわ・目黒こどもスクールのウェブサイトでご確認ください。



おうちで、やろう。

Study at home. 小学校受験の家庭学習教材

数量：加減 28

左のサイコロの目の数より3つ多いもの右の四角の中から選んで○をつけます。

※1. このプリントは、しながわ・目黒こどもスクールのウェブサイトからダウンロードできます。無断複写・引用はご遠慮ください。

※2. このプリントを活用したオンライン授業のスケジュールは、しながわ・目黒こどもスクールのウェブサイトでご確認ください。



おうちで、やろう。

Study at home. 小学校受験の家庭学習教材

数量：加減 29

左の2つのサイコロの目を合わせた数より2つ多いもの右の四角の中から選んで○をつけます。

※1. このプリントは、しながわ・目黒こどもスクールのウェブサイトからダウンロードできます。無断複写・引用はご遠慮ください。

※2. このプリントを活用したオンライン授業のスケジュールは、しながわ・目黒こどもスクールのウェブサイトでご確認ください。



おうちで、よろう。

Study at home. 小学校受験の家庭学習教材

数量：長さ 4

上の太い四角の中の棒の長さがお手本です。下の四角の棒の長さを合わせてお手本と同じ長さになるものを下の四角の中から選び○をつけます。

A large rectangle containing a thick gray bar at the top. Below it is a horizontal line with 10 vertical tick marks, dividing it into 10 equal segments. The thick bar spans exactly 4 segments from the left.

Option 1: Three gray bars of different lengths. The ruler below has 5 segments. The bars are approximately 1.5, 2.5, and 3.5 segments long.

Option 2: Three gray bars. The ruler below has 5 segments. The bars are approximately 3.5, 4.5, and 1 segment long.

Option 3: Three gray bars. The ruler below has 5 segments. The bars are approximately 2, 3, and 4 segments long.

Option 4: Three gray bars. The ruler below has 5 segments. The bars are approximately 4.5, 3, and 1.5 segments long.

Option 5: Three gray bars. The ruler below has 5 segments. The bars are approximately 4, 2, and 1 segment long.

Option 6: Three gray bars. The ruler below has 5 segments. The bars are approximately 4.5, 1.5, and 3 segments long.

※1. このプリントは、しながわ・目黒こどもスクールのウェブサイトでダウンロードができます。無断複写・引用はご遠慮ください。
 ※2. このプリントを活用したオンライン授業のスケジュールは、しながわ・目黒こどもスクールのウェブサイトでご確認ください。



おうちで、よろう。

Study at home. 小学校受験の家庭学習教材

数量：長さ5

上の太い四角の中の棒の長さがお手本です。下の四角の棒の長さを合わせてお手本と同じ長さになるものを下の四角の中から選び○をつけます。

※1. このプリントは、しながわ・目黒こどもスクールのウェブサイトでダウンロードができます。無断複写・引用はご遠慮ください。
 ※2. このプリントを活用したオンライン授業のスケジュールは、しながわ・目黒こどもスクールのウェブサイトでご確認ください。




おうちで、やろう。

Study at home. 小学校受験の家庭学習教材

処理：計数5

上の四角の中の絵の数をかぞえて、下の四角の同じ絵の右にその数より2つ多い数の○をかきます。
この問題はスピードを意識して取り組む練習をしてみましょう。(1分～1分30秒)



※1. このプリントは、しながわ・目黒こどもスクールのウェブサイトでダウンロードができます。無断複写・引用はご遠慮ください。
※2. このプリントを活用したオンライン授業のスケジュールは、しながわ・目黒こどもスクールのウェブサイトでご確認ください。



おうちで、やろう。

Study at home. 小学校受験の家庭学習教材

図形：点図形 35

左のお手本と同じになるように右の四角に線をかきます。 ※このプリントに解答はありません。

※1. このプリントは、しながわ・目黒こどもスクールのウェブサイトでダウンロードができます。無断複写・引用はご遠慮ください。
※2. このプリントを活用したオンライン授業のスケジュールは、しながわ・目黒こどもスクールのウェブサイトでご確認ください。