



おうちで、やろう。

Study at home. 小学校受験の家庭学習教材

図形：折り重ね 25

上の四角は透明です。この四角を真ん中の太い線で矢印の方向へ折り重ねます。重ねた後の見え方を考えて、下の四角の灰色になるマス塗りします。

※1. このプリントは、しながわ・目黒こどもスクールのウェブサイトでダウンロードができます。無断複写・引用はご遠慮ください。
 ※2. このプリントを活用したオンライン授業のスケジュールは、しながわ・目黒こどもスクールのウェブサイトでご確認ください。



おうちで、やろう。

Study at home. 小学校受験の家庭学習教材

図形：折り重ね 26

上の四角は透明です。この四角を真ん中の太い線で矢印の方向へ折り重ねます。重ねた後の見え方を考えて、下の四角の灰色になるマス塗りします。

※1. このプリントは、しながわ・目黒こどもスクールのウェブサイトでダウンロードができます。無断複写・引用はご遠慮ください。
 ※2. このプリントを活用したオンライン授業のスケジュールは、しながわ・目黒こどもスクールのウェブサイトでご確認ください。



おうちで、やろう。

Study at home. 小学校受験の家庭学習教材

図形：折り重ね 27

上の四角は透明です。この四角を真ん中の太い線で矢印の方向へ折り重ねます。重ねた後の見え方を考えて、下の四角の灰色になるマス塗りします。

The figure shows 16 3x3 grids arranged in a 4x4 pattern. Each grid has a horizontal fold line in the middle row. The top row of each grid is transparent. The bottom row of each grid has some cells shaded gray. The goal is to determine which cells in the bottom row will be covered by the top row after folding.

※1. このプリントは、しながわ・目黒こどもスクールのウェブサイトでダウンロードができます。無断複写・引用はご遠慮ください。
※2. このプリントを活用したオンライン授業のスケジュールは、しながわ・目黒こどもスクールのウェブサイトでご確認ください。

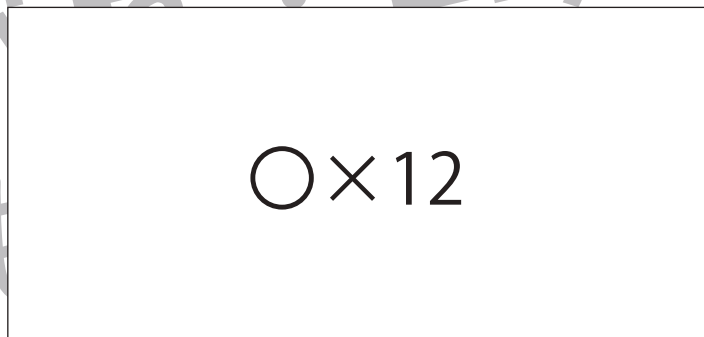


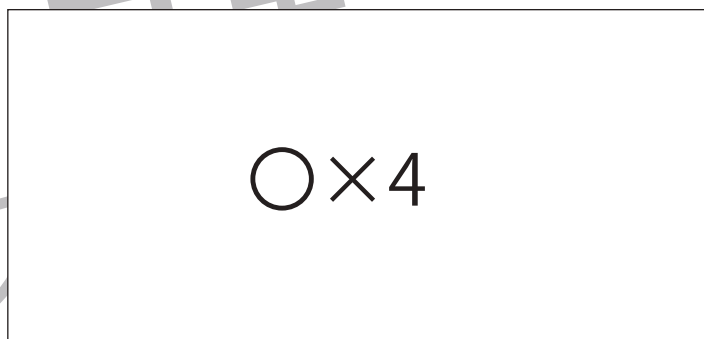






おうちで、やろう。

Study at home. 小学校受験の家庭学習教材

数量：足の数1

左の四角の中には生き物がいます。この生き物の足の数を合わせるといくつになりますか。
その数だけ右の四角の中に○をかきます。



※1. このプリントは、しながわ・目黒こどもスクールのウェブサイトでダウンロードができます。無断複写・引用はご遠慮ください。
※2. このプリントを活用したオンライン授業のスケジュールは、しながわ・目黒こどもスクールのウェブサイトでご確認ください。




おうちで、やろう。


Study at home. 小学校受験の家庭学習教材

数量：足の数 2


左の四角の中には生き物がいます。この生き物の足の数を合わせるといくつになりますか。
その数だけ右の四角の中に○をかきます。




○×10




○×8



○×12



○×14



○×10

※1. このプリントは、しながわ・目黒こどもスクールのウェブサイトでダウンロードができます。無断複写・引用はご遠慮ください。
※2. このプリントを活用したオンライン授業のスケジュールは、しながわ・目黒こどもスクールのウェブサイトでご確認ください。