



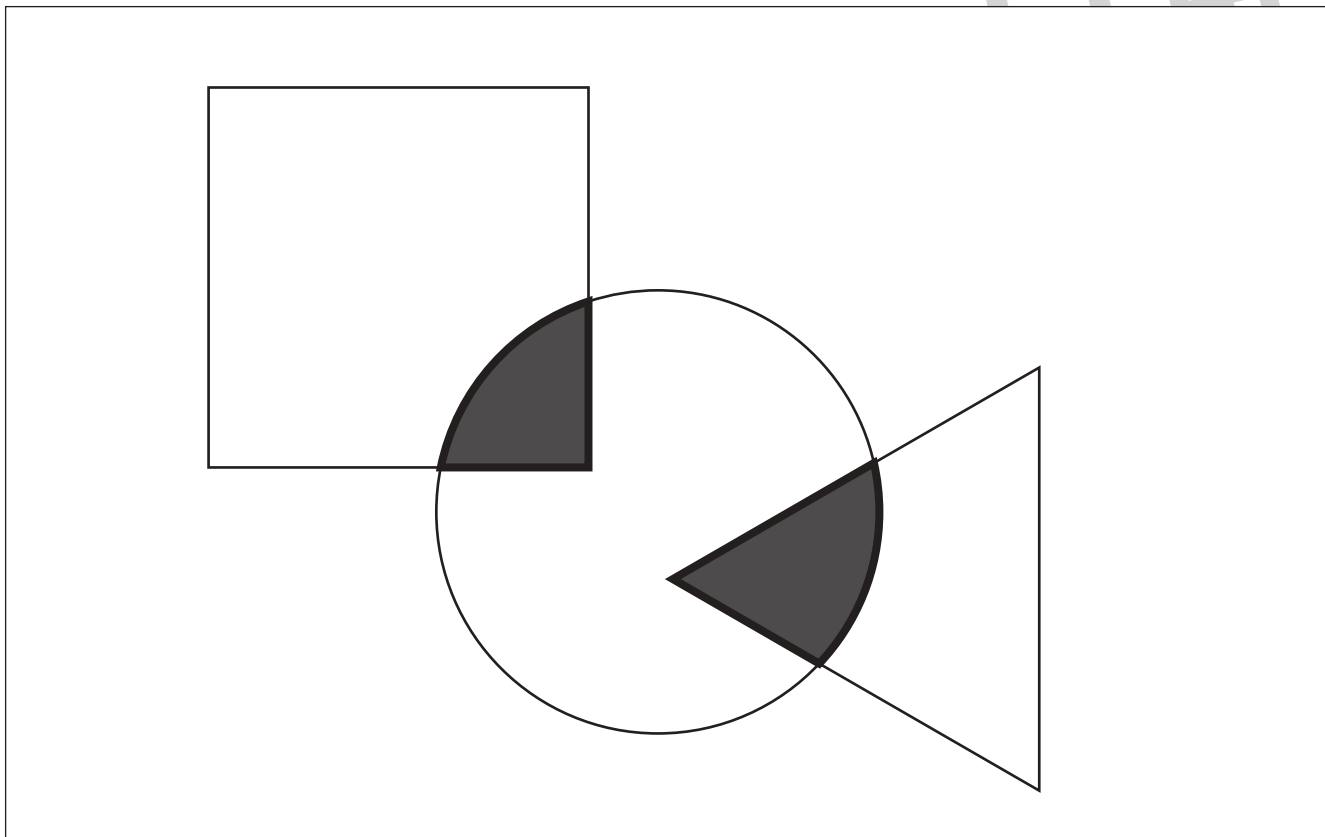
おうちで、やろう。

Study at home. 小学校受験の家庭学習教材

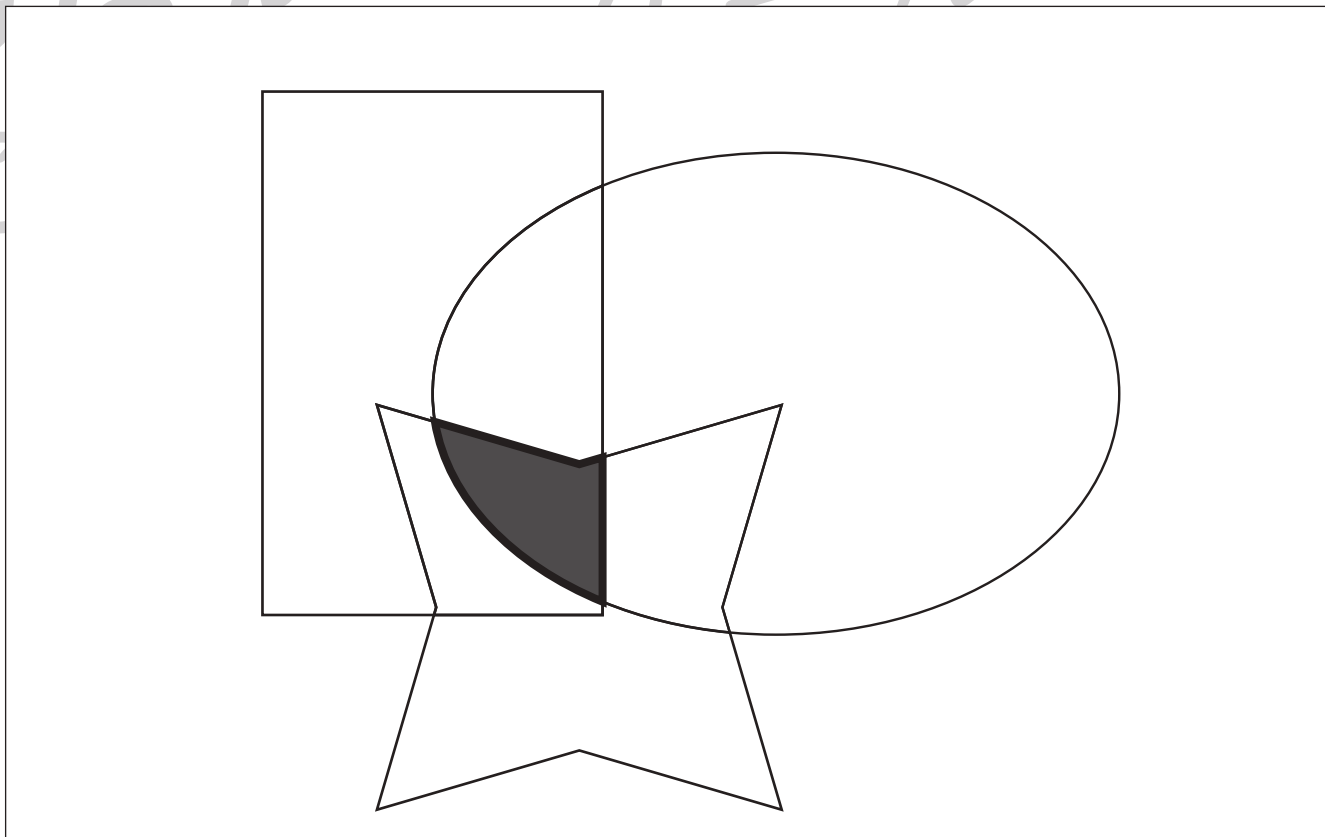
指示の聞き取り 23

- ① 3つの形があります。この中で2つの形が重なっている場所を見つけて色を塗ります。
- ② 3つの形が重なっている場所を見つけて色を塗ります。

①



②



※1. このプリントは、しながわ・目黒こどもスクールのウェブサイトでダウンロードができます。無断複写・引用はご遠慮ください。
※2. このプリントを活用したオンライン授業のスケジュールは、しながわ・目黒こどもスクールのウェブサイトでご確認ください。





おうちで、やろう。

Study at home. 小学校受験の家庭学習教材

図形：折り重ね 28

左の透明な板を真ん中の太い線で折り重ねたあとの見え方を考えて、正しいものを右の4つの中から選んで○をつけます。

※1. このプリントは、しながわ・目黒こどもスクールのウェブサイトでダウンロードができます。無断複写・引用はご遠慮ください。
 ※2. このプリントを活用したオンライン授業のスケジュールは、しながわ・目黒こどもスクールのウェブサイトでご確認ください。



おうちで、やろう。

Study at home. 小学校受験の家庭学習教材

図形：折り重ね 29

左の透明な板を真ん中の太い線で折り重ねたあとの見え方を考えて、正しいものを右の4つの中から選んで○をつけます。

--	--	--	--	--

--	--	--	--	--

--	--	--	--	--

--	--	--	--	--

--	--	--	--	--

※1. このプリントは、しながわ・目黒こどもスクールのウェブサイトでダウンロードができます。無断複写・引用はご遠慮ください。

※2. このプリントを活用したオンライン授業のスケジュールは、しながわ・目黒こどもスクールのウェブサイトでご確認ください。



おうちで、やろう。

Study at home. 小学校受験の家庭学習教材

図形：折り重ね 30

左の透明な板を真ん中の太い線で折り重ねたあとの見え方を考えて、正しいものを右の4つの中から選んで○をつけます。

--	--	--	--	--

--	--	--	--	--

--	--	--	--	--

--	--	--	--	--

--	--	--	--	--

※1. このプリントは、しながわ・目黒こどもスクールのウェブサイトでダウンロードができます。無断複写・引用はご遠慮ください。
 ※2. このプリントを活用したオンライン授業のスケジュールは、しながわ・目黒こどもスクールのウェブサイトでご確認ください。



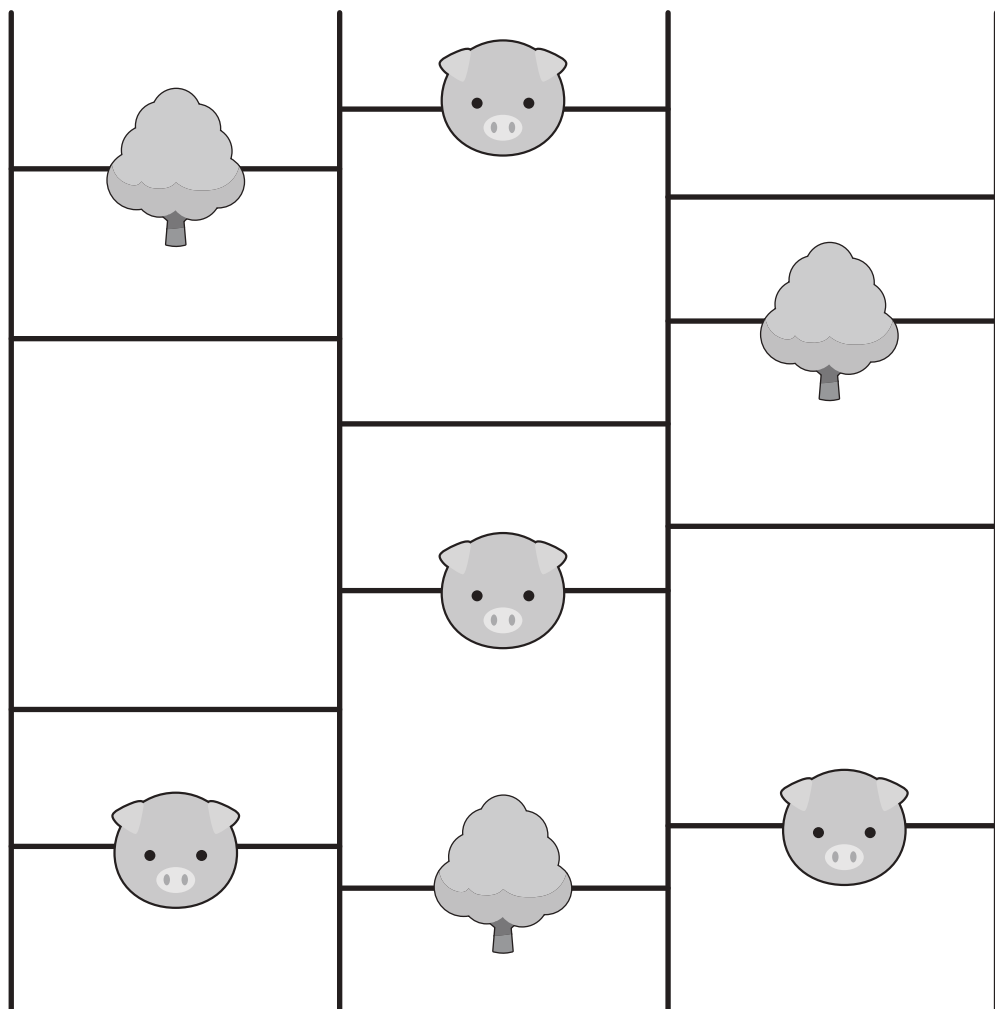


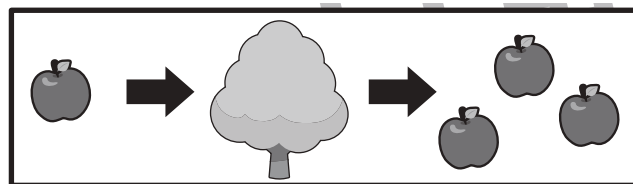

おうちで、やろう。

Study at home. 小学校受験の家庭学習教材

推理：あみだくじ⑨

動物はそれぞれリンゴを持っています。あみだくじで進み、途中でブタに会うと1つ減り、木を通り過ぎると2つ増えます。この約束であみだくじを通った後に持っていたリンゴの数だけ下の着いた四角の中に○をかきます。

※あみだくじのルール：①上から下へ進みます。道は戻ってはいけません。②途中で曲がり角があったら必ず曲がります。



○ × 4

○ × 3

○ × 6

○ × 1

※1. このプリントは、しながわ・目黒こどもスクールのウェブサイトでダウンロードができます。無断複写・引用はご遠慮ください。
 ※2. このプリントを活用したオンライン授業のスケジュールは、しながわ・目黒こどもスクールのウェブサイトでご確認ください。




おうちで、やろう。

Study at home. 小学校受験の家庭学習教材

推理：回転5

上の観覧車が矢印の方向に回ったとき、黒マルの場所にどの動物が入るか考えて右の四角から選び○をつけます。



目黒
ルール

--	--	--	--

--	--	--	--

※1. このプリントは、しながわ・目黒こどもスクールのウェブサイトからダウンロードできます。無断複写・引用はご遠慮ください。
 ※2. このプリントを活用したオンライン授業のスケジュールは、しながわ・目黒こどもスクールのウェブサイトでご確認ください。






おうちで、やろう。

Study at home. 小学校受験の家庭学習教材

推理：回転6

上の観覧車が矢印の方向に回ったとき、黒マルの場所にどの動物が入るか考えて右の四角から選び○をつけます。



※1. このプリントは、しながわ・目黒こどもスクールのウェブサイトでダウンロードができます。無断複写・引用はご遠慮ください。
 ※2. このプリントを活用したオンライン授業のスケジュールは、しながわ・目黒こどもスクールのウェブサイトでご確認ください。








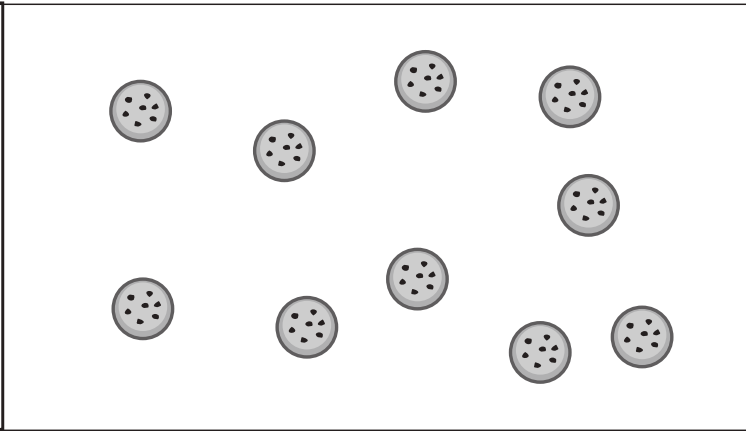


おうちで、やろう。

Study at home. 小学校受験の家庭学習教材

数量：余る数 8

左の四角の中の袋がお手本です。真ん中の大きな四角の中のクッキーでお手本の袋を 3 つ作ります。
このとき、余るクッキーはいくつですか。その数だけ一番右の四角に○をかきます。



※1. このプリントは、しながわ・目黒こどもスクールのウェブサイトでダウンロードができます。無断複写・引用はご遠慮ください。
※2. このプリントを活用したオンライン授業のスケジュールは、しながわ・目黒こどもスクールのウェブサイトでご確認ください。











おうちで、やろう。

Study at home. 小学校受験の家庭学習教材

数量：余る数9

左の四角の中の袋がお手本です。真ん中の大きな四角の中の果物でお手本の袋を2つ作ります。
このとき、余る果物はそれぞれいくつですか。その数だけ一番右の四角に○をかきます。余らない場合は何も書きません。

		 ○ × 2 <hr/>  ○ × 3
		 ○ × 1 <hr/>  ○ × 3
		 ○ × 3 <hr/>  ○ × 1
		 ○ × 4 <hr/>  ○

※1. このプリントは、しながわ・目黒こどもスクールのウェブサイトでダウンロードができます。無断複写・引用はご遠慮ください。

※2. このプリントを活用したオンライン授業のスケジュールは、しながわ・目黒こどもスクールのウェブサイトでご確認ください。





おうちで、やろう。


Study at home. 小学校受験の家庭学習教材

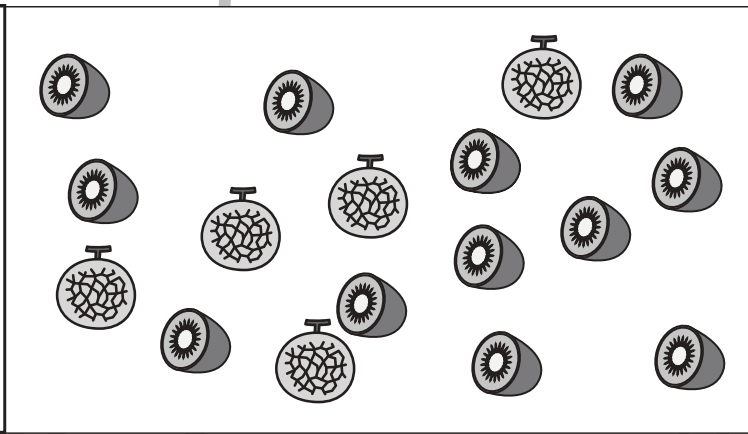

数量：余る数 10


左の四角の中の袋がお手本です。真ん中の大きな四角の中の果物でお手本の袋を3つ作ります。
このとき、余る果物はそれぞれいくつですか。その数だけ一番右の四角に○をかきます。余らない場合は何も書きません。





 ○ × 2


 ○ × 3






 ○ × 3


 ○ × 2




 ○ × 2







 ○ × 4

※1. このプリントは、しながわ・目黒こどもスクールのウェブサイトでダウンロードができます。無断複写・引用はご遠慮ください。
※2. このプリントを活用したオンライン授業のスケジュールは、しながわ・目黒こどもスクールのウェブサイトでご確認ください。