



おうちで、やろう。

Study at home. 小学校受験の家庭学習教材

指示の聞き取り 24

お話を聞いた後で動物たちがそれぞれじゃんけんで何を出したか考えて線を引きましょう。

- ①ブタはグー、ネコはチョキ、クマはパーを出してあいこになりました。
- ②3匹はみんなが違う手を出してあいこになりました。クマはチョキ、ネコはグーを出しました。
- ③クマとブタはチョキを出してネコに勝ちました。
- ④クマはグーを出してみんなに負けました。

①

②

③

④

※1. このプリントは、しながわ・目黒こどもスクールのウェブサイトでダウンロードができます。無断複写・引用はご遠慮ください。

※2. このプリントを活用したオンライン授業のスケジュールは、しながわ・目黒こどもスクールのウェブサイトでご確認ください。

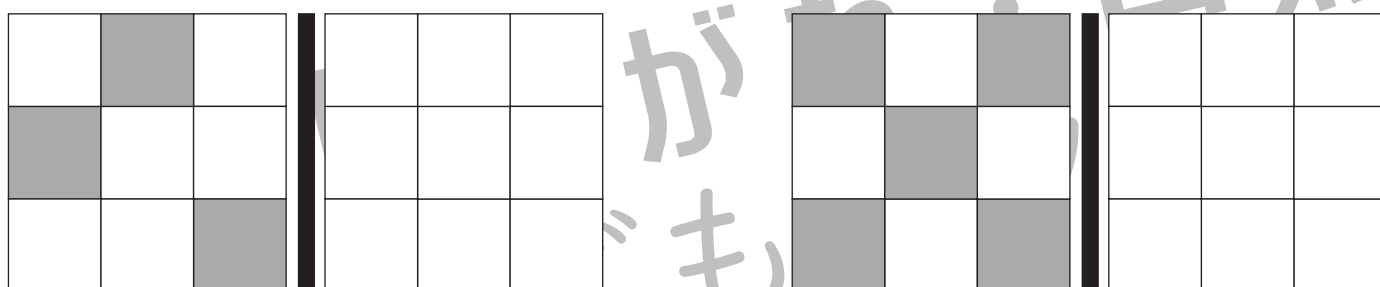
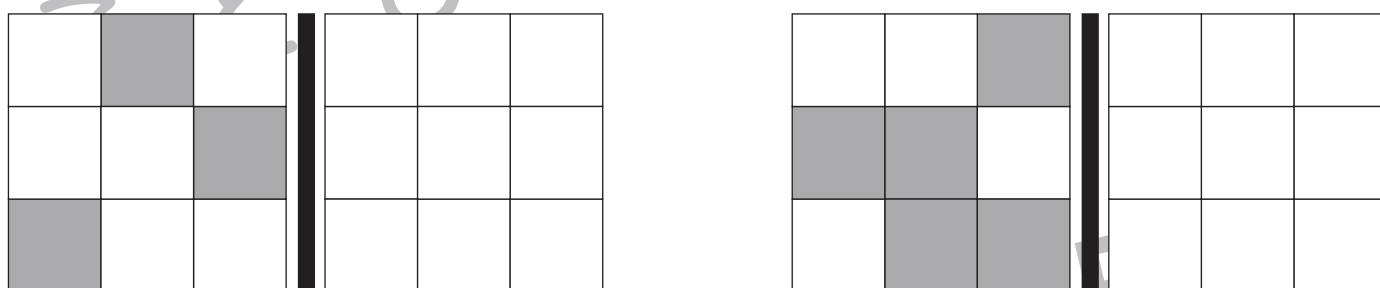
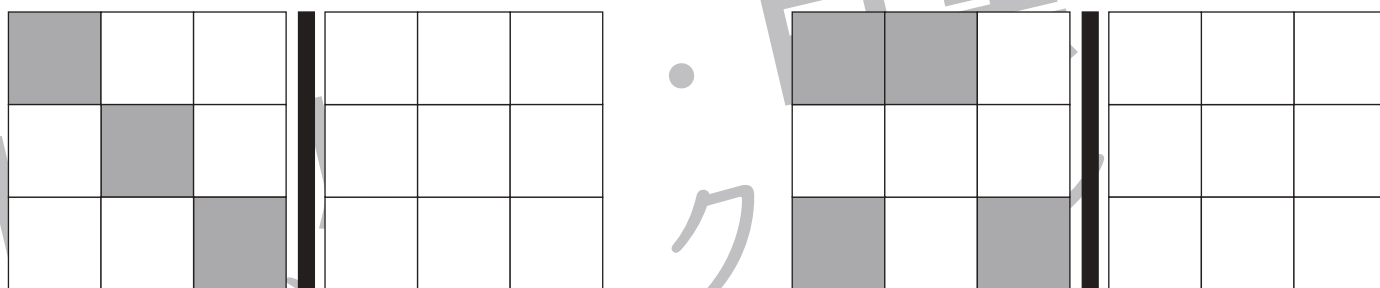

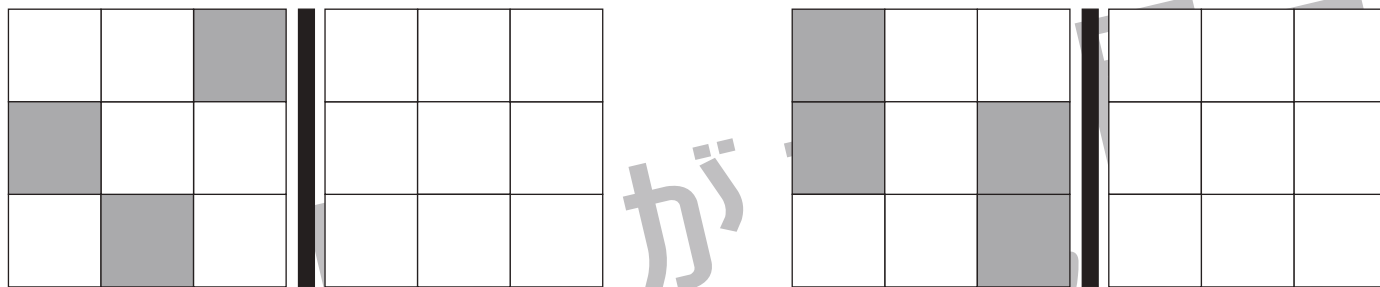


おうちで、やろう。

Study at home. 小学校受験の家庭学習教材

図形：鏡 28

左のお手本を黒い線の上に鏡を置いて見ると、どのように見えますか。右の四角の中に黒く色を塗ります。



※1. このプリントは、しながわ・目黒こどもスクールのウェブサイトでダウンロードができます。無断複写・引用はご遠慮ください。
 ※2. このプリントを活用したオンライン授業のスケジュールは、しながわ・目黒こどもスクールのウェブサイトでご確認ください。

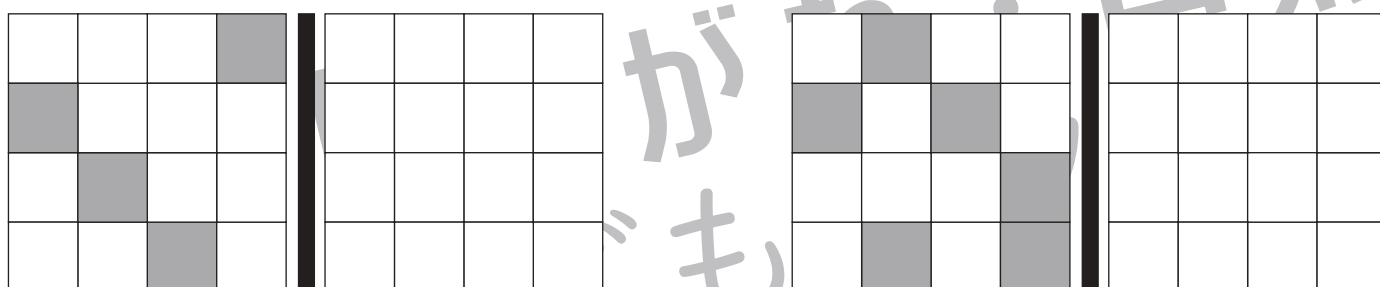
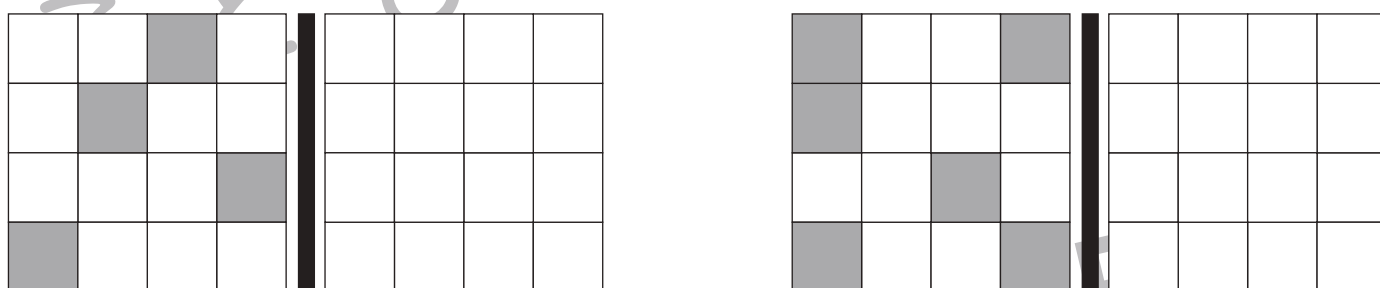
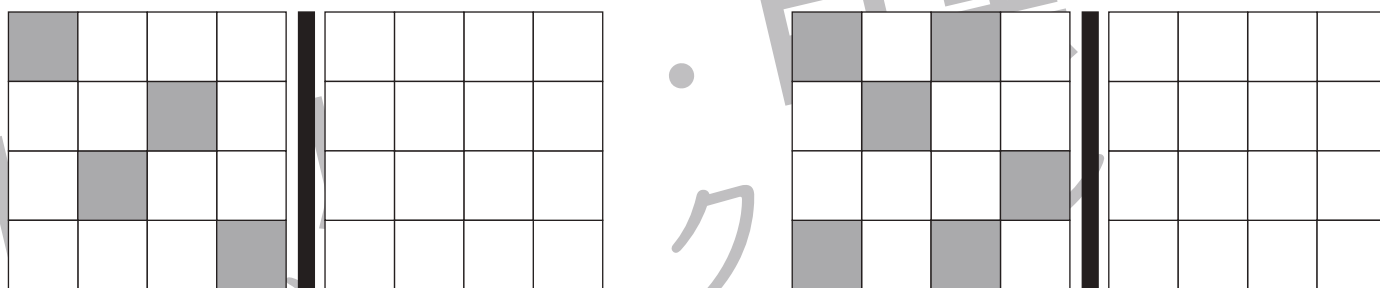

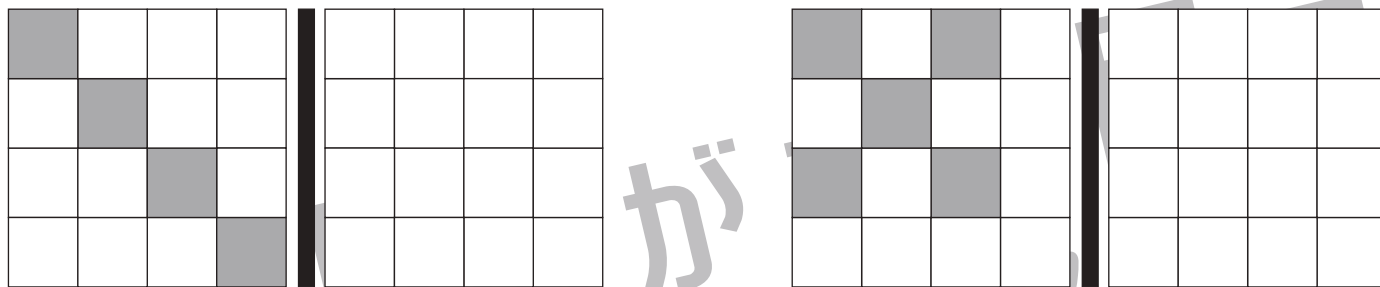


おうちで、やろう。

Study at home. 小学校受験の家庭学習教材

図形：鏡 29

左のお手本を黒い線の上に鏡を置いて見ると、どのように見えますか。右の四角の中に黒く色を塗ります。



※1. このプリントは、しながわ・目黒こどもスクールのウェブサイトでダウンロードができます。無断複写・引用はご遠慮ください。
 ※2. このプリントを活用したオンライン授業のスケジュールは、しながわ・目黒こどもスクールのウェブサイトでご確認ください。



おうちで、やろう。

Study at home. 小学校受験の家庭学習教材

図形：鏡 30

左のお手本を黒い線の上に鏡を置いて見ると、どのように見えますか。右の四角の中に黒く色を塗ります。

Figure 30 consists of five rows of visual puzzles. Each row contains a 4x4 grid on the left with a vertical black line to its right, and another 4x4 grid on the right. The left grid shows a pattern of shaded cells, and the right grid is a mirror image of the left grid across the vertical line. The goal is to identify the shaded pattern in the right grid.

White	White	White	White	Black	Black	Black	Black
White	White	White	White	White	White	White	White
White	White	White	White	White	White	White	White
White	White	White	White	White	White	White	White

White	White	White	White	White	White	White	White
White	White	White	White	White	White	White	White
White	White	White	White	White	White	White	White
White	White	White	White	White	White	White	White

White	White	White	White	White	White	White	White
White	White	White	White	White	White	White	White
White	White	White	White	White	White	White	White
White	White	White	White	White	White	White	White

White	White	White	White	White	White	White	White
White	White	White	White	White	White	White	White
White	White	White	White	White	White	White	White
White	White	White	White	White	White	White	White

White	White	White	White	White	White	White	White
White	White	White	White	White	White	White	White
White	White	White	White	White	White	White	White
White	White	White	White	White	White	White	White

※1. このプリントは、しながわ・目黒こどもスクールのウェブサイトでダウンロードができます。無断複写・引用はご遠慮ください。
 ※2. このプリントを活用したオンライン授業のスケジュールは、しながわ・目黒こどもスクールのウェブサイトでご確認ください。


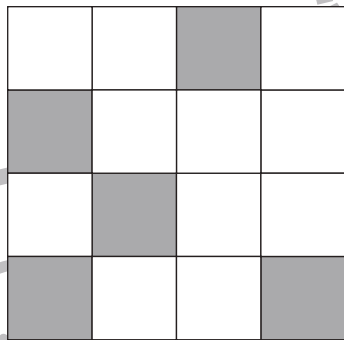








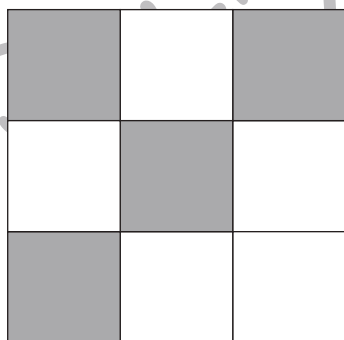






おうちで、やろう。

Study at home. 小学校受験の家庭学習教材

図形：重ね 39

左の野菜や果物がかいてある四角に、右の色が塗ってある透明な板を重ねた時、色が塗ってあるマスに隠れるものを右の太い四角の中から選んで○をつけます。



※1. このプリントは、しながわ・目黒こどもスクールのウェブサイトからダウンロードができます。無断複写・引用はご遠慮ください。

※2. このプリントを活用したオンライン授業のスケジュールは、しながわ・目黒こどもスクールのウェブサイトでご確認ください。


















おうちで、やろう。

Study at home. 小学校受験の家庭学習教材

図形：重ね 40

左の生き物がかいてある四角に、右の色が塗ってある透明な板を重ねた時、色が塗ってあるマスに隠れないものを右の太い四角の中から選んで○をつけます。



※1. このプリントは、しながわ・目黒こどもスクールのウェブサイトからダウンロードができます。無断複写・引用はご遠慮ください。
※2. このプリントを活用したオンライン授業のスケジュールは、しながわ・目黒こどもスクールのウェブサイトでご確認ください。





おうちで、やろう。

Study at home. 小学校受験の家庭学習教材

図形：重ね 41

左の記号がかいてある四角に、右の色が塗ってある透明な板を重ねた時、黒色のマスに隠れるものには○を、灰色のマスに隠れるものには×を、右の太い四角の中の絵につけます。

※1. このプリントは、しながわ・目黒こどもスクールのウェブサイトでダウンロードができます。無断複写・引用はご遠慮ください。

※2. このプリントを活用したオンライン授業のスケジュールは、しながわ・目黒こどもスクールのウェブサイトでご確認ください。




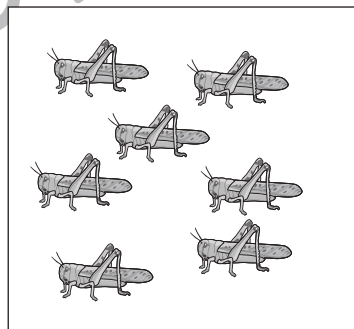


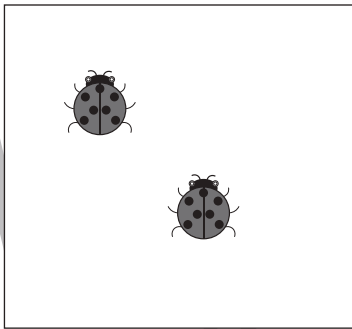




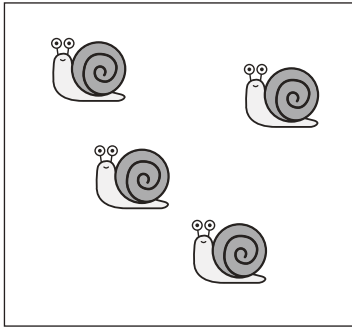


おうちで、やろう。

Study at home. 小学校受験の家庭学習教材

数量：加減 30

左の四角の中の生き物が、右の四角の数になりました。生き物はいくつ増えましたか。増えた分だけ、右の太い四角の中に○をかきます。



※1. このプリントは、しながわ・目黒こどもスクールのウェブサイトでダウンロードができます。無断複写・引用はご遠慮ください。
※2. このプリントを活用したオンライン授業のスケジュールは、しながわ・目黒こどもスクールのウェブサイトでご確認ください。










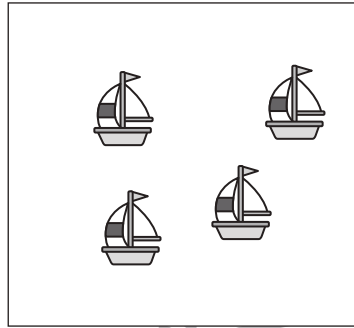



おうちで、やろう。

Study at home. 小学校受験の家庭学習教材

数量：加減 31

左の四角の中の乗り物が、右の四角の数になりました。乗り物はいくつ減りましたか。減った分だけ、右の太い四角の中に○をかきます。



※1. このプリントは、しながわ・目黒こどもスクールのウェブサイトからダウンロードできます。無断複写・引用はご遠慮ください。
※2. このプリントを活用したオンライン授業のスケジュールは、しながわ・目黒こどもスクールのウェブサイトでご確認ください。

