



おうちで、やろう。

Study at home. 小学校受験の家庭学習教材

指示の聞き取り 21

- 棚におもちゃが入っています。①～④のお話を聞いておもちゃに○をつけます。
- ①上から3段目の右から3番目のおもちゃに○をつけます。
 - ②下から2段目の一番左のおもちゃに○をつけます。
 - ③左から2列目の一番上の段のおもちゃに○をつけます。
 - ④右から2列目の下から3段目のおもちゃに○をつけます。

※1. このプリントは、しながわ・目黒こどもスクールのウェブサイトでダウンロードができます。無断複写・引用はご遠慮ください。
 ※2. このプリントを活用したオンライン授業のスケジュールは、しながわ・目黒こどもスクールのウェブサイトでご確認ください。


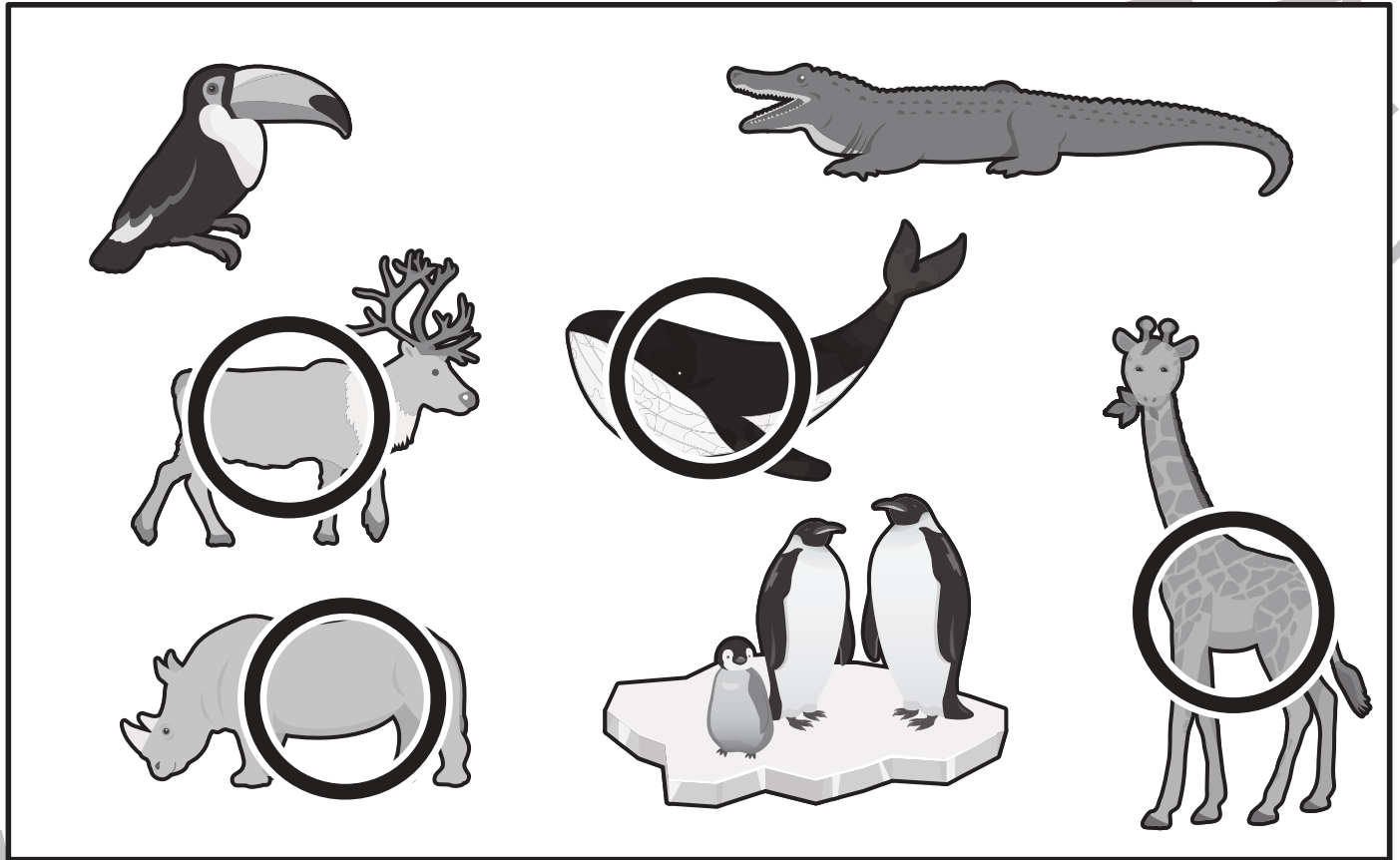


おうちで、やろう。

Study at home. 小学校受験の家庭学習教材

常識：生物 7

それぞれの四角の中で、赤ちゃんで生まれてくる生き物に○をつけます。



※1. このプリントは、しながわ・目黒こどもスクールのウェブサイトからダウンロードできます。無断複写・引用はご遠慮ください。

※2. このプリントを活用したオンライン授業のスケジュールは、しながわ・目黒こどもスクールのウェブサイトでご確認ください。

















おうちで、やろう。

Study at home. 小学校受験の家庭学習教材

図形：オセロ1

四角の中の●と●で挟まれた○を(たて・よこ・ななめ)すべて塗ります。自分で塗った●で挟まれた箇所は塗らないように注意しましょう。



※1. このプリントは、しながわ・目黒こどもスクールのウェブサイトでダウンロードができます。無断複写・引用はご遠慮ください。

※2. このプリントを活用したオンライン授業のスケジュールは、しながわ・目黒こどもスクールのウェブサイトでご確認ください。















おうちで、やろう。

Study at home. 小学校受験の家庭学習教材

図形：オセロ2

四角の中の●と●で挟まれた○を(たて・よこ・ななめ)すべて塗ります。自分で塗った●で挟まれた箇所は塗らないように注意しましょう。



※1. このプリントは、しながわ・目黒こどもスクールのウェブサイトでダウンロードができます。無断複写・引用はご遠慮ください。

※2. このプリントを活用したオンライン授業のスケジュールは、しながわ・目黒こどもスクールのウェブサイトでご確認ください。






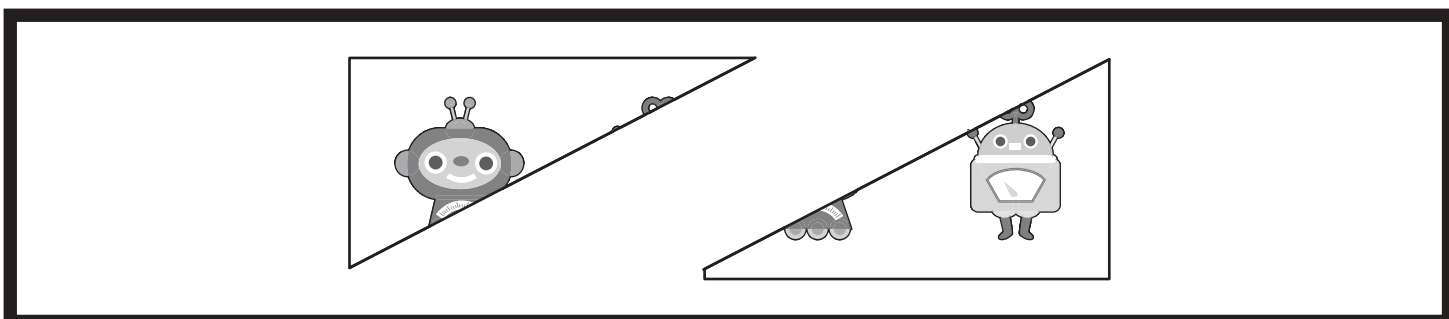

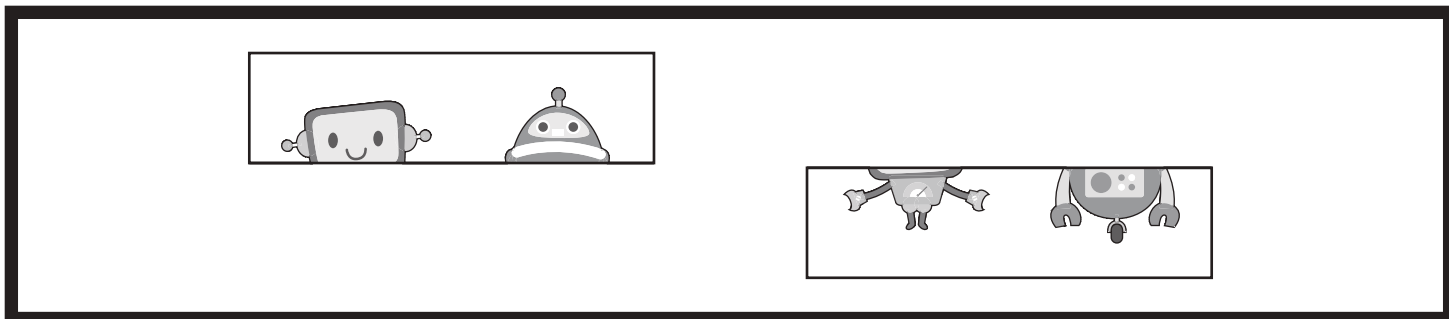


おうちで、やろう。

Study at home. 小学校受験の家庭学習教材

図形：絵の合成 1

太い四角の中の絵を一枚になるように合わせたときの見え方を考えて、下の四角の中から答えを選び○をつけます。



※1. このプリントは、しながわ・目黒こどもスクールのウェブサイトでダウンロードができます。無断複写・引用はご遠慮ください。

※2. このプリントを活用したオンライン授業のスケジュールは、しながわ・目黒こどもスクールのウェブサイトでご確認ください。





おうちで、やろう。

Study at home. 小学校受験の家庭学習教材

図形：重ね 34

左と真ん中のマスを星同士が重なる様にぴったり重ねた時、どのように見えるかを考えて、一番右のマスを色を塗り、印をかきます。

	$+$		$=$	
	$+$		$=$	
	$+$		$=$	
	$+$		$=$	
	$+$		$=$	
	$+$		$=$	

※1. このプリントは、しながわ・目黒こどもスクールのウェブサイトでダウンロードができます。無断複写・引用はご遠慮ください。

※2. このプリントを活用したオンライン授業のスケジュールは、しながわ・目黒こどもスクールのウェブサイトでご確認ください。



おうちで、やろう。

Study at home. 小学校受験の家庭学習教材

図形：重ね 35

それぞれの形は透明な板でできています。左の形を太い線のところで矢印の向きに折り重ねたあと、中央のマスを重ねたときの見え方を考えます。その見え方を一番右の四角にかきます。

	+		=	
	+		=	
	+		=	
	+		=	
	+		=	

※1. このプリントは、しながわ・目黒こどもスクールのウェブサイトでダウンロードができます。無断複写・引用はご遠慮ください。

※2. このプリントを活用したオンライン授業のスケジュールは、しながわ・目黒こどもスクールのウェブサイトでご確認ください。



おうちで、やろう。

Study at home. 小学校受験の家庭学習教材

図形：重ね 36

四角の左側には、角に星がかかれたマスがあります。そのマスを真ん中にあるマスの星の位置にぴったり合うように重ね、太い線の所で折り重ねたとき、どのように見えるかを考えて、右の四角の中に色を塗り、印をかきます。

	+		=	
	+		=	
	+		=	
	+		=	
	+		=	

※1. このプリントは、しながわ・目黒こどもスクールのウェブサイトでダウンロードができます。無断複写・引用はご遠慮ください。

※2. このプリントを活用したオンライン授業のスケジュールは、しながわ・目黒こどもスクールのウェブサイトでご確認ください。



おうちで、やろう。

Study at home. 小学校受験の家庭学習教材

推理：輪つなぎ 10

太い四角の中はひもにいろいろなビーズを通したものです。このひもの端と端を結びプレスレットを作ると、右の四角の中のどれになりますか。正しいものに○をつけます。プレスレットは裏返しにしてはいけません。

※1. このプリントは、しながわ・目黒こどもスクールのウェブサイトからダウンロードできます。無断複写・引用はご遠慮ください。

※2. このプリントを活用したオンライン授業のスケジュールは、しながわ・目黒こどもスクールのウェブサイトでご確認ください。




おうちで、やろう。

Study at home. 小学校受験の家庭学習教材

処理能力：抹消6

上の太い四角の中がお手本です。下のマスに絵がたくさん並んでいます。この中でお手本の絵と同じ絵に○をつけます。ただし、進む方向は左上のセルからはじめて右へ進み、右端まできたら2段目の左から右へと順番に進みます。

※お手本の点線をなぞってから先に進みましょう。



ICT教育の小学校受験

※1. このプリントは、しながわ・目黒こどもスクールのウェブサイトからダウンロードできます。無断複写・引用はご遠慮ください。

※2. このプリントを活用したオンライン授業のスケジュールは、しながわ・目黒こどもスクールのウェブサイトでご確認ください。