



おうちで、やろう。

Study at home. 小学校受験の家庭学習教材

図形：マッチ7

四角の中の形をそれぞれの下にあるマッチで作ります。
全部で何本あれば上の形ができるのかを考えてその数だけ下の四角に○をかきます。

※1. このプリントは、しながわ・目黒こどもスクールのウェブサイトでダウンロードができます。無断複写・引用はご遠慮ください。
 ※2. このプリントを活用したオンライン授業のスケジュールは、しながわ・目黒こどもスクールのウェブサイトでご確認ください。



おうちで、やろう。

Study at home. 小学校受験の家庭学習教材

図形：マッチ8

四角の中の形をそれぞれの下にあるマッチで作ります。
全部で何本あれば上の形ができるのかを考えてその数だけ下の四角に○をかきます。

※1. このプリントは、しながわ・目黒こどもスクールのウェブサイトでダウンロードができます。無断複写・引用はご遠慮ください。
 ※2. このプリントを活用したオンライン授業のスケジュールは、しながわ・目黒こどもスクールのウェブサイトでご確認ください。



おうちで、やろう。


Study at home. 小学校受験の家庭学習教材

推理：条件推理 33

下のルールにしたがって同じ絵を鉛筆でつなげましょう。

ルール

- ①同じ動物どうしを、線でつなげます。
- ②白い線の間しか線を結ぶことができません。
- ③線は、交わってはいけません。(※1)
- ④全てのマス目に線が通ります。
- ⑤動物のいるマス目は通り抜けることができません。



※1. このプリントは、しながわ・目黒こどもスクールのウェブサイトでダウンロードができます。無断複写・引用はご遠慮ください。
 ※2. このプリントを活用したオンライン授業のスケジュールは、しながわ・目黒こどもスクールのウェブサイトでご確認ください。



おうちで、やろう。


Study at home. 小学校受験の家庭学習教材

推理：条件推理 34

下のルールにしたがって同じ絵を鉛筆でつなげましょう。

ルール

- ①同じ動物どうしを、線でつなげます。
- ②白い線の間しか線を結ぶことができません。
- ③線は、交わってはいけません。(※1)
- ④全てのマス目に線が通ります。
- ⑤動物のいるマス目は通り抜けることができません。



※1. このプリントは、しながわ・目黒こどもスクールのウェブサイトでダウンロードができます。無断複写・引用はご遠慮ください。
 ※2. このプリントを活用したオンライン授業のスケジュールは、しながわ・目黒こどもスクールのウェブサイトでご確認ください。



おうちで、やろう。


Study at home. 小学校受験の家庭学習教材

推理：条件推理 35

下のルールにしたがって同じ絵を鉛筆でつなげましょう。

ルール

- ①同じ動物どうしを、線でつなげます。
- ②白い線の間しか線を結ぶことができません。
- ③線は、交わってはいけません。(※1)
- ④全てのマス目に線が通ります。
- ⑤動物のいるマス目は通り抜けることができません。



※1. このプリントは、しながわ・目黒こどもスクールのウェブサイトでダウンロードができます。無断複写・引用はご遠慮ください。
 ※2. このプリントを活用したオンライン授業のスケジュールは、しながわ・目黒こどもスクールのウェブサイトでご確認ください。



おうちで、やろう。

Study at home. 小学校受験の家庭学習教材

数量：多少 12

横に並んだ3つの四角の中で、黒丸の数が一番多い四角に○をつけます。

●			●						●		●	●					●
					●	●		●							●	●	
			●		●					●			●		●		●
								●									
●		●			●	●			●		●	●		●		●	

●			●		●		●	●		●		●			●		●
	●							●			●						●
					●	●			●			●			●		
										●				●			●
●			●		●	●		●			●	●			●		

●		●			●						●			●			●
									●			●		●			
	●		●		●	●				●					●		
									●					●		●	
	●		●		●	●					●	●					

※1. このプリントは、しながわ・目黒こどもスクールのウェブサイトからダウンロードができます。無断複写・引用はご遠慮ください。
 ※2. このプリントを活用したオンライン授業のスケジュールは、しながわ・目黒こどもスクールのウェブサイトでご確認ください。



おうちで、やろう。

Study at home. 小学校受験の家庭学習教材

数量：多少 13

横に並んだ3つの四角の中で、黒丸の数が一番少ない四角に○をつけます。

	●	●		●		●		●	●		●	●	●	●			
	●	●		●		●		●	●		●	●	●	●			
	●	●		●		●		●	●		●	●	●	●			
	●	●		●		●		●	●		●	●	●	●			
	●	●	●	●		●		●	●		●	●	●	●			

●	●		●	●		●			●	●			●	●	●		
●	●		●	●		●			●	●			●	●	●		
●	●		●	●		●			●	●			●	●	●		
●	●		●	●		●			●	●			●	●	●		
●	●		●	●		●			●	●			●	●	●	●	●

●	●	●	●	●	●	●	●	●	●	●	●	●	●	●	●	●	●
●	●					●	●	●	●	●	●						
●	●											●	●	●	●	●	●

※1. このプリントは、しながわ・目黒こどもスクールのウェブサイトでダウンロードができます。無断複写・引用はご遠慮ください。
 ※2. このプリントを活用したオンライン授業のスケジュールは、しながわ・目黒こどもスクールのウェブサイトでご確認ください。







おうちで、やろう。

Study at home. 小学校受験の家庭学習教材

巧緻性：ちぎり6

①点線をはさみで切ります。

②それぞれの絵の周りの太い線の上をちぎりましょう。



※1. このプリントは、しながわ・目黒こどもスクールのウェブサイトでダウンロードができます。無断複写・引用はご遠慮ください。

※2. このプリントを活用したオンライン授業のスケジュールは、しながわ・目黒こどもスクールのウェブサイトでご確認ください。





おうちで、やろう。

Study at home. 小学校受験の家庭学習教材

巧緻性：ちぎり7

①点線をはさみで切ります。

②それぞれの絵の周りの太い線の上をちぎりましょう。



※1. このプリントは、しながわ・目黒こどもスクールのウェブサイトでダウンロードができます。無断複写・引用はご遠慮ください。

※2. このプリントを活用したオンライン授業のスケジュールは、しながわ・目黒こどもスクールのウェブサイトでご確認ください。






おうちで、やろう。

Study at home. 小学校受験の家庭学習教材

巧緻性：ちぎり8

- ①点線をはさみで切ります。
- ②アイスクャンディーに色や模様をつけてから黒い線の上をちぎります。



※1. このプリントは、しながわ・目黒こどもスクールのウェブサイトでダウンロードができます。無断複写・引用はご遠慮ください。
※2. このプリントを活用したオンライン授業のスケジュールは、しながわ・目黒こどもスクールのウェブサイトでご確認ください。