



おうちで、やろう。

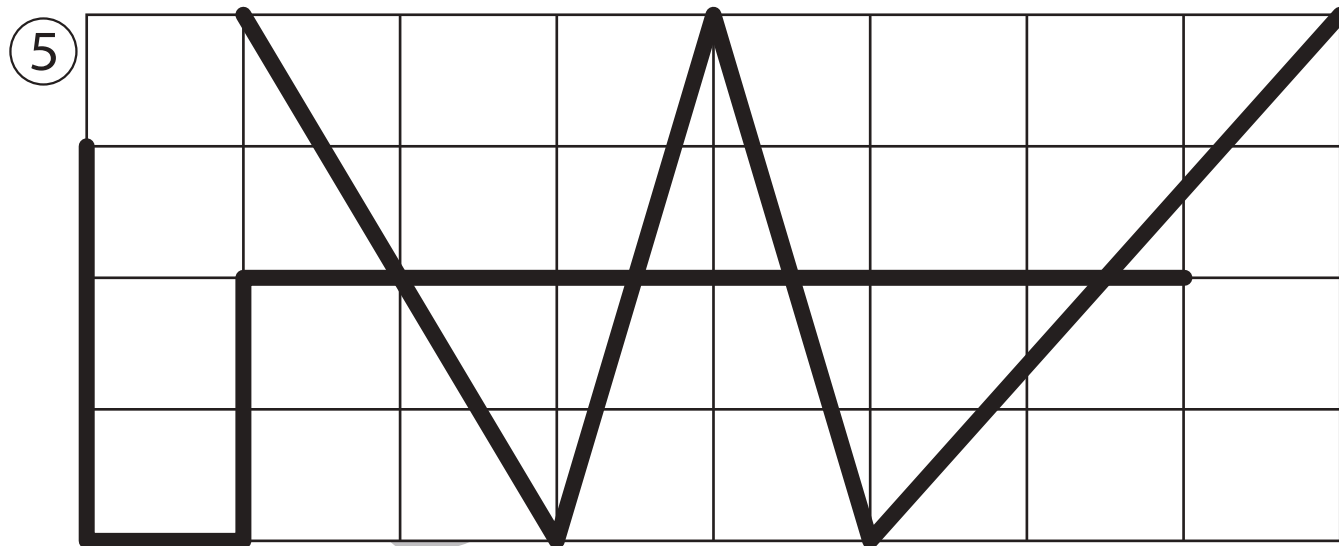
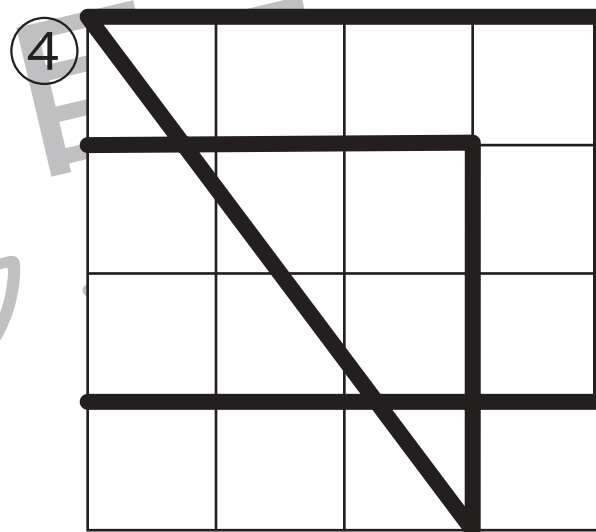
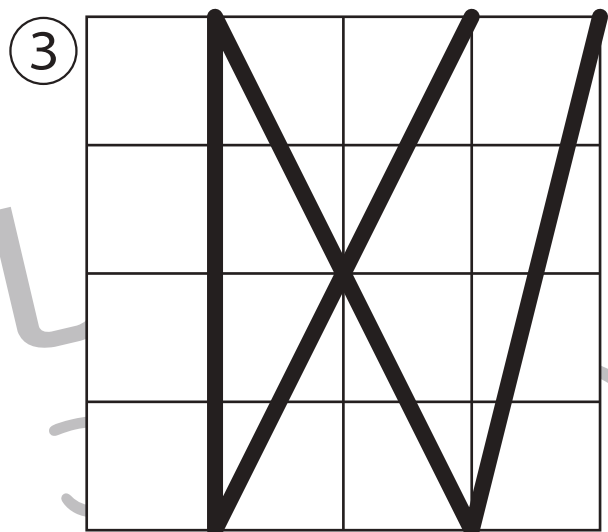

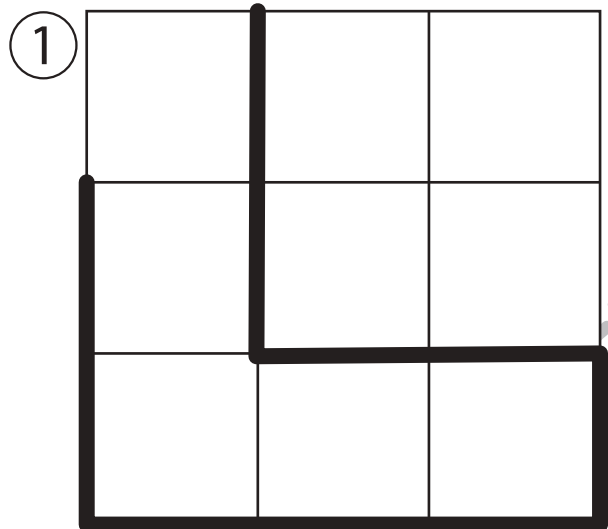
Study at home. 小学校受験の家庭学習教材

運筆：模写 21 (お手本)

別紙『運筆：模写 21』を使用し、お手本と同じになるように描きます。

このプリントを前に掲示して、お手本と同じになるように記号や線をかきます。

※2023年6月30日(金)のオンライン授業ではお手本を1問ずつ画面にうつして取り組みます。



※1. このプリントは、しながわ・目黒こどもスクールのウェブサイトからダウンロードできます。無断複写・引用はご遠慮ください。

※2. このプリントを活用したオンライン授業のスケジュールは、しながわ・目黒こどもスクールのウェブサイトでご確認ください。





おうちで、やろう。

Study at home. 小学校受験の家庭学習教材

運筆：模写 21

別紙『運筆：模写 21（お手本）』を使用し、お手本と同じになるように描きます。
このプリントには解答はありませんので、お手本のプリントで確認してください。
※2023年6月30日（金）のオンライン授業ではお手本を1問ずつ画面にうつして取り組みます。

①

②

③

④

⑤

※1. このプリントは、しながわ・目黒こどもスクールのウェブサイトからダウンロードできます。無断複写・引用はご遠慮ください。
※2. このプリントを活用したオンライン授業のスケジュールは、しながわ・目黒こどもスクールのウェブサイトでご確認ください。

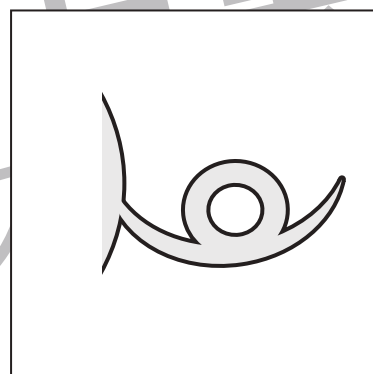

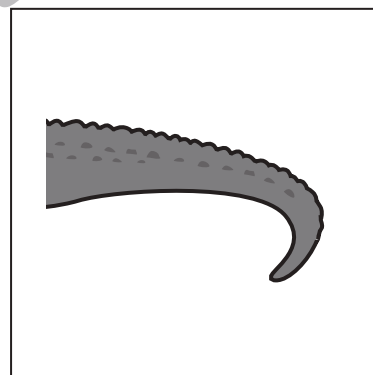

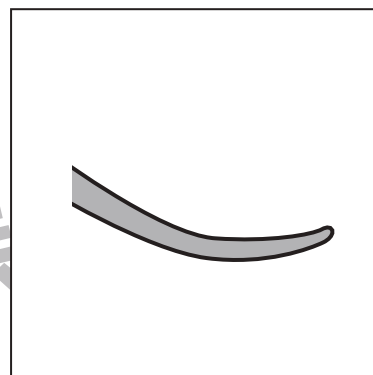

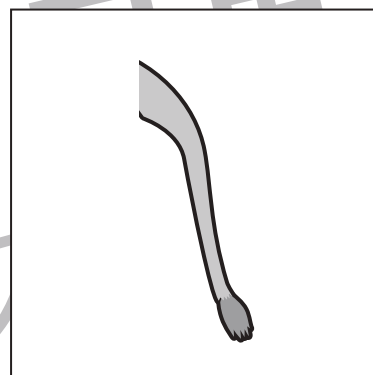



おうちで、やろう。

Study at home. 小学校受験の家庭学習教材

常識：生物 9

左の四角のしっぽを右の四角に中から見つけて点と点を線で結びます。



※1. このプリントは、しながわ・目黒こどもスクールのウェブサイトでダウンロードができます。無断複写・引用はご遠慮ください。
※2. このプリントを活用したオンライン授業のスケジュールは、しながわ・目黒こどもスクールのウェブサイトでご確認ください。





おうちで、やろう。

Study at home. 小学校受験の家庭学習教材

図形：反転5

左の四角は縦に3マスつながった透明な板が3段あり、真ん中の段に棒がついています。その棒を軸に矢印がかかれた列だけを裏返しにしたとき、黒丸になる場所を考えて右の四角の○を塗ります。

※1. このプリントは、しながわ・目黒こどもスクールのウェブサイトからダウンロードできます。無断複写・引用はご遠慮ください。

※2. このプリントを活用したオンライン授業のスケジュールは、しながわ・目黒こどもスクールのウェブサイトでご確認ください。



おうちで、やろう。

Study at home. 小学校受験の家庭学習教材

図形：反転 6

左の四角は縦に3マスつながった透明な板が3段あり、真ん中の段に棒がついています。その棒を軸に矢印がかかれた列だけを裏返しにしたとき、どのように見えるかを考えて、右の四角の中にかきます。

※1. このプリントは、しながわ・目黒こどもスクールのウェブサイトからダウンロードできます。無断複写・引用はご遠慮ください。

※2. このプリントを活用したオンライン授業のスケジュールは、しながわ・目黒こどもスクールのウェブサイトでご確認ください。



おうちで、やろう。

Study at home. 小学校受験の家庭学習教材

図形：反転7

左の四角は縦に3マスつながった透明な板が3段あり、真ん中の段に棒がついています。その棒を軸に矢印がかかれた列だけを裏返しにしたとき、どのように見えるかを考えて、右の四角の中にかきます。

※1. このプリントは、しながわ・目黒こどもスクールのウェブサイトでダウンロードができます。無断複写・引用はご遠慮ください。

※2. このプリントを活用したオンライン授業のスケジュールは、しながわ・目黒こどもスクールのウェブサイトでご確認ください。

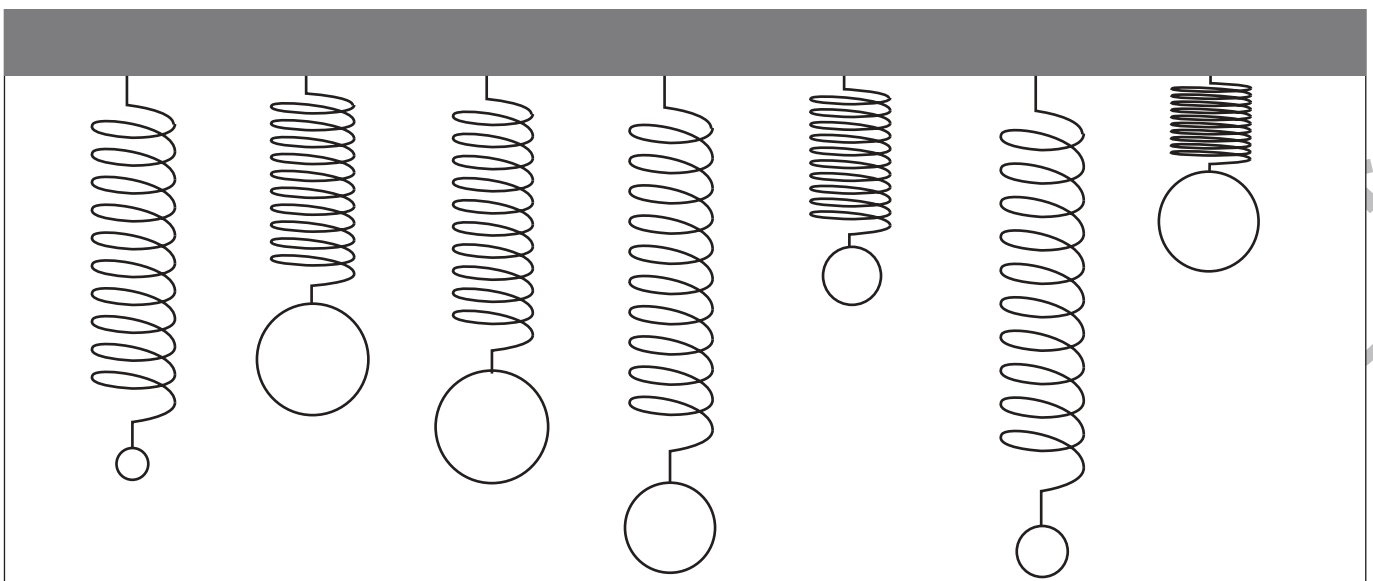
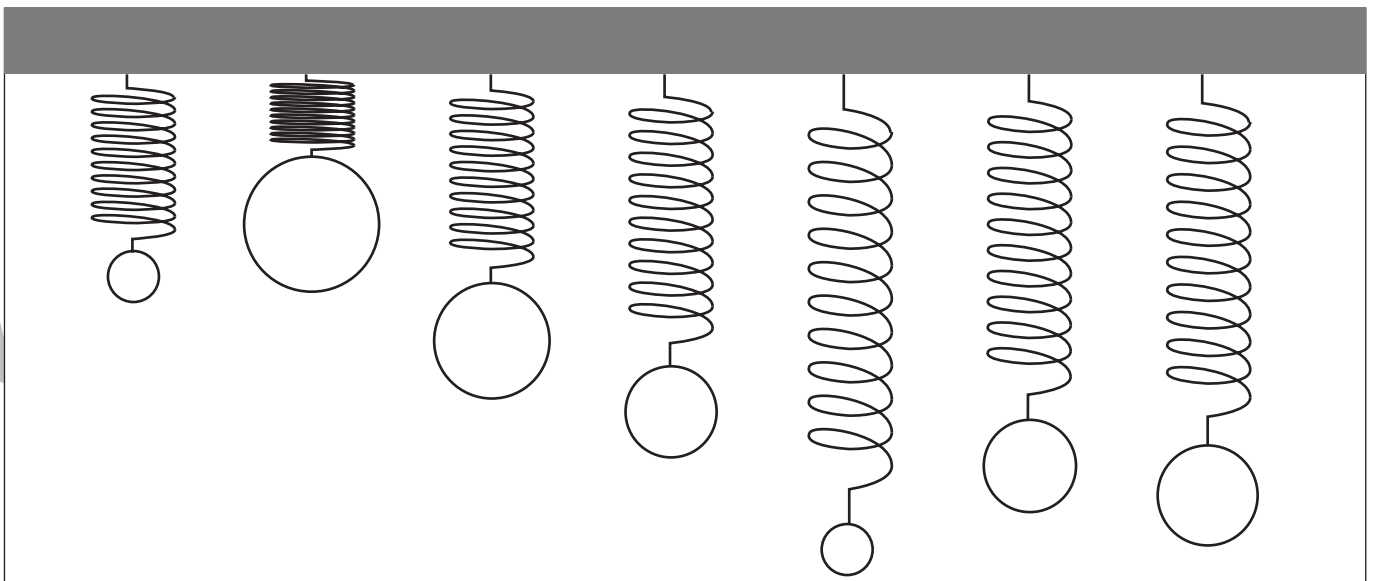
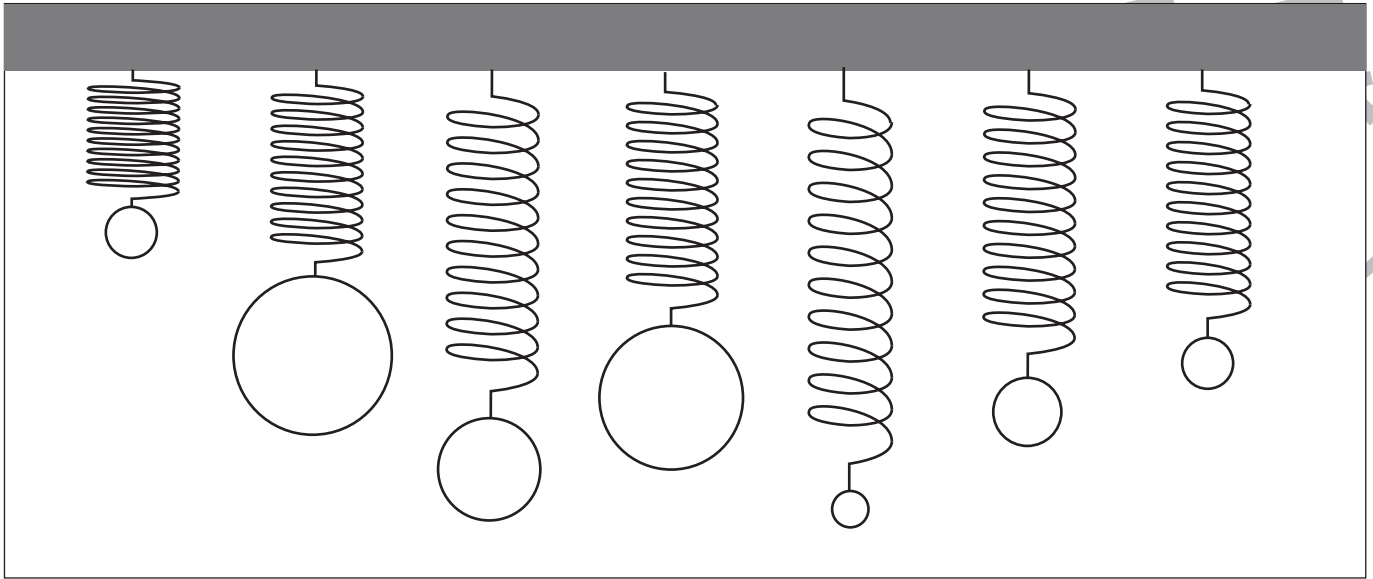


おうちで、やろう。

Study at home. 小学校受験の家庭学習教材

推理：重さ 15

バネにボールをつるして重さ比べをしました。2 番目に重いボールには青で、2 番目に軽いボールには緑でボールを塗ります。



※1. このプリントは、しながわ・目黒こどもスクールのウェブサイトでダウンロードができます。無断複写・引用はご遠慮ください。

※2. このプリントを活用したオンライン授業のスケジュールは、しながわ・目黒こどもスクールのウェブサイトでご確認ください。

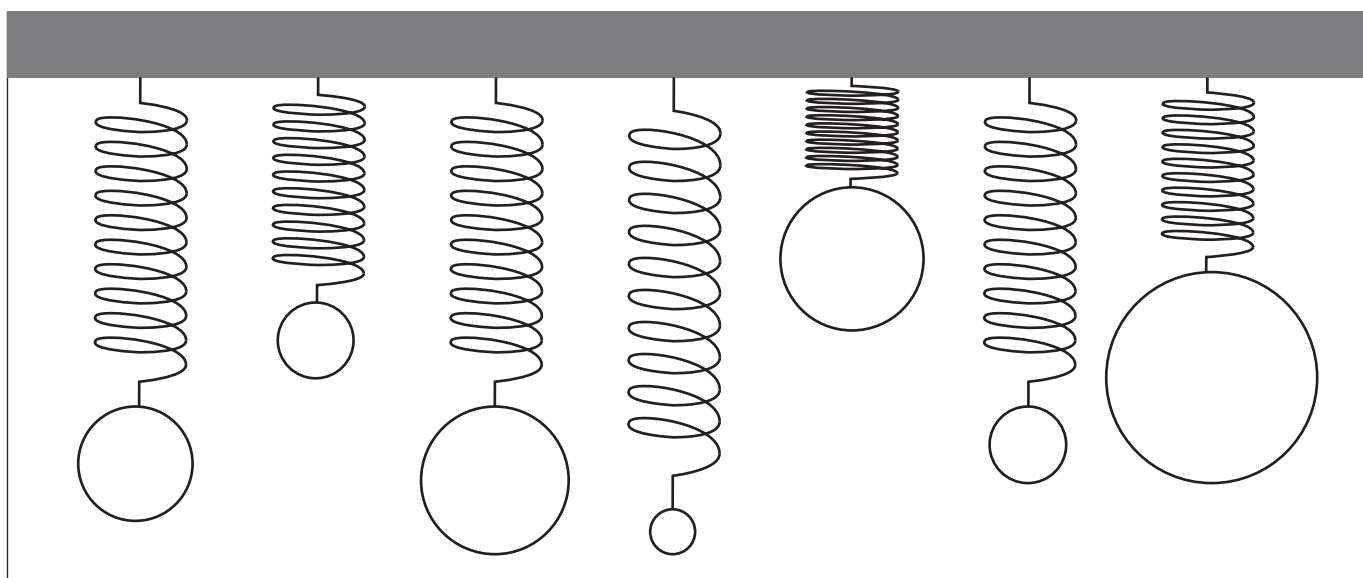
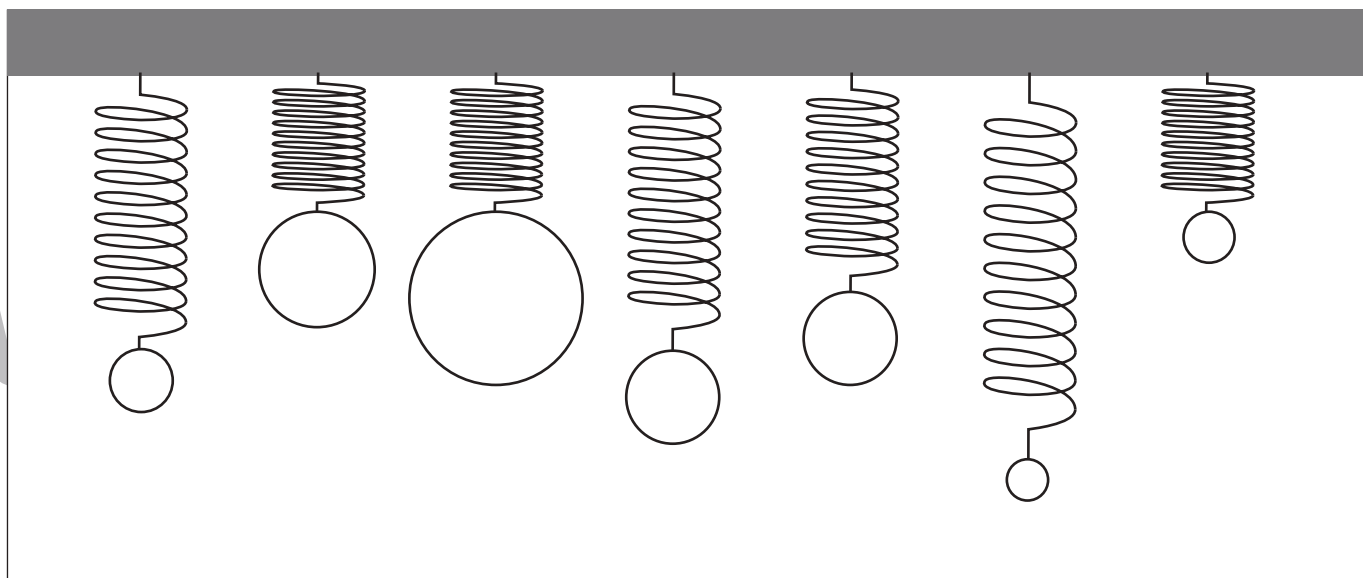
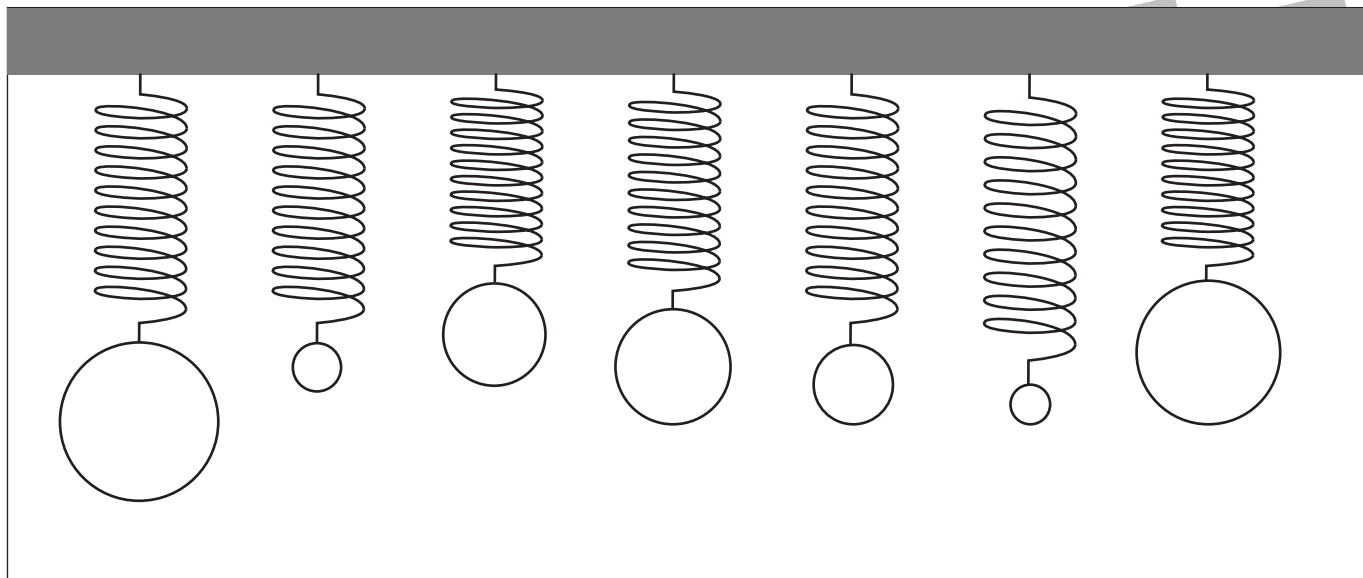


おうちで、やろう。

Study at home. 小学校受験の家庭学習教材

推理：重さ 16

バネにボールをつるして重さ比べをしました。同じ重さのボールを3つ見つけて塗ります。



※1. このプリントは、しながわ・目黒こどもスクールのウェブサイトでダウンロードができます。無断複写・引用はご遠慮ください。
 ※2. このプリントを活用したオンライン授業のスケジュールは、しながわ・目黒こどもスクールのウェブサイトでご確認ください。

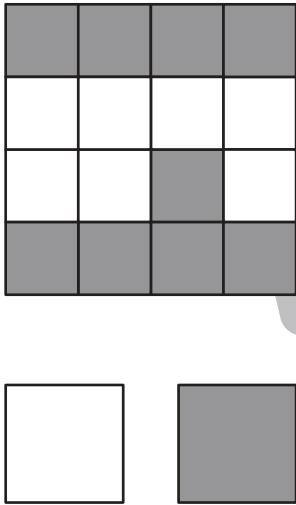
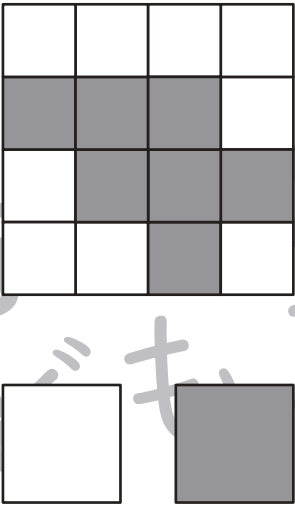
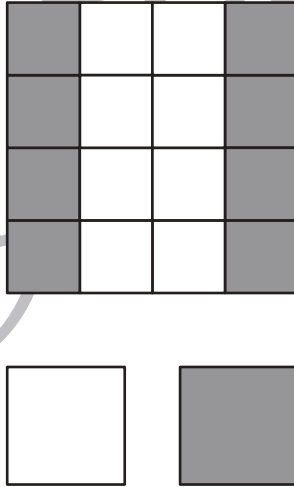
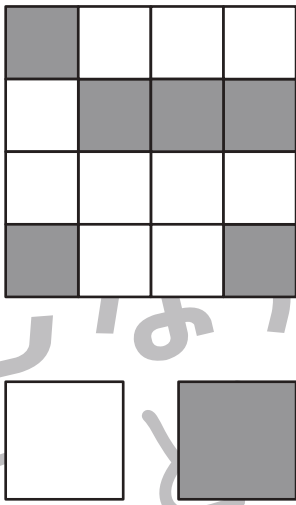


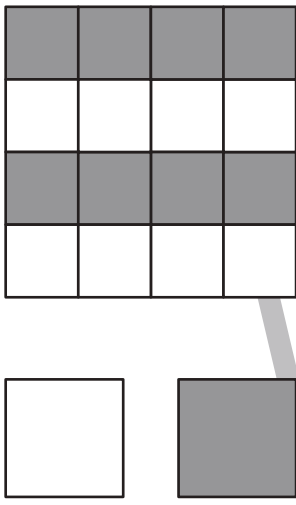
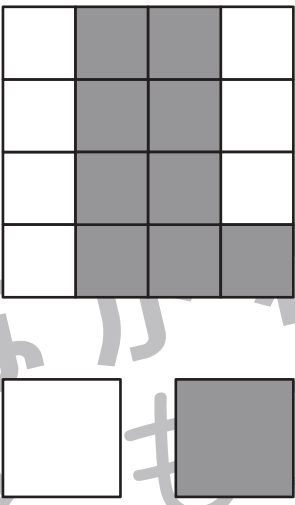
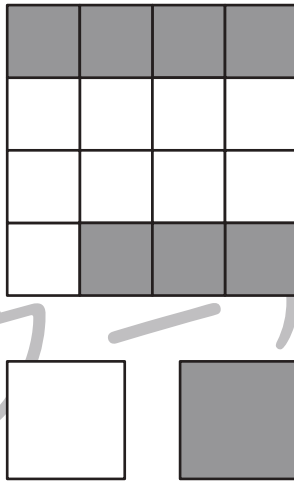


おうちで、やろう。

Study at home. 小学校受験の家庭学習教材

数量：広さ9

それぞれの四角の白い部分と灰色の部分の広さを比べます。広い方を考えて下のマスに○をつけます。同じ広さの場合は両方とも○をつけます。

※1. このプリントは、しながわ・目黒こどもスクールのウェブサイトでダウンロードができます。無断複写・引用はご遠慮ください。

※2. このプリントを活用したオンライン授業のスケジュールは、しながわ・目黒こどもスクールのウェブサイトでご確認ください。



おうちで、やろう。

Study at home. 小学校受験の家庭学習教材

数量：広さ 10

それぞれの四角の白い部分と灰色の部分の広さを比べます。広い方を考えて下のマスに○をつけます。同じ広さの場合は両方とも○をつけます。

 <input type="checkbox"/> <input type="checkbox"/>	 <input type="checkbox"/> <input type="checkbox"/>	 <input type="checkbox"/> <input type="checkbox"/>
 <input type="checkbox"/> <input type="checkbox"/>	 <input type="checkbox"/> <input type="checkbox"/>	 <input type="checkbox"/> <input type="checkbox"/>
 <input type="checkbox"/> <input type="checkbox"/>	 <input type="checkbox"/> <input type="checkbox"/>	 <input type="checkbox"/> <input type="checkbox"/>

※1. このプリントは、しながわ・目黒こどもスクールのウェブサイトでダウンロードができます。無断複写・引用はご遠慮ください。

※2. このプリントを活用したオンライン授業のスケジュールは、しながわ・目黒こどもスクールのウェブサイトでご確認ください。

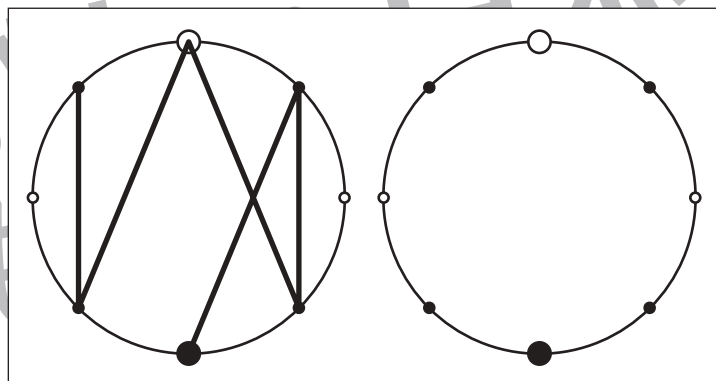
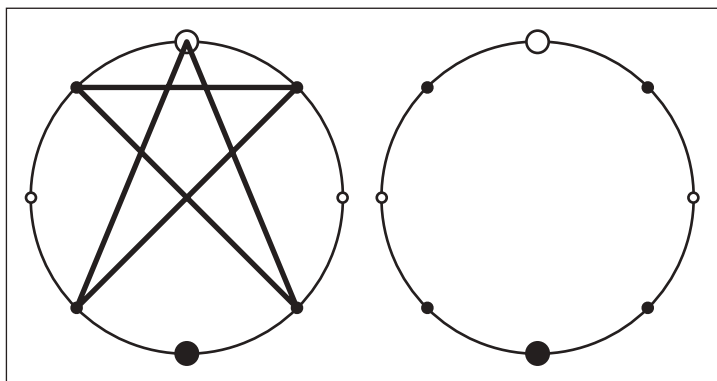
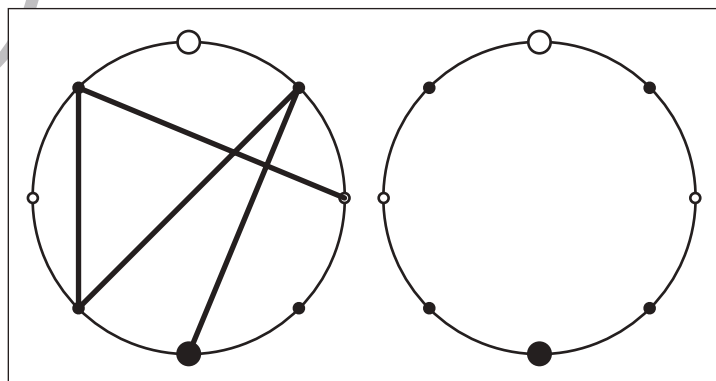
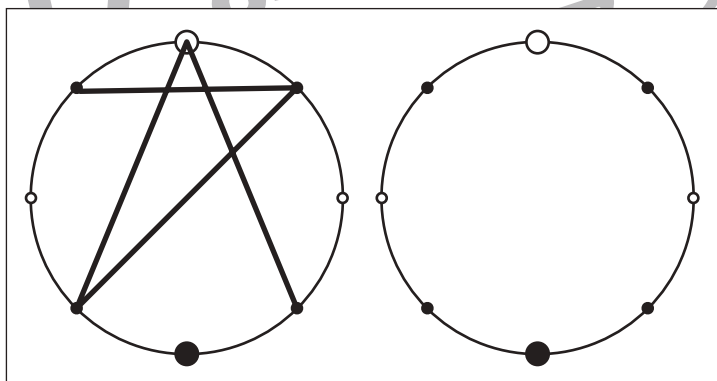
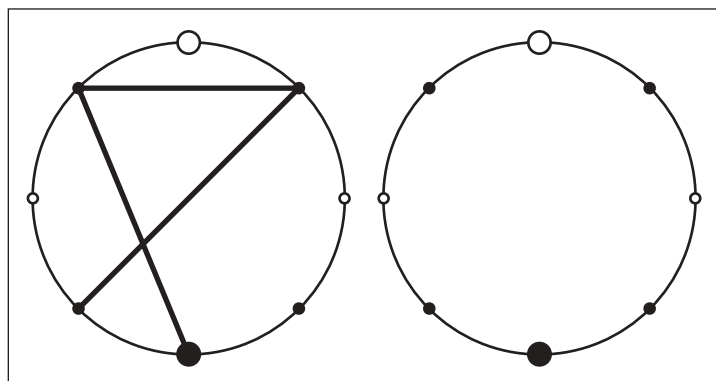
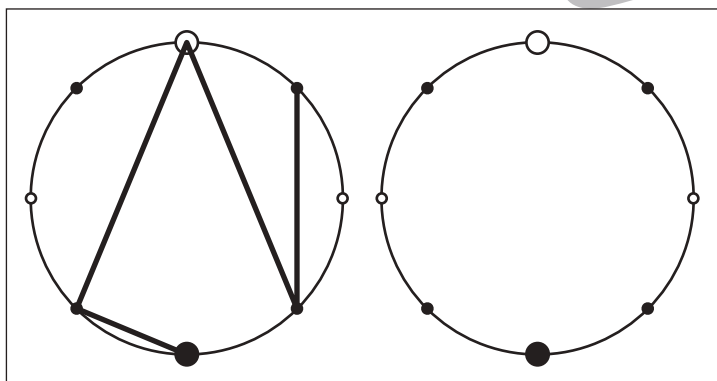
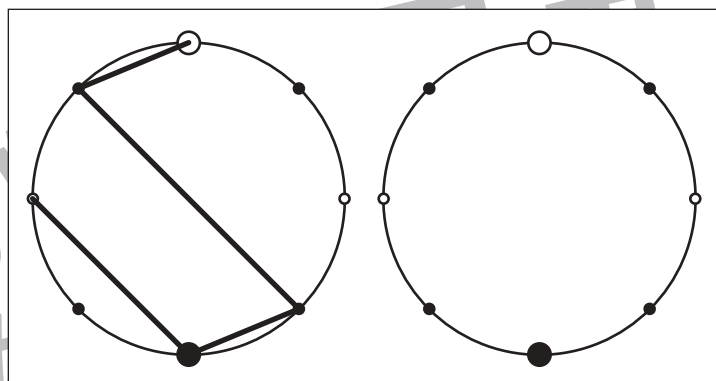
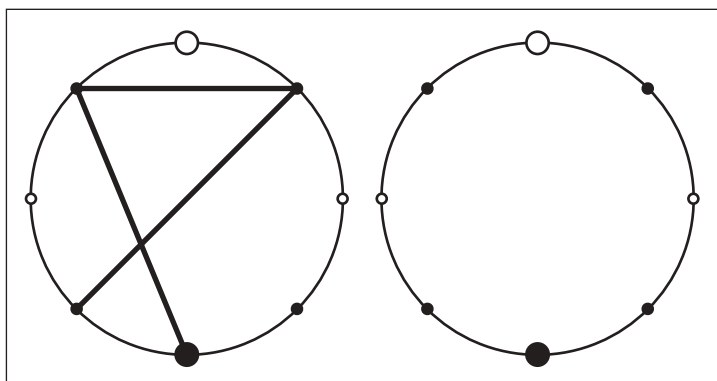


おうちで、やろう。

Study at home. 小学校受験の家庭学習教材

図形：点図形 38

左のお手本を見て、右にそっくり描き写しましょう。※このプリントに解答はありません。



※1. このプリントは、しながわ・目黒こどもスクールのウェブサイトでダウンロードができます。無断複写・引用はご遠慮ください。
※2. このプリントを活用したオンライン授業のスケジュールは、しながわ・目黒こどもスクールのウェブサイトでご確認ください。