




おうちで、やろう。

Study at home. 小学校受験の家庭学習教材

運筆：模写 18

点線の上をきれいになぞりましょう。(このプリントは時間ときれいさを意識して取り組みましょう。目安時間は1分です。)



※1. このプリントは、しながわ・目黒こどもスクールのウェブサイトダウンロードができます。無断複写・引用はご遠慮ください。
※2. このプリントを活用したオンライン授業のスケジュールは、しながわ・目黒こどもスクールのウェブサイトでご確認ください。


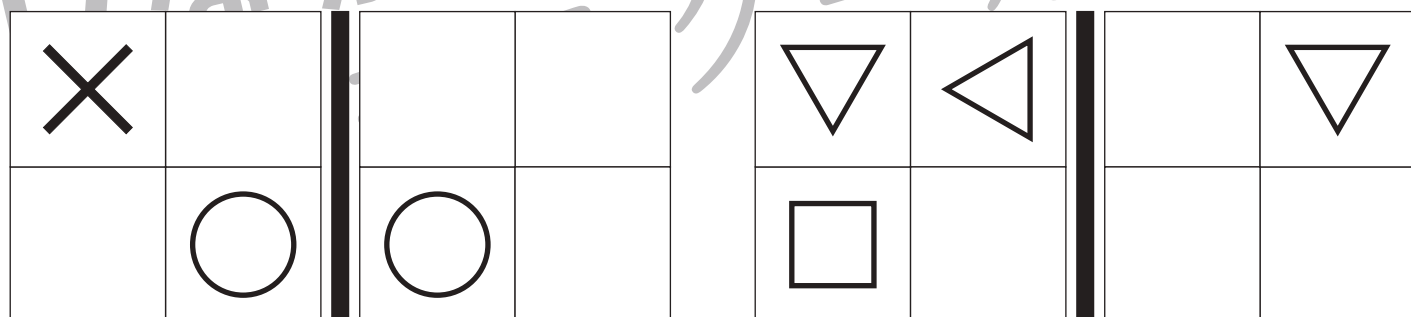
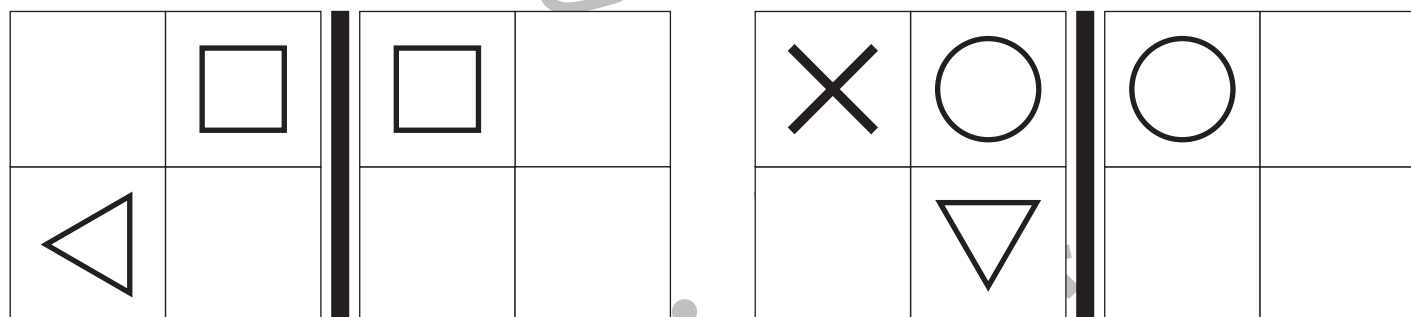



おうちで、やろう。

Study at home. 小学校受験の家庭学習教材

図形：鏡 25

左のお手本を黒い線の上に鏡を置いて見ると、右の様になります。右の四角の中に足りない形をかきます。



※1. このプリントは、しながわ・目黒こどもスクールのウェブサイトでダウンロードができます。無断複写・引用はご遠慮ください。
 ※2. このプリントを活用したオンライン授業のスケジュールは、しながわ・目黒こどもスクールのウェブサイトでご確認ください。



おうちで、やろう。

Study at home. 小学校受験の家庭学習教材

図形：鏡 26

左のお手本を黒い線の上に鏡を置いて見るとどのように見えるかを考えて、右の四角の中にかきます。

	□
○	

▽	×
△	

△	
	△

□	○
○	

	▽
×	

▷	△
□	

▷	×

□	△
	▷

※1. このプリントは、しながわ・目黒こどもスクールのウェブサイトでダウンロードができます。無断複写・引用はご遠慮ください。
 ※2. このプリントを活用したオンライン授業のスケジュールは、しながわ・目黒こどもスクールのウェブサイトでご確認ください。



おうちで、やろう。

Study at home. 小学校受験の家庭学習教材

図形：鏡 27

左のお手本を黒い線の上に鏡を置いて見るとどのように見えるかを考えて、右の四角の中にかきます。

□	□				
△	◁				

▽	△				
◁	○				

×	○				
△	◁				

◁	○				
□	▽				

▷	▽				
◁	◁				

○	▷				
□	◁				

×	□				
○	×				

□	×				
▷	◁				

※1. このプリントは、しながわ・目黒こどもスクールのウェブサイトでダウンロードができます。無断複写・引用はご遠慮ください。
 ※2. このプリントを活用したオンライン授業のスケジュールは、しながわ・目黒こどもスクールのウェブサイトでご確認ください。



おうちで、やろう。

Study at home. 小学校受験の家庭学習教材

推理：影 13

左の太い四角の中は、動物が影になってできた絵です。どの動物が影になって重なっているかを考えて、右の四角の中から見つけて○をつけます。

※1. このプリントは、しながわ・目黒こどもスクールのウェブサイトでダウンロードができます。無断複写・引用はご遠慮ください。

※2. このプリントを活用したオンライン授業のスケジュールは、しながわ・目黒こどもスクールのウェブサイトでご確認ください。



おうちで、やろう。

Study at home. 小学校受験の家庭学習教材

推理：影 14

左の太い四角の中は、野菜が影になってできた絵です。どの野菜が影になって重なっているかを考えて、右の四角の中から見つけて○をつけます。

※1. このプリントは、しながわ・目黒こどもスクールのウェブサイトからダウンロードできます。無断複写・引用はご遠慮ください。

※2. このプリントを活用したオンライン授業のスケジュールは、しながわ・目黒こどもスクールのウェブサイトでご確認ください。



おうちで、やろう。

Study at home. 小学校受験の家庭学習教材

推理：影 15

左の太い四角の中は、文房具や楽器が影になってできた絵です。どの文房具が影になって重なっているかを考えて、影にないものを右の四角の中から見つけて×をつけます。

※1. このプリントは、しながわ・目黒こどもスクールのウェブサイトでダウンロードができます。無断複写・引用はご遠慮ください。

※2. このプリントを活用したオンライン授業のスケジュールは、しながわ・目黒こどもスクールのウェブサイトでご確認ください。

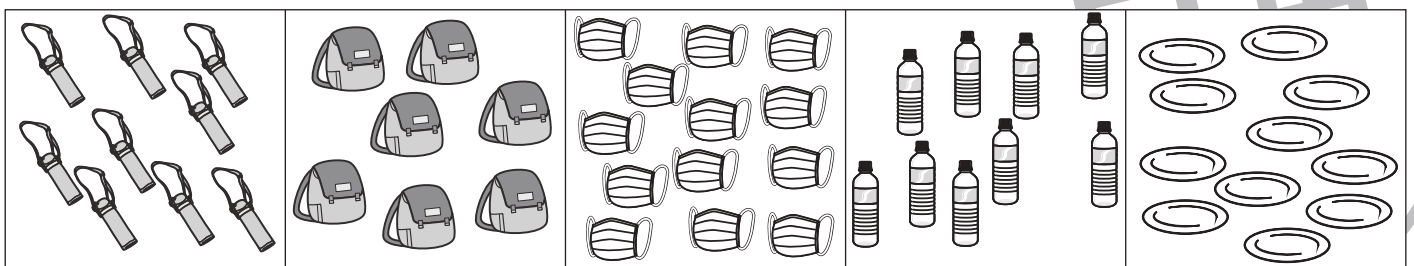

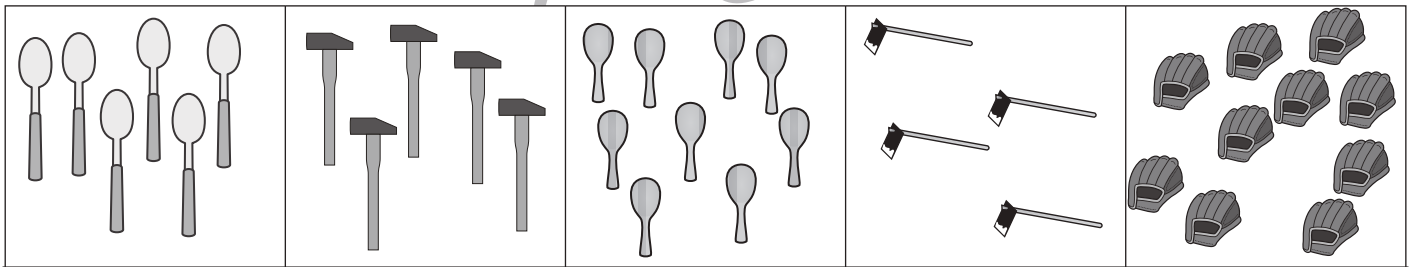
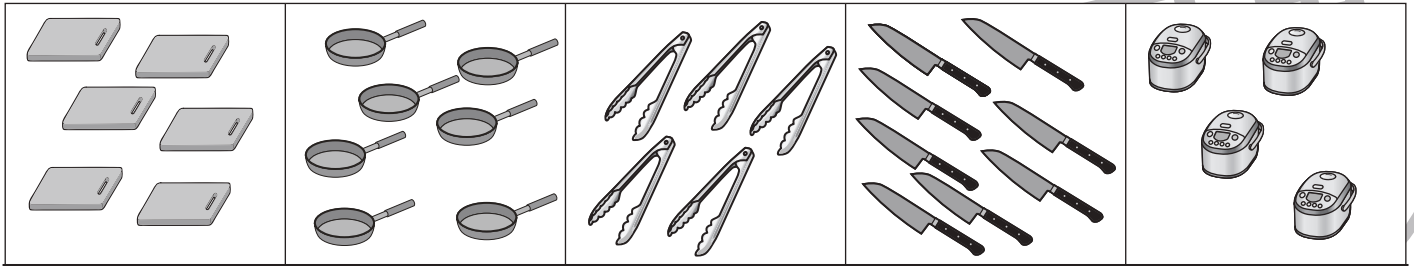


おうちで、やろう。

Study at home. 小学校受験の家庭学習教材

数量：多少 9

横に並んだ5つの四角の中で2番目に絵の数が多いものを見つけて、その数だけ絵の下の太い四角の中に○をかきます。



※1. このプリントは、しながわ・目黒こどもスクールのウェブサイトでダウンロードができます。無断複写・引用はご遠慮ください。
 ※2. このプリントを活用したオンライン授業のスケジュールは、しながわ・目黒こどもスクールのウェブサイトでご確認ください。

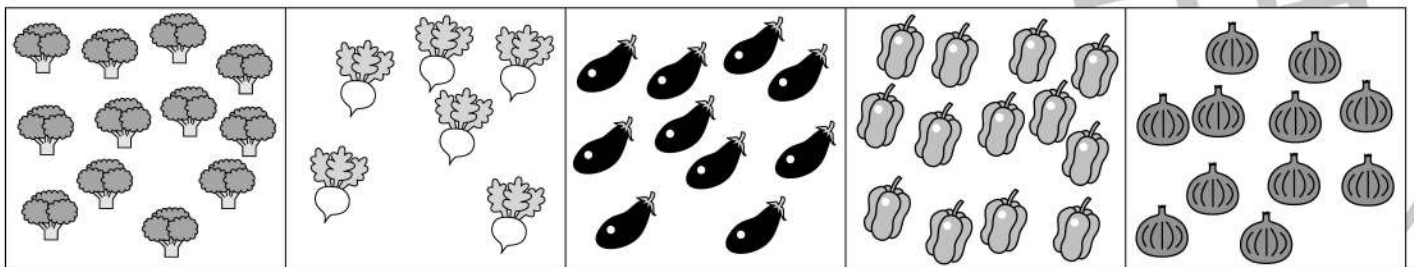



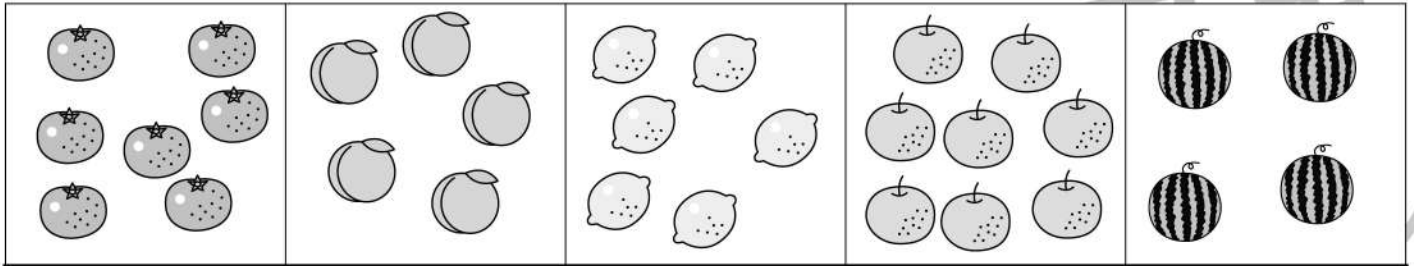


おうちで、やろう。

Study at home. 小学校受験の家庭学習教材

数量：多少 10

横に並んだ5つの四角の中で2番目に絵の数が少ないものを見つけて、その数だけ絵の下の太い四角の中に○をかきます。



※1. このプリントは、しながわ・目黒こどもスクールのウェブサイトからダウンロードできます。無断複写・引用はご遠慮ください。
 ※2. このプリントを活用したオンライン授業のスケジュールは、しながわ・目黒こどもスクールのウェブサイトでご確認ください。



おうちで、やろう。

Study at home. 小学校受験の家庭学習教材

数量：多少 11

横に並んだ5つの四角の中で3番目に絵の数が多い形を見つけて、その数だけ絵の下の太い四角の中に○をかきます。

<input type="text"/>				

<input type="text"/>				

<input type="text"/>				

<input type="text"/>				

※1. このプリントは、しながわ・目黒こどもスクールのウェブサイトでダウンロードができます。無断複写・引用はご遠慮ください。
 ※2. このプリントを活用したオンライン授業のスケジュールは、しながわ・目黒こどもスクールのウェブサイトでご確認ください。