




おうちで、やろう。

Study at home. 小学校受験の家庭学習教材

運筆：模写 19

点線の上をきれいなぞります。丸は青色で、☆は黄色で、三角は緑色で、五角形は赤色でなぞりましょう。
(このプリントは時間ときれいさを意識して取り組みましょう。目安時間は1分～1分30秒です。解答はありません。)



※1. このプリントは、しながわ・目黒こどもスクールのウェブサイトでダウンロードができます。無断複写・引用はご遠慮ください。
※2. このプリントを活用したオンライン授業のスケジュールは、しながわ・目黒こどもスクールのウェブサイトでご確認ください。



おうちで、やろう。

Study at home. 小学校受験の家庭学習教材

図形：折り重ね 22

真ん中の点線で矢印の方向へ折り重ねたときの見え方を考えて太い四角の中の○を塗ります。

※1. このプリントは、しながわ・目黒こどもスクールのウェブサイトでダウンロードができます。無断複写・引用はご遠慮ください。

※2. このプリントを活用したオンライン授業のスケジュールは、しながわ・目黒こどもスクールのウェブサイトでご確認ください。



おうちで、やろう。

Study at home. 小学校受験の家庭学習教材

図形：折り重ね 23

真ん中の点線で矢印の方向へ折り重ねたときの見え方を考えて太い四角の中の○を塗ります。

The puzzles are arranged in five rows. Each row consists of three boxes. The first box shows a 3x6 grid of circles with a vertical dashed line in the center and a curved arrow pointing right. The second box is a 3x3 grid of empty circles. The third box shows a 3x6 grid of circles with a vertical dashed line in the center and a curved arrow pointing left. The goal is to determine the final appearance of the 3x3 grid after the two 3x6 grids are folded towards each other.

※1. このプリントは、しながわ・目黒こどもスクールのウェブサイトでダウンロードができます。無断複写・引用はご遠慮ください。

※2. このプリントを活用したオンライン授業のスケジュールは、しながわ・目黒こどもスクールのウェブサイトでご確認ください。



おうちで、やろう。

Study at home. 小学校受験の家庭学習教材

図形：折り重ね 24

真ん中の太い線で折り重ねたとき、黒くなる丸を考えて下の四角の丸を塗ります。

※1. このプリントは、しながわ・目黒こどもスクールのウェブサイトでダウンロードができます。無断複写・引用はご遠慮ください。
 ※2. このプリントを活用したオンライン授業のスケジュールは、しながわ・目黒こどもスクールのウェブサイトでご確認ください。












おうちで、やろう。

Study at home. 小学校受験の家庭学習教材

図形：島作り5

黒い丸を全部通って島を作ります。横と縦、斜めに進むことができ、全ての黒丸を1本の線でつなぎます。
※解答は一例です。ルールに沿って線をつなげていたら正解になります。





おうちで、やろう。

Study at home. 小学校受験の家庭学習教材

まちがいさがし7

上下の絵を見比べて、変わっているところを5つ探します。見つけたら、下の絵の変わっている部分に丸をつけます。



※1. このプリントは、しながわ・目黒こどもスクールのウェブサイトでダウンロードができます。無断複写・引用はご遠慮ください。

※2. このプリントを活用したオンライン授業のスケジュールは、しながわ・目黒こどもスクールのウェブサイトでご確認ください。





おうちで、やろう。

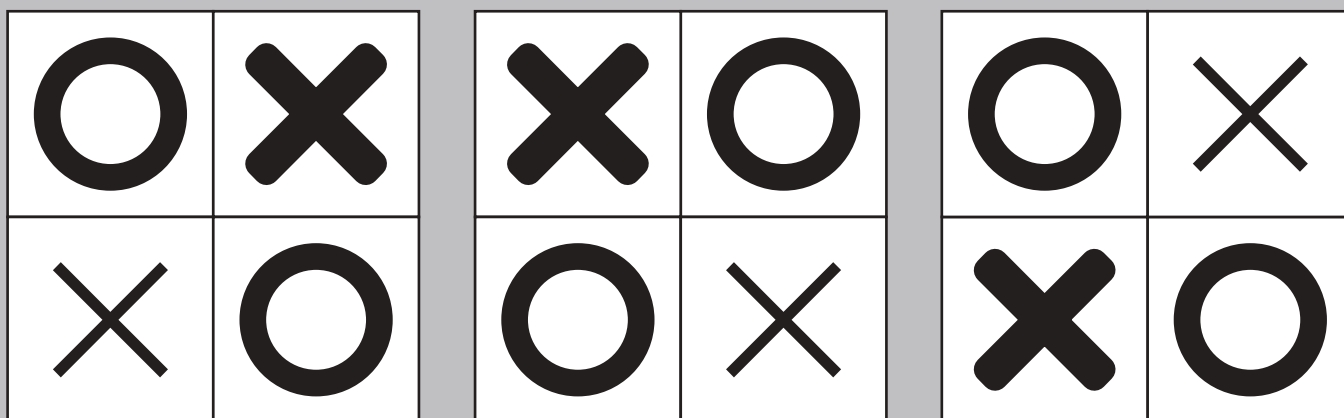

Study at home. 小学校受験の家庭学習教材

推理：条件推理 30

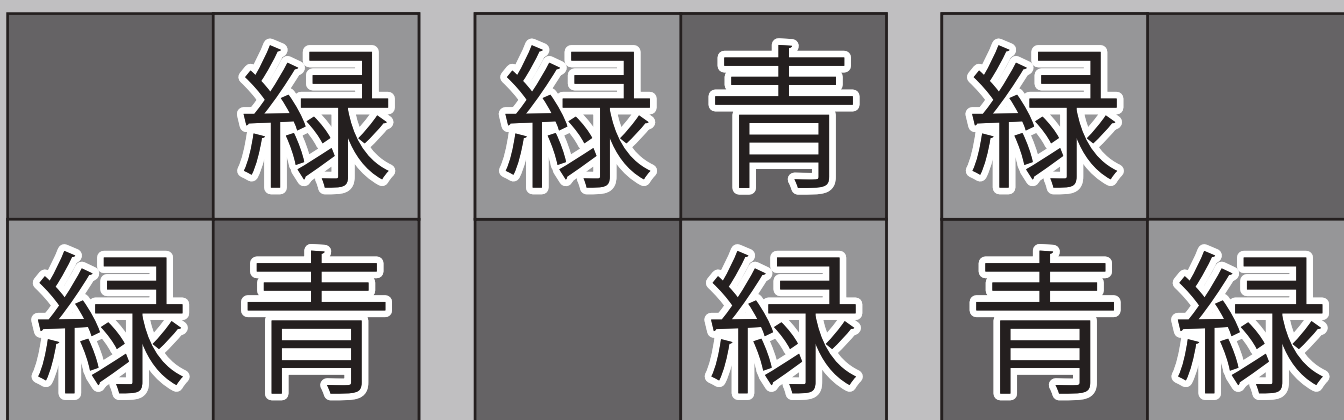
①○と○同士、×と×同士が縦や横で並ばないようにすべての四角の中に印をかきます。

②青と青同士、緑と緑同士が縦や横で並ばないように全ての四角の中を塗ります。☆の所は青色です。☆を青色で塗ってからはじめましょう。

①



②



※1. このプリントは、しながわ・目黒こどもスクールのウェブサイトでダウンロードができます。無断複写・引用はご遠慮ください。

※2. このプリントを活用したオンライン授業のスケジュールは、しながわ・目黒こどもスクールのウェブサイトでご確認ください。



おうちで、やろう。

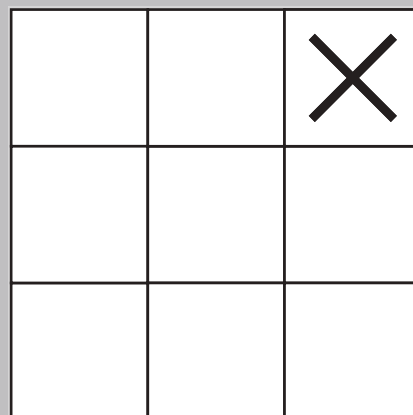
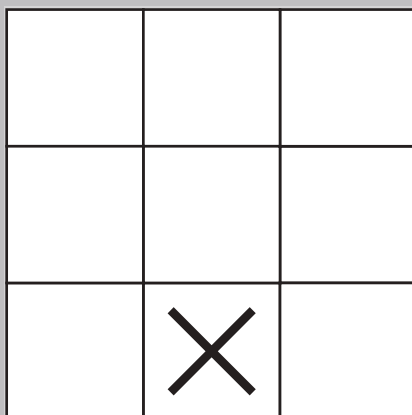
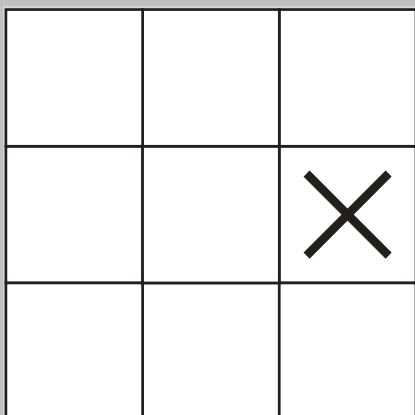
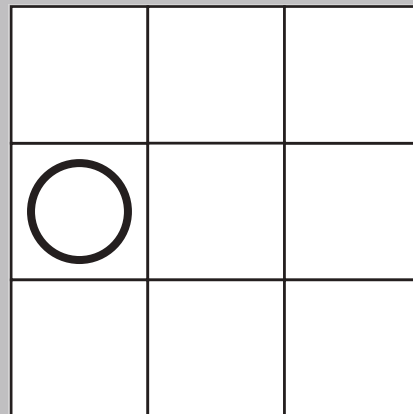
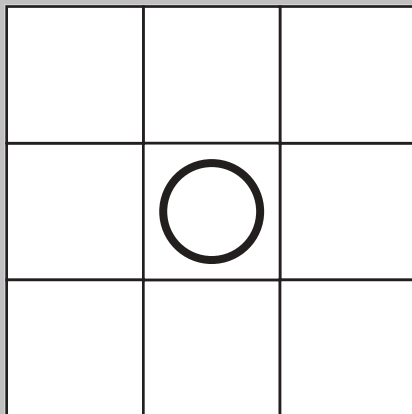
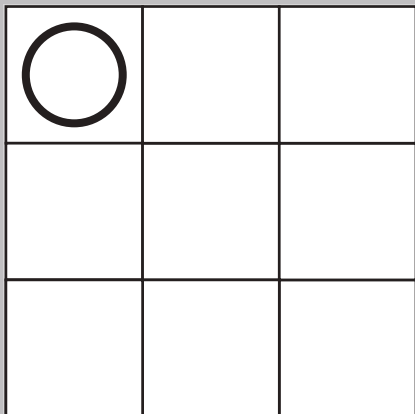
Study at home. 小学校受験の家庭学習教材

推理：条件推理 31



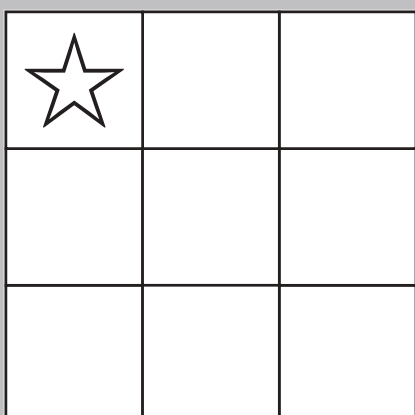
①○と○同士、×と×同士が縦と横で並ばないようにすべての四角の中に印をかきます。

②青と青同士、緑と緑同士が縦と横で並ばないように全ての四角の中を塗ります。☆の所は青色です。☆を青色で塗ってからはじめましょう。

①



②



※1. このプリントは、しながわ・目黒こどもスクールのウェブサイトでダウンロードができます。無断複写・引用はご遠慮ください。

※2. このプリントを活用したオンライン授業のスケジュールは、しながわ・目黒こどもスクールのウェブサイトでご確認ください。





おうちで、やろう。

Study at home. 小学校受験の家庭学習教材

推理：条件推理 32

- ① OとO同士、×と×同士、△と△同士が縦と横で並ばないようにすべての四角の中に印をかきます。
 - ② OとO同士、×と×同士、△と△同士が縦と横で並ばないようにすべての四角の中に印をかきます。ただし、印はそれぞれ同じ数ずつ使い、元からかいてある印も数に含めます。
 - ③ 同じ色同士が縦と横で並ばないように全ての四角の中を青・緑・橙色で塗ります。☆の所は青色として考え、Oは橙色として考えて、色を塗ってから始めましょう。ただし、色はそれぞれ同じ数ずつ使い、☆やOもそれぞれの色の数に含めます。
- ※解答は1つではありません。ルールに沿って答えがかけられていれば正解です。

①

O		
	△	
		×

△		
	O	
		×

		×
	×	
O		

②

△		×

	O	
	×	

		×
△		

③

☆		
	O	

O		☆

	☆	
	O	

※1. このプリントは、しながわ・目黒こどもスクールのウェブサイトでダウンロードができます。無断複写・引用はご遠慮ください。
 ※2. このプリントを活用したオンライン授業のスケジュールは、しながわ・目黒こどもスクールのウェブサイトでご確認ください。



おうちで、やろう。


Study at home. 小学校受験の家庭学習教材

推理：条件迷路 9

下のルールにしたがって動物たちが家に帰ります。ウサギの家には○、ゾウの家には△、クマの家には×、ネズミの家には◎をかきます。

ルール

①●のところは右に曲がります。②☆のところは左に曲がります。③印がないところは家が並んでいる方向に直進します。



※1. このプリントは、しながわ・目黒こどもスクールのウェブサイトでダウンロードができます。無断複写・引用はご遠慮ください。
※2. このプリントを活用したオンライン授業のスケジュールは、しながわ・目黒こどもスクールのウェブサイトでご確認ください。