



おうちで、やろう。

Study at home. 小学校受験の家庭学習教材

図形：重ね 37

左の四角の中には透明な板が3枚あります。

この3枚の板をぴったり重ねたとき、透明なマスの場所を考えて右の四角の中を塗りましょう。

※1. このプリントは、しながわ・目黒こどもスクールのウェブサイトでダウンロードができます。無断複写・引用はご遠慮ください。

※2. このプリントを活用したオンライン授業のスケジュールは、しながわ・目黒こどもスクールのウェブサイトでご確認ください。



おうちで、よろう。

Study at home. 小学校受験の家庭学習教材

図形：重ね 38

左の四角の中には透明な板が 4 枚あります。この 4 枚の板をぴったり重ねたとき、灰色になる場所を考えて右の四角の○を塗ります。

	→		→		→		
	→		→		→		
	→		→		→		
	→		→		→		
	→		→		→		
	→		→		→		
	→		→		→		

※1. このプリントは、しながわ・目黒こどもスクールのウェブサイトでダウンロードができます。無断複写・引用はご遠慮ください。

※2. このプリントを活用したオンライン授業のスケジュールは、しながわ・目黒こどもスクールのウェブサイトでご確認ください。

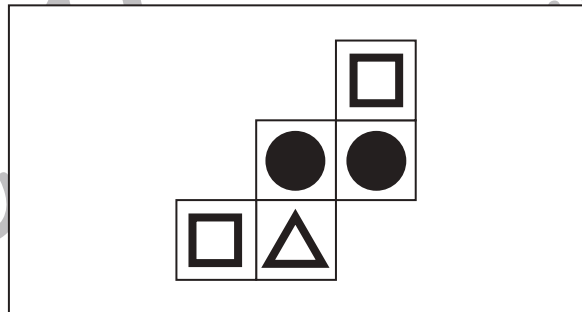
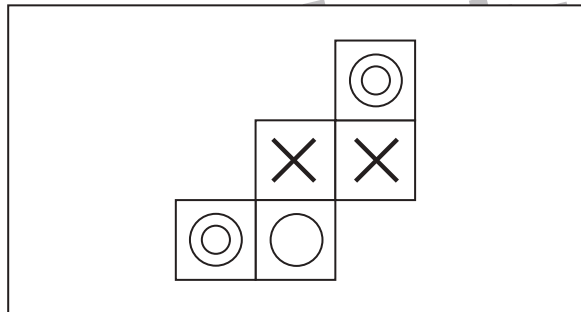
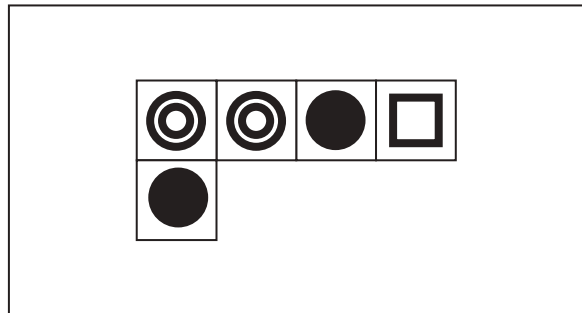
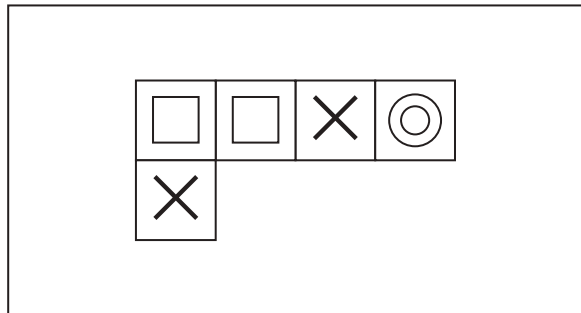


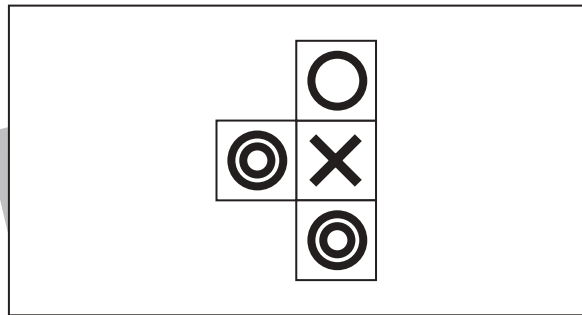
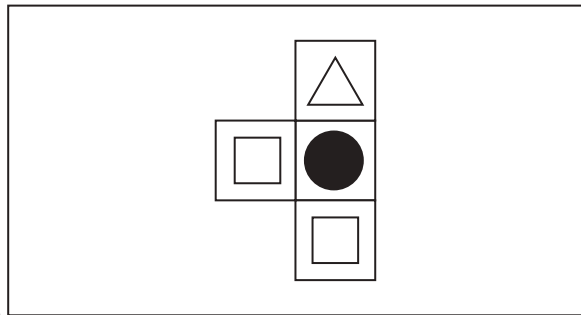
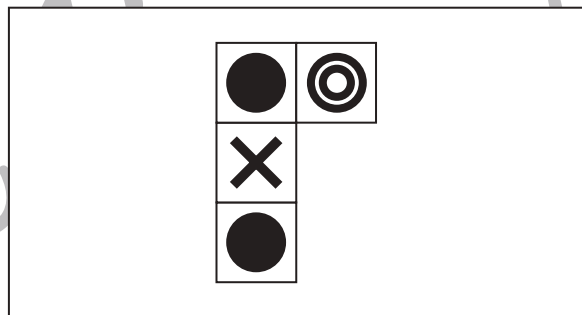
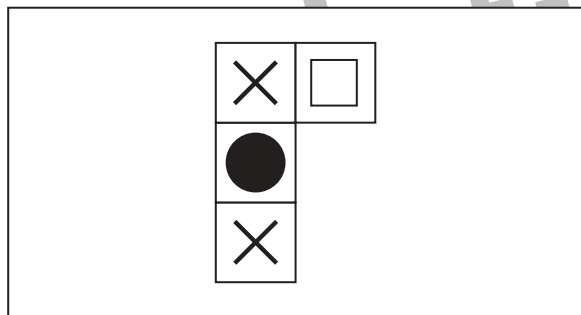
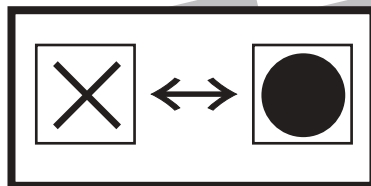
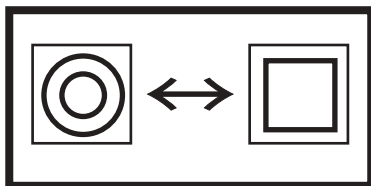
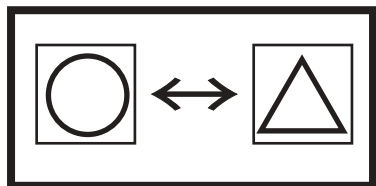


おうちで、やろう。

Study at home. 小学校受験の家庭学習教材

図形：置き換え 11

上の太い四角が約束です。それぞれの四角は裏と表で記号が書いてあります。左の四角をすべて裏返しにした時の見え方を考えて右の四角にかきます。



※1. このプリントは、しながわ・目黒こどもスクールのウェブサイトでダウンロードができます。無断複写・引用はご遠慮ください。

※2. このプリントを活用したオンライン授業のスケジュールは、しながわ・目黒こどもスクールのウェブサイトでご確認ください。



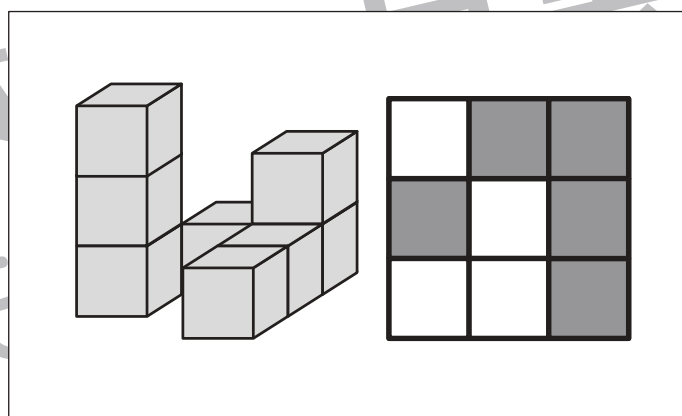
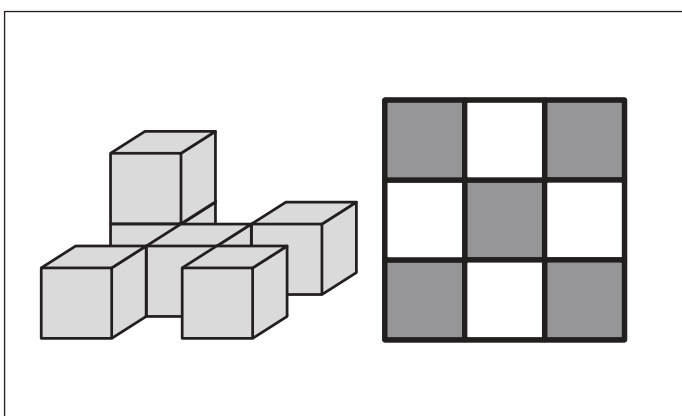
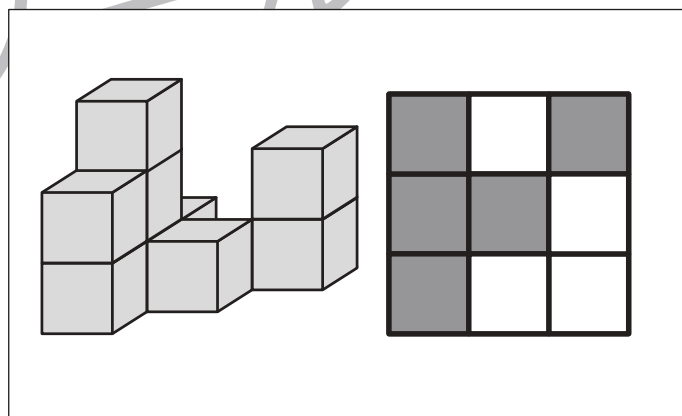
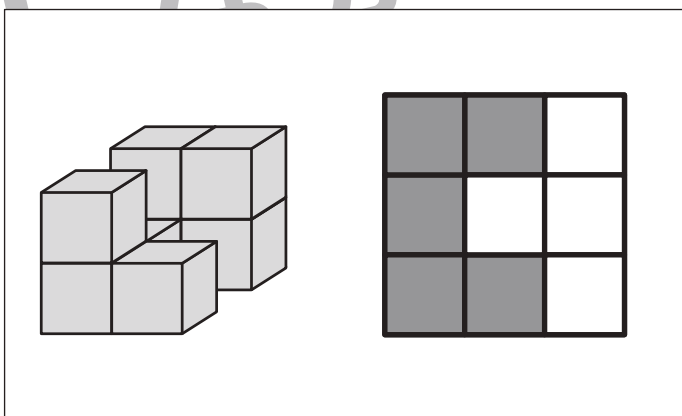
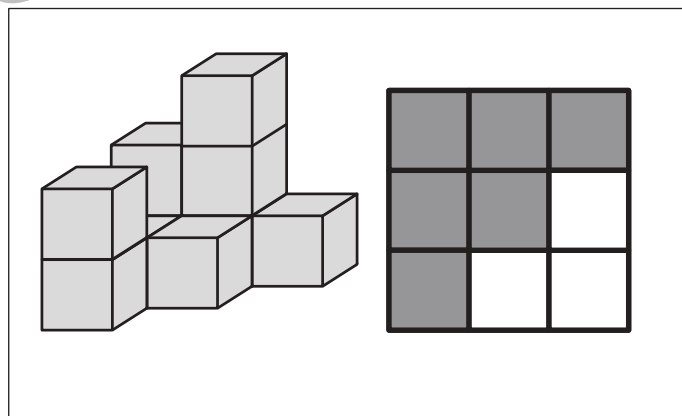
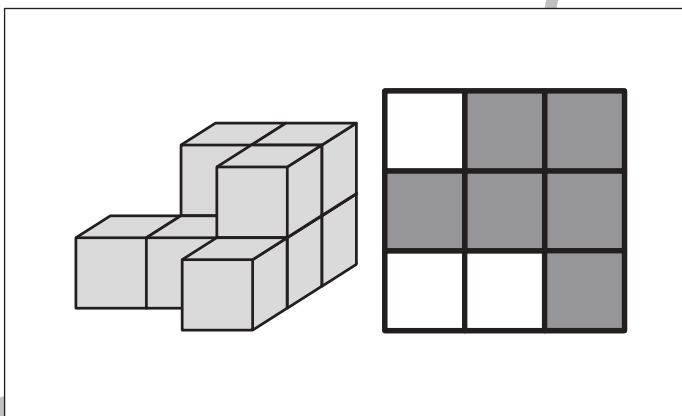
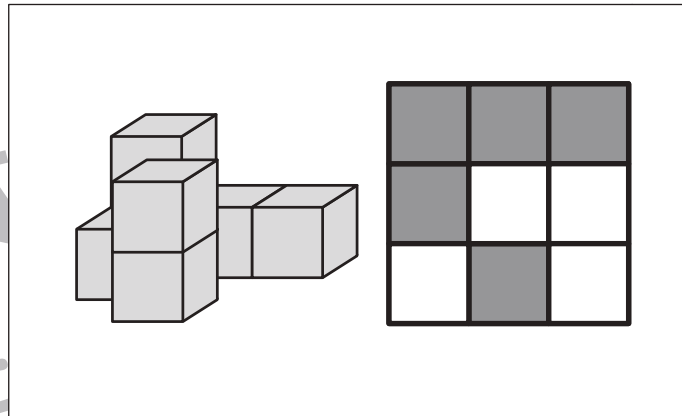
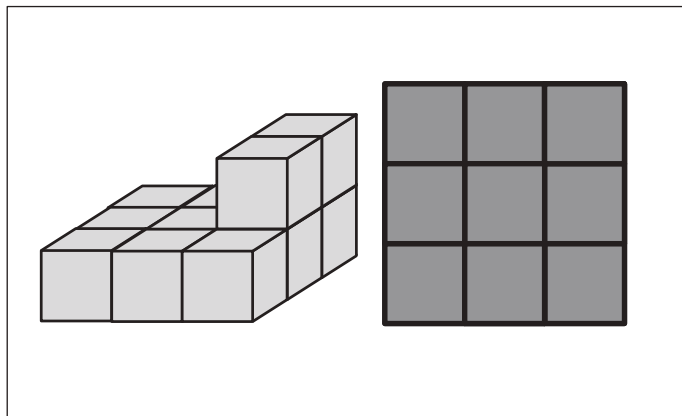


おうちで、よろう。

Study at home. 小学校受験の家庭学習教材

推理：四方観察 21

左の積み木を右の四角の上に置いて上から見た時の見え方を考えて、積み木が見える場所を塗ります。



※1. このプリントは、しながわ・目黒こどもスクールのウェブサイトからダウンロードできます。無断複写・引用はご遠慮ください。
 ※2. このプリントを活用したオンライン授業のスケジュールは、しながわ・目黒こどもスクールのウェブサイトでご確認ください。

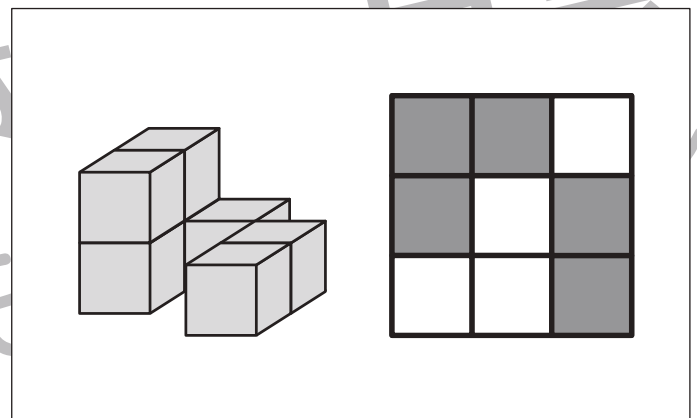
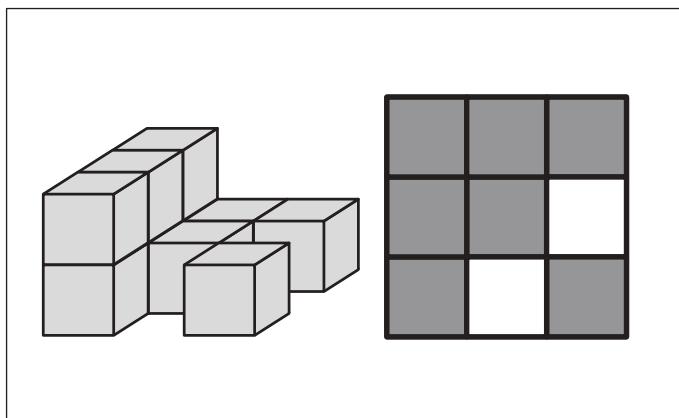
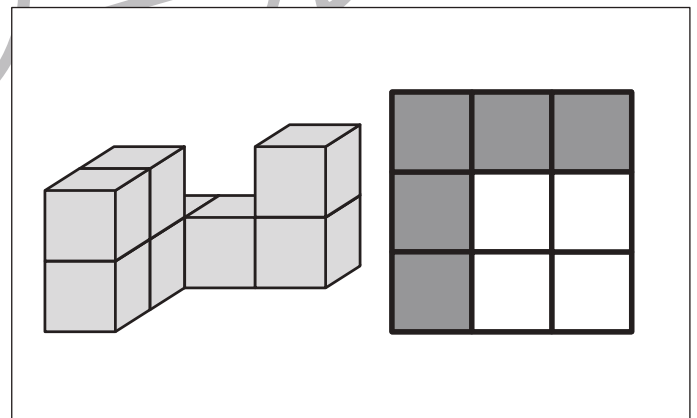
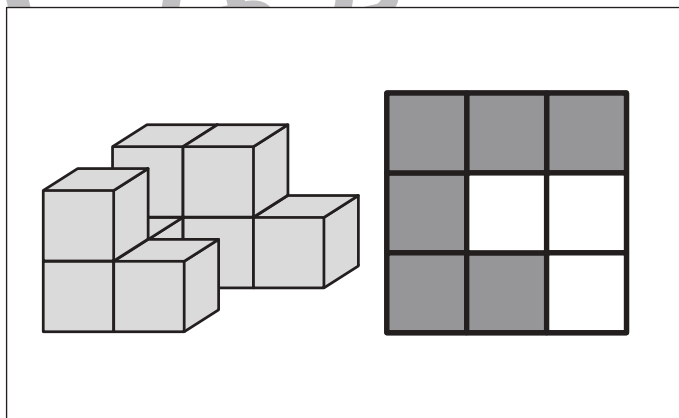
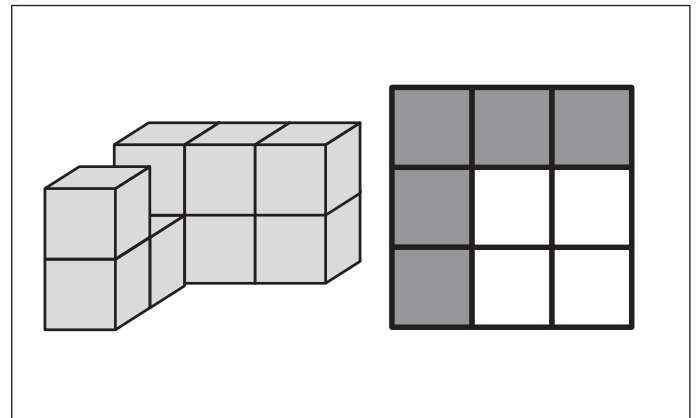
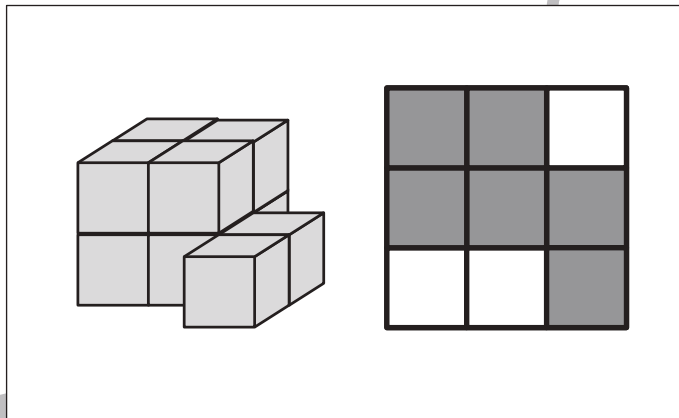
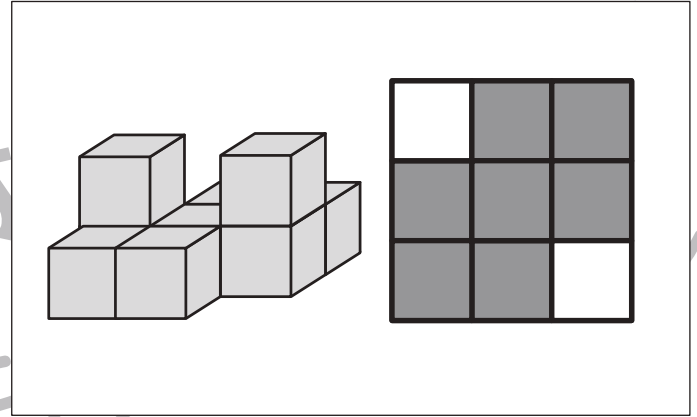
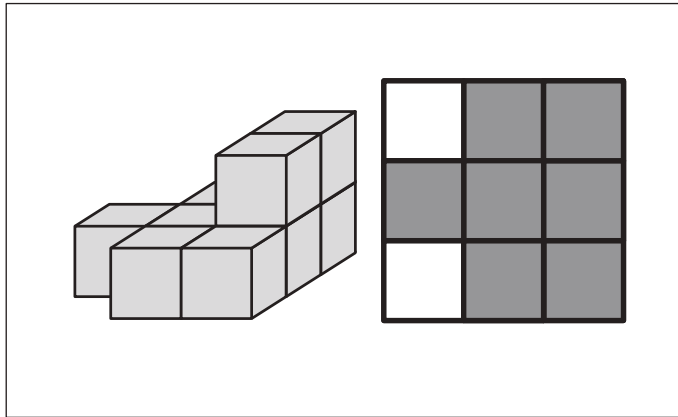


おうちで、やろう。

Study at home. 小学校受験の家庭学習教材

推理：四方観察 22

左の積み木を右の四角の上に置いて上から見たときの見え方を考えて、積み木が見える場所を塗ります。



※1. このプリントは、しながわ・目黒こどもスクールのウェブサイトでダウンロードができます。無断複写・引用はご遠慮ください。
 ※2. このプリントを活用したオンライン授業のスケジュールは、しながわ・目黒こどもスクールのウェブサイトでご確認ください。


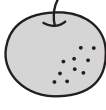



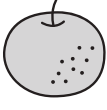
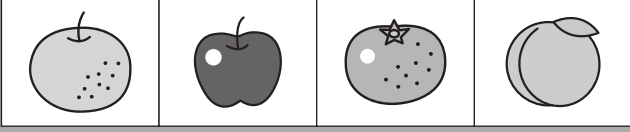









おうちで、やろう。










Study at home. 小学校受験の家庭学習教材










推理：系列完成 18

ある約束の通りに、絵が並んでいます。太い四角の中に入る絵を下の四角から選んで、点と点を線でむすびます。

							
●	●	●	●	●	●	●	●
				●			●
				●			●
				●			●
							

							
●	●	●	●	●	●	●	●
				●			●
				●			●
				●			●
							

									
●	●	●	●	●	●	●	●	●	●
				●			●		
				●			●		
				●			●		
									

									
●	●	●	●	●	●	●	●	●	●
				●			●		
				●			●		
				●			●		
									

※1. このプリントは、しながわ・目黒こどもスクールのウェブサイトでダウンロードができます。無断複写・引用はご遠慮ください。
 ※2. このプリントを活用したオンライン授業のスケジュールは、しながわ・目黒こどもスクールのウェブサイトでご確認ください。



おうちで、やろう。

Study at home. 小学校受験の家庭学習教材

推理：系列完成 19

ある約束の通りに、記号や形が並んでいます。太い四角の中には2つのうちどちらを入れたら良いですか。正しい方を選んで○をつけます。

Diagram 1: A sequence of 10 boxes. Box 5 is a thick-bordered square containing two options: a circle with a horizontal line and a square with a horizontal line. Box 8 is a thick-bordered square containing two options: a triangle with a vertical line and a circle with a vertical line.

Diagram 2: A sequence of 10 boxes. Box 4 is a thick-bordered square containing two options: two solid black circles and a circle with a horizontal line. Box 10 is a thick-bordered square containing two options: a circle with a horizontal line and two solid black circles.

Diagram 3: A sequence of 10 boxes. Box 3 is a thick-bordered square containing two options: a triangle with a horizontal line and a circle with a horizontal line. Box 7 is a thick-bordered square containing two options: a circle with a horizontal line and a triangle with a horizontal line.

Diagram 4: A sequence of 10 boxes. Box 2 is a thick-bordered square containing two options: a vertical bar with a horizontal line and a vertical bar with a horizontal line. Box 7 is a thick-bordered square containing two options: a vertical bar with a horizontal line and a circle with a horizontal line.

Diagram 5: A sequence of 10 boxes. Box 1 is a thick-bordered square containing two options: a circle with a horizontal line and a circle with a horizontal line. Box 8 is a thick-bordered square containing two options: a circle with a horizontal line and a circle with a horizontal line.

※1. このプリントは、しながわ・目黒こどもスクールのウェブサイトでダウンロードができます。無断複写・引用はご遠慮ください。
※2. このプリントを活用したオンライン授業のスケジュールは、しながわ・目黒こどもスクールのウェブサイトでご確認ください。





おうちで、やろう。

Study at home. 小学校受験の家庭学習教材

推理：系列完成 20

ある約束の通りに、矢印が並んでいます。太い四角の中に入る矢印はどれかを考えて、下の四角の中から選んで四角の中の記号をつけます。

←	↑	→	↓	←	↑	○	↓	←	△
↓		→		△		←			

↘	↓	↑	○	↘	↓	↑	↗	↘	△
↗		△		↑		↘			

□	↖	↓	↘	↙	↗	↖	↓	○	↙	↗	↖
↙		↘		↖		□		↓			

↗	↘	↘	↓	↑	↗	↘	△	↓	↑	↗	↘
											↘

↑	□	↘	↘	↗	↑	↓	↘	↘	○	↑	↓
□		↗		△					↑		

※1. このプリントは、しながわ・目黒こどもスクールのウェブサイトでダウンロードができます。無断複写・引用はご遠慮ください。
 ※2. このプリントを活用したオンライン授業のスケジュールは、しながわ・目黒こどもスクールのウェブサイトでご確認ください。

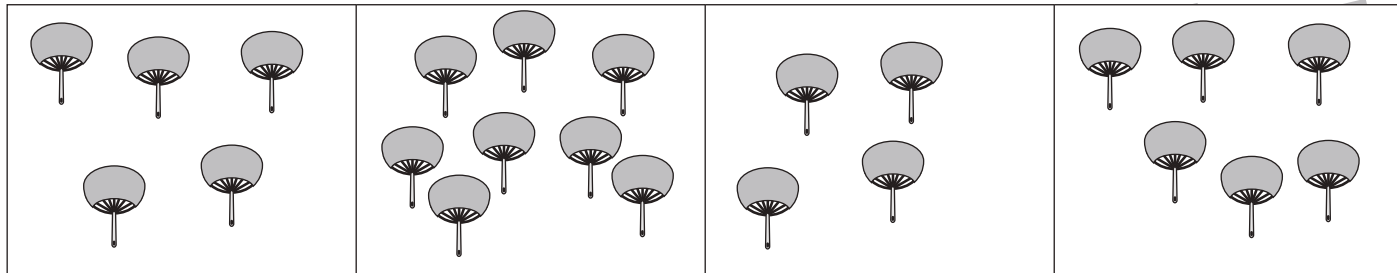


おうちで、やろう。

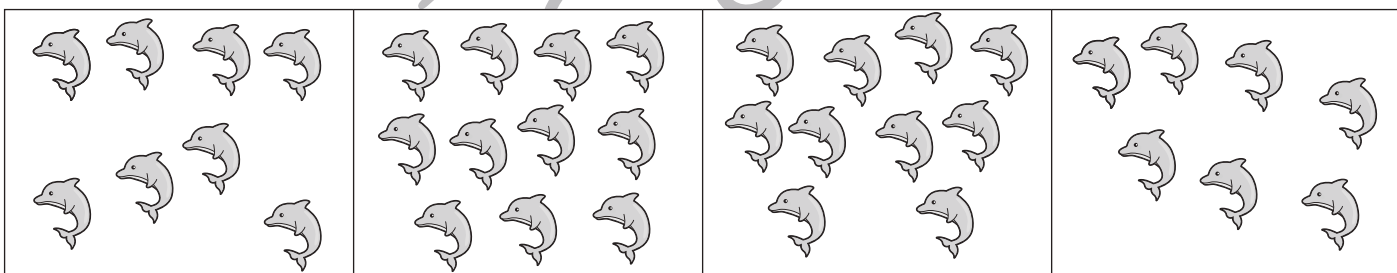
Study at home. 小学校受験の家庭学習教材

数量：計数 39


横に並んだ4つの四角の中で2番目に数が多いものを見つけて、その数だけ下の四角の中に○をかきます。



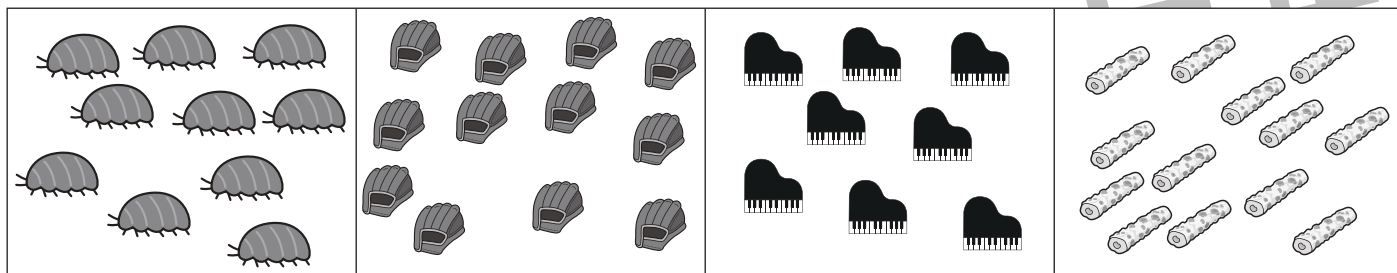
○×6



○×10



○×10



○×12

※1. このプリントは、しながわ・目黒こどもスクールのウェブサイトでダウンロードができます。無断複写・引用はご遠慮ください。
 ※2. このプリントを活用したオンライン授業のスケジュールは、しながわ・目黒こどもスクールのウェブサイトでご確認ください。