



おうちで、やろう。

Study at home. 小学校受験の家庭学習教材

図形：回転 39

左のお手本が右のように回ったときの見え方を考えてかきます。

10 numbered pairs of circular diagrams. Each pair consists of a 'sample' circle on the left and a 'rotated' circle on the right. The sample circles contain various line segments connecting points on the circumference. The rotated circles show the same line segments after a 90-degree clockwise rotation. The numbers 1 through 10 are in circles to the left of each pair.

※1. このプリントは、しながわ・目黒こどもスクールのウェブサイトでダウンロードができます。無断複写・引用はご遠慮ください。
 ※2. このプリントを活用したオンライン授業のスケジュールは、しながわ・目黒こどもスクールのウェブサイトでご確認ください。



おうちで、やろう。

Study at home. 小学校受験の家庭学習教材

図形：回転 40

左のお手本が右のように回ったときの見え方を考えてかきます。

①

②

③

④

⑤

⑥

⑦

⑧

⑨

⑩

※1. このプリントは、しながわ・目黒こどもスクールのウェブサイトでダウンロードができます。無断複写・引用はご遠慮ください。
※2. このプリントを活用したオンライン授業のスケジュールは、しながわ・目黒こどもスクールのウェブサイトでご確認ください。



おうちで、やろう。

Study at home. 小学校受験の家庭学習教材

図形：回転 41

左のお手本が右のように回ったときの見え方を考えてかきます。

10 numbered pairs of diagrams, each pair showing a circle with 8 points. The left diagram in each pair shows a thin-lined polygon, and the right diagram shows the same polygon rotated 90 degrees clockwise, with thick-lined lines.

- ①: Thin-lined pentagon with vertices at 12, 2, 4, 6, and 8 o'clock. Thick-lined pentagon with vertices at 3, 5, 7, 9, and 11 o'clock.
- ②: Thin-lined quadrilateral with vertices at 12, 3, 6, and 9 o'clock. Thick-lined quadrilateral with vertices at 3, 6, 9, and 12 o'clock.
- ③: Thin-lined pentagon with vertices at 12, 2, 4, 6, and 8 o'clock. Thick-lined pentagon with vertices at 3, 5, 7, 9, and 11 o'clock.
- ④: Thin-lined quadrilateral with vertices at 12, 3, 6, and 9 o'clock. Thick-lined quadrilateral with vertices at 3, 6, 9, and 12 o'clock.
- ⑤: Thin-lined pentagon with vertices at 12, 2, 4, 6, and 8 o'clock. Thick-lined pentagon with vertices at 3, 5, 7, 9, and 11 o'clock.
- ⑥: Thin-lined pentagon with vertices at 12, 2, 4, 6, and 8 o'clock. Thick-lined pentagon with vertices at 3, 5, 7, 9, and 11 o'clock.
- ⑦: Thin-lined triangle with vertices at 12, 3, and 6 o'clock. Thick-lined triangle with vertices at 3, 6, and 9 o'clock.
- ⑧: Thin-lined quadrilateral with vertices at 12, 2, 4, and 6 o'clock. Thick-lined quadrilateral with vertices at 3, 5, 7, and 9 o'clock.
- ⑨: Thin-lined quadrilateral with vertices at 12, 3, 6, and 9 o'clock. Thick-lined quadrilateral with vertices at 3, 6, 9, and 12 o'clock.
- ⑩: Thin-lined pentagon with vertices at 12, 2, 4, 6, and 8 o'clock. Thick-lined pentagon with vertices at 3, 5, 7, 9, and 11 o'clock.

※1. このプリントは、しながわ・目黒こどもスクールのウェブサイトからダウンロードできます。無断複写・引用はご遠慮ください。
 ※2. このプリントを活用したオンライン授業のスケジュールは、しながわ・目黒こどもスクールのウェブサイトでご確認ください。








おうちで、やろう。

Study at home. 小学校受験の家庭学習教材

推理：水量 12

それぞれの四角の中のコップには水が入っています。4つのコップには黒いボールが入っています。ボールをコップの中から取り出した後、コップの水の量が一番少ないコップに○をつけます。



※1. このプリントは、しながわ・目黒こどもスクールのウェブサイトでダウンロードができます。無断複写・引用はご遠慮ください。
 ※2. このプリントを活用したオンライン授業のスケジュールは、しながわ・目黒こどもスクールのウェブサイトでご確認ください。








おうちで、やろう。

Study at home. 小学校受験の家庭学習教材

推理：水量 13

それぞれの四角の中のコップには水が入っています。4つのコップには黒いボールが入っています。ボールをコップの中から取り出した後、コップの水の量が一番多いコップに○をつけます。



※1. このプリントは、しながわ・目黒こどもスクールのウェブサイトでダウンロードができます。無断複写・引用はご遠慮ください。
 ※2. このプリントを活用したオンライン授業のスケジュールは、しながわ・目黒こどもスクールのウェブサイトでご確認ください。







おうちで、やろう。

Study at home. 小学校受験の家庭学習教材

推理：水量 14

それぞれの四角の中のコップには水が入っています。4つのコップには黒いボールが入っています。ボールをコップの中から取り出した後、コップの水の量が2番目に少ないコップに○、2番目に多いコップに×をつけます。



※1. このプリントは、しながわ・目黒こどもスクールのウェブサイトでダウンロードができます。無断複写・引用はご遠慮ください。

※2. このプリントを活用したオンライン授業のスケジュールは、しながわ・目黒こどもスクールのウェブサイトでご確認ください。



おうちで、やろう。

Study at home. 小学校受験の家庭学習教材

数量：複合7

横に並んだ4つの四角の中の果物のうち、数が一番多いものと一番少ないものの数を合わせるといくつになりますか。
合わせた数だけ、右の四角の中に○をかきます。

				$\bigcirc \times 5$
--	--	--	--	---------------------

				$\bigcirc \times 7$
--	--	--	--	---------------------

				$\bigcirc \times 9$
--	--	--	--	---------------------

				$\bigcirc \times 11$
--	--	--	--	----------------------

※1. このプリントは、しながわ・目黒こどもスクールのウェブサイトからダウンロードできます。無断複写・引用はご遠慮ください。
※2. このプリントを活用したオンライン授業のスケジュールは、しながわ・目黒こどもスクールのウェブサイトでご確認ください。



おうちで、やろう。

Study at home. 小学校受験の家庭学習教材

数量：複合8

横に並んだ4つの四角の中の果物のうち、数が2番目に多いものと2番目に少ないものの数を合わせるといくつになりますか。合わせた数だけ、右の四角の中に○をかきます。

				$\bigcirc \times 7$
--	--	--	--	---------------------

				$\bigcirc \times 9$
--	--	--	--	---------------------

				$\bigcirc \times 11$
--	--	--	--	----------------------

				$\bigcirc \times 13$
--	--	--	--	----------------------

※1. このプリントは、しながわ・目黒こどもスクールのウェブサイトでダウンロードができます。無断複写・引用はご遠慮ください。
 ※2. このプリントを活用したオンライン授業のスケジュールは、しながわ・目黒こどもスクールのウェブサイトでご確認ください。




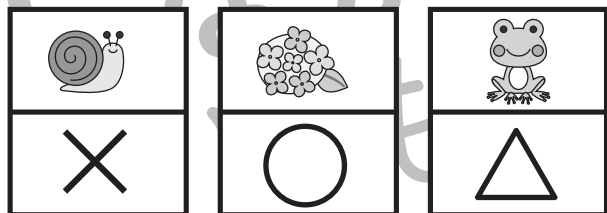






おうちで、やろう。

Study at home. 小学校受験の家庭学習教材

処理能力：置き換え8

上の太い四角の中の絵がお手本です。上の絵の時に下の四角にそれぞれの記号をかきます。問題は一番上の段の左からはじめて、右端まで見ます。1段目ができたら2段目の左から右。次に3段目の左から右と順番に記号をかきます。この問題はできるだけ早く記号をつけます。それぞれ1分以内を目指し取り組みましょう。



※1. このプリントは、しながわ・目黒こどもスクールのウェブサイトでダウンロードができます。無断複写・引用はご遠慮ください。
 ※2. このプリントを活用したオンライン授業のスケジュールは、しながわ・目黒こどもスクールのウェブサイトでご確認ください。