



おうちで、やろう。

Study at home. 小学校受験の家庭学習教材

指示の聞き取り 22

ここでは野菜や果物の販売所です。①～④のお話を聞いて、目印をつけましょう。

- ①ゆきさんは下から一段目の左から四番目の棚にある果物が食べたいので、お母さんと買い物に来るときにわかるように青色の○をつけました。
- ②めぐみさんは一番上の段の右から三番目の棚にある野菜をサラダにしておもうと考えて、緑色の△をつけました。
- ③けいたくさんは上から二段目の右から五番目の棚にある果物を毎朝食べています。今度忘れずに買うために、オレンジ色の□をつけました。
- ④たろうくんは下から二段目の左から三番目の棚にある野菜が苦手です。しかし、頑張って食べようと桃色で◎をつけました。

			緑 		
	橙 				
		桃 			
			青 		

※1. このプリントは、しながわ・目黒こどもスクールのウェブサイトでダウンロードができます。無断複写・引用はご遠慮ください。

※2. このプリントを活用したオンライン授業のスケジュールは、しながわ・目黒こどもスクールのウェブサイトでご確認ください。



おうちで、やろう。

Study at home. 小学校受験の家庭学習教材

言語：音の理解 32

太い四角の中の絵のはじめの音を使ってできるものを、右の四角の中から見つけて○をつけます。

※1. このプリントは、しながわ・目黒こどもスクールのウェブサイトでダウンロードができます。無断複写・引用はご遠慮ください。

※2. このプリントを活用したオンライン授業のスケジュールは、しながわ・目黒こどもスクールのウェブサイトでご確認ください。



おうちで、やろう。

Study at home. 小学校受験の家庭学習教材

言語：音の理解 33

太い四角の中の絵の真ん中の音を使ってできるものを、右の四角の中から見つけて○をつけます。

※1. このプリントは、しながわ・目黒こどもスクールのウェブサイトでダウンロードができます。無断複写・引用はご遠慮ください。

※2. このプリントを活用したオンライン授業のスケジュールは、しながわ・目黒こどもスクールのウェブサイトでご確認ください。

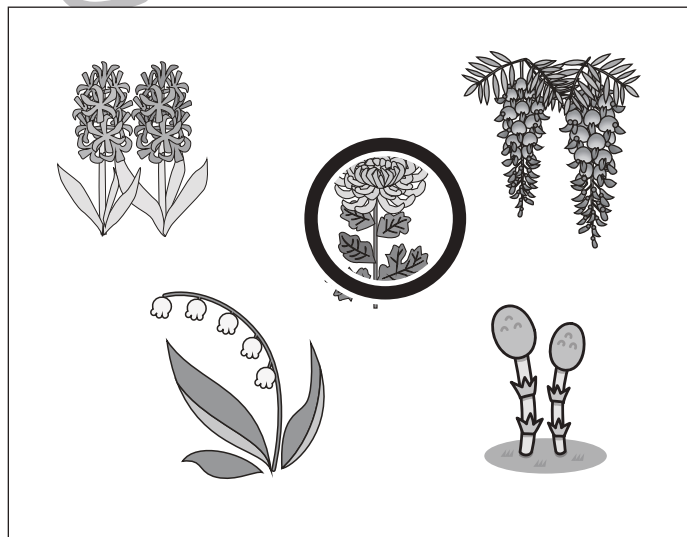






おうちで、やろう。

Study at home. 小学校受験の家庭学習教材

常識：季節 16

それぞれの四角の絵の中で、違う季節のものを1つ選んで○をつけます。



※1. このプリントは、しながわ・目黒こどもスクールのウェブサイトでダウンロードができます。無断複写・引用はご遠慮ください。

※2. このプリントを活用したオンライン授業のスケジュールは、しながわ・目黒こどもスクールのウェブサイトでご確認ください。



おうちで、やろう。

Study at home. 小学校受験の家庭学習教材

推理：じゃんけん 13

トラとパンダがじゃんけんをします。それぞれの顔の横に並んだ手を順番に出していったら何回ずつ勝ちますか。それぞれの動物がじゃんけんで勝った数だけ、下の四角のそれぞれの顔の横に○をかきます。

	○	×	3		○	×	3
--	---	---	---	--	---	---	---

	○	×	2		○	×	3
--	---	---	---	--	---	---	---

	○	×	3		○	×	3
--	---	---	---	--	---	---	---

※1. このプリントは、しながわ・目黒こどもスクールのウェブサイトでダウンロードができます。無断複写・引用はご遠慮ください。

※2. このプリントを活用したオンライン授業のスケジュールは、しながわ・目黒こどもスクールのウェブサイトでご確認ください。



おうちで、やろう。

Study at home. 小学校受験の家庭学習教材

推理：じゃんけん 14

トラとパンダがじゃんけんをします。勝つと飴が2つもらえます。あいこや負けではもらえません。動物の横に並んだ手の通りに順番にじゃんけんをしていくと、最後に飴を多くもらえるのはどちらですか。多くもらった方の動物の顔に○をつけましょう。

※1. このプリントは、しながわ・目黒こどもスクールのウェブサイトでダウンロードができます。無断複写・引用はご遠慮ください。

※2. このプリントを活用したオンライン授業のスケジュールは、しながわ・目黒こどもスクールのウェブサイトでご確認ください。

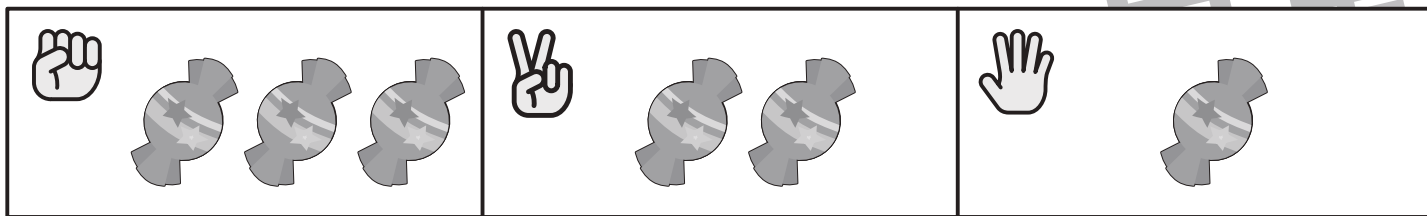


おうちで、やろう。

Study at home. 小学校受験の家庭学習教材

推理：じゃんけん 15

トラとパンダがじゃんけんをします。グーで勝つと飴が3つもらえます。チョキで勝つと飴が2つもらえます。パーで勝つと飴が1つもらえます。あいこや負けではもらえません。動物の横に並んだ手の通りに順番にじゃんけんをしていくと、最後に飴を多くもらえるのはどちらですか。多くもらった方の動物の顔に○をつけましょう。



※1. このプリントは、しながわ・目黒こどもスクールのウェブサイトでダウンロードができます。無断複写・引用はご遠慮ください。

※2. このプリントを活用したオンライン授業のスケジュールは、しながわ・目黒こどもスクールのウェブサイトでご確認ください。

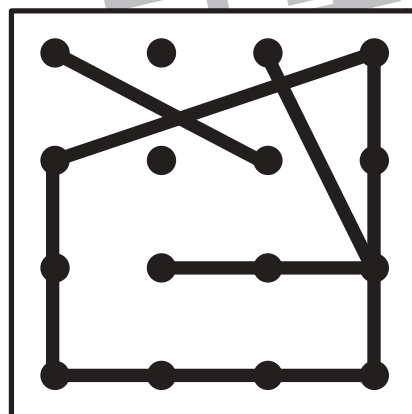
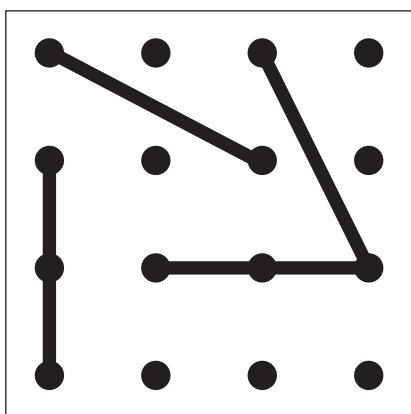
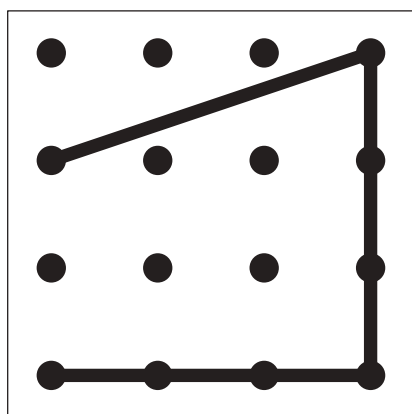
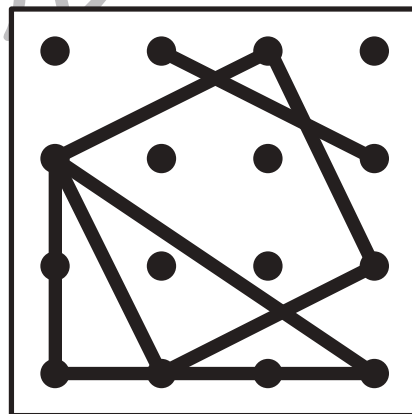
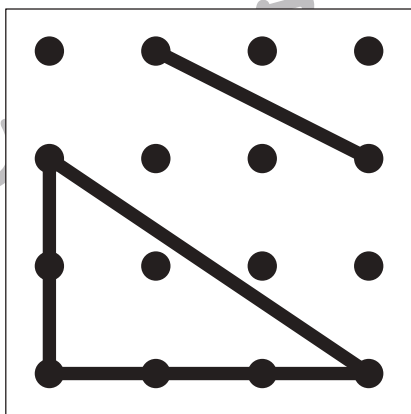

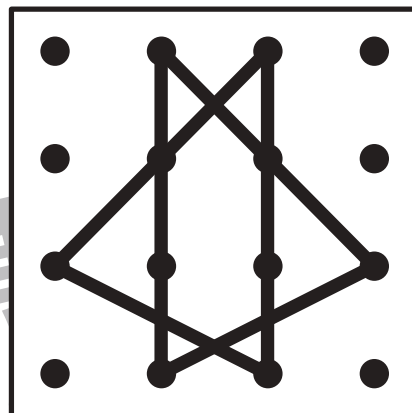
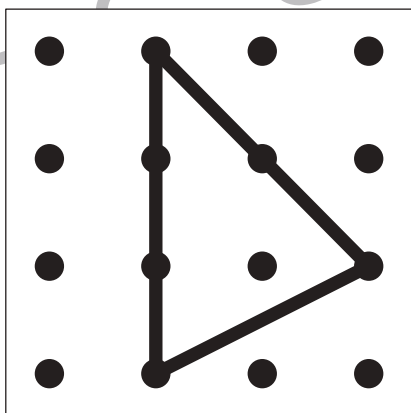
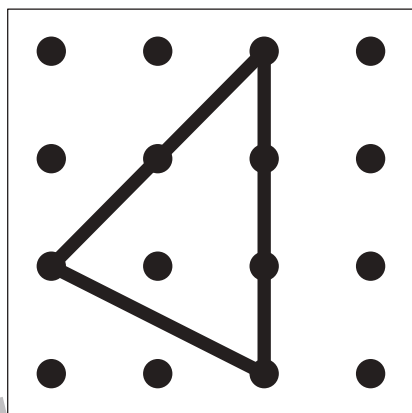
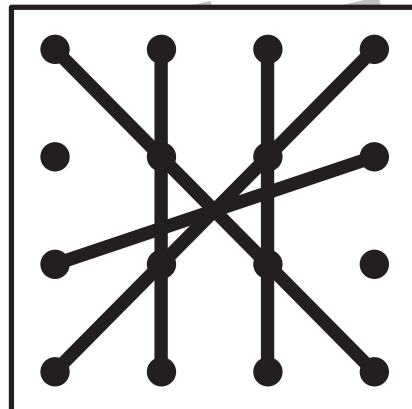
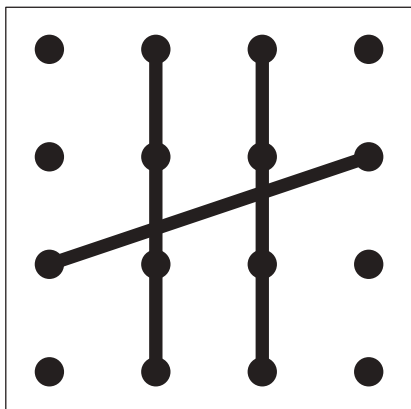
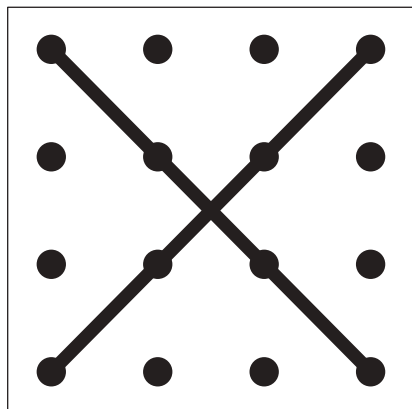


おうちで、やろう。

Study at home. 小学校受験の家庭学習教材

図形：重ね点図形 20

左の2枚の点図形を重ねた形を考えて、矢印の右の四角にかきます。



※1. このプリントは、しながわ・目黒こどもスクールのウェブサイトでダウンロードができます。無断複写・引用はご遠慮ください。

※2. このプリントを活用したオンライン授業のスケジュールは、しながわ・目黒こどもスクールのウェブサイトでご確認ください。



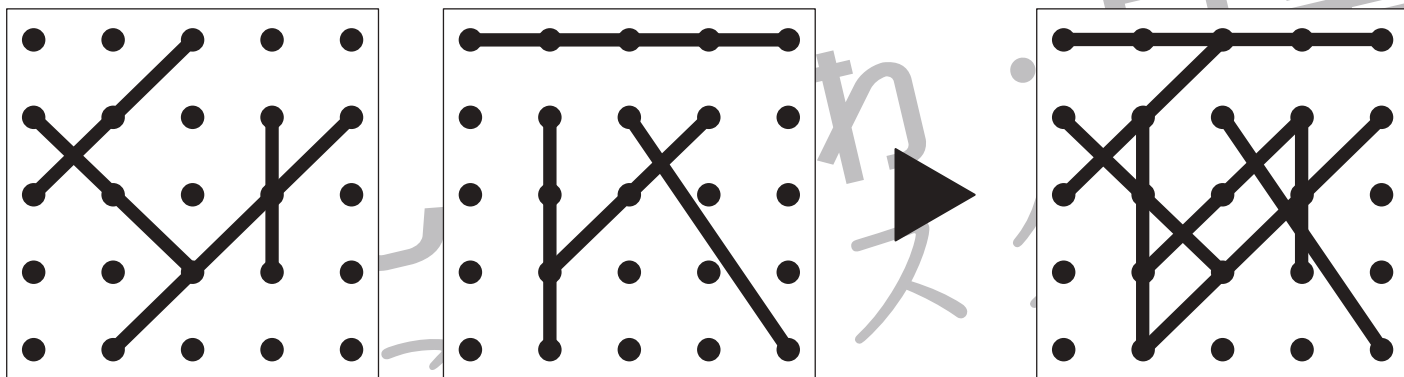
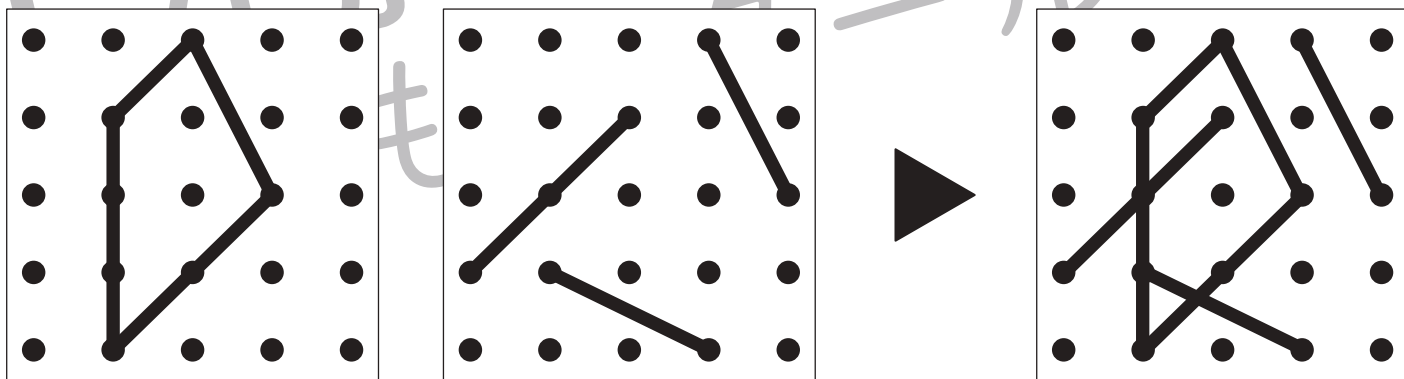
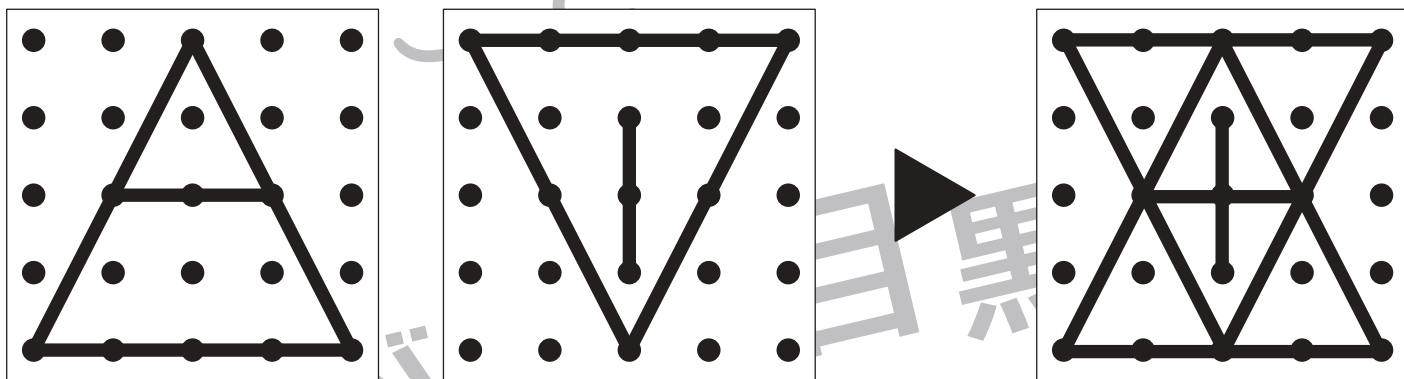
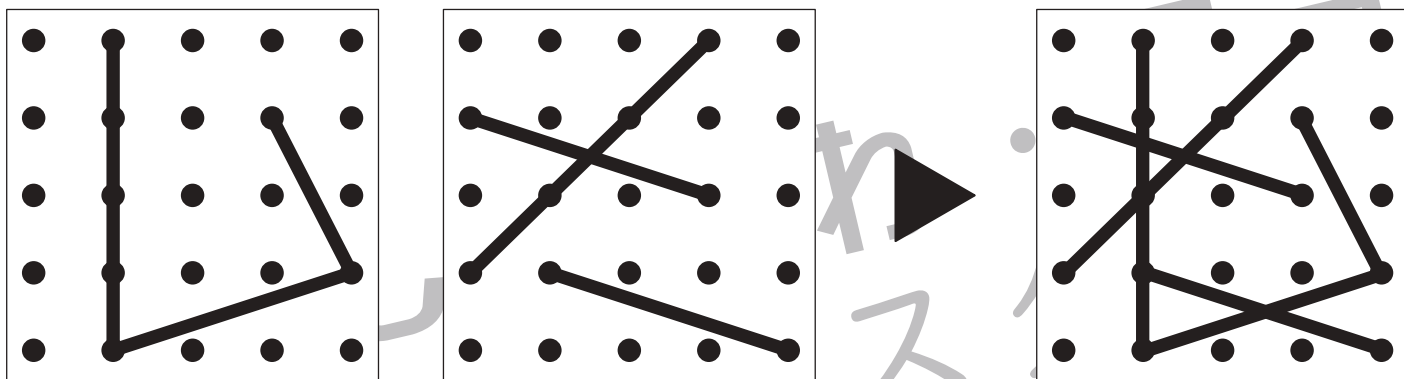


おうちで、やろう。

Study at home. 小学校受験の家庭学習教材

図形：重ね点図形 21

左の2枚の点図形を重ねた形を考えて、矢印の右の四角にかきます。



※1. このプリントは、しながわ・目黒こどもスクールのウェブサイトでダウンロードができます。無断複写・引用はご遠慮ください。
 ※2. このプリントを活用したオンライン授業のスケジュールは、しながわ・目黒こどもスクールのウェブサイトでご確認ください。