



# おうちで、やろう。

Study at home. 小学校受験の家庭学習教材

## 言語：音の理解 34

太い四角の中の絵のおわりの音を使ってできるものを、右の四角の中から見つけて○をつけます。


※1. このプリントは、しながわ・目黒こどもスクールのウェブサイトからダウンロードできます。無断複写・引用はご遠慮ください。

※2. このプリントを活用したオンライン授業のスケジュールは、しながわ・目黒こどもスクールのウェブサイトでご確認ください。



# おうちで、やろう。

Study at home. 小学校受験の家庭学習教材

## 常識：季節 17

太い四角の中の絵と同じ季節の花を、下の四角の中から見つけて○をつけます。

Top-left icon: A traditional Japanese festival float (float festival).

Top-right: A cluster of daisies.

Middle-left: A bunch of grapes.

Middle-right: A chrysanthemum.

Bottom-left: A bell-shaped flower (Campanula).

Bottom-right: A large, dark flower (possibly a peony).

Top-left icon: A family (mother, father, child) with school bags.

Top-right: A cluster of white flowers (possibly lilies or tulips).

Middle-left: A single carnation.

Middle-right: A cluster of daisies.

Bottom-left: A cluster of dandelions.

Bottom-right: A cluster of dandelions.

Top-left icon: A traditional Japanese festival float (float festival).

Top-right: A cluster of white flowers (possibly lilies or tulips).

Middle-left: A tulip.

Middle-right: A bunch of hanging flowers (possibly wisteria).

Bottom-left: A potted plant (possibly a geranium).

Bottom-right: A flower with a star in the center (possibly a geranium).

Top-left icon: Two children in traditional Japanese clothing.

Top-right: A large tree with many small flowers (possibly a cherry blossom tree).

Middle-left: A lily.

Middle-right: A cluster of small flowers (possibly a hydrangea).

Bottom-left: A cluster of flowers (possibly a geranium).

Bottom-right: A sunflower.

※1. このプリントは、しながわ・目黒こどもスクールのウェブサイトでダウンロードができます。無断複写・引用はご遠慮ください。  
 ※2. このプリントを活用したオンライン授業のスケジュールは、しながわ・目黒こどもスクールのウェブサイトでご確認ください。







# おうちで、やろう。

Study at home. 小学校受験の家庭学習教材

## 常識：季節 18

太い四角の中の花の季節と同じ季節のものを、下の四角の中から見つけて○をつけます。



※1. このプリントは、しながわ・目黒こどもスクールのウェブサイトでダウンロードができます。無断複写・引用はご遠慮ください。  
 ※2. このプリントを活用したオンライン授業のスケジュールは、しながわ・目黒こどもスクールのウェブサイトでご確認ください。




# おうちで、やろう。

Study at home. 小学校受験の家庭学習教材


推理：右左5

①左手に○をつけます。②右手に×をつけます。

①



②



※1. このプリントは、しながわ・目黒こどもスクールのウェブサイトからダウンロードできます。無断複写・引用はご遠慮ください。

※2. このプリントを活用したオンライン授業のスケジュールは、しながわ・目黒こどもスクールのウェブサイトでご確認ください。






# おうちで、やろう。

Study at home. 小学校受験の家庭学習教材


推理：右左6

①右手に×をつけます。②左手に○をつけます。

①



②



※1. このプリントは、しながわ・目黒こどもスクールのウェブサイトでダウンロードができます。無断複写・引用はご遠慮ください。

※2. このプリントを活用したオンライン授業のスケジュールは、しながわ・目黒こどもスクールのウェブサイトでご確認ください。



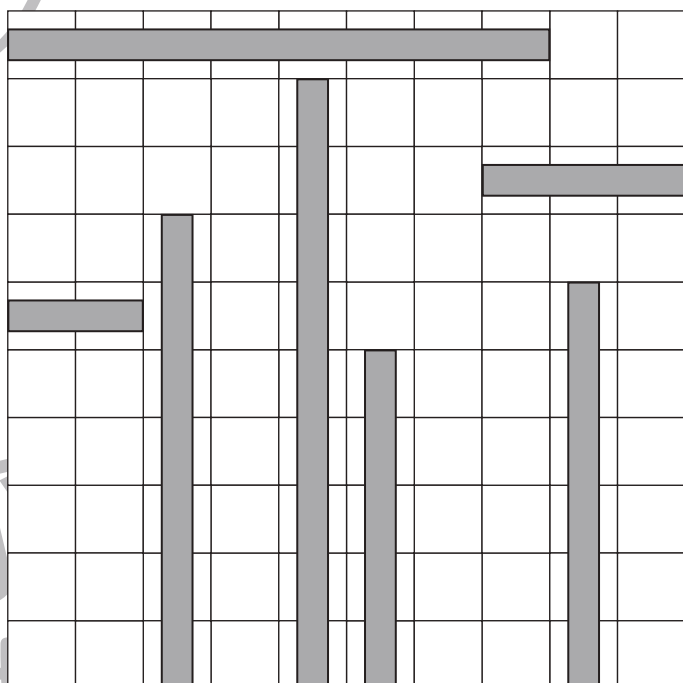
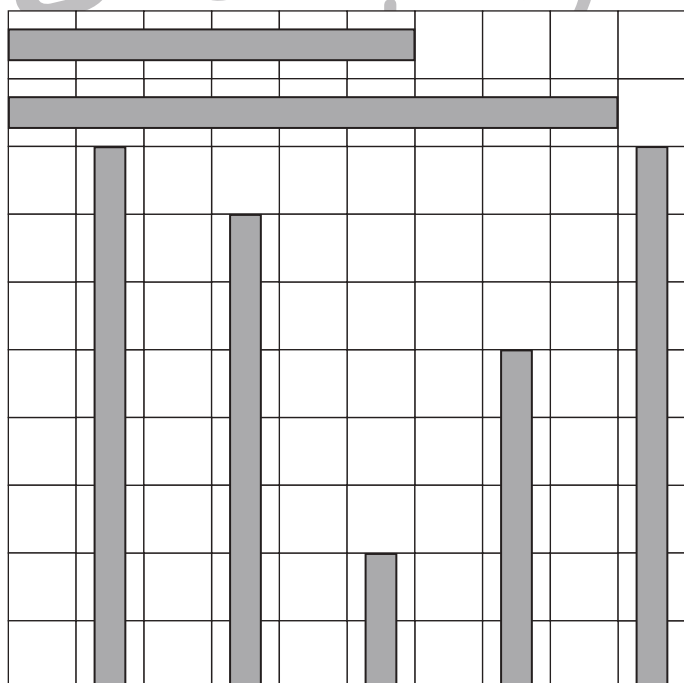
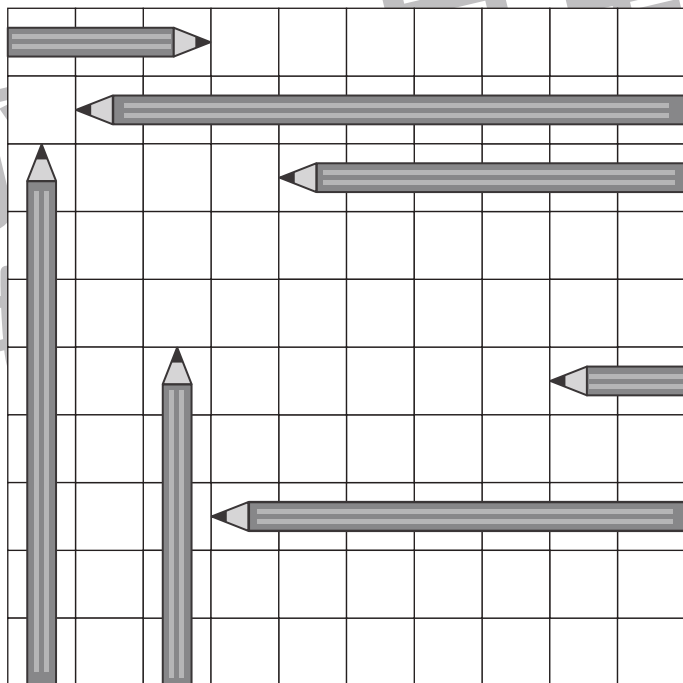
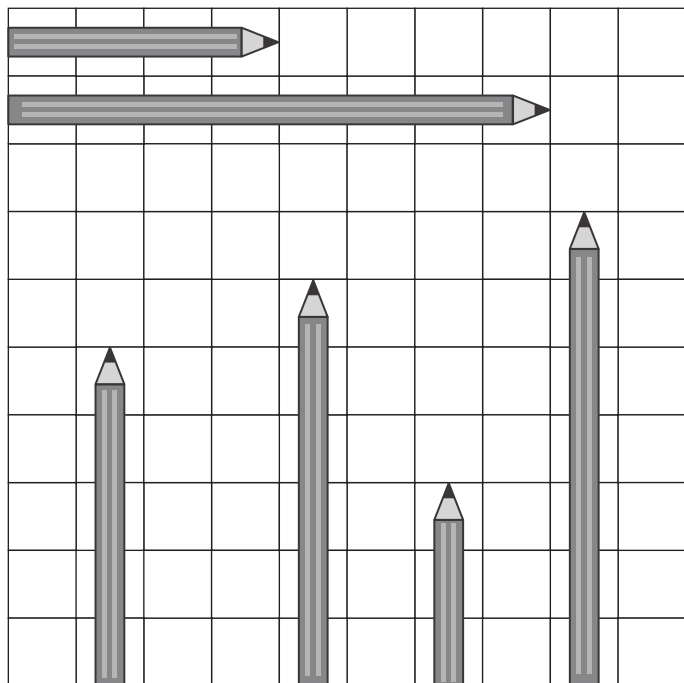


# おうちで、やろう。

Study at home. 小学校受験の家庭学習教材

推理：長さ3

それぞれの四角の中で、1番長いものには○を、3番目に短いものには△をつけます。



※1. このプリントは、しながわ・目黒こどもスクールのウェブサイトでダウンロードができます。無断複写・引用はご遠慮ください。  
※2. このプリントを活用したオンライン授業のスケジュールは、しながわ・目黒こどもスクールのウェブサイトでご確認ください。



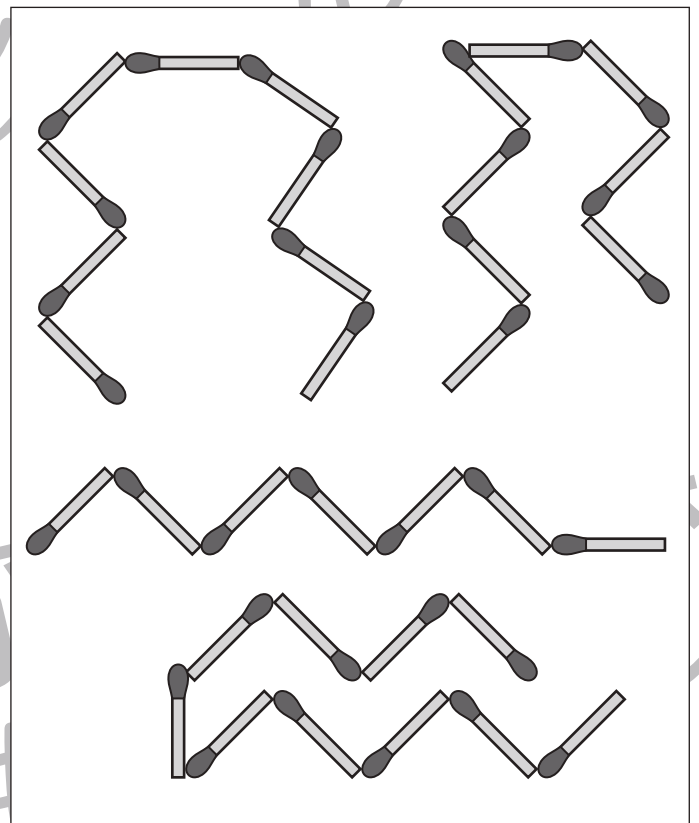
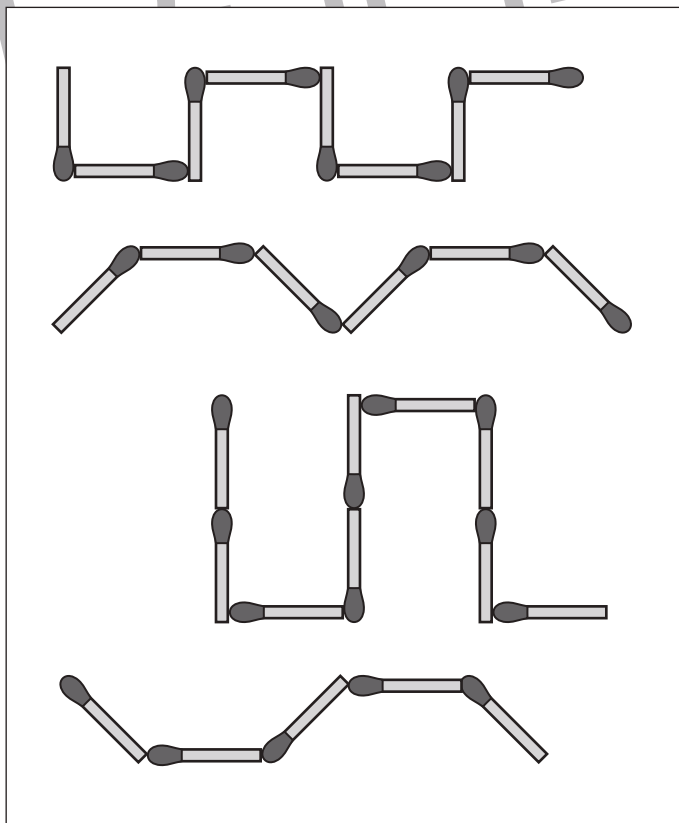
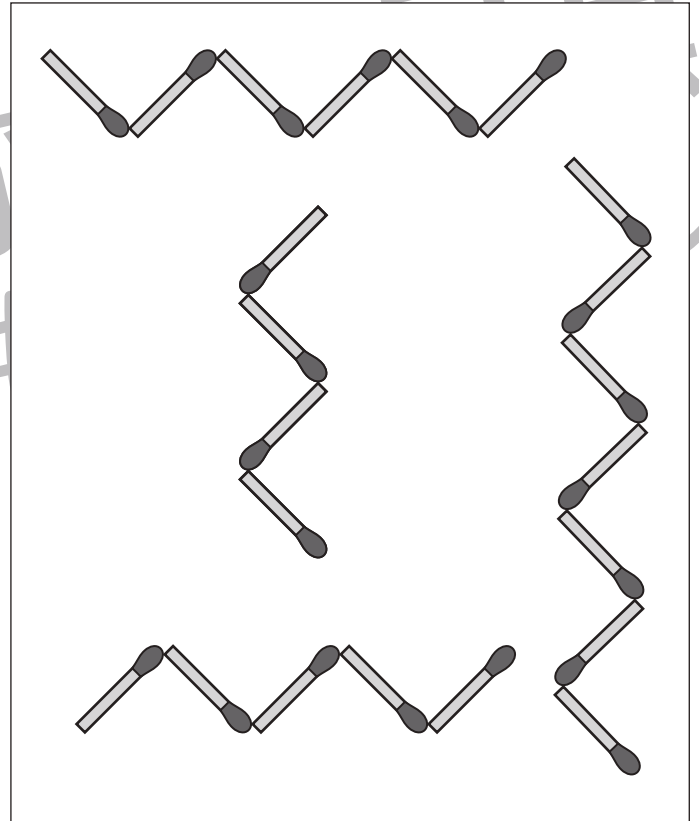
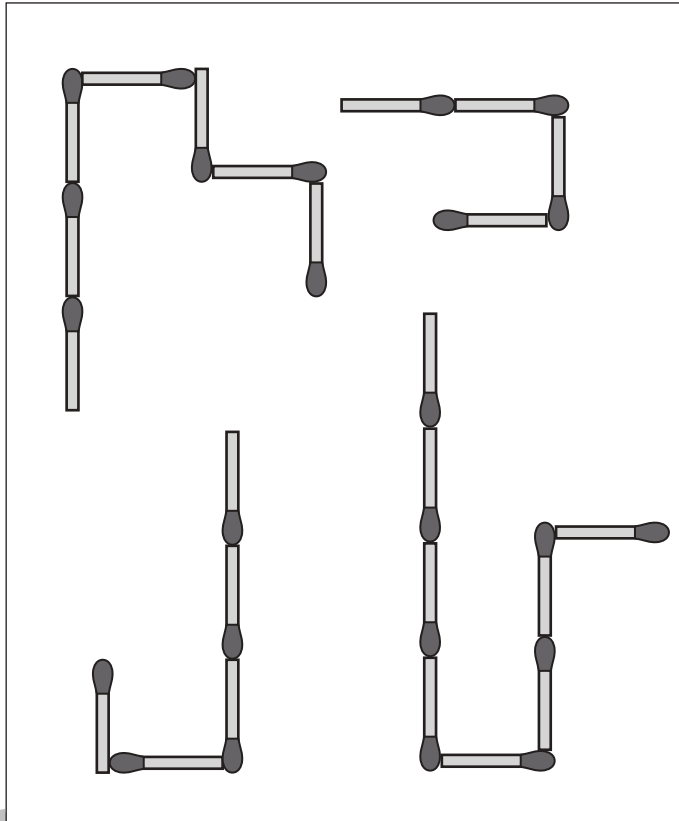


# おうちで、やろう。

Study at home. 小学校受験の家庭学習教材

## 推理：長さ4

それぞれの四角の中のマッチ棒をまっすぐ並べた時、1番長くなるものには○を、2番目に短くなるものには△をつけます。



※1. このプリントは、しながわ・目黒こどもスクールのウェブサイトでダウンロードができます。無断複写・引用はご遠慮ください。  
※2. このプリントを活用したオンライン授業のスケジュールは、しながわ・目黒こどもスクールのウェブサイトでご確認ください。

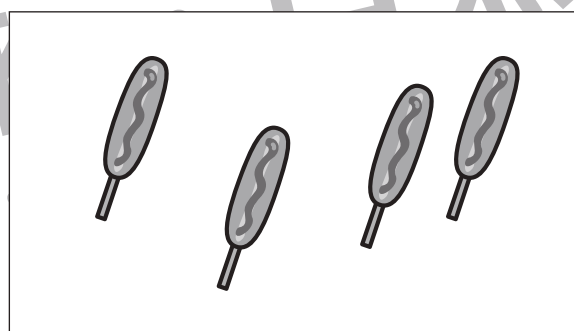


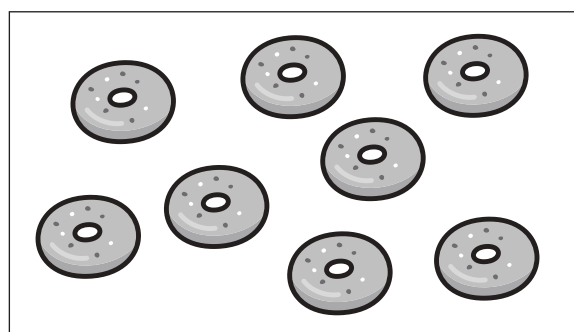

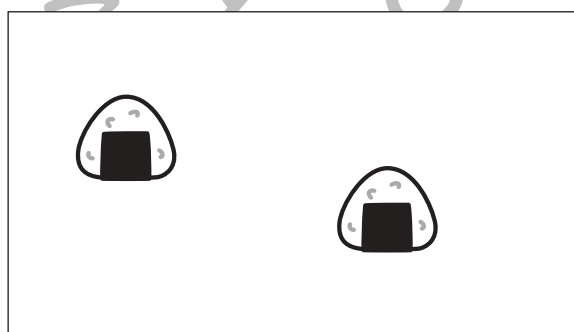
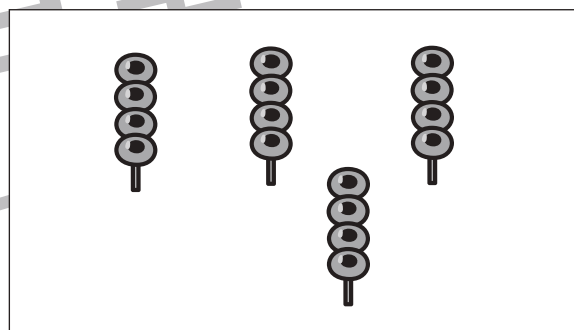

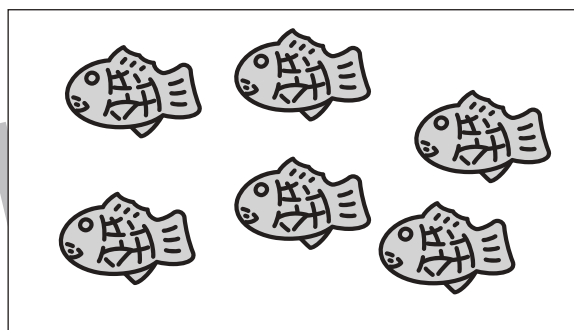


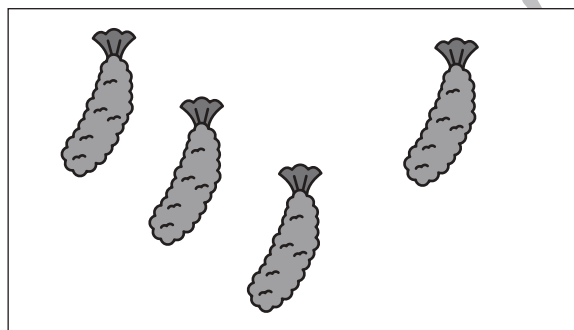





# おうちで、やろう。

Study at home. 小学校受験の家庭学習教材

数量：複合9

左と右の四角の中のものの数が、合わせて8になるものには○を、合わせて10になるものには△を、8にも10にもならないものには×を、真ん中の太い四角の中にかきます。



※1. このプリントは、しながわ・目黒こどもスクールのウェブサイトでダウンロードができます。無断複写・引用はご遠慮ください。  
※2. このプリントを活用したオンライン授業のスケジュールは、しながわ・目黒こどもスクールのウェブサイトでご確認ください。












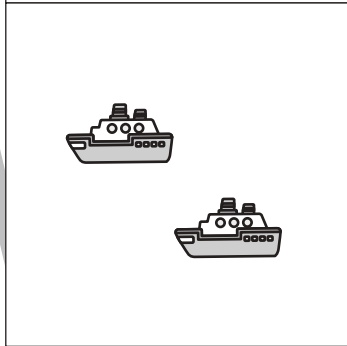
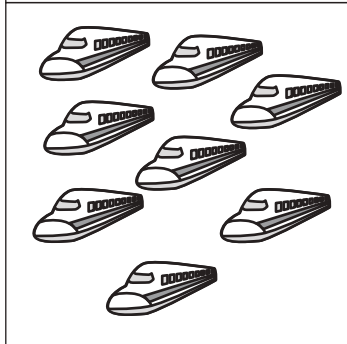
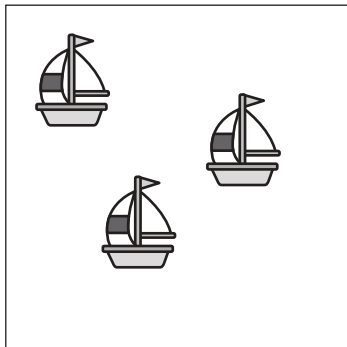


# おうちで、やろう。

Study at home. 小学校受験の家庭学習教材

数量：複合 10

左側の四角の中のものの数と右側の四角の中のものの数を合わせて9になるように、点と点を線でむすびます。



※1. このプリントは、しながわ・目黒こどもスクールのウェブサイトでダウンロードができます。無断複写・引用はご遠慮ください。  
※2. このプリントを活用したオンライン授業のスケジュールは、しながわ・目黒こどもスクールのウェブサイトでご確認ください。


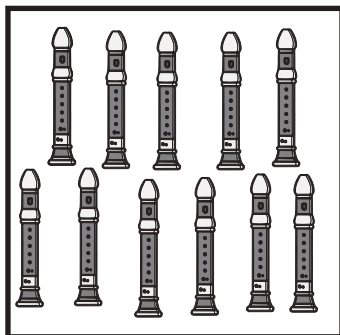


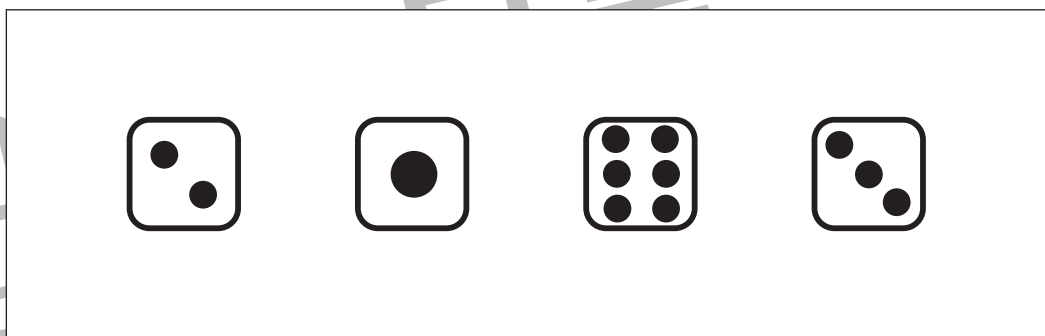


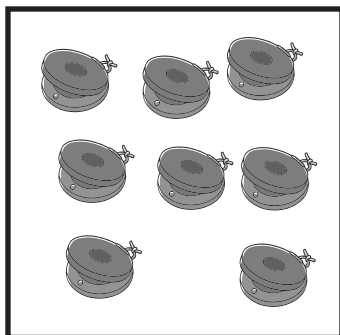
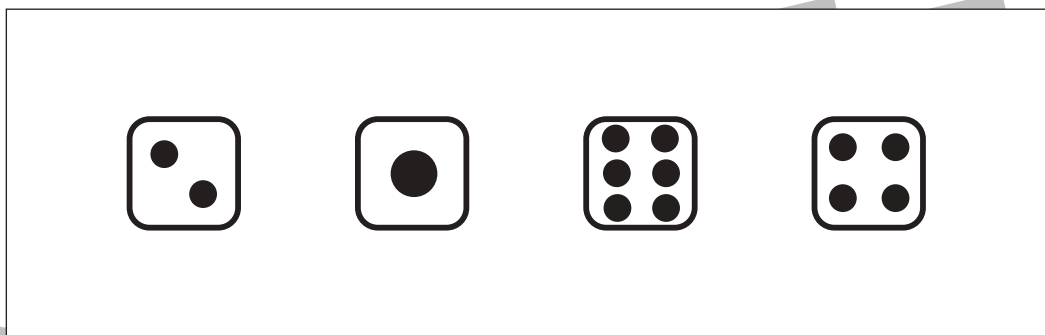



# おうちで、やろう。

Study at home. 小学校受験の家庭学習教材

数量：複合 11

太い四角の中の絵の数にするには、右のサイコロのどれとどれを合わせれば良いですか。右から2つ選んで○をつけます。



※1. このプリントは、しながわ・目黒こどもスクールのウェブサイトでダウンロードができます。無断複写・引用はご遠慮ください。  
※2. このプリントを活用したオンライン授業のスケジュールは、しながわ・目黒こどもスクールのウェブサイトでご確認ください。

