



おうちで、やろう。 年中児版

Study at home. 小学校受験の家庭学習教材

記憶：絵の記憶6

記憶用紙

別紙『記憶 - 絵の記憶6』を行う際に使用します。記憶用紙は点線で折って(切って)、①、②、③の問題の際にそれぞれ 20 秒間ずつ記憶させてください。記憶する際は問題用紙は裏返しにします。記憶後①、②、③それぞれの問題に答えましょう。





①左から2番目に並んでいた動物は何ですか。その動物に○をつけましょう。

②お弁当の中に卵焼きは何個入っていましたか。その数だけ○を塗りましょう。


③今見た絵と同じになるように色を塗りましょう。

目黒

①





②



目黒

③



※1. このプリントは、しながわ・目黒こどもスクールのウェブサイトでダウンロードができます。無断複写・引用はご遠慮ください。

※2. このプリントを活用したオンライン授業のスケジュールは、しながわ・目黒こどもスクールのウェブサイトでご確認ください。






おうちで、やろう。 年中児版

Study at home. 小学校受験の家庭学習教材


記憶：絵の記憶6

別紙『記憶 - 絵の記憶6記憶用紙』を使用します。記憶用紙の形を見た後に①、②、③の問題に取り組みましょう。
※このプリントの解答は記憶用紙で確認してください。


①



②



③

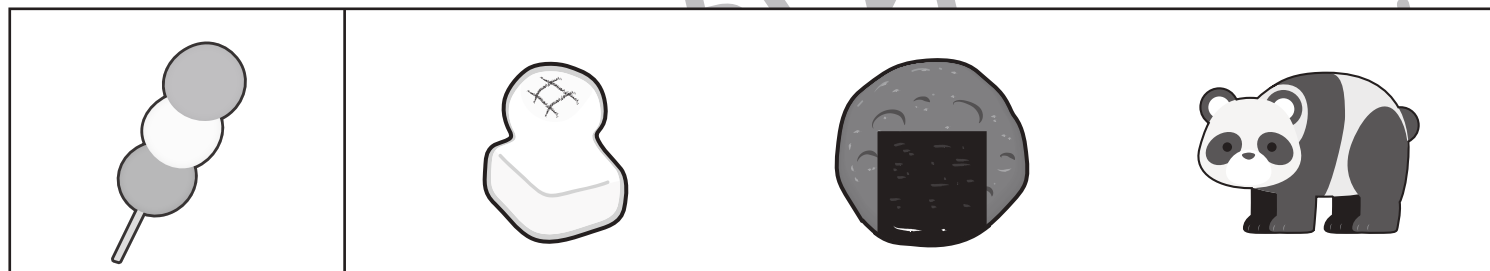





※1. このプリントは、しながわ・目黒こどもスクールのウェブサイトからダウンロードできます。無断複写・引用はご遠慮ください。

※2. このプリントを活用したオンライン授業のスケジュールは、しながわ・目黒こどもスクールのウェブサイトでご確認ください。



左の四角の中の絵のはじめの音と、右の四角の中の絵のおわりの音が同じものはどれですか。正しい物に○をつけましょう。



※1. このプリントは、しながわ・目黒こどもスクールのウェブサイトからダウンロードできます。無断複写・引用はご遠慮ください。
 ※2. このプリントを活用したオンライン授業のスケジュールは、しながわ・目黒こどもスクールのウェブサイトでご確認ください。











おうちで、やろう。 年中児版

Study at home. 小学校受験の家庭学習教材

常識：生物8

水の中でも陸の上でも生活できる生き物に○をつけましょう。



※1. このプリントは、しながわ・目黒こどもスクールのウェブサイトからダウンロードできます。無断複写・引用はご遠慮ください。

※2. このプリントを活用したオンライン授業のスケジュールは、しながわ・目黒こどもスクールのウェブサイトでご確認ください。





おうちで、よろう。 年中児版

Study at home. 小学校受験の家庭学習教材

図形：重ね点図形 7

左と右の点図形を重ねたとき、どんな形になりますか。矢印の右側の四角に書きましょう。

※1. このプリントは、しながわ・目黒こどもスクールのウェブサイトでダウンロードができます。無断複写・引用はご遠慮ください。
 ※2. このプリントを活用したオンライン授業のスケジュールは、しながわ・目黒こどもスクールのウェブサイトでご確認ください。



おうちで、よろう。 年中児版

Study at home. 小学校受験の家庭学習教材

図形：重ね点図形8

左と右の点図形を重ねたとき、どんな形になりますか。矢印の右側の四角に書きましょう。

※1. このプリントは、しながわ・目黒こどもスクールのウェブサイトからダウンロードできます。無断複写・引用はご遠慮ください。
 ※2. このプリントを活用したオンライン授業のスケジュールは、しながわ・目黒こどもスクールのウェブサイトでご確認ください。

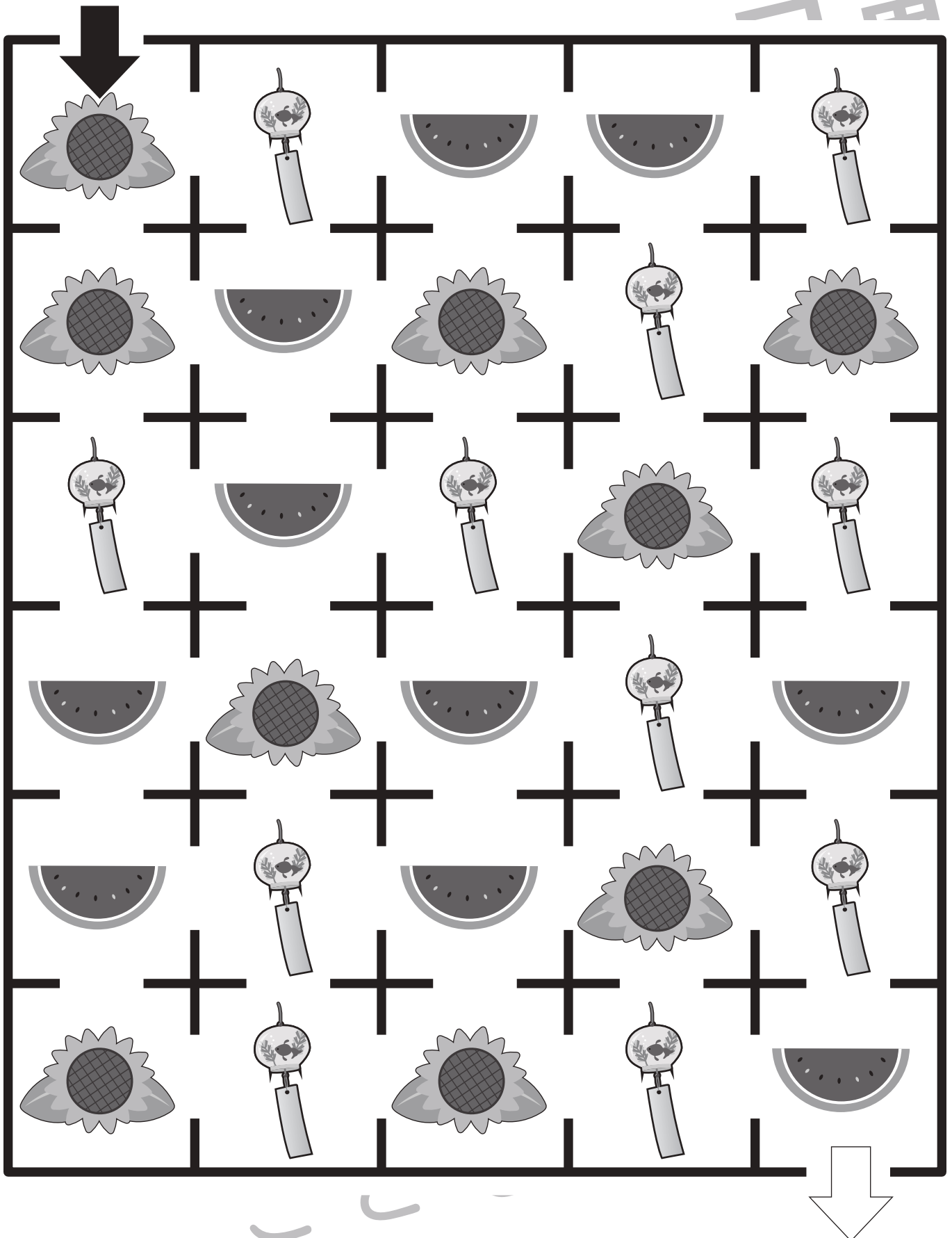


おうちで、やろう。

Study at home. 小学校受験の家庭学習教材

推理：条件迷路 3

➡から⇨まで、「ヒマワリ・風鈴・スイカ」の順に通って線をかきましょう。(答え1つではありませんので、約束通りにゴールできれば正解とします。)



※1. このプリントは、しながわ・目黒こどもスクールのウェブサイトでダウンロードができます。無断複写・引用はご遠慮ください。

※2. このプリントを活用したオンライン授業のスケジュールは、しながわ・目黒こどもスクールのウェブサイトでご確認ください。




おうちで、やろう。 年中児版

Study at home. 小学校受験の家庭学習教材

数量：計数 23

上の大きな四角の中の絵を見て、それぞれの数を下の四角の中の絵の右に○をかきましょう。



※1. このプリントは、しながわ・目黒こどもスクールのウェブサイトでダウンロードができます。無断複写・引用はご遠慮ください。
 ※2. このプリントを活用したオンライン授業のスケジュールは、しながわ・目黒こどもスクールのウェブサイトでご確認ください。









おうちで、やろう。 年中児版

Study at home. 小学校受験の家庭学習教材

巧緻性：模写7

左の四角の中の絵がお手本です。お手本と同じ大きさ、形になるように左の四角にかきましょう。
※この問題に解答はありません。



※1. このプリントは、しながわ・目黒こどもスクールのウェブサイトでダウンロードができます。無断複写・引用はご遠慮ください。

※2. このプリントを活用したオンライン授業のスケジュールは、しながわ・目黒こどもスクールのウェブサイトでご確認ください。

