



上の絵の始めの音を全てつなげて、言葉を作ります。できた言葉を下の四角の絵から見つけて、黒い点と点を線で結びましょう。

※1. このプリントは、しながわ・目黒こどもスクールのウェブサイトでダウンロードができます。無断複写・引用はご遠慮ください。
 ※2. このプリントを活用したオンライン授業のスケジュールは、しながわ・目黒こどもスクールのウェブサイトでご確認ください。



おうちで、やろう。年中児版

Study at home. 小学校受験の家庭学習教材

数量：広さ10

下の大きな四角の中で一番広い形に○、一番狭い形に×、二番目に狭い形に口をかきましょう。

※1. このプリントは、しながわ・目黒こどもスクールのウェブサイトからダウンロードできます。無断複写・引用はご遠慮ください。
※2. このプリントを活用したオンライン授業のスケジュールは、しながわ・目黒こどもスクールのウェブサイトでご確認ください。



おうちで、やろう。 年中児版

Study at home. 小学校受験の家庭学習教材

図形：重なり4

下の太い四角の中のお手本は色々な形が重なっています。一番下にある形を選んで○をつけましょう。

※1. このプリントは、しながわ・目黒こどもスクールのウェブサイトでダウンロードができます。無断複写・引用はご遠慮ください。

※2. このプリントを活用したオンライン授業のスケジュールは、しながわ・目黒こどもスクールのウェブサイトでご確認ください。

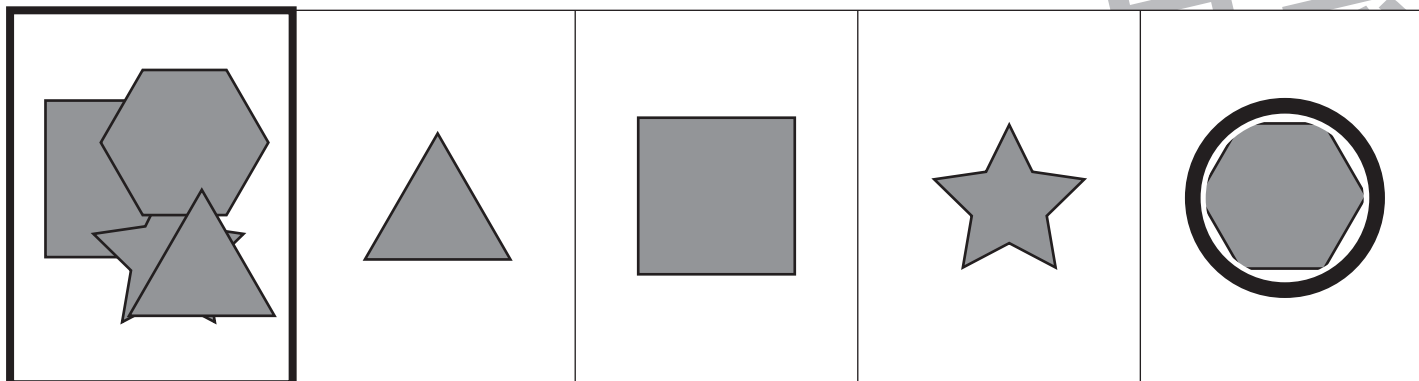
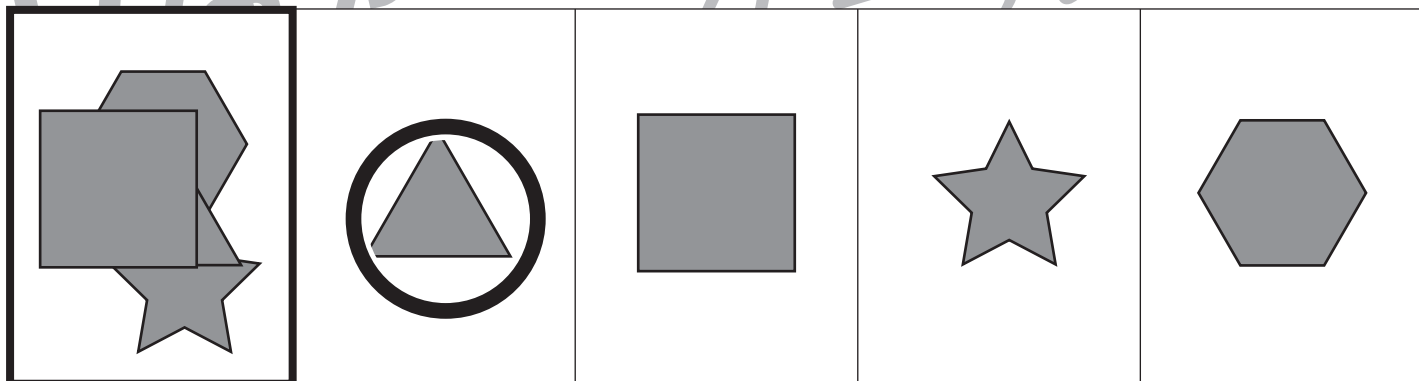
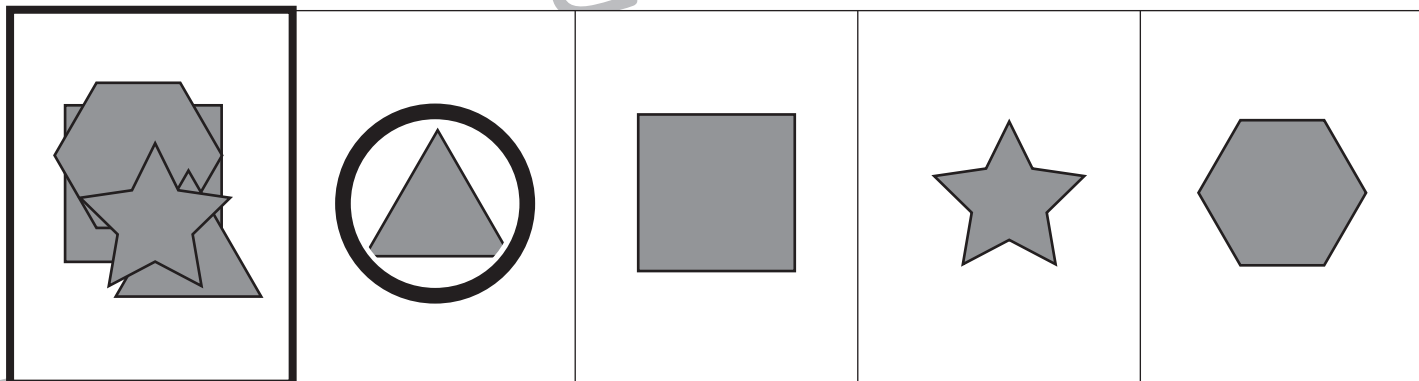
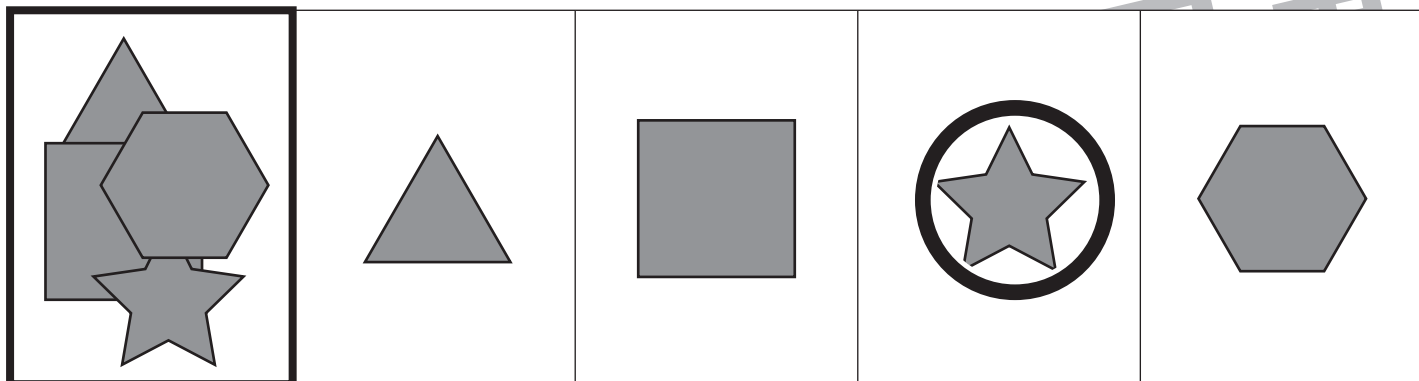


おうちで、やろう。 年中児版

Study at home. 小学校受験の家庭学習教材

図形：重なり5

下の太い四角の中のお手本は色々な形が重なっています。上から2番目にある形を選んで、○をつけましょう。



※1. このプリントは、しながわ・目黒こどもスクールのウェブサイトでダウンロードができます。無断複写・引用はご遠慮ください。

※2. このプリントを活用したオンライン授業のスケジュールは、しながわ・目黒こどもスクールのウェブサイトでご確認ください。



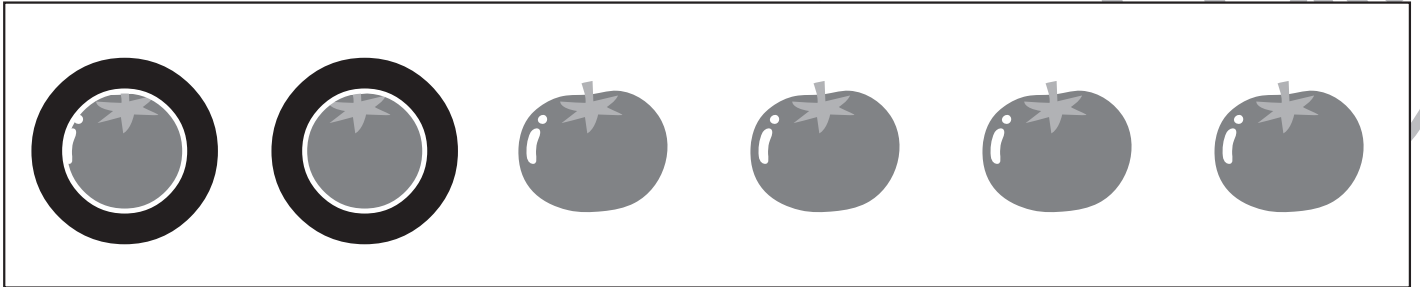
おうちで、やろう。 年中児版

Study at home. 小学校受験の家庭学習教材

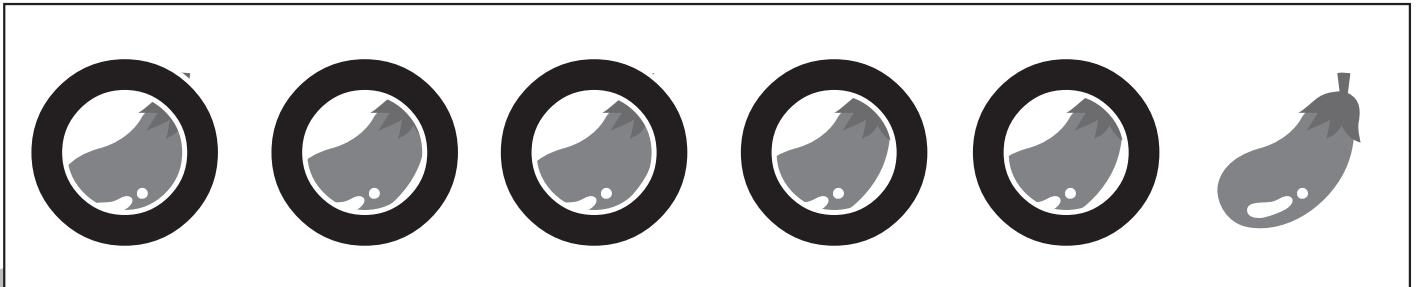
数量：加減 10

下の①～④の問題を読んで、答えましょう。

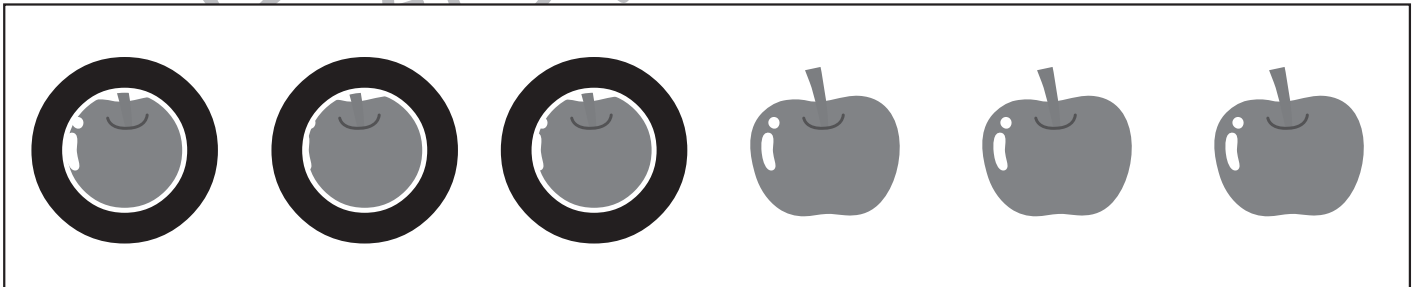
①畑にトマトが4つなっています。カラスが2つとっていきました。畑に残っているトマトの数は全部でいくつになりますか。その数だけ、下の四角の中の絵に○をつけましょう。



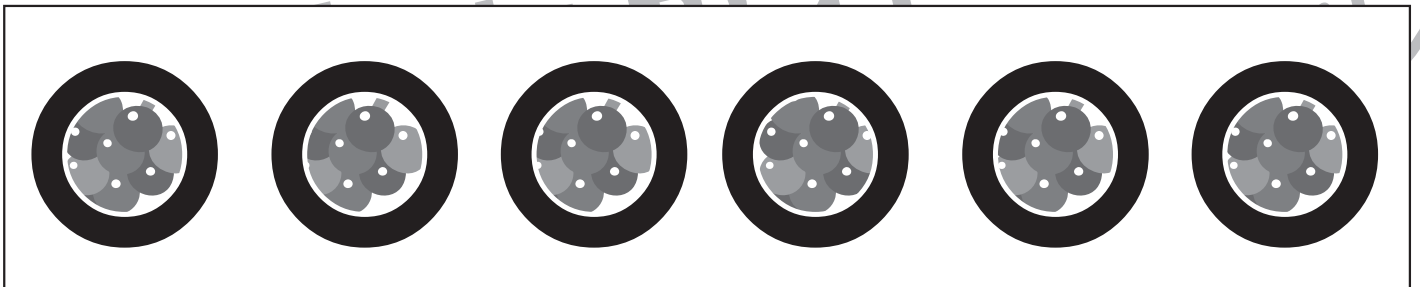
②家の机の上にはナスが3本置いてあります。お母さんが2本買ってきました。家の机の上のナスは合わせて何本になりますか。その数だけ、下の四角の中の絵に○をつけましょう。



③ともこさんはリンゴを5つ持っています。おやつにリンゴを1つ食べて、夜ごはんにも1つリンゴを食べました。残っているリンゴは合わせていくつになりますか。その数だけ、下の四角の中の絵に○をつけましょう。



④公園の木にブドウが2つなっていました。次の日、その木を見ると、ブドウが4つ増えていました。木には合わせてブドウはいくつなっていますか。その数だけ、下の四角の中の絵に○をつけましょう。





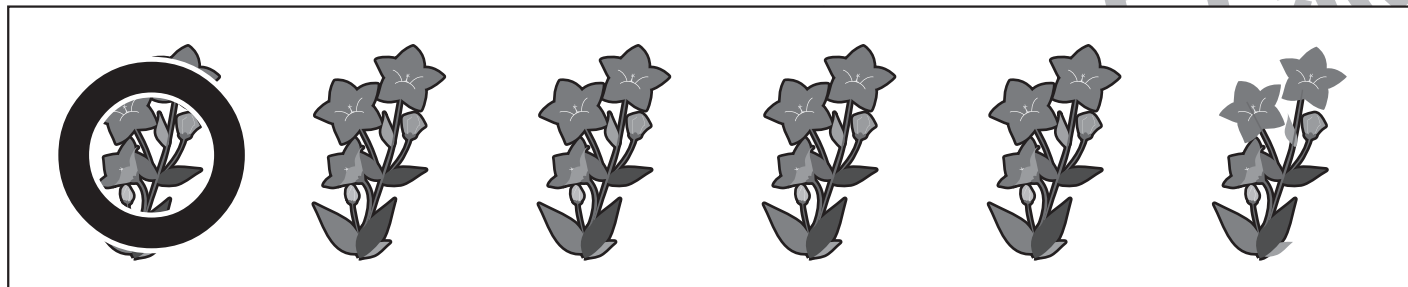
おうちで、やろう。 年中児版

Study at home. 小学校受験の家庭学習教材


数量：加減 11

下の①～④の問題を読んで、答えましょう。


①ゾウが花を5本持っています。1本ウサギにあげて、3本キツネにあげました。ゾウが持っているは花の数は合わせて何本になりますか。その数だけ、下の四角の中の絵に○をつけましょう。




②家の花瓶の中に花が4本入っています。2本枯れたので捨てました。お母さんがお店で、花を3本買ってきたので花瓶に入れました。花瓶の中の花は全部で何本になりますか。その数だけ、下の四角の中の絵に○をつけましょう。



③春になって、野原に花が5本咲きました。1本はおばあさんが持って帰り、2本はおじいさんが持って帰りました。野原に咲いている花は合わせていくつになりますか。その数だけ、下の四角の中の絵に○をつけましょう。



④パンダが誕生日にキツネに花を4本プレゼントしました。ウサギもキツネに2本、花をプレゼントし、ライオンも1本プレゼントしました。花は全部で何本になりますか。その数だけ、下の四角の中の絵に○をつけましょう。



※1. このプリントは、しながわ・目黒こどもスクールのウェブサイトダウンロードができます。無断複写・引用はご遠慮ください。

※2. このプリントを活用したオンライン授業のスケジュールは、しながわ・目黒こどもスクールのウェブサイトでご確認ください。



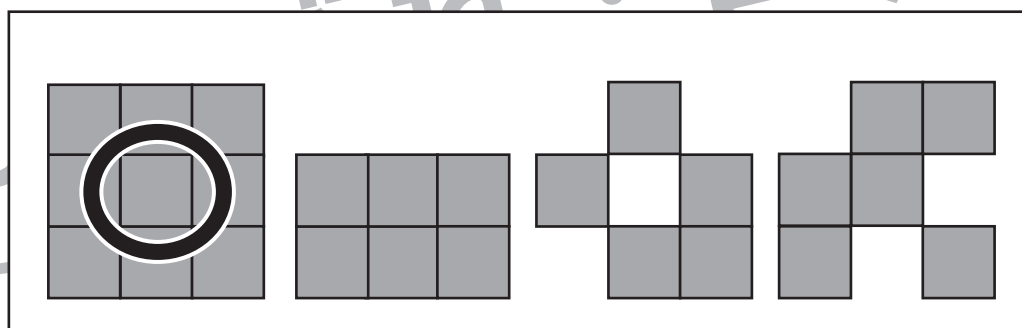
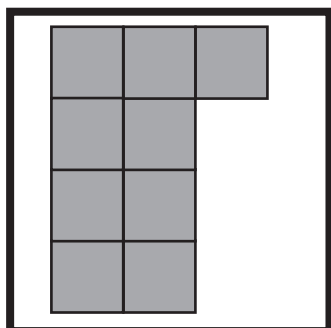
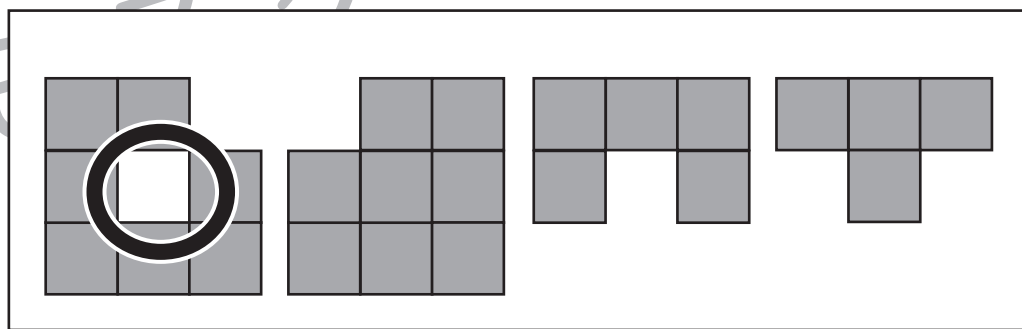
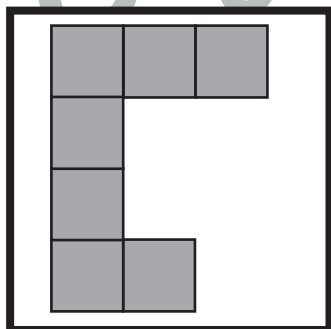
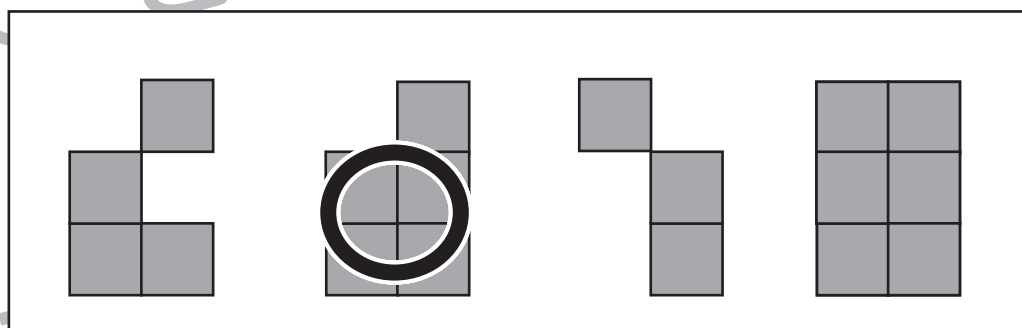
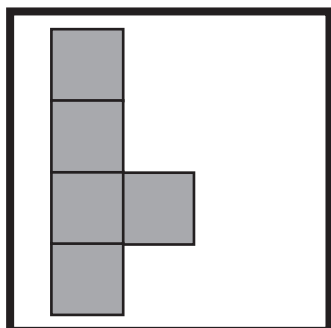
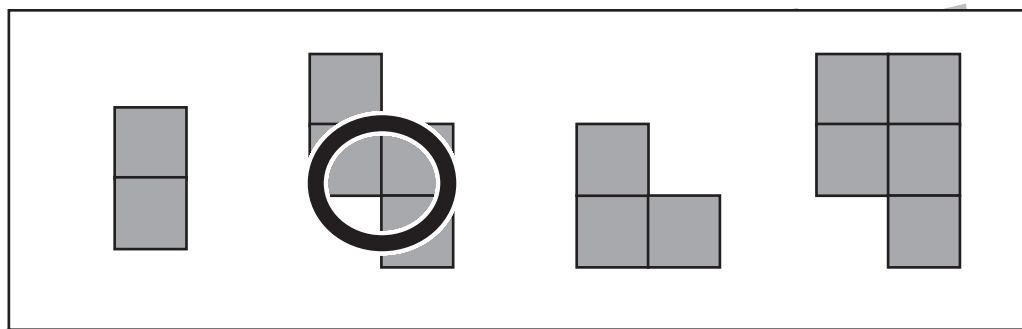
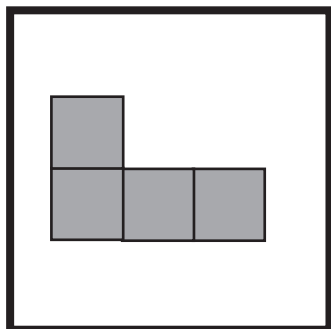


おうちで、やろう。年中児版

Study at home. 小学校受験の家庭学習教材

数量：計数22

下の太い四角の中の四角いパズルの数を数えて、右の四角の中から同じ数の四角いパズルを見つけて○をかきましょう。



※1. このプリントは、しながわ・目黒こどもスクールのウェブサイトでダウンロードができます。無断複写・引用はご遠慮ください。
※2. このプリントを活用したオンライン授業のスケジュールは、しながわ・目黒こどもスクールのウェブサイトでご確認ください。



上下の絵を見比べて、変わっているところを4つ探します。見つけたら、下の絵の変わっている部分に○をつけましょう。

