









# おうちで、やろう。 年中児版

Study at home. 小学校受験の家庭学習教材

巧緻性：模写8

左の四角の中の絵がお手本です。お手本と同じ大きさ、形になるように左の四角にかきましょう。  
※この問題に解答はありません。



※1. このプリントは、しながわ・目黒こどもスクールのウェブサイトでダウンロードができます。無断複写・引用はご遠慮ください。  
※2. このプリントを活用したオンライン授業のスケジュールは、しながわ・目黒こどもスクールのウェブサイトでご確認ください。





# おうちで、やろう。 年中児版

Study at home. 小学校受験の家庭学習教材

図形：移動7

左の四角がお手本です。このお手本の○を右に一マス動かします。  
動かした後の場所を考えて、右の四角の中にそれぞれの記号をかきます。


※1. このプリントは、しながわ・目黒こどもスクールのウェブサイトでダウンロードができます。無断複写・引用はご遠慮ください。  
 ※2. このプリントを活用したオンライン授業のスケジュールは、しながわ・目黒こどもスクールのウェブサイトでご確認ください。



上の四角がお手本です。お手本と同じ形になるように下の点と点をきれいな線で結びましょう。  
※この問題に解答はありません。







※1. このプリントは、しながわ・目黒こどもスクールのウェブサイトでダウンロードができます。無断複写・引用はご遠慮ください。

※2. このプリントを活用したオンライン授業のスケジュールは、しながわ・目黒こどもスクールのウェブサイトでご確認ください。








# おうちで、やろう。 年中児版

Study at home. 小学校受験の家庭学習教材

図形：同図形9

左の四角の中のお手本と同じ絵を右の四角の中から見つけて線で囲みましょう。



ICT 教育の小学校受験

※1. このプリントは、しながわ・目黒こどもスクールのウェブサイトでダウンロードができます。無断複写・引用はご遠慮ください。  
※2. このプリントを活用したオンライン授業のスケジュールは、しながわ・目黒こどもスクールのウェブサイトでご確認ください。



# おうちで、やろう。 年中児版

Study at home. 小学校受験の家庭学習教材

数量：計数 24

太い四角がお手本です。お手本より数が2つ多い四角に○をつけましょう。


※1. このプリントは、しながわ・目黒こどもスクールのウェブサイトでダウンロードができます。無断複写・引用はご遠慮ください。

※2. このプリントを活用したオンライン授業のスケジュールは、しながわ・目黒こどもスクールのウェブサイトでご確認ください。


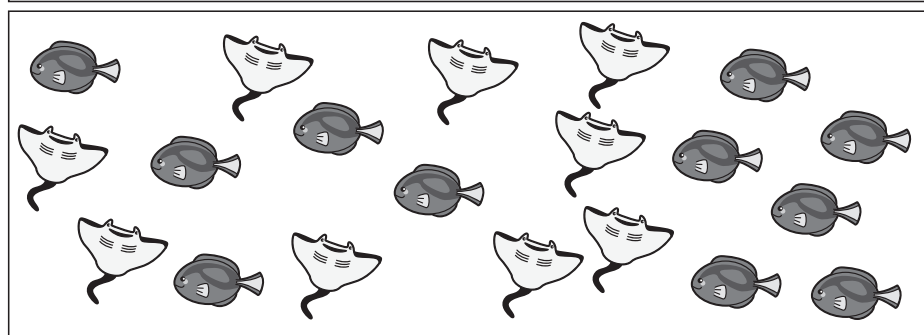



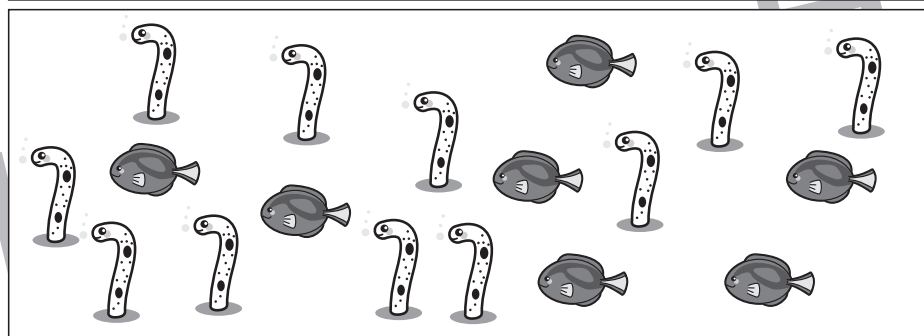






# おうちで、やろう。 年中児版

Study at home. 小学校受験の家庭学習教材

数量：多少9

左の四角の中の絵をそれぞれ数えて、数が多い方の四角に○をかきましょう。



※1. このプリントは、しながわ・目黒こどもスクールのウェブサイトでダウンロードができます。無断複写・引用はご遠慮ください。  
※2. このプリントを活用したオンライン授業のスケジュールは、しながわ・目黒こどもスクールのウェブサイトでご確認ください。



















# おうちで、やろう。 年中児版


Study at home. 小学校受験の家庭学習教材

数量：置き換え7


上の太い四角の中が約束です。それぞれの動物にお約束の数だけ果物を配ります。四角の中の動物に配る果物は合わせていくつになりますか。それぞれの果物の数だけ右の四角に○をかきます。



 →  	 →   	 →   
---	--	---

  
---










  
--





  
---




   
---

   
---




※1. このプリントは、しながわ・目黒こどもスクールのウェブサイトでダウンロードができます。無断複写・引用はご遠慮ください。  
 ※2. このプリントを活用したオンライン授業のスケジュールは、しながわ・目黒こどもスクールのウェブサイトでご確認ください。



# おうちで、やろう。 年中児版

Study at home. 小学校受験の家庭学習教材

## まちがいさがし 21

上下の絵を見比べて、変わっているところを4つ探します。見つけたら、下の絵の変わっている部分に○をつけましょう。

