



おうちで、やろう。 年中児版

Study at home. 小学校受験の家庭学習教材

推理：影8

左の太い四角の中は、野菜が影になってできた絵です。どの野菜が影になって重なっているかを考えて、影にないものを右の四角の中から選んで○をつけます。

※1. このプリントは、しながわ・目黒こどもスクールのウェブサイトでダウンロードができます。無断複写・引用はご遠慮ください。

※2. このプリントを活用したオンライン授業のスケジュールは、しながわ・目黒こどもスクールのウェブサイトでご確認ください。



おうちで、やろう。 年中児版

Study at home. 小学校受験の家庭学習教材

数量：すごろく7

動物たちがすごろく遊びをしています。一番左の★のマスから、絵の音の数だけ右へ進んだとき、動物はどのマスにとまりますか。動物がとまったマスに○をつけましょう。

		→							
--	--	---	--	--	--	--	--	--	--

★								○	
---	--	--	--	--	--	--	--	---	--

		→							
--	--	---	--	--	--	--	--	--	--

★							○		
---	--	--	--	--	--	--	---	--	--

		→							
--	--	---	--	--	--	--	--	--	--

★							○		
---	--	--	--	--	--	--	---	--	--

※1. このプリントは、しながわ・目黒こどもスクールのウェブサイトでダウンロードができます。無断複写・引用はご遠慮ください。
 ※2. このプリントを活用したオンライン授業のスケジュールは、しながわ・目黒こどもスクールのウェブサイトでご確認ください。


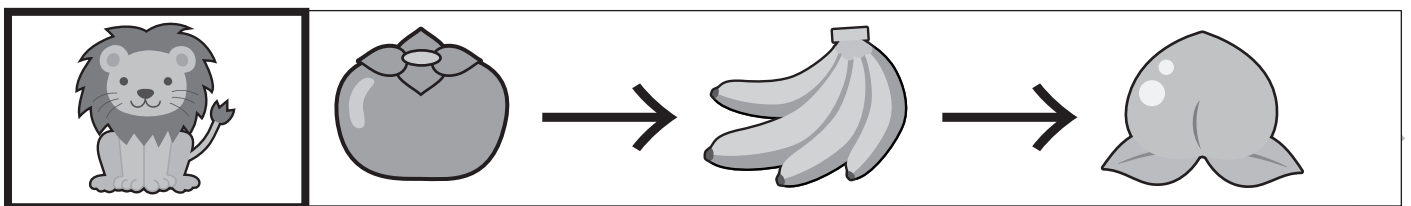

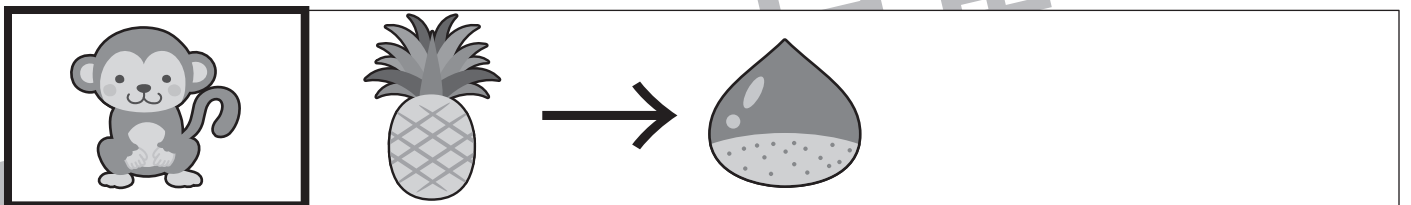

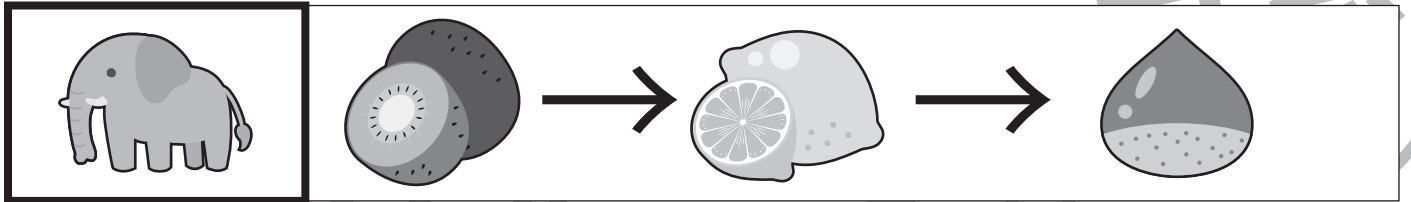


おうちで、やろう。 年中児版

Study at home. 小学校受験の家庭学習教材

数量：すごろく 8

動物たちがすごろく遊びをしています。一番左の★のマスから、絵の音の数だけ右へ進んだとき、動物はどのマスにとまりますか。動物がとまったマスに○をつけましょう。



※1. このプリントは、しながわ・目黒こどもスクールのウェブサイトでダウンロードができます。無断複写・引用はご遠慮ください。
 ※2. このプリントを活用したオンライン授業のスケジュールは、しながわ・目黒こどもスクールのウェブサイトでご確認ください。




おうちで、やろう。 年中児版

Study at home. 小学校受験の家庭学習教材

数量：計数22

下の四角の絵は動物園の様子です。太い四角の中の動物を探して、その数だけ四角に○をかきましょう。




○×1



○×6



○×2



○×4

※1. このプリントは、しながわ・目黒こどもスクールのウェブサイトでダウンロードができます。無断複写・引用はご遠慮ください。
 ※2. このプリントを活用したオンライン授業のスケジュールは、しながわ・目黒こどもスクールのウェブサイトでご確認ください。





おうちで、やろう。 年中児版

Study at home. 小学校受験の家庭学習教材

数量：計数23


下の四角の絵は海の中の様子です。太い四角の中の魚を探して、その数だけ四角に○をかきましょう。




○ × 3



○ × 5



○ × 4



○ × 4

※1. このプリントは、しながわ・目黒こどもスクールのウェブサイトでダウンロードができます。無断複写・引用はご遠慮ください。
※2. このプリントを活用したオンライン授業のスケジュールは、しながわ・目黒こどもスクールのウェブサイトでご確認ください。




おうちで、やろう。 年中児版

Study at home. 小学校受験の家庭学習教材

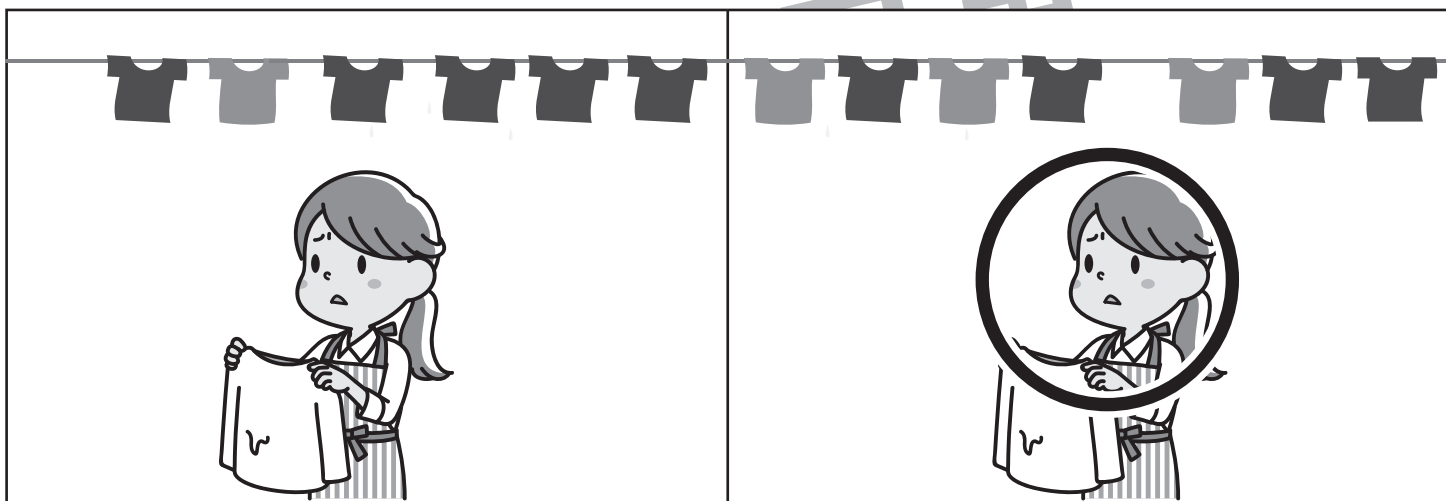
数量：多少7

下の①～③の問題を読んで答えましょう。

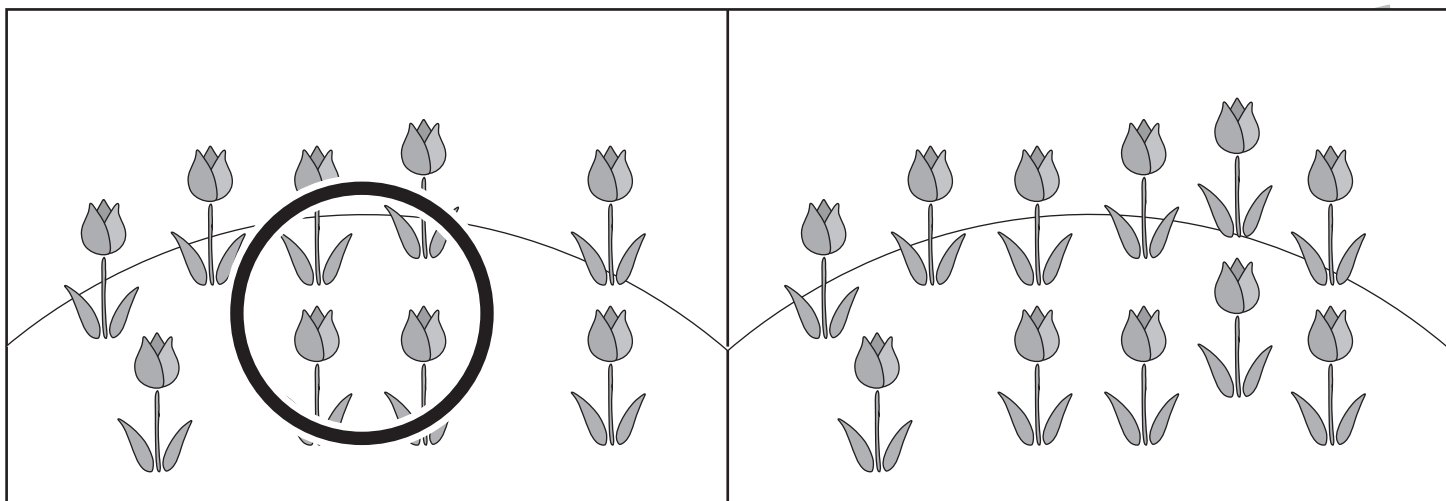
①四角の中の木についているプレゼントの数を比べて、数が多いほうに○をつけましょう。



②四角の中の干している服の数を比べて、数が多い方に○をつけましょう。



③四角の中の花の数を比べて、数が少ない方に○をつけましょう。



※1. このプリントは、しながわ・目黒こどもスクールのウェブサイトからダウンロードできます。無断複写・引用はご遠慮ください。

※2. このプリントを活用したオンライン授業のスケジュールは、しながわ・目黒こどもスクールのウェブサイトでご確認ください。



おうちで、やろう。 年中児版

Study at home. 小学校受験の家庭学習教材

数量：多少8

下の①～③の問題を読んで答えましょう。

①数が多い方に○をつけましょう。

--	--

②数が少ない方に○をつけましょう。

--	--

③数が多い方に○を、数が少ない方に×をつけましょう。

--	--

※1. このプリントは、しながわ・目黒こどもスクールのウェブサイトからダウンロードできます。無断複写・引用はご遠慮ください。
 ※2. このプリントを活用したオンライン授業のスケジュールは、しながわ・目黒こどもスクールのウェブサイトでご確認ください。