



おうちで、やろう。 年中児版

Study at home. 小学校受験の家庭学習教材

指示の聞き取り 17

①～④の話を聞き、生き物に○をつけましょう。

①ライオンが右に1マス、下に3マス動きました。着いたマスに青色のクーピーで○をつけましょう。






②ゴリラが下に1マス、右に2マス動きました。着いたマスに緑色のクーピーで○をつけましょう。

③キリンが左へ2マス、上へ2マス動きました。着いたマスに茶色のクーピーで○をつけましょう。

④ゾウが右へ1マス、上へ3マス、左へ4マス動きました。着いたマスに紫色のクーピーで○をつけましょう。

⑤ブタが上へ3マス、右へ2マス、下へ1マス動きました。着いたマスに黒色のクーピーで○をつけましょう。




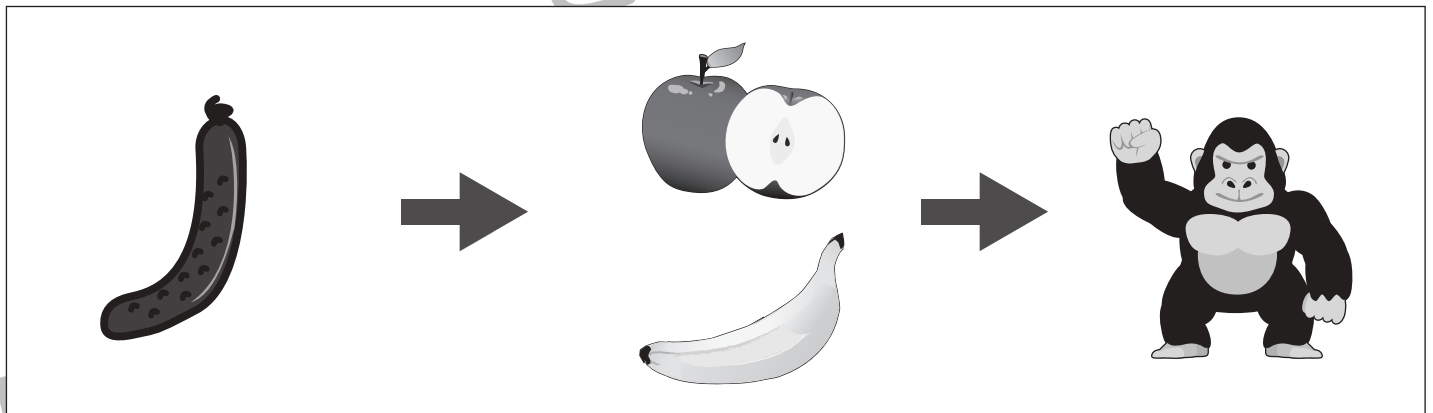

				
				
				
				

※1. このプリントは、しながわ・目黒こどもスクールのウェブサイトからダウンロードができます。無断複写・引用はご遠慮ください。

※2. このプリントを活用したオンライン授業のスケジュールは、しながわ・目黒こどもスクールのウェブサイトでご確認ください。



それぞれ左から右へしりとりをしていきます。絵が2つある場所はしりとりでつながる絵に○をつけます。



※1. このプリントは、しながわ・目黒こどもスクールのウェブサイトからダウンロードができます。無断複写・引用はご遠慮ください。

※2. このプリントを活用したオンライン授業のスケジュールは、しながわ・目黒こどもスクールのウェブサイトでご確認ください。















おうちで、やろう。 年中児版






Study at home. 小学校受験の家庭学習教材






言語：はじめの音 8

左の太い四角の中の絵とはじめの音が同じものを、右から選んで○をつけましょう。

				
---	---	---	--	---

				
---	---	---	--	---

				
---	---	---	--	---

				
---	---	---	--	---

				
---	---	---	--	---

※1. このプリントは、しながわ・目黒こどもスクールのウェブサイトからダウンロードができます。無断複写・引用はご遠慮ください。
 ※2. このプリントを活用したオンライン授業のスケジュールは、しながわ・目黒こどもスクールのウェブサイトでご確認ください。



おうちで、やろう。 年中児版

Study at home. 小学校受験の家庭学習教材

常識：野菜4

下の大きな四角の中から水に浮く野菜を選んで○をつけましょう。



※1. このプリントは、しながわ・目黒こどもスクールのウェブサイトダウンロードができます。無断複写・引用はご遠慮ください。

※2. このプリントを活用したオンライン授業のスケジュールは、しながわ・目黒こどもスクールのウェブサイトでご確認ください。



おうちで、やろう。年中児版

Study at home. 小学校受験の家庭学習教材

推理：重さ5

はかりを使って果物の重さを比べました。2番目に重い果物をさがして、下の四角の中の、答えの果物に○をつけましょう。

※1. このプリントは、しながわ・目黒こどもスクールのウェブサイトでダウンロードができます。無断複写・引用はご遠慮ください。

※2. このプリントを活用したオンライン授業のスケジュールは、しながわ・目黒こどもスクールのウェブサイトでご確認ください。


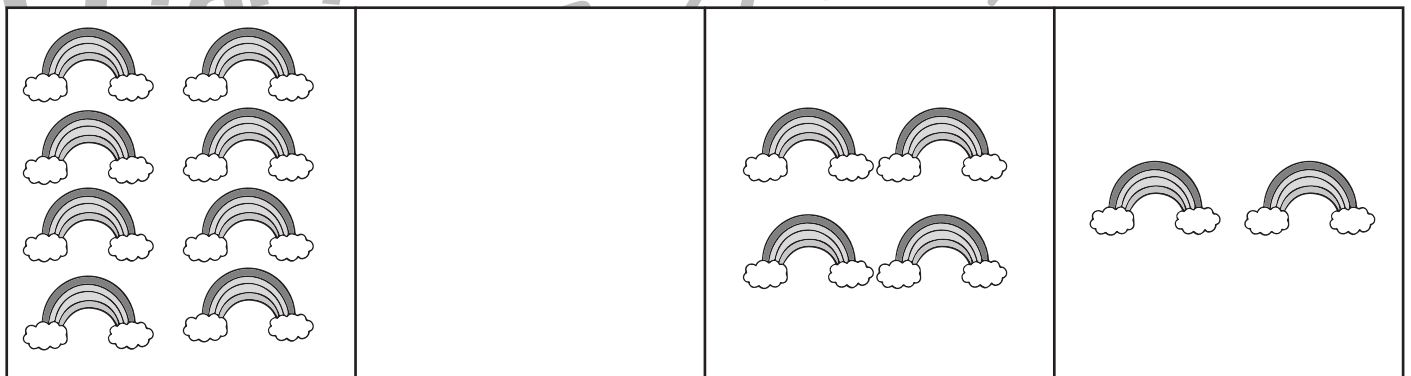

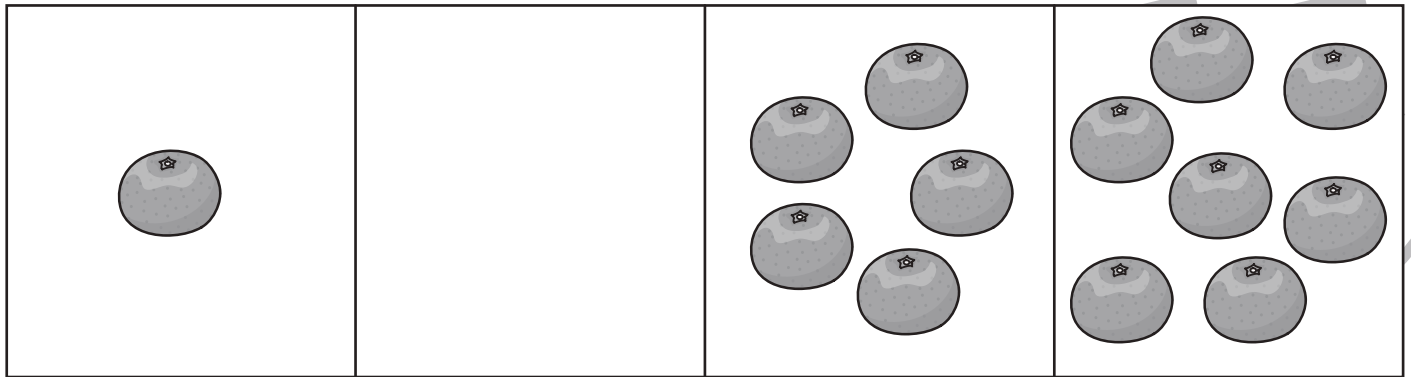


おうちで、やろう。 年中児版

Study at home. 小学校受験の家庭学習教材

推理：数の推理 1

ある約束通りに並んでいます。約束は決まった数だけ増えたり減ったりしています。空いている四角に入る絵の数だけ○をかきます。



※1. このプリントは、しながわ・目黒こどもスクールのウェブサイトでダウンロードができます。無断複写・引用はご遠慮ください。
 ※2. このプリントを活用したオンライン授業のスケジュールは、しながわ・目黒こどもスクールのウェブサイトでご確認ください。



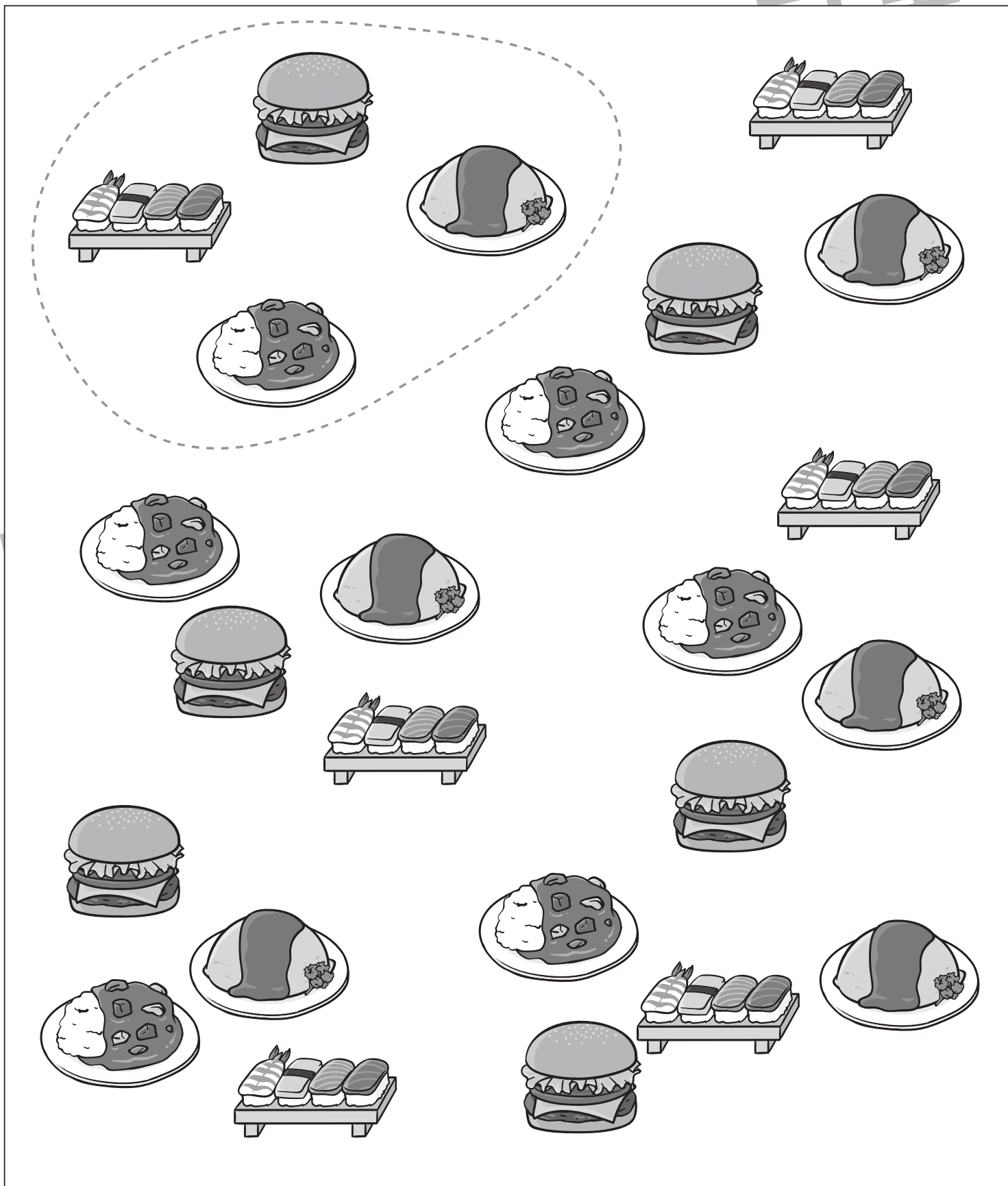
おうちで、やろう。年中児版

Study at home. 小学校受験の家庭学習教材

数量：計数22

大きな四角の中のお寿司、ハンバーガー、オムライス、カレーライスをそれぞれ1つずつセットにして、○で囲みましょう。
※下のお手本の点線はなぞりましょう。

目黒



※1. このプリントは、しながわ・目黒こどもスクールのウェブサイトからダウンロードできます。無断複写・引用はご遠慮ください。
※2. このプリントを活用したオンライン授業のスケジュールは、しながわ・目黒こどもスクールのウェブサイトでご確認ください。
















おうちで、やろう。年中児版






Study at home. 小学校受験の家庭学習教材






処理能力：置き換え7






上の太い四角が約束です。それぞれの絵を矢印の先の記号に置き換えます。上のマスの中の絵を約束どおりに置き換えたときの形をそのマスの下のマスにかきましょう。






	→			→	
---	---	---	---	---	---






				
				

※1. このプリントは、しながわ・目黒こどもスクールのウェブサイトでダウンロードができます。無断複写・引用はご遠慮ください。
 ※2. このプリントを活用したオンライン授業のスケジュールは、しながわ・目黒こどもスクールのウェブサイトでご確認ください。