




# おうちで、やろう。

Study at home. 小学校受験の家庭学習教材

常識：断面図7

下の絵は果物を切ったときの様子です。①～⑤の果物を見つけます。

- ①キウイに○をつけます。 ②ミカンに△をつけます。 ③イチゴに□をつけます。  
④バナナに×をつけます。 ⑤メロンに◎をつけます。



※1. このプリントは、しながわ・目黒こどもスクールのウェブサイトでダウンロードができます。無断複写・引用はご遠慮ください。

※2. このプリントを活用したオンライン授業のスケジュールは、しながわ・目黒こどもスクールのウェブサイトでご確認ください。





# おうちで、やろう。

Study at home. 小学校受験の家庭学習教材

常識：断面図8

下の絵は野菜を切ったときの様子です。①～⑤の野菜を見つけます。

- ①ネギに○をつけます。
- ②レンコンに△をつけます。
- ③サツマイモに□をつけます。
- ④オクラに×をつけます。
- ⑤トウモロコシに◎をつけます。



※1. このプリントは、しながわ・目黒こどもスクールのウェブサイトでダウンロードができます。無断複写・引用はご遠慮ください。  
 ※2. このプリントを活用したオンライン授業のスケジュールは、しながわ・目黒こどもスクールのウェブサイトでご確認ください。




# おうちで、やろう。

Study at home. 小学校受験の家庭学習教材

常識：断面図 9

下の絵は野菜を切ったときの様子です。①～⑤の野菜を見つけます。

- ①タマネギに○をつけます。 ②ニンジンに△をつけます。 ③キュウリに□をつけます。  
④ハクサイに×をつけます。 ⑤ナスに◎をつけます。



※1. このプリントは、しながわ・目黒こどもスクールのウェブサイトでダウンロードができます。無断複写・引用はご遠慮ください。  
※2. このプリントを活用したオンライン授業のスケジュールは、しながわ・目黒こどもスクールのウェブサイトでご確認ください。



# おうちで、やろう。

Study at home. 小学校受験の家庭学習教材

図形：回転 42

お手本を矢印の方向へ 1 回倒した時の見え方を考えて隣の四角にかきます。

Figure 42: A 3x3 grid rotation exercise. The page contains 10 pairs of 3x3 grids. Each pair shows a grid on the left and its 90-degree clockwise rotation on the right, indicated by a curved arrow. The circles in the grids are arranged as follows:

- Pair 1: Left grid has circles at (1,1), (2,3), (3,1). Right grid has circles at (1,1), (1,3), (3,2).
- Pair 2: Left grid has circles at (1,1), (3,1), (3,3). Right grid has circles at (1,1), (1,3), (2,2), (3,1).
- Pair 3: Left grid has circles at (1,1), (1,2), (2,3). Right grid has circles at (1,3), (2,3), (3,2).
- Pair 4: Left grid has circles at (1,3), (3,1), (3,3). Right grid has circles at (1,1), (2,2), (3,1), (3,3).
- Pair 5: Left grid has circles at (1,3), (3,1), (3,3). Right grid has circles at (1,1), (1,2), (3,1), (3,3).
- Pair 6: Left grid has circles at (2,2), (2,3), (3,1). Right grid has circles at (1,1), (2,3), (3,2), (3,3).
- Pair 7: Left grid has circles at (1,2), (1,3), (3,1). Right grid has circles at (1,2), (1,3), (2,3), (3,3).

※1. このプリントは、しながわ・目黒こどもスクールのウェブサイトからダウンロードできます。無断複写・引用はご遠慮ください。  
 ※2. このプリントを活用したオンライン授業のスケジュールは、しながわ・目黒こどもスクールのウェブサイトでご確認ください。



# おうちで、やろう。

Study at home. 小学校受験の家庭学習教材

図形：回転 43

お手本を矢印の方向へ 1 回倒した時の見え方を考えて隣の四角にかきます。

A 5x2 grid of 3x3 square puzzles. Each puzzle consists of a 3x3 grid of squares. In each puzzle, some squares contain a circle. A curved arrow indicates a 90-degree clockwise rotation of the grid. The goal is to predict the resulting pattern after the rotation and draw it in the adjacent empty 3x3 grid.


※1. このプリントは、しながわ・目黒こどもスクールのウェブサイトからダウンロードできます。無断複写・引用はご遠慮ください。  
 ※2. このプリントを活用したオンライン授業のスケジュールは、しながわ・目黒こどもスクールのウェブサイトでご確認ください。



# おうちで、よろう。

Study at home. 小学校受験の家庭学習教材

図形：回転 44

お手本を矢印の方向へ 1 回倒した時の見え方を考えて隣の四角にかきます。

A 5x2 grid of 3x3 square puzzles. Each puzzle consists of a 3x3 grid of squares. In each puzzle, some squares contain a circle, and others are empty. A curved arrow indicates a 90-degree clockwise rotation of the grid. The goal is to predict the resulting pattern after the rotation and draw it in the adjacent empty 3x3 grid.


※1. このプリントは、しながわ・目黒こどもスクールのウェブサイトでダウンロードができます。無断複写・引用はご遠慮ください。  
 ※2. このプリントを活用したオンライン授業のスケジュールは、しながわ・目黒こどもスクールのウェブサイトでご確認ください。


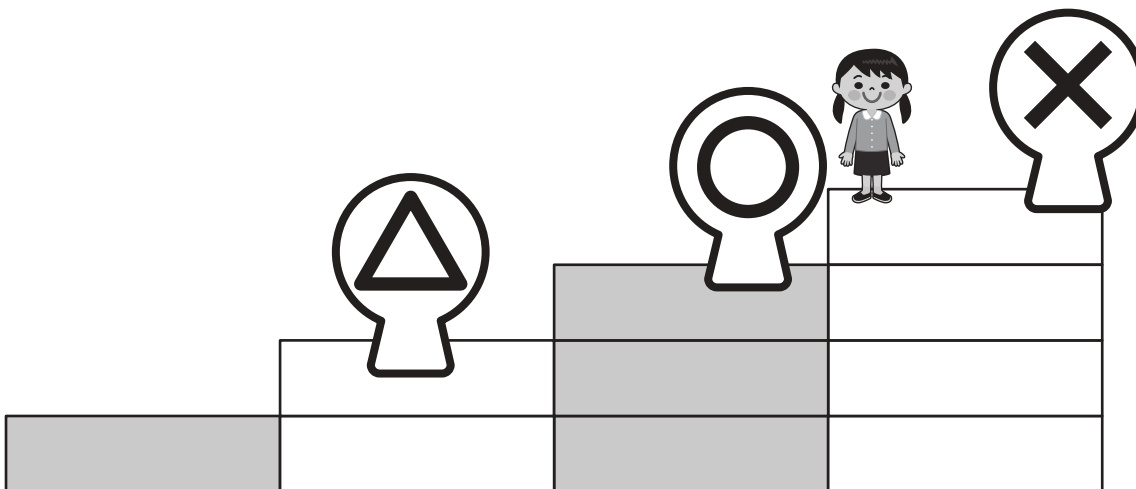










# おうちで、よろう。

Study at home. 小学校受験の家庭学習教材

推理：観察力 11

上の太い枠と階段にいるお友だちの並び方を考えて、記号の位置にいる子どもを探します。  
右のお友だちに記号をつけて答えましょう。



※1. このプリントは、しながわ・目黒こどもスクールのウェブサイトでダウンロードができます。無断複写・引用はご遠慮ください。  
※2. このプリントを活用したオンライン授業のスケジュールは、しながわ・目黒こどもスクールのウェブサイトでご確認ください。













# おうちで、やろう。

Study at home. 小学校受験の家庭学習教材

推理：観察力 12

上の太い枠と階段にいるお友だちの並び方を考えて、記号の位置にいる子どもを探します。  
右のお友だちに記号をつけて答えましょう。



※1. このプリントは、しながわ・目黒こどもスクールのウェブサイトでダウンロードができます。無断複写・引用はご遠慮ください。  
※2. このプリントを活用したオンライン授業のスケジュールは、しながわ・目黒こどもスクールのウェブサイトでご確認ください。





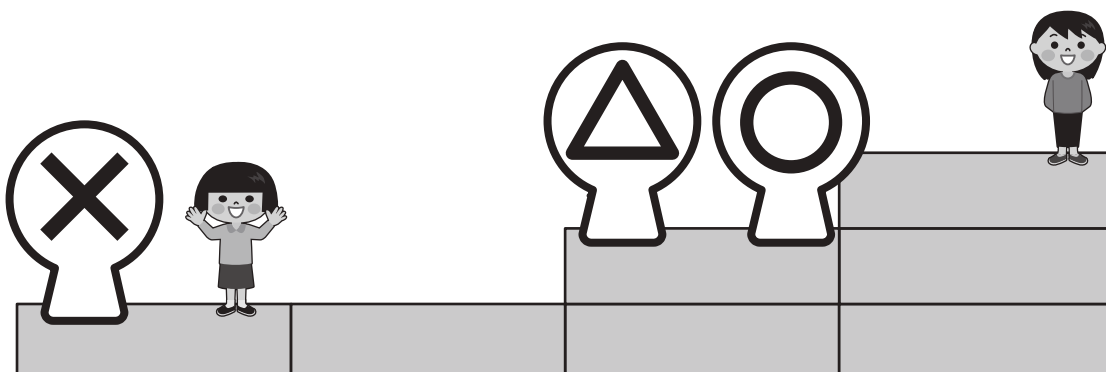











# おうちで、よろう。

Study at home. 小学校受験の家庭学習教材

推理：観察力 13

上の太い枠と階段にいるお友だちの並び方を考えて、記号の位置にいる子どもを探します。  
右のお友だちに記号をつけて答えましょう。



※1. このプリントは、しながわ・目黒こどもスクールのウェブサイトでダウンロードができます。無断複写・引用はご遠慮ください。  
※2. このプリントを活用したオンライン授業のスケジュールは、しながわ・目黒こどもスクールのウェブサイトでご確認ください。