

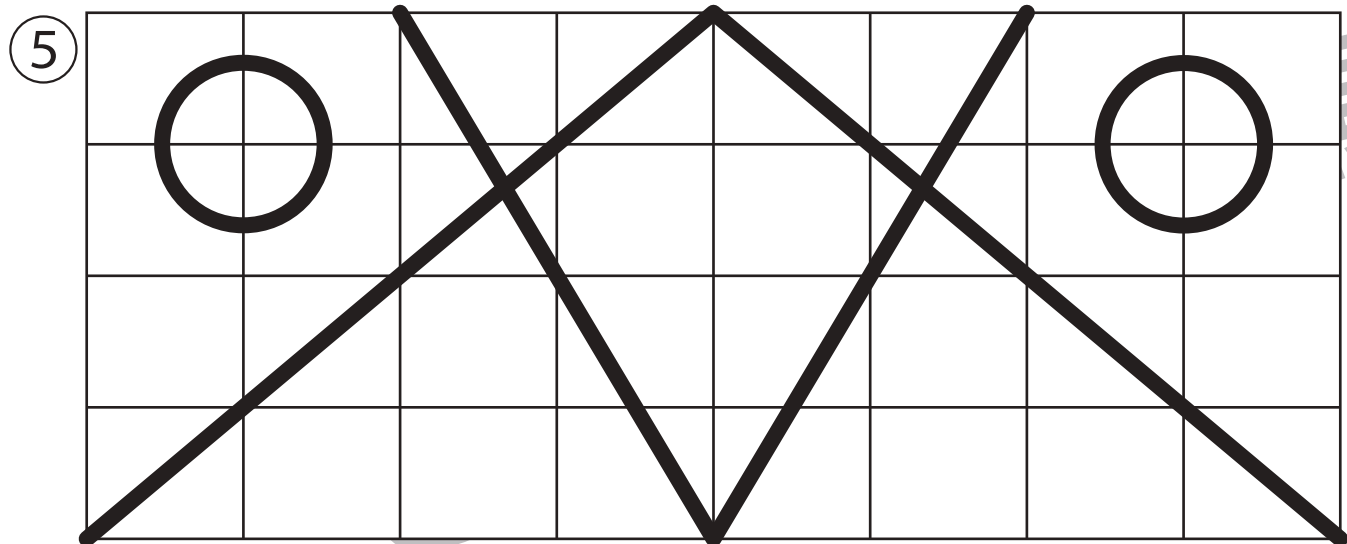

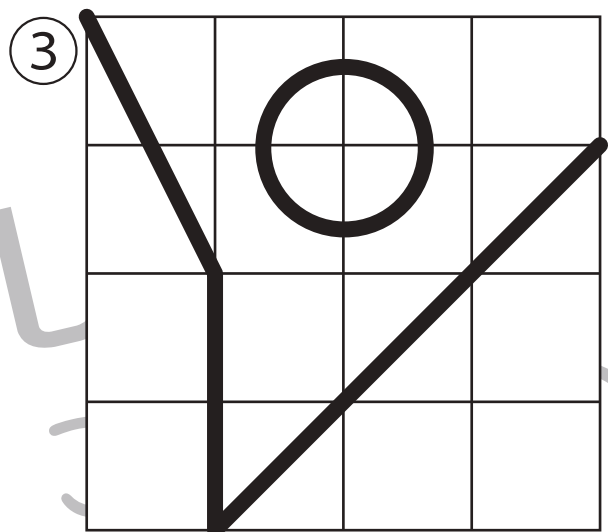
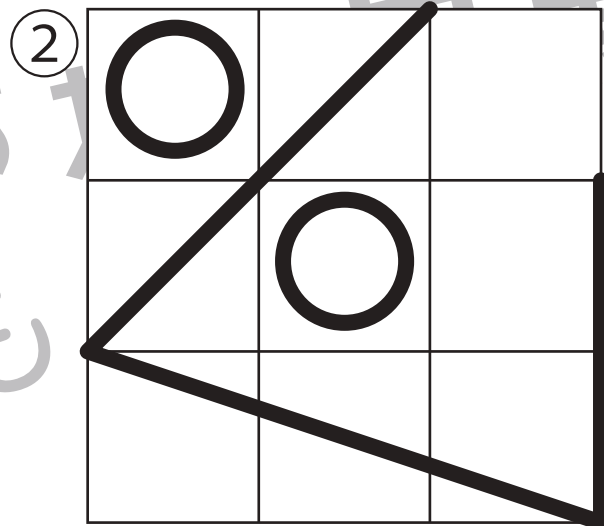
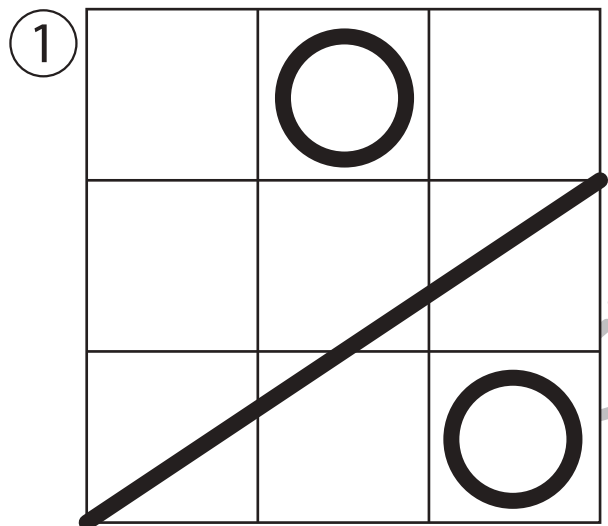


# おうちで、やろう。

Study at home. 小学校受験の家庭学習教材

## 運筆：模写 22(お手本)

別紙『運筆：模写 22』を使用し、お手本と同じになるように描きます。  
このプリントを前に掲示して、お手本と同じになるように記号や線をかきます。  
※2023年7月14日(金)のオンライン授業ではお手本を1問ずつ画面にうつして取り組みます。



※1. このプリントは、しながわ・目黒こどもスクールのウェブサイトでダウンロードができます。無断複写・引用はご遠慮ください。  
※2. このプリントを活用したオンライン授業のスケジュールは、しながわ・目黒こどもスクールのウェブサイトでご確認ください。





# おうちで、やろう。

Study at home. 小学校受験の家庭学習教材

運筆：模写 22

別紙『運筆：模写 22（お手本）』を使用し、お手本と同じになるように描きます。  
このプリントには解答はありませんので、お手本のプリントで確認してください。  
※2023年7月14日（金）のオンライン授業ではお手本を1問ずつ画面にうつして取り組みます。

①


②


③


④


⑤


※1. このプリントは、しながわ・目黒こどもスクールのウェブサイトからダウンロードできます。無断複写・引用はご遠慮ください。  
※2. このプリントを活用したオンライン授業のスケジュールは、しながわ・目黒こどもスクールのウェブサイトでご確認ください。

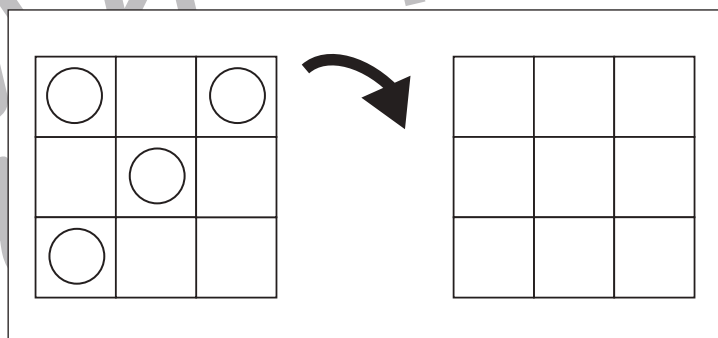
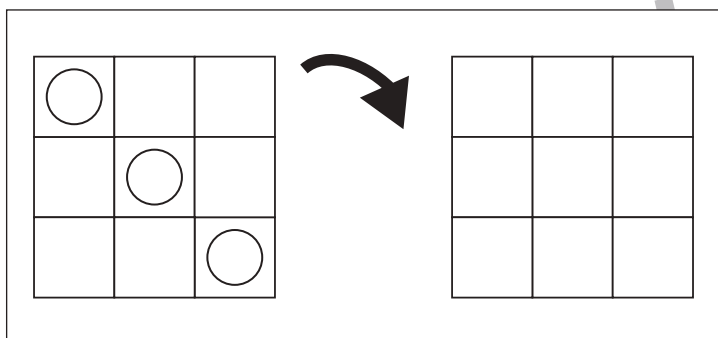
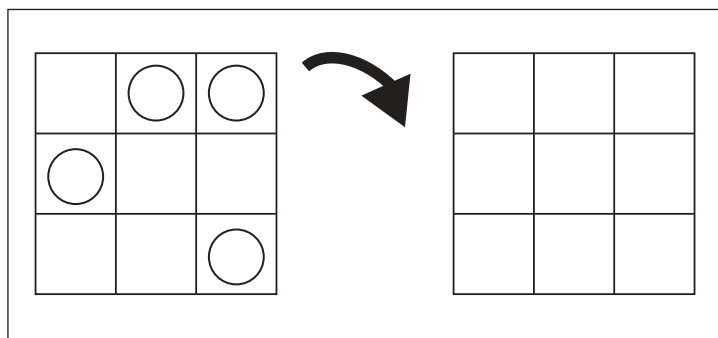
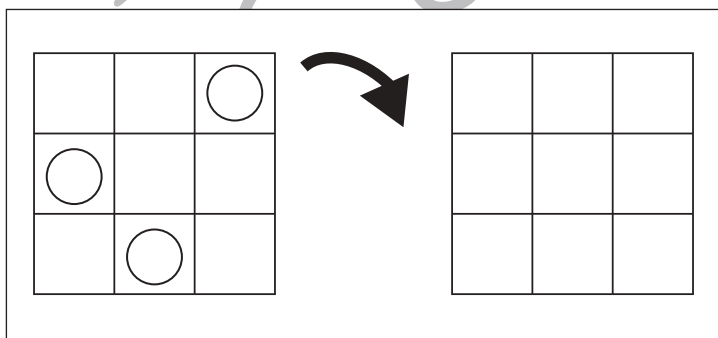
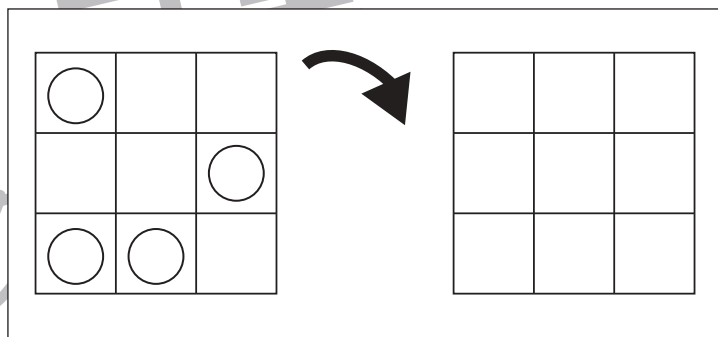
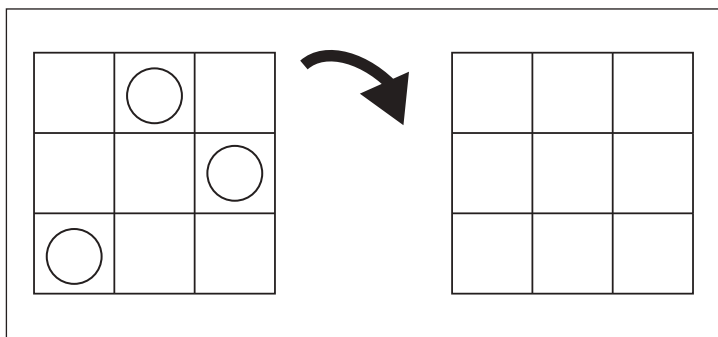
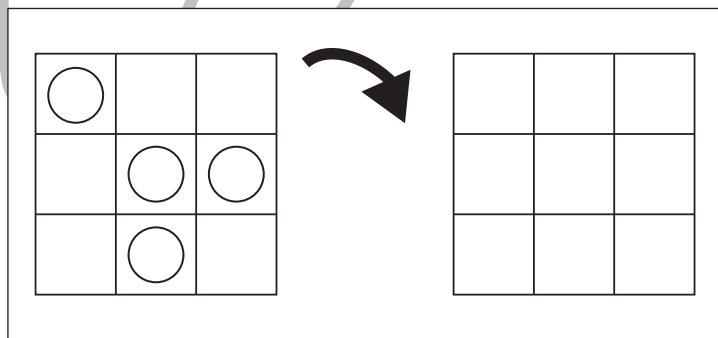
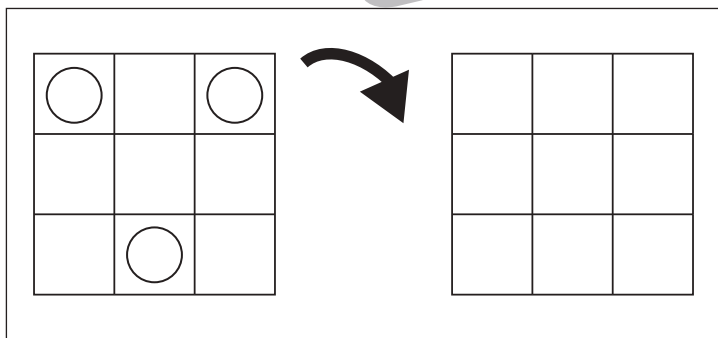
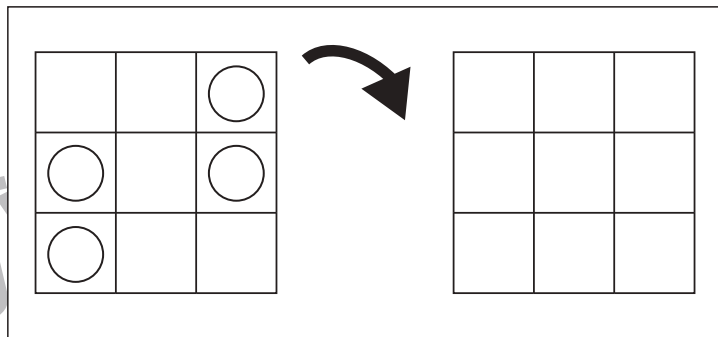
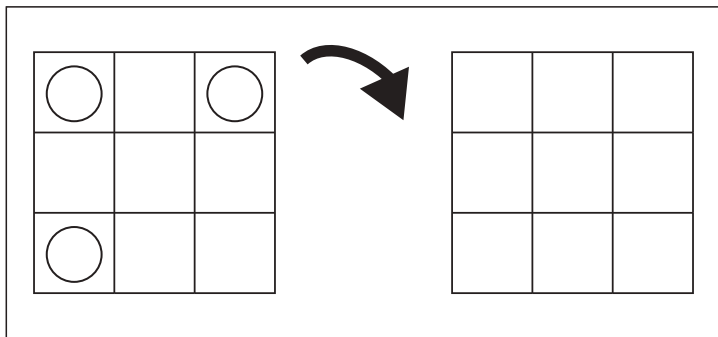


# おうちで、やろう。

Study at home. 小学校受験の家庭学習教材

図形：回転 48

お手本を矢印の方向へ 1 回倒した時の見え方を考えかきます。



※1. このプリントは、しながわ・目黒こどもスクールのウェブサイトでダウンロードができます。無断複写・引用はご遠慮ください。  
 ※2. このプリントを活用したオンライン授業のスケジュールは、しながわ・目黒こどもスクールのウェブサイトでご確認ください。



# おうちで、やろう。

Study at home. 小学校受験の家庭学習教材

## 図形：回転 49

お手本を矢印の方向へ 1 回倒した時の見え方を考えかきます。

Figure 49: Rotation. This section contains 10 pairs of 3x3 grids. Each pair consists of a blank grid on the left and a grid with circles on the right. A curved arrow points from the blank grid to the circled grid, indicating a 90-degree counter-clockwise rotation. The circled grids show the result of rotating the blank grid 90 degrees counter-clockwise.

- Pair 1: Blank grid on the left. Grid with circles at (1,1), (2,3), and (3,3) on the right.
- Pair 2: Blank grid on the left. Grid with circles at (1,1), (2,2), and (3,3) on the right.
- Pair 3: Blank grid on the left. Grid with circles at (1,1), (2,2), and (3,3) on the right.
- Pair 4: Blank grid on the left. Grid with circles at (1,1), (2,3), and (3,3) on the right.
- Pair 5: Blank grid on the left. Grid with circles at (1,1), (2,1), and (3,3) on the right.
- Pair 6: Blank grid on the left. Grid with circles at (1,1), (1,2), and (3,3) on the right.
- Pair 7: Blank grid on the left. Grid with circles at (1,1), (1,2), and (3,3) on the right.
- Pair 8: Blank grid on the left. Grid with circles at (1,1), (1,2), and (3,3) on the right.
- Pair 9: Blank grid on the left. Grid with circles at (1,1), (1,2), and (3,3) on the right.
- Pair 10: Blank grid on the left. Grid with circles at (1,1), (1,2), and (3,3) on the right.

※1. このプリントは、しながわ・目黒こどもスクールのウェブサイトでダウンロードができます。無断複写・引用はご遠慮ください。  
 ※2. このプリントを活用したオンライン授業のスケジュールは、しながわ・目黒こどもスクールのウェブサイトでご確認ください。

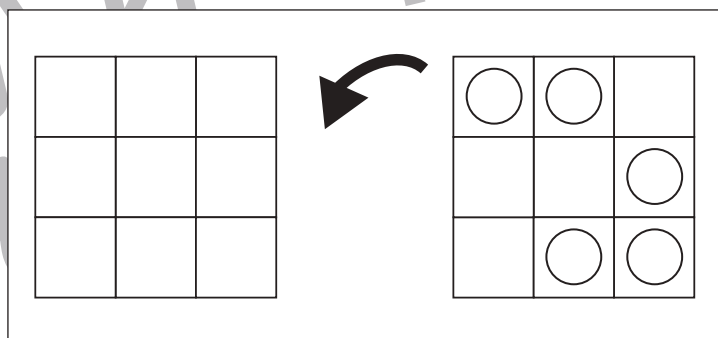
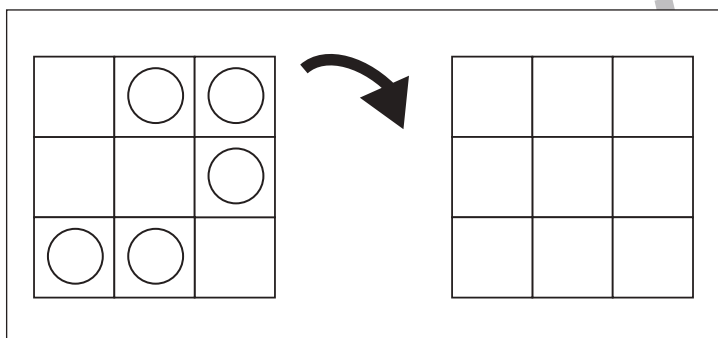
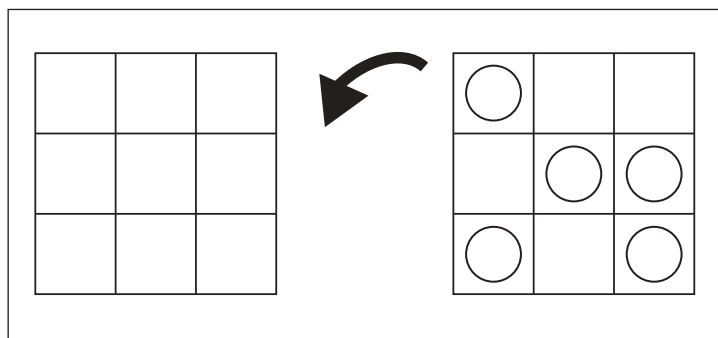
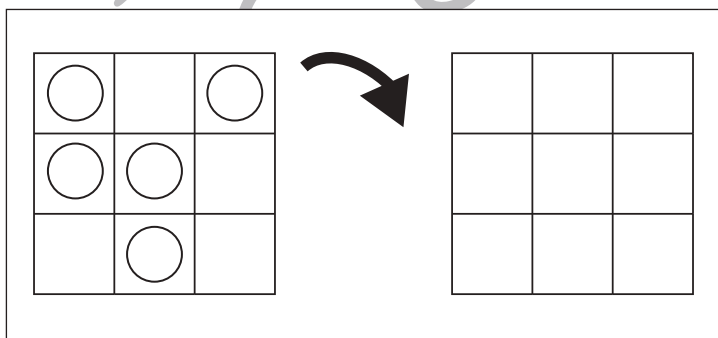
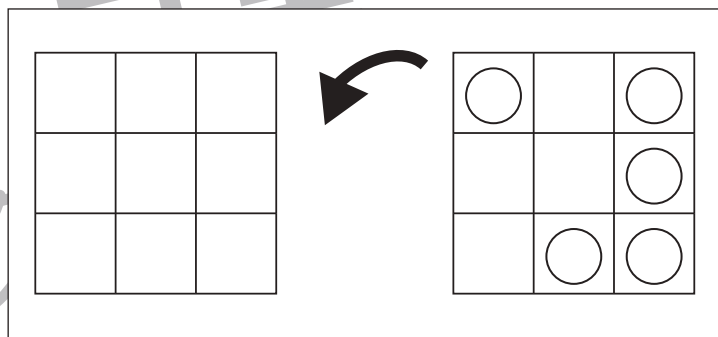
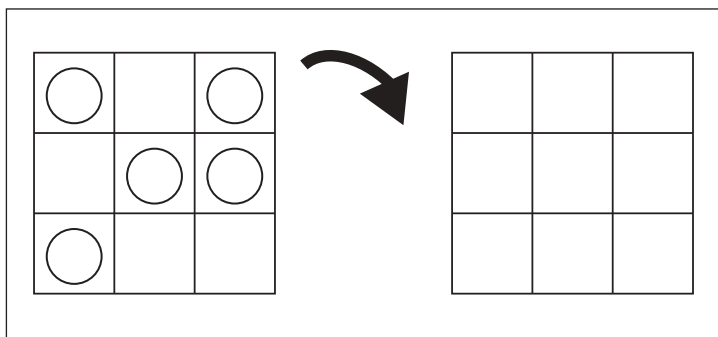
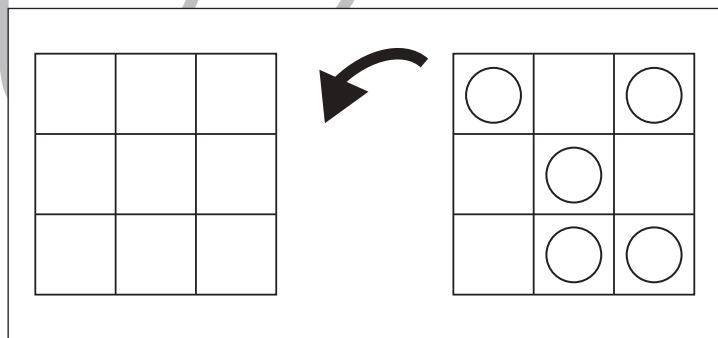
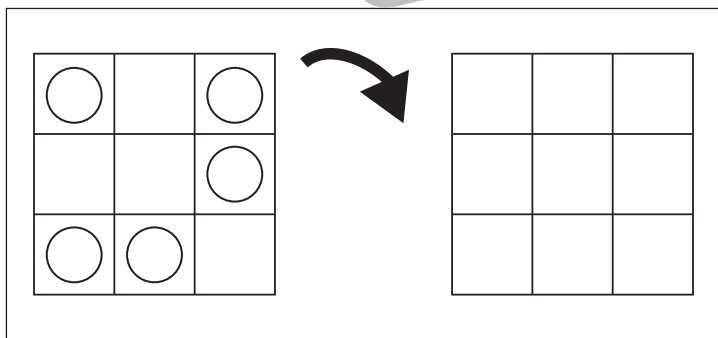
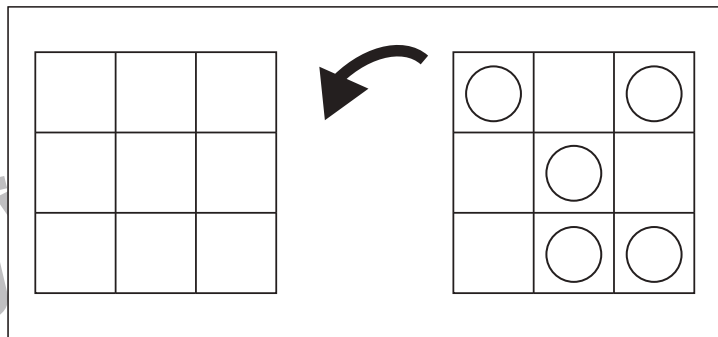
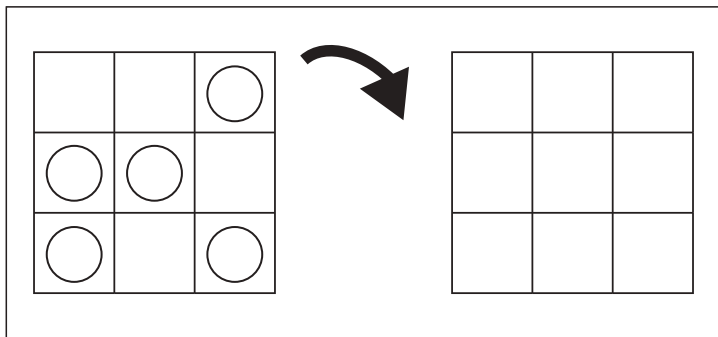


# おうちで、やろう。

Study at home. 小学校受験の家庭学習教材

図形：回転 50

お手本を矢印の方向へ 1 回倒した時の見え方を考えかきます。



※1. このプリントは、しながわ・目黒こどもスクールのウェブサイトでダウンロードができます。無断複写・引用はご遠慮ください。  
 ※2. このプリントを活用したオンライン授業のスケジュールは、しながわ・目黒こどもスクールのウェブサイトでご確認ください。

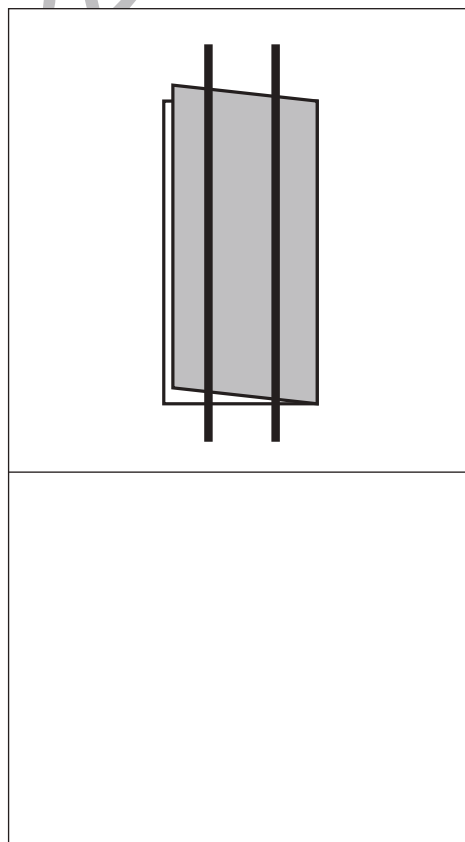
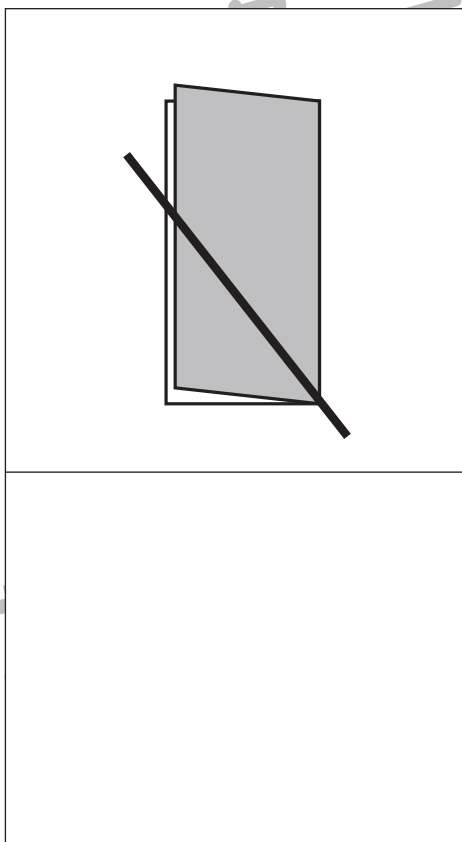
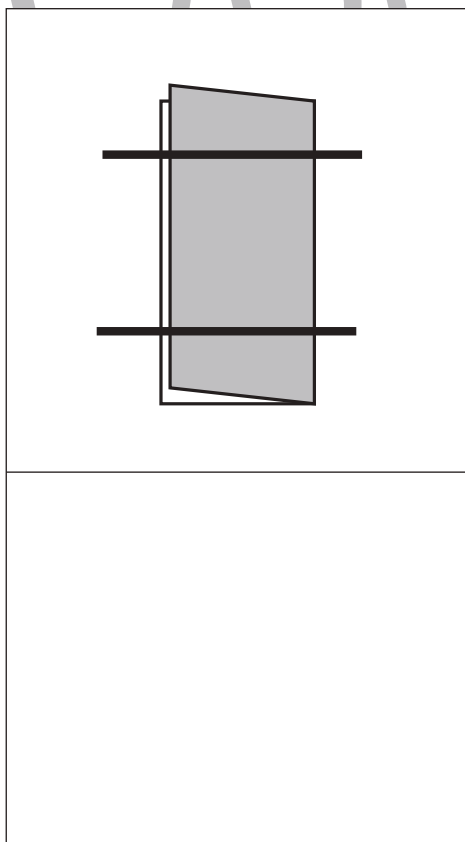
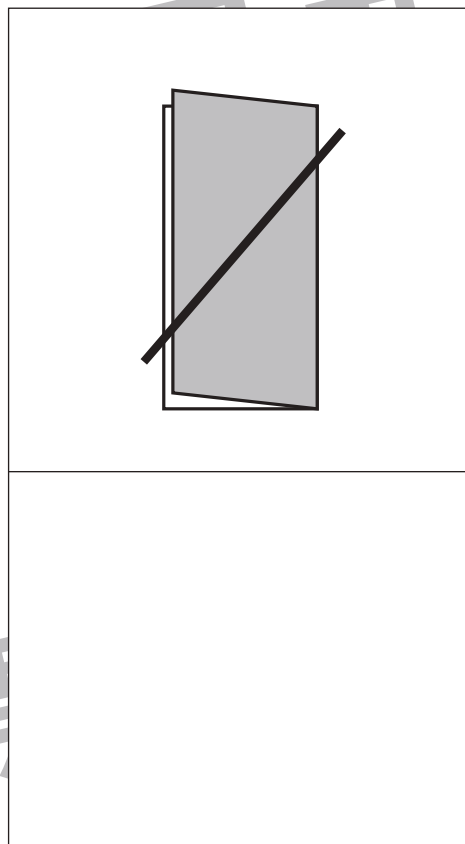
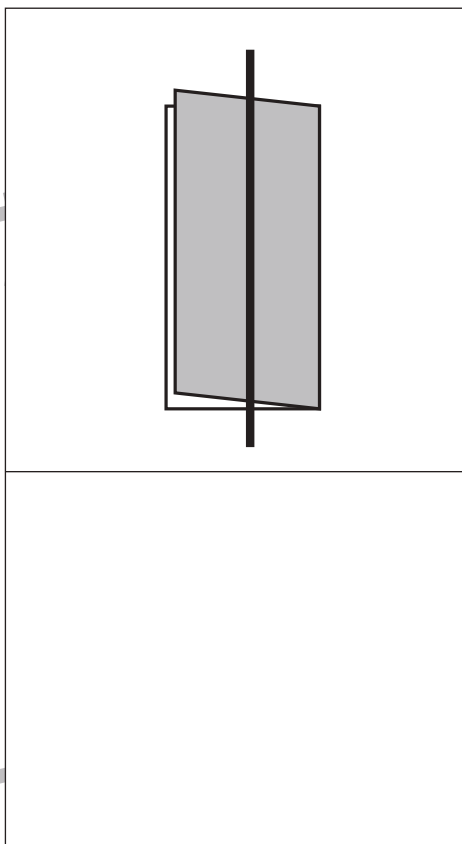
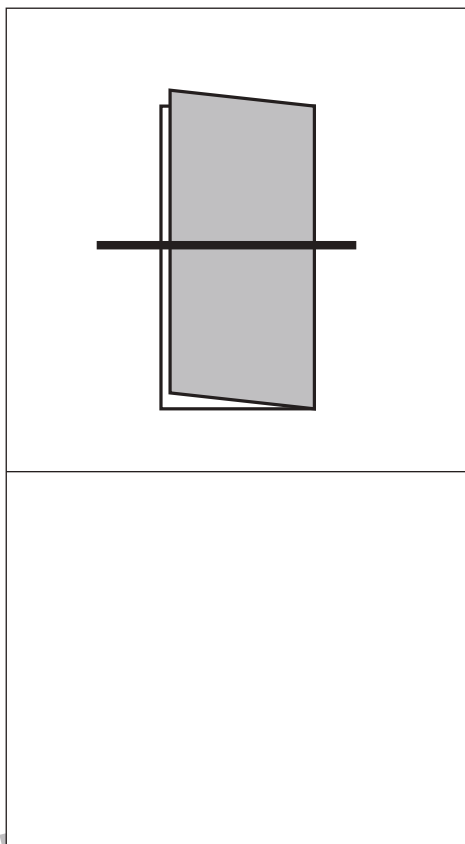


# おうちで、やろう。

Study at home. 小学校受験の家庭学習教材

## 図形：折り紙 7

半分に折った折り紙を太線ではさみで切ります。切った後、折り紙は何枚になりますか。その数だけ、下の四角に○をかきます。



※1. このプリントは、しながわ・目黒こどもスクールのウェブサイトでダウンロードができます。無断複写・引用はご遠慮ください。  
※2. このプリントを活用したオンライン授業のスケジュールは、しながわ・目黒こどもスクールのウェブサイトでご確認ください。



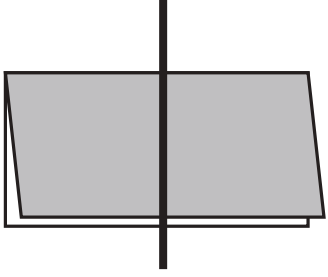

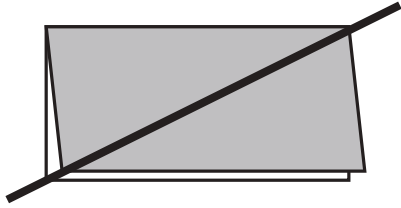
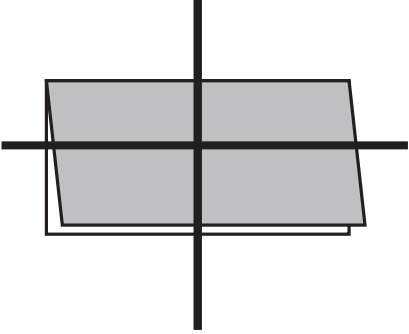
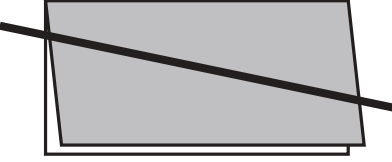
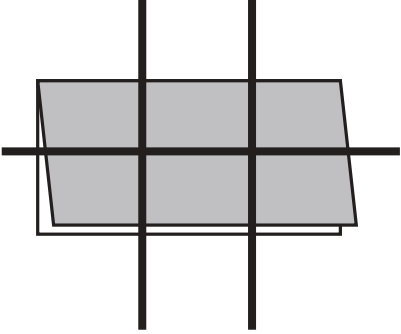


# おうちで、やろう。

Study at home. 小学校受験の家庭学習教材

## 図形：折り紙 8

半分に折った折り紙を太線ではさみで切ります。切った後、折り紙は何枚になりますか。その数だけ、下の四角に○をかきます。

※1. このプリントは、しながわ・目黒こどもスクールのウェブサイトからダウンロードできます。無断複写・引用はご遠慮ください。

※2. このプリントを活用したオンライン授業のスケジュールは、しながわ・目黒こどもスクールのウェブサイトでご確認ください。

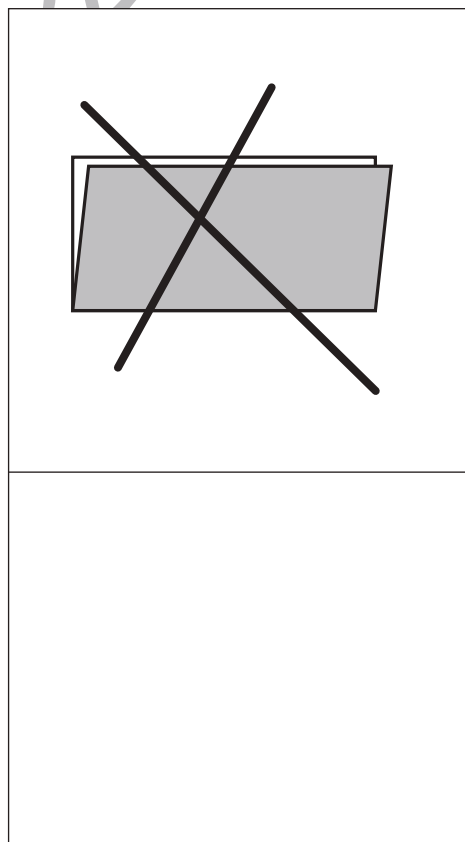
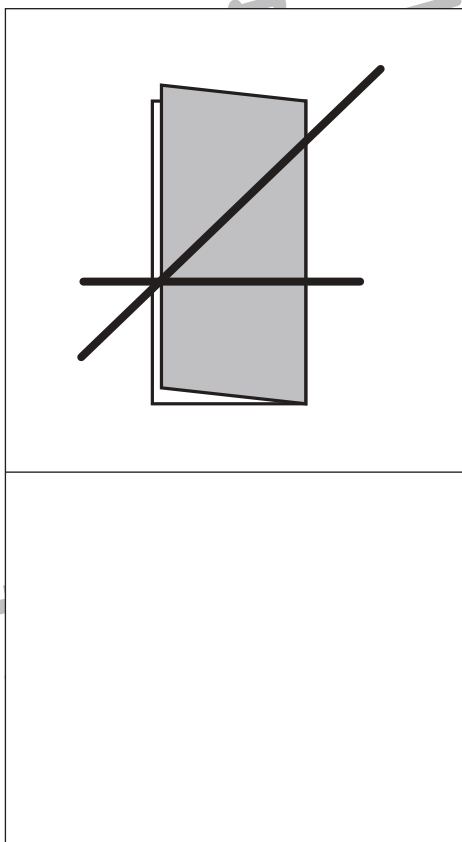
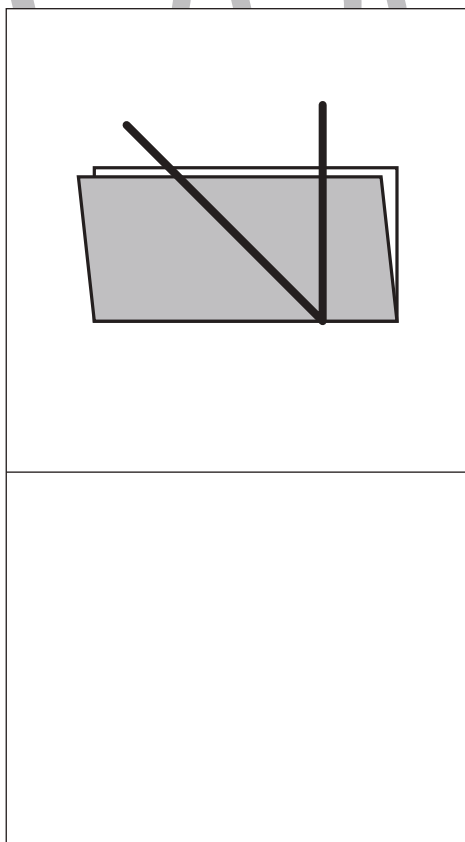
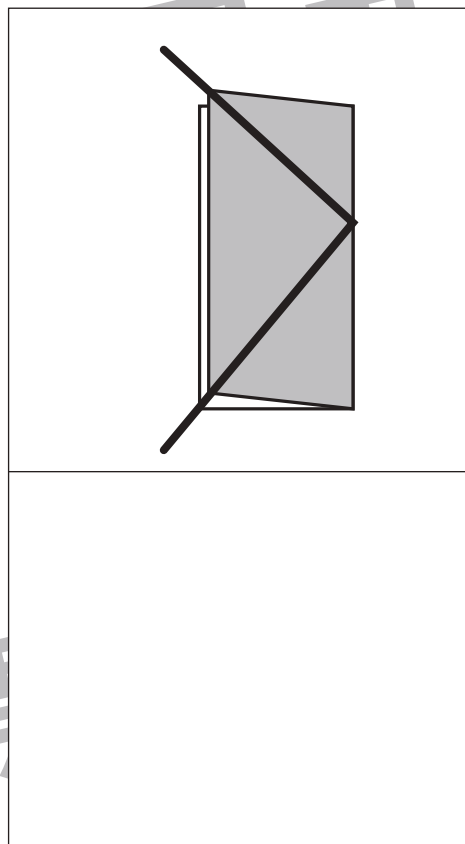
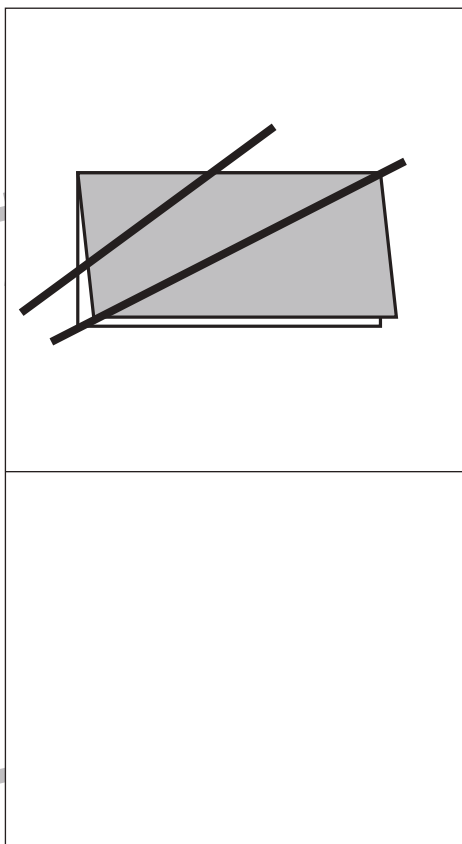
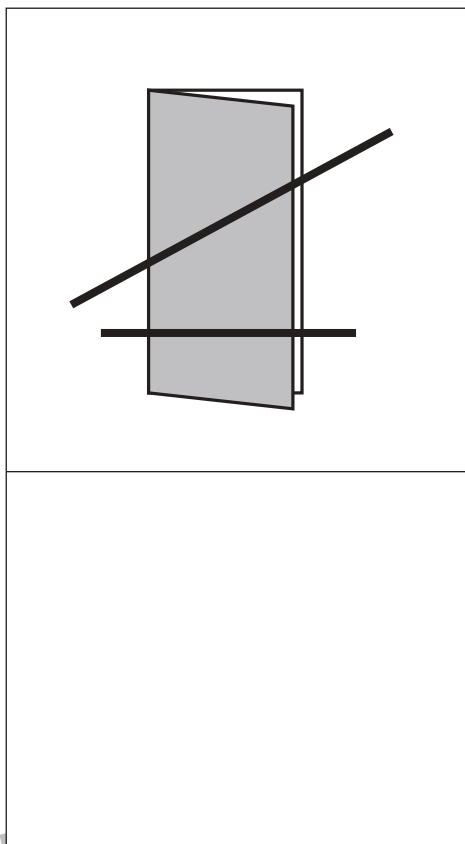


# おうちで、やろう。

Study at home. 小学校受験の家庭学習教材

## 図形：折り紙9

半分に折った折り紙を太線ではさみで切ります。切った後、折り紙は何枚になりますか。その数だけ、下の四角に○をかきます。



※1. このプリントは、しながわ・目黒こどもスクールのウェブサイトからダウンロードできます。無断複写・引用はご遠慮ください。  
※2. このプリントを活用したオンライン授業のスケジュールは、しながわ・目黒こどもスクールのウェブサイトでご確認ください。







# おうちで、やろう。

Study at home. 小学校受験の家庭学習教材

数量：加減 32

左の太い四角の中の食べ物を3匹の動物で分けます。サルとネコが四角の中の数だけもらえるときパンダがもらえる数だけパンダの四角に○をかきます。

--	--	--	--

--	--	--	--

--	--	--	--

--	--	--	--

※1. このプリントは、しながわ・目黒こどもスクールのウェブサイトでダウンロードができます。無断複写・引用はご遠慮ください。  
 ※2. このプリントを活用したオンライン授業のスケジュールは、しながわ・目黒こどもスクールのウェブサイトでご確認ください。

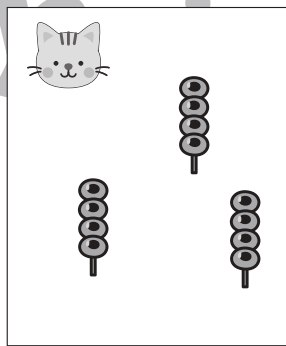
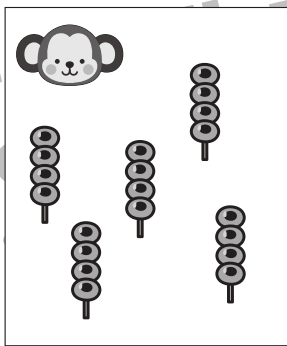
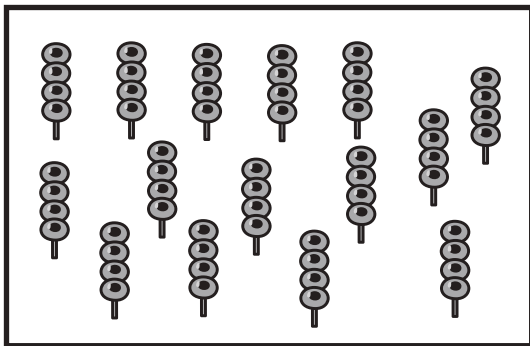










# おうちで、やろう。

Study at home. 小学校受験の家庭学習教材

数量：加減 33

左の太い四角の中の食べ物を3匹の動物で分けます。サルとネコが四角の中の数だけもらえるときパンダがもらえる数だけパンダの四角に○をかきます。



※1. このプリントは、しながわ・目黒こどもスクールのウェブサイトでダウンロードができます。無断複写・引用はご遠慮ください。  
※2. このプリントを活用したオンライン授業のスケジュールは、しながわ・目黒こどもスクールのウェブサイトでご確認ください。






# おうちで、やろう。

Study at home. 小学校受験の家庭学習教材

処理：計数 9

上の四角の中の絵の数をかぞえて、下の四角の同じ絵の右にその数より2つ多い数の○をかきます。  
この問題はスピードを意識して取り組む練習をしてみましょう。(1分～1分30秒)



※1. このプリントは、しながわ・目黒こどもスクールのウェブサイトでダウンロードができます。無断複写・引用はご遠慮ください。  
※2. このプリントを活用したオンライン授業のスケジュールは、しながわ・目黒こどもスクールのウェブサイトでご確認ください。