






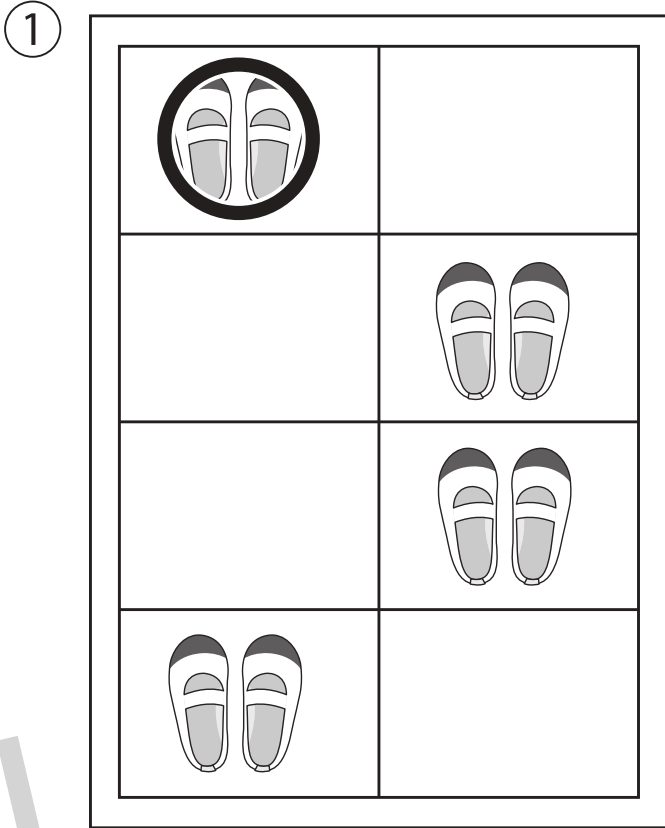
おうちで、やろう。

Study at home. 小学校受験の家庭学習教材

指示の聞き取り 26

下の絵は棚の中のようなです。①～④の問題を読んで答えましょう。

- ①一番上の段の靴が入っている棚に○をつけます。
- ②花が3つ咲いている鉢の右側の棚に○をつけます。
- ③ナスがある棚に○、トマトがある棚の2つ上の棚に△をつけます。
- ④帽子が入っている棚の左側の棚に○、サンダルが入っている棚の上の棚に△をかきます。



※1. このプリントは、しながわ・目黒こどもスクールのウェブサイトでダウンロードができます。無断複写・引用はご遠慮ください。

※2. このプリントを活用したオンライン授業のスケジュールは、しながわ・目黒こどもスクールのウェブサイトでご確認ください。



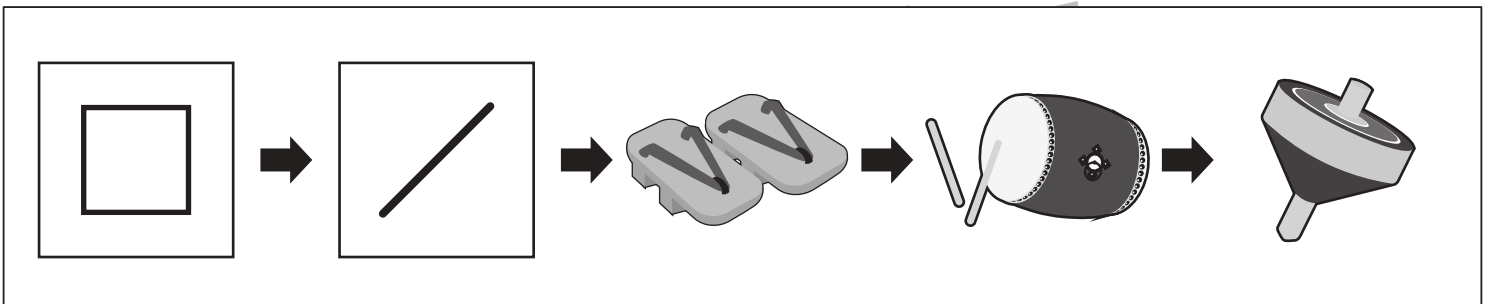
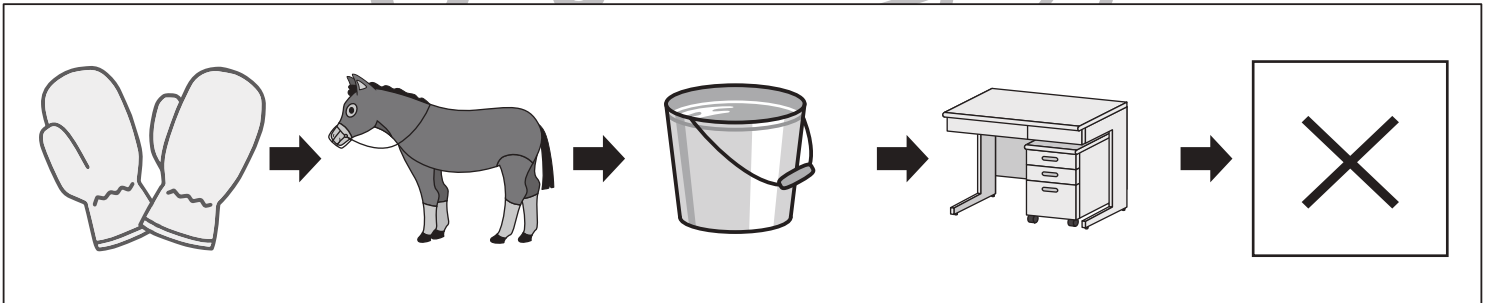
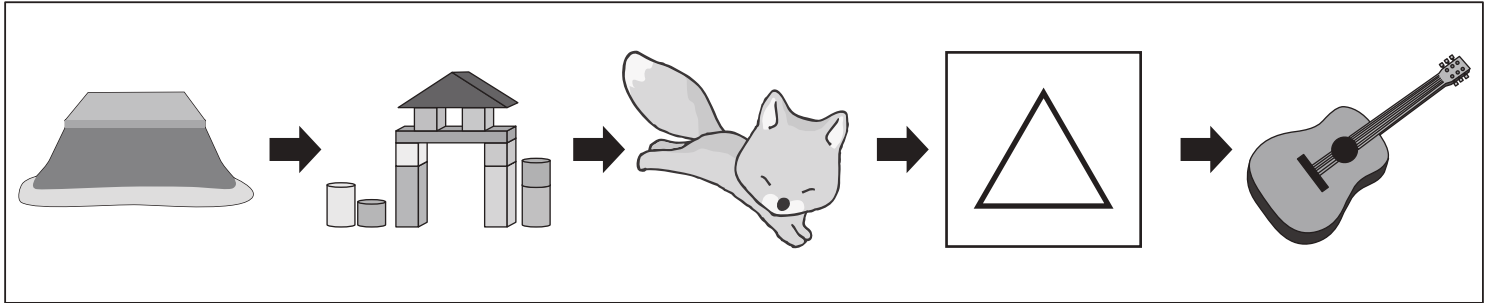


おうちで、やろう。

Study at home. 小学校受験の家庭学習教材

言語：しりとり 18

左から順番にしりとりをします。記号のある四角の中に入る絵を下の四角の中から選んで、それぞれの四角の中の記号をつけます。



※1. このプリントは、しながわ・目黒こどもスクールのウェブサイトからダウンロードできます。無断複写・引用はご遠慮ください。
 ※2. このプリントを活用したオンライン授業のスケジュールは、しながわ・目黒こどもスクールのウェブサイトでご確認ください。



おうちで、やろう。

Study at home. 小学校受験の家庭学習教材

図形：移動 36

左の四角がそれぞれの段ですれた形が右にあります。このとき、黒いマスに入る記号を考えて一番右の四角にかきます。

●	○	■	□	●
□	○	□	■	○

○	□	●	□	□	■	●
○	●	□	■	□	□	○
□	●	○	□	□	■	○

○	●	□	■	□	○
●	○	■	□	□	●

○	□	●	■	□	□	○
●	□	○	□	□	■	○
□	○	●	□	□	□	●

△	○	□	■	□	△
○	△	□	■	□	△

□	○	●	□	□	■	●
○	□	●	□	□	■	●
●	○	□	□	■	□	○

○	▽	□	■	□	▽
△	●	□	■	□	△

□	○	●	□	■	□	○
●	□	○	■	□	□	●
○	□	●	□	□	■	●

▷	◁	■	□	▷
○	●	□	■	●

○	●	□	□	■	□	●
□	●	○	□	■	□	○
○	●	□	□	■	□	●

※1. このプリントは、しながわ・目黒こどもスクールのウェブサイトでダウンロードができます。無断複写・引用はご遠慮ください。
 ※2. このプリントを活用したオンライン授業のスケジュールは、しながわ・目黒こどもスクールのウェブサイトでご確認ください。



おうちで、やろう。

Study at home. 小学校受験の家庭学習教材

図形：移動 37

左の四角がそれぞれの段ですれた形が右にあります。このとき、黒いマスに入る記号を考えて一番右の四角にかきます。

○	◎	<table border="1"> <tr><td> </td><td>■</td></tr> <tr><td> </td><td>■</td></tr> </table>		■		■	◎
	■						
	■						
△	○	△					

△		△	<table border="1"> <tr><td> </td><td> </td><td>■</td></tr> <tr><td> </td><td>■</td><td> </td></tr> <tr><td> </td><td>■</td><td> </td></tr> </table>			■		■			■		△
		■											
	■												
	■												
△	○	○	○										
	△	◎	△										

△	○	<table border="1"> <tr><td> </td><td> </td><td>■</td></tr> <tr><td>■</td><td> </td><td> </td></tr> </table>			■	■			○
			■						
■									
◎	△	◎							

△	○	◎	<table border="1"> <tr><td> </td><td>■</td><td> </td></tr> <tr><td> </td><td>■</td><td> </td></tr> </table>		■			■		○
	■									
	■									
	○	▽	○							
△	△		△							

◎	×	<table border="1"> <tr><td> </td><td>■</td><td> </td></tr> <tr><td> </td><td>■</td><td> </td></tr> </table>		■			■		◎
	■								
	■								
▽	○	○							

△	○	◎	<table border="1"> <tr><td> </td><td> </td><td>■</td></tr> <tr><td>■</td><td> </td><td> </td></tr> <tr><td> </td><td>■</td><td> </td></tr> </table>			■	■				■		◎
		■											
■													
	■												
○	▽	▽	○										
×	△	◎	◎										

○	▽	<table border="1"> <tr><td>■</td><td> </td></tr> <tr><td> </td><td>■</td></tr> </table>	■			■	○
■							
	■						
△	◎	△					

△	△	○	<table border="1"> <tr><td>■</td><td> </td><td> </td></tr> <tr><td> </td><td>■</td><td> </td></tr> </table>	■				■		△
■										
	■									
○	△	▽	△							
×	△	◎	◎							

△	△	<table border="1"> <tr><td> </td><td>■</td><td> </td></tr> <tr><td> </td><td> </td><td>■</td></tr> </table>		■				■	△
	■								
		■							
○	△	△							

△	△	○	<table border="1"> <tr><td>■</td><td> </td><td> </td></tr> <tr><td> </td><td>■</td><td> </td></tr> <tr><td>■</td><td> </td><td> </td></tr> </table>	■				■		■			△
■													
	■												
■													
○	△	▽	△										
×	△	◎	×										

※1. このプリントは、しながわ・目黒こどもスクールのウェブサイトでダウンロードができます。無断複写・引用はご遠慮ください。
 ※2. このプリントを活用したオンライン授業のスケジュールは、しながわ・目黒こどもスクールのウェブサイトでご確認ください。



おうちで、やろう。

Study at home. 小学校受験の家庭学習教材

図形：移動 38

上の四角の中の白猫と黒猫がそれぞれ太い四角の中の○の数だけ矢印の方向へ進んだとき、着いたマスに×をかきます。答えは右の四角のマスにかきます。進むときに太い線を越えることはできません。

①

②

③

④

⑤

⑥

※1. このプリントは、しながわ・目黒こどもスクールのウェブサイトでダウンロードができます。無断複写・引用はご遠慮ください。
 ※2. このプリントを活用したオンライン授業のスケジュールは、しながわ・目黒こどもスクールのウェブサイトでご確認ください。



おうちで、やろう。

Study at home. 小学校受験の家庭学習教材

図形：移動 39

上の四角の中の白猫と黒猫がそれぞれ太い四角の中の○の数だけ矢印の方向へ進み、●は矢印とは反対方向へ進みます。この約束で進み着いたマスに×をかきます。答えは右の四角のマスにかきます。進むときに太い線を越えることはできません。

①

④

②

⑤

③

⑥

※1. このプリントは、しながわ・目黒こどもスクールのウェブサイトでダウンロードができます。無断複写・引用はご遠慮ください。
 ※2. このプリントを活用したオンライン授業のスケジュールは、しながわ・目黒こどもスクールのウェブサイトでご確認ください。



おうちで、やろう。

Study at home. 小学校受験の家庭学習教材

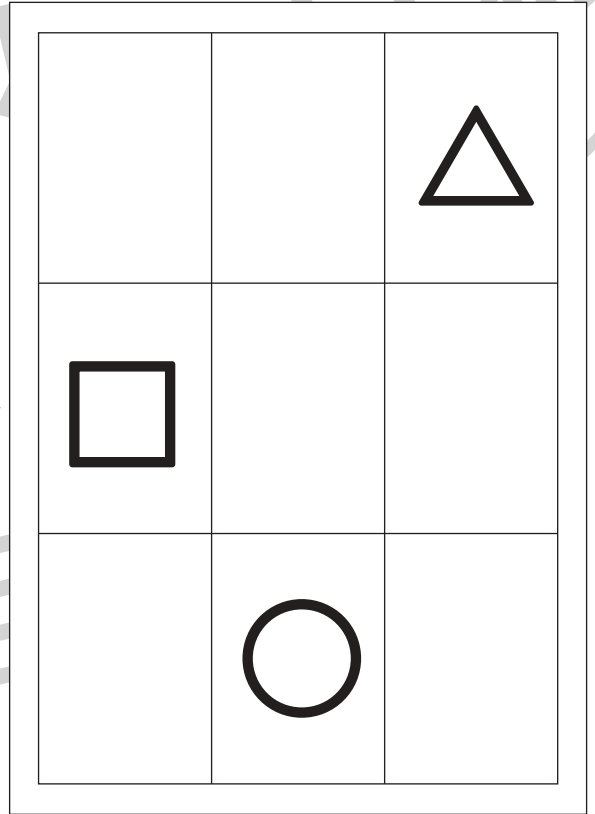


推理：条件推理 38

左の棚がお手本です。この棚を反対側からみたときの見え方を考えて、右の棚に記号をかきます。

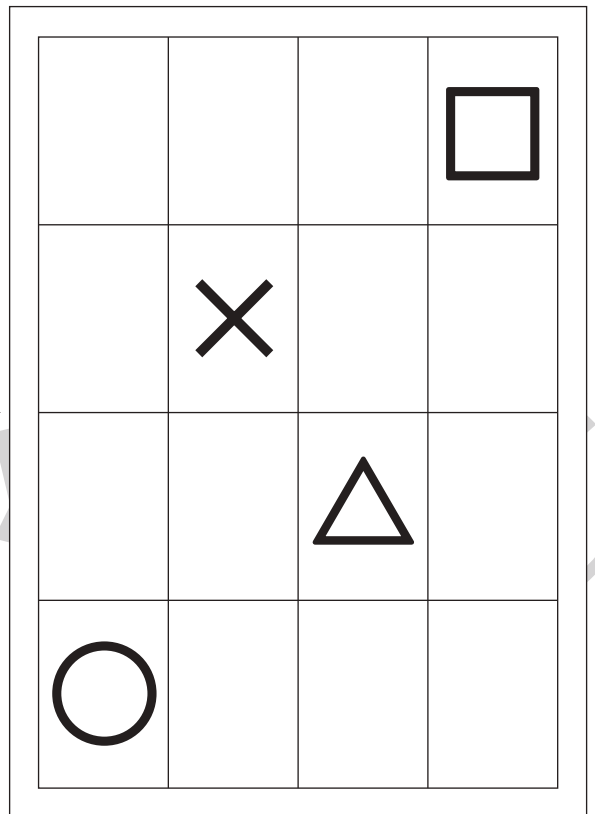

①クマの場所に△、サルの場所に□、ペンギンの場所に○をかきます。

②ニワトリの場所に□、コアラの場所に×、ウサギの場所に△、キリンの場所に○をかきます。

①



③



※1. このプリントは、しながわ・目黒こどもスクールのウェブサイトでダウンロードができます。無断複写・引用はご遠慮ください。

※2. このプリントを活用したオンライン授業のスケジュールは、しながわ・目黒こどもスクールのウェブサイトでご確認ください。



おうちで、やろう。

Study at home. 小学校受験の家庭学習教材

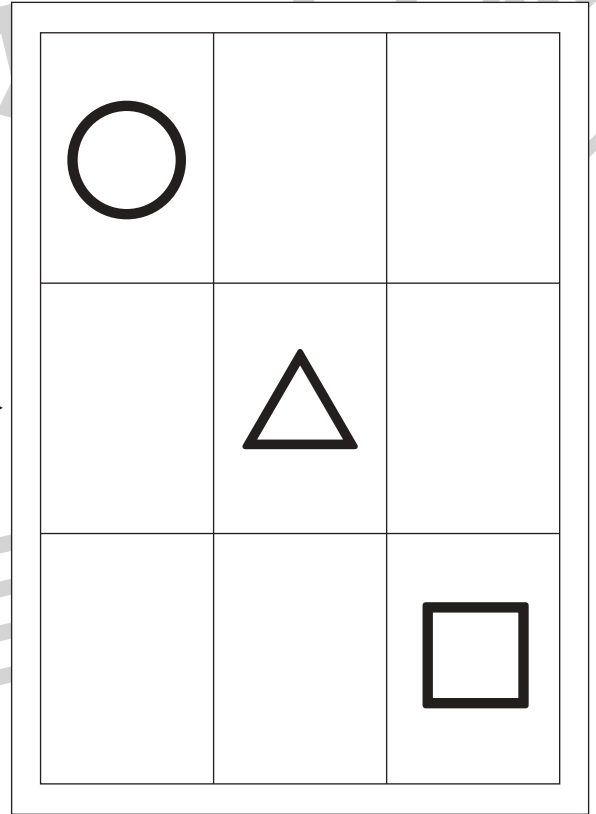


推理：条件推理 39

左の棚がお手本です。この棚を反対側からみたときの見え方を考えて、右の棚に記号をかきます。



①ウサギの場所に○、イヌの場所に△、サルの場所に□をかきます。

②カンガルーの場所に○、ペンギンの場所に△、キツネの場所に□、コアラの場所に×をかきます。

1



3



※1. このプリントは、しながわ・目黒こどもスクールのウェブサイトダウンロードができます。無断複写・引用はご遠慮ください。

※2. このプリントを活用したオンライン授業のスケジュールは、しながわ・目黒こどもスクールのウェブサイトでご確認ください。




おうちで、やろう。


Study at home. 小学校受験の家庭学習教材



処理：計数 11


左の四角の中にある絵をかぞえてその数だけ、右の同じ絵の四角に○をかきます。
この問題はスピードを意識して取り組みます。(目安時間 1分～1分30秒)




	○ × 5
	○ × 4




	○ × 7
	○ × 6



	○ × 5
	○ × 6



	○ × 8
	○ × 5



	○ × 6
	○ × 8

※1. このプリントは、しながわ・目黒こどもスクールのウェブサイトからダウンロードできます。無断複写・引用はご遠慮ください。

※2. このプリントを活用したオンライン授業のスケジュールは、しながわ・目黒こどもスクールのウェブサイトでご確認ください。