



おうちで、やろう。

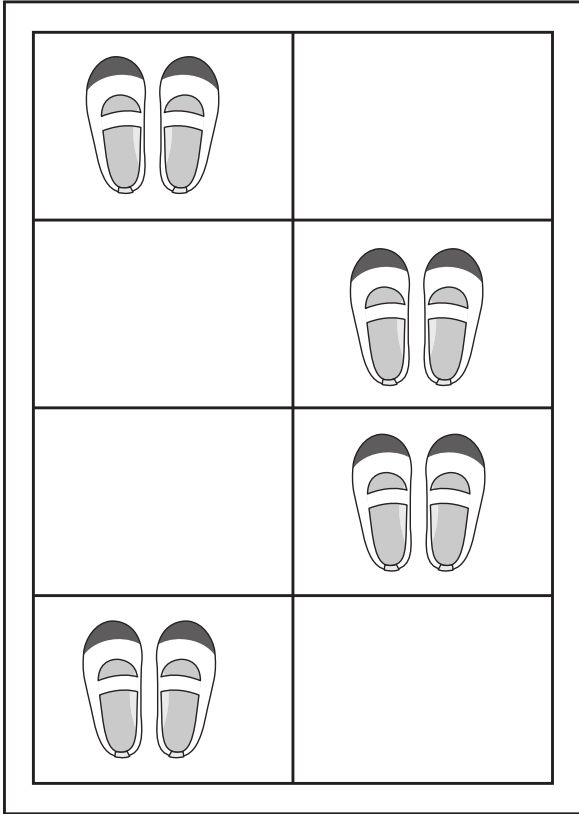
Study at home. 小学校受験の家庭学習教材

指示の聞き取り 26


下の絵は棚の中のようなです。①～④の問題を読んで答えましょう。

- ①一番上の段の靴が入っている棚に○をつけます。
- ②花が3つ咲いている鉢の右側の棚に○をつけます。
- ③ナスがある棚に○、トマトがある棚の2つ上の棚に△をつけます。
- ④帽子が入っている棚の左側の棚に○、サンダルが入っている棚の上の棚に△をかきます。


①




②



③



④



※1. このプリントは、しながわ・目黒こどもスクールのウェブサイトからダウンロードできます。無断複写・引用はご遠慮ください。
 ※2. このプリントを活用したオンライン授業のスケジュールは、しながわ・目黒こどもスクールのウェブサイトでご確認ください。



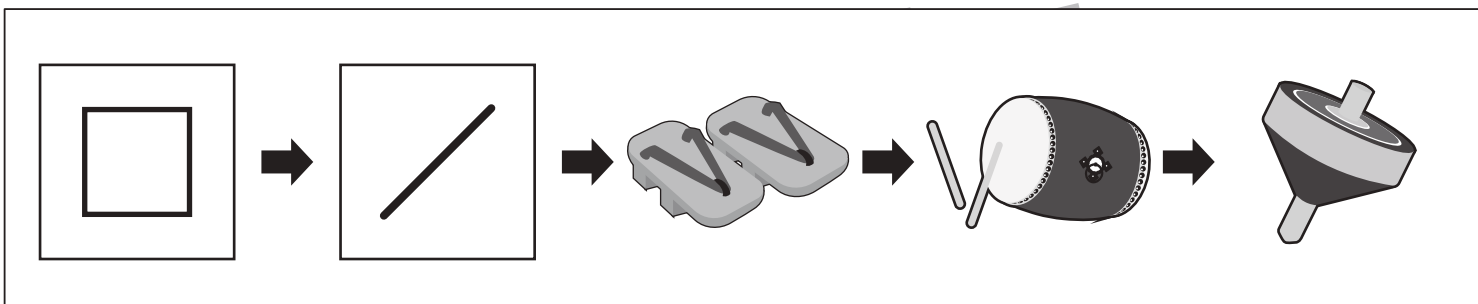
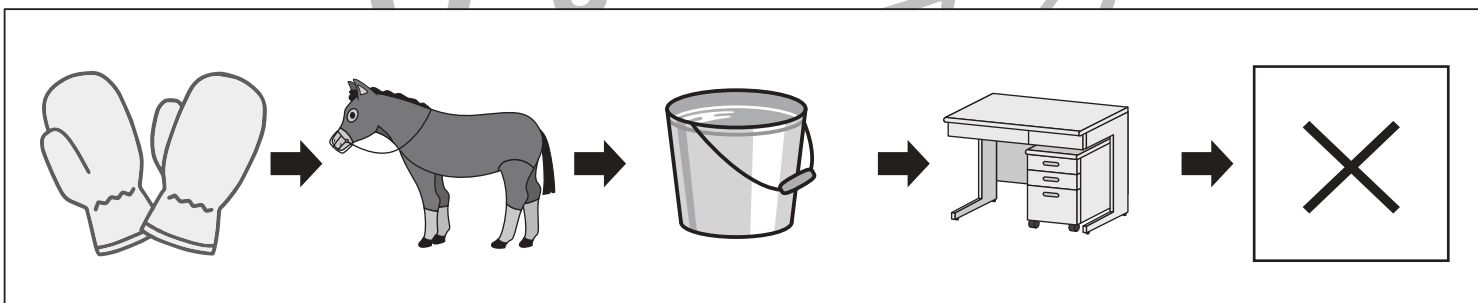
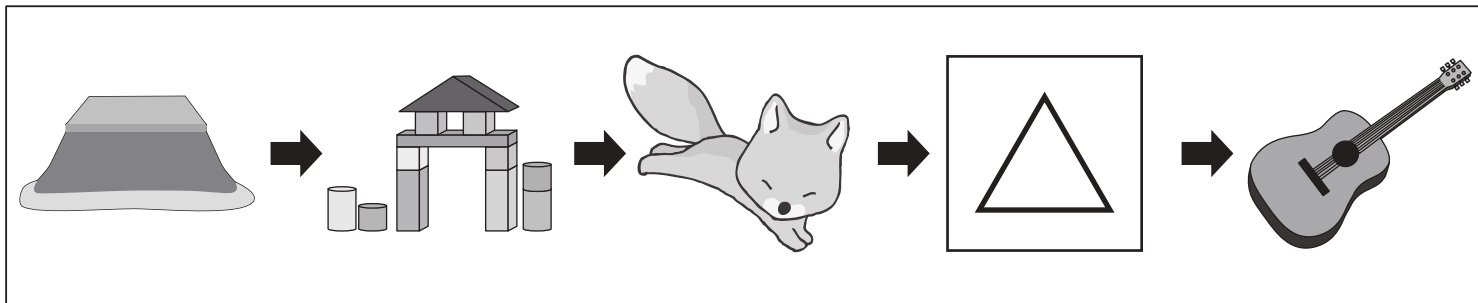


おうちで、やろう。

Study at home. 小学校受験の家庭学習教材

言語：しりとり 18

左から順番にしりとりをします。記号のある四角の中に入る絵を下の四角の中から選んで、それぞれの四角の中の記号をつけます。



※1. このプリントは、しながわ・目黒こどもスクールのウェブサイトからダウンロードできます。無断複写・引用はご遠慮ください。

※2. このプリントを活用したオンライン授業のスケジュールは、しながわ・目黒こどもスクールのウェブサイトでご確認ください。

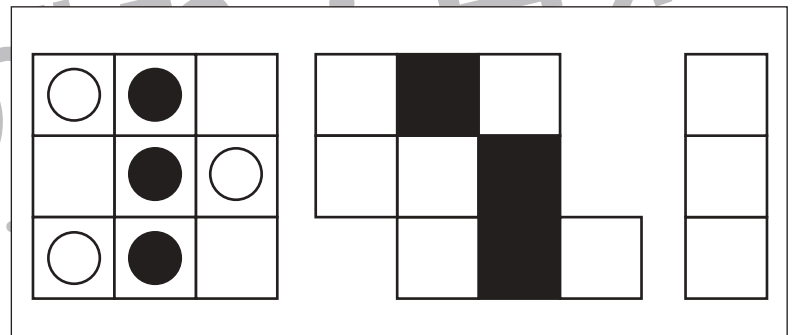

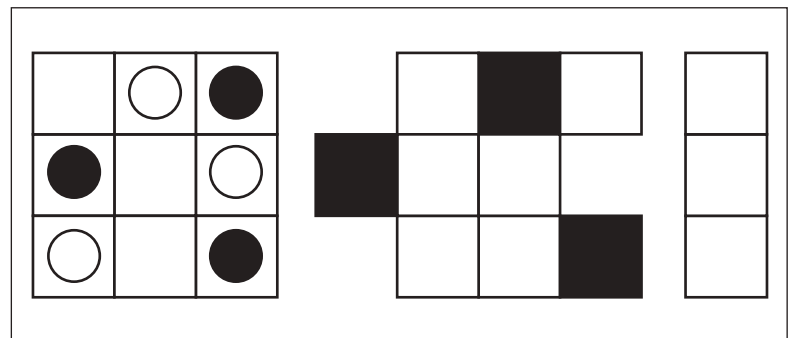
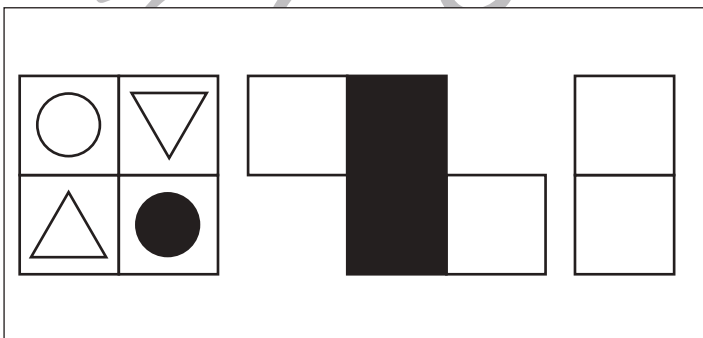
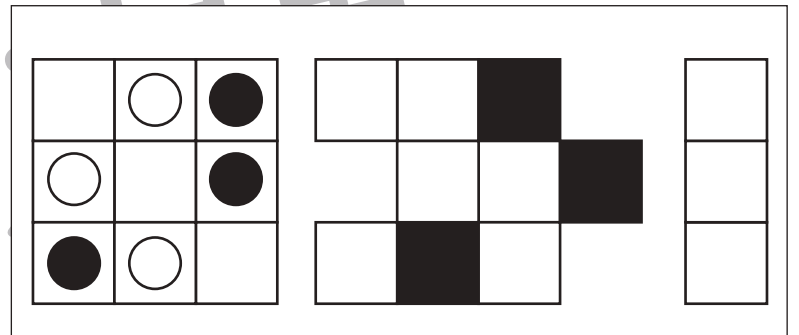
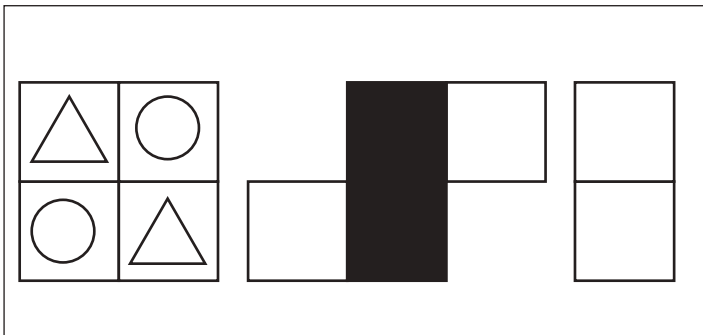
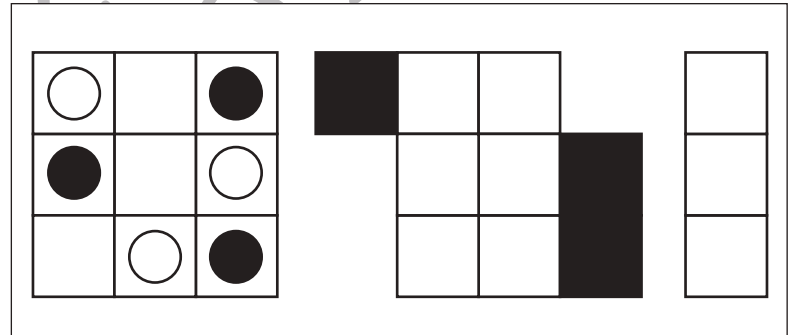
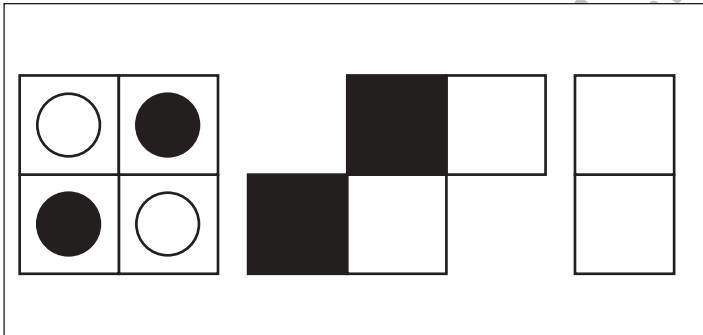

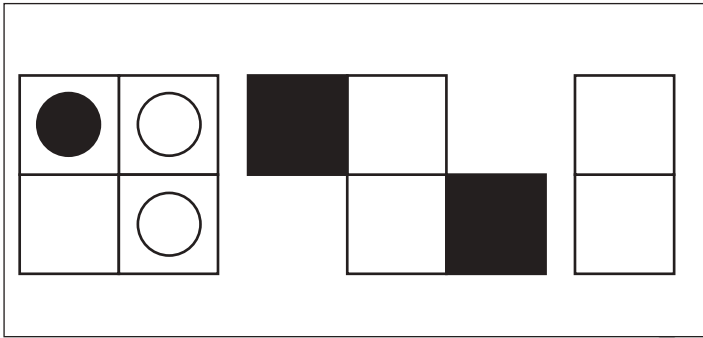


おうちで、やろう。

Study at home. 小学校受験の家庭学習教材

図形：移動 36

左の四角がそれぞれの段ですれた形が右にあります。このとき、黒いマスに入る記号を考えて一番右の四角にかきます。



※1. このプリントは、しながわ・目黒こどもスクールのウェブサイトでダウンロードができます。無断複写・引用はご遠慮ください。
 ※2. このプリントを活用したオンライン授業のスケジュールは、しながわ・目黒こどもスクールのウェブサイトでご確認ください。



おうちで、やろう。

Study at home. 小学校受験の家庭学習教材

図形：移動 37

左の四角がそれぞれの段ですれた形が右にあります。このとき、黒いマスに入る記号を考えて一番右の四角にかきます。

○	◎
△	○

	■	■	
	■		

△		△
△	○	○
	△	◎

		■	
	■		
		■	

△	○
◎	△

		■	
■			

△	○	◎
	○	▽
△	△	

	■		
	■		
		■	

◎	×
▽	○

	■		
	■		

△	○	◎
○	▽	▽
×	△	◎

		■	
	■		
		■	

○	▽
△	◎

■			
	■		

△	△	○
○	△	▽
×	△	◎

■			
	■		
		■	

△	△
○	△

	■		
		■	

△	△	○
○	△	▽
×	△	◎

■			
	■		
■			

※1. このプリントは、しながわ・目黒こどもスクールのウェブサイトでダウンロードができます。無断複写・引用はご遠慮ください。
 ※2. このプリントを活用したオンライン授業のスケジュールは、しながわ・目黒こどもスクールのウェブサイトでご確認ください。



おうちで、やろう。

Study at home. 小学校受験の家庭学習教材

図形：移動 38

上の四角の中の白猫と黒猫がそれぞれ太い四角の中の○の数だけ矢印の方向へ進んだとき、着いたマスに×をかきます。答えは右の四角のマスにかきます。進むときに太い線を越えることはできません。

①

②

③

④

⑤

⑥

※1. このプリントは、しながわ・目黒こどもスクールのウェブサイトからダウンロードできます。無断複写・引用はご遠慮ください。
 ※2. このプリントを活用したオンライン授業のスケジュールは、しながわ・目黒こどもスクールのウェブサイトでご確認ください。



おうちで、やろう。

Study at home. 小学校受験の家庭学習教材

図形：移動 39

上の四角の中の白猫と黒猫がそれぞれ太い四角の中の○の数だけ矢印の方向へ進み、●は矢印とは反対方向へ進みます。この約束で進み着いたマスに×をかきます。答えは右の四角のマスにかきます。進むときに太い線を越えることはできません。

①

④

②

⑤

③

⑥

※1. このプリントは、しながわ・目黒こどもスクールのウェブサイトでダウンロードができます。無断複写・引用はご遠慮ください。
 ※2. このプリントを活用したオンライン授業のスケジュールは、しながわ・目黒こどもスクールのウェブサイトでご確認ください。



おうちで、やろう。

Study at home. 小学校受験の家庭学習教材




推理：条件推理 38

左の棚がお手本です。この棚を反対側からみたときの見え方を考えて、右の棚に記号をかきます。



①クマの場所に△、サルの場所に□、ペンギンの場所に○をかきます。

②ニワトリの場所に□、コアラの場所に×、ウサギの場所に△、キリンの場所に○をかきます。

1



3



※1. このプリントは、しながわ・目黒こどもスクールのウェブサイトでダウンロードができます。無断複写・引用はご遠慮ください。

※2. このプリントを活用したオンライン授業のスケジュールは、しながわ・目黒こどもスクールのウェブサイトでご確認ください。



おうちで、やろう。

Study at home. 小学校受験の家庭学習教材




推理：条件推理 39

左の棚がお手本です。この棚を反対側からみたときの見え方を考えて、右の棚に記号をかきます。



①ウサギの場所に○、イヌの場所に△、サルの場所に□をかきます。

②カンガルーの場所に○、ペンギンの場所に△、キツネの場所に□、コアラの場所に×をかきます。

①



③



※1. このプリントは、しながわ・目黒こどもスクールのウェブサイトでダウンロードができます。無断複写・引用はご遠慮ください。

※2. このプリントを活用したオンライン授業のスケジュールは、しながわ・目黒こどもスクールのウェブサイトでご確認ください。






おうちで、やろう。

Study at home. 小学校受験の家庭学習教材

運筆：模写 23

左のお手本と同じ顔を右の四角に描きます。大きさや形に気を付けて描きましょう
※クーピー、鉛筆、ラッシュンペンなどいろいろな筆記具で描いてみましょう。
※この問題に解答はありません。



※1. このプリントは、しながわ・目黒こどもスクールのウェブサイトでダウンロードができます。無断複写・引用はご遠慮ください。
※2. このプリントを活用したオンライン授業のスケジュールは、しながわ・目黒こどもスクールのウェブサイトでご確認ください。











おうちで、やろう。

Study at home. 小学校受験の家庭学習教材

処理：計数 11

左の四角の中にある絵をかそえてその数だけ、右の同じ絵の四角に○をかきます。
この問題はスピードを意識して取り組みます。(目安時間 1分～1分30秒)



※1. このプリントは、しながわ・目黒こどもスクールのウェブサイトからダウンロードできます。無断複写・引用はご遠慮ください。
※2. このプリントを活用したオンライン授業のスケジュールは、しながわ・目黒こどもスクールのウェブサイトでご確認ください。

