



おうちで、やろう。

Study at home. 小学校受験の家庭学習教材

図形：重ね回転4

左の2枚の四角は透明な板です。

左の四角を右に1度倒した後、真ん中の点線の四角と重ねたときの見え方を考えて、右の四角にかきます。

※1. このプリントは、しながわ・目黒こどもスクールのウェブサイトでダウンロードができます。無断複写・引用はご遠慮ください。

※2. このプリントを活用したオンライン授業のスケジュールは、しながわ・目黒こどもスクールのウェブサイトでご確認ください。



おうちで、やろう。

Study at home. 小学校受験の家庭学習教材

図形：重ね回転5

左の2枚の四角は透明な板です。

左の四角を右に1度倒した後、真ん中の点線の四角と重ねたときの見え方を考えて、右の四角にかきます。

※1. このプリントは、しながわ・目黒こどもスクールのウェブサイトでダウンロードができます。無断複写・引用はご遠慮ください。

※2. このプリントを活用したオンライン授業のスケジュールは、しながわ・目黒こどもスクールのウェブサイトでご確認ください。



おうちで、やろう。

Study at home. 小学校受験の家庭学習教材

図形：重ね回転6

左の2枚の四角は透明な板です。

左の四角を右に1度倒した後、真ん中の点線の四角と重ねたときの見え方を考えて、右の四角にかきます。

※1. このプリントは、しながわ・目黒こどもスクールのウェブサイトでダウンロードができます。無断複写・引用はご遠慮ください。

※2. このプリントを活用したオンライン授業のスケジュールは、しながわ・目黒こどもスクールのウェブサイトでご確認ください。



おうちで、やろう。

Study at home. 小学校受験の家庭学習教材

推理：系列完成 23

記号がある順番通りに並んでいます。空いている四角に入る記号を考えてその記号をかきます。

×	◎	○	×	×	◎		×	×	◎
									○
	×	○		×	×	◎	○	×	

	×	▽	◎	△		▽	◎	△	×
									▽
△	◎	▽	×	△	◎		×	△	

◎	◎	□	×	◎		□	×	◎	◎
◎		□		◎					×
×									◎
□	◎		×	□	◎	◎		□	◎

※1. このプリントは、しながわ・目黒こどもスクールのウェブサイトでダウンロードができます。無断複写・引用はご遠慮ください。
 ※2. このプリントを活用したオンライン授業のスケジュールは、しながわ・目黒こどもスクールのウェブサイトでご確認ください。



おうちで、やろう。

Study at home. 小学校受験の家庭学習教材

推理：系列完成 24

記号がある順番通りに並んでいます。空いている四角に入る記号を考えてその記号をかきます。

○	△	□	○	○		□	○		△
									□
	○	□		○	○	□	△		○

	○	▽		□	○	▽	○		○
									▽
□	○	▽	○	□	○	▽		□	○

△		○		△	▽	○	□	△	▽
									○

△	▽			△					□
□									
○	▽	△	□	○	▽	△	□		▽

※1. このプリントは、しながわ・目黒こどもスクールのウェブサイトでダウンロードができます。無断複写・引用はご遠慮ください。
 ※2. このプリントを活用したオンライン授業のスケジュールは、しながわ・目黒こどもスクールのウェブサイトでご確認ください。




おうちで、やろう。

Study at home. 小学校受験の家庭学習教材

処理：計数 12

上の四角の中の絵の数をかぞえて、下の四角の同じ絵の右にその数より 1 つ多い数の○をかきます。
この問題はスピードを意識して取り組む練習をしてみましょう。(1分～1分30秒)



※1. このプリントは、しながわ・目黒こどもスクールのウェブサイトでダウンロードができます。無断複写・引用はご遠慮ください。
※2. このプリントを活用したオンライン授業のスケジュールは、しながわ・目黒こどもスクールのウェブサイトでご確認ください。






おうちで、やろう。

Study at home. 小学校受験の家庭学習教材

運筆：模写 24

左のお手本と同じ顔を右の四角に描きます。大きさや形に気を付けて描きましょう
※コピー、鉛筆、ラッシュンペンなどいろいろな筆記具で描いてみましょう。
※この問題に解答はありません。



※1. このプリントは、しながわ・目黒こどもスクールのウェブサイトでダウンロードができます。無断複写・引用はご遠慮ください。
※2. このプリントを活用したオンライン授業のスケジュールは、しながわ・目黒こどもスクールのウェブサイトでご確認ください。







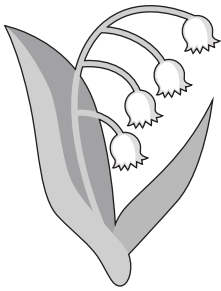



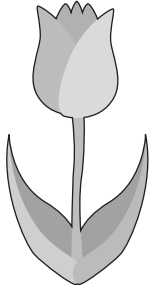


おうちで、やろう。

Study at home. 小学校受験の家庭学習教材

□頭試問 4

いろいろな花の絵を見て下の質問に答えましょう。お子さまが答えたことは保護者の方が記入してください。
※この問題に解答はありません。



①上の中であなたが好きな花はどれですか。その理由もお話してください。

②上の中で家族の誕生日プレゼントに渡したい花はどれですか。誰になぜそのお花をあげたいのかお話してください。

③育ててみたい花はどれですか。どうして育ててみたいのかもお話してください。

④この中でお家に飾りたい花を3つ選びましょう。どんな花瓶に入れて飾りたいのかもお話ししましょう。

※1. このプリントは、しながわ・目黒こどもスクールのウェブサイトでダウンロードができます。無断複写・引用はご遠慮ください。

※2. このプリントを活用したオンライン授業のスケジュールは、しながわ・目黒こどもスクールのウェブサイトでご確認ください。








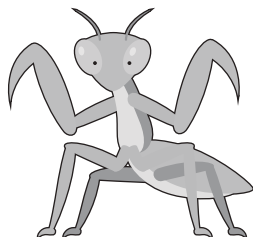

おうちで、やろう。

Study at home. 小学校受験の家庭学習教材

□頭試問5

いろいろな虫の絵を見て下の質問に答えましょう。お子さまが答えたことは保護者の方が記入してください。

※この問題に解答はありません。



①上の中で見たことがある虫はどれですか。どこで見たのかもお話してください。

②上の中には空を飛ぶ虫がありますが、その中で2つだけ教えてください。

③上の中には鳴く虫がありますが、鳴き声を聞いたことがある虫を教えてください。

④上の中でまだ見たことがないけど、見てみたい虫を教えてください。

全部見たことがあるお友だちは、上の中の虫以外で見てみたい虫を教えてください。

※1. このプリントは、しながわ・目黒こどもスクールのウェブサイトでダウンロードができます。無断複写・引用はご遠慮ください。

※2. このプリントを活用したオンライン授業のスケジュールは、しながわ・目黒こどもスクールのウェブサイトでご確認ください。







おうちで、やろう。

Study at home. 小学校受験の家庭学習教材

□頭試問6

いろいろなお手伝いの絵を見て下の質問に答えましょう。お子さまが答えたことは保護者の方が記入してください。
※この問題に解答はありません。



①上の中であなたがやったことのあるお手伝いは何ですか。

②上の中で大変そうなお手伝いは何ですか。どうして大変だとも思いますか。

③ゴミ捨てのお手伝いをするとき気を付けることはなんですか。

④掃除のお手伝いで使うものは何ですか。使うと思うものを全て教えてください。

