



おうちで、やろう。

Study at home. 小学校受験の家庭学習教材

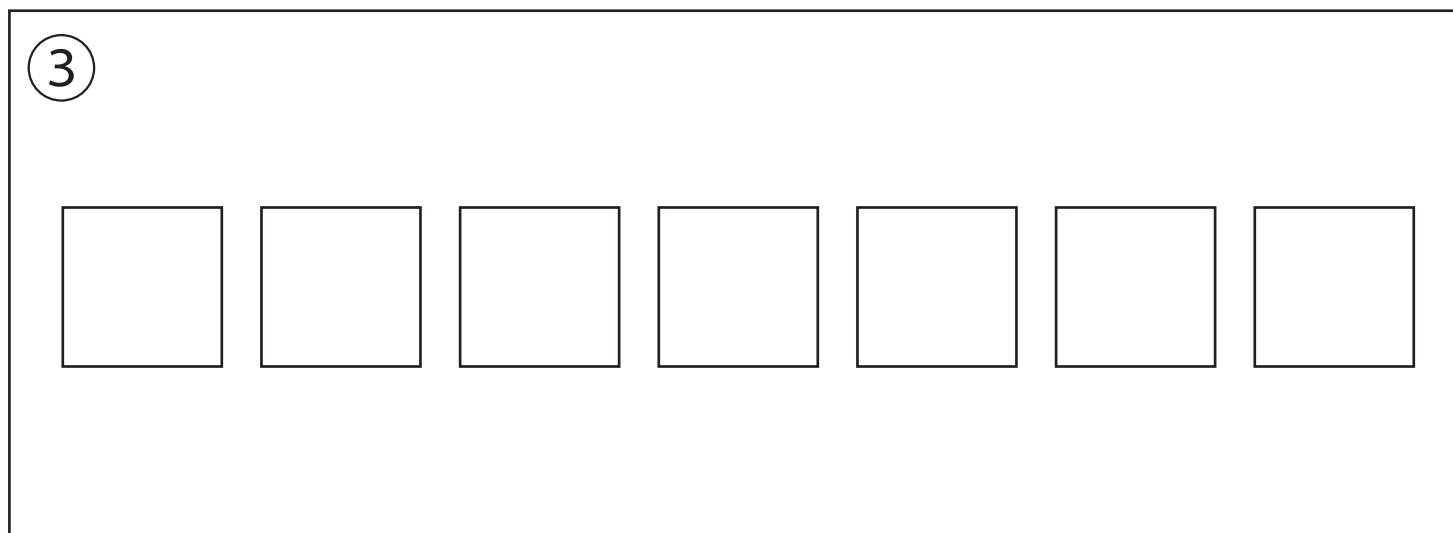

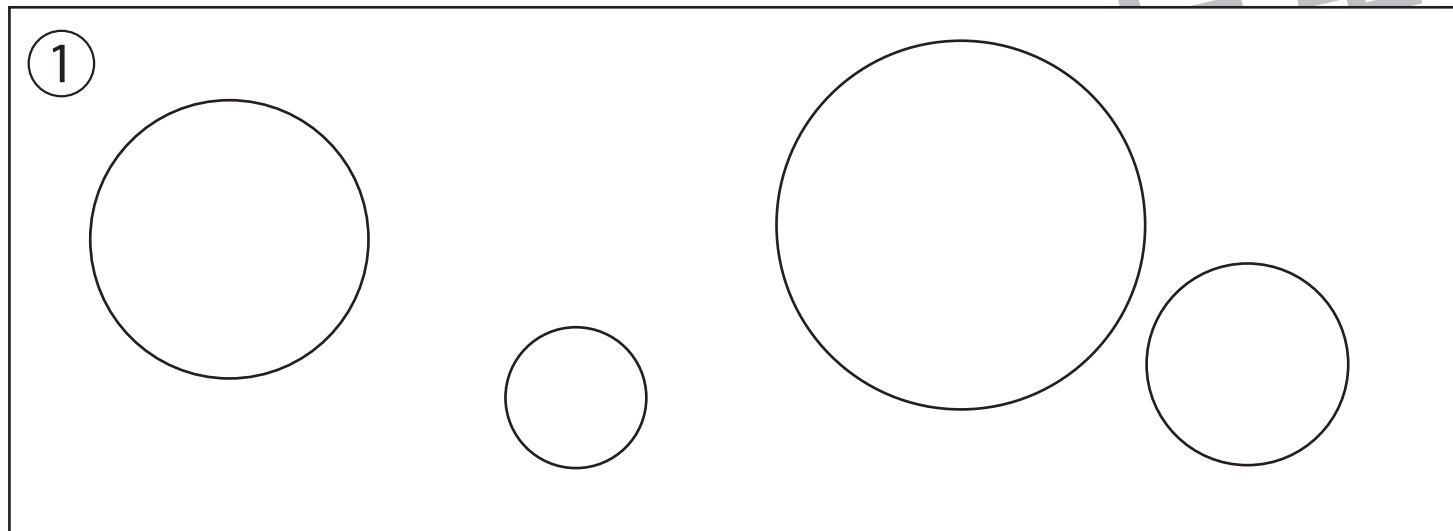
指示の聞き取り 27

それぞれの設問に答えましょう。指示は1度ですべて読み上げます。しっかり聞いて取り組みましょう。

① 1番大きい○を青で、1番小さい○を緑で塗ります。その他の○の中には黒で×をかきます。

② 角の数が同じ形を青で塗り、角の数が一番少ない形は赤で塗ります。

③ 左端、真ん中、右から5番目の四角を赤で塗ります。



※1. このプリントは、しながわ・目黒こどもスクールのウェブサイトからダウンロードできます。無断複写・引用はご遠慮ください。

※2. このプリントを活用したオンライン授業のスケジュールは、しながわ・目黒こどもスクールのウェブサイトでご確認ください。



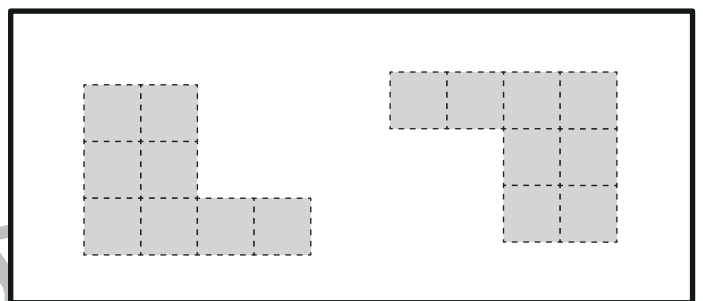
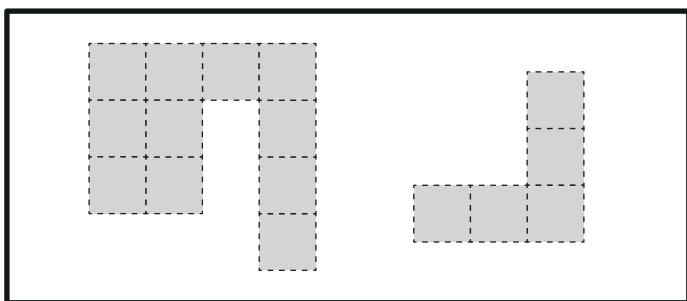


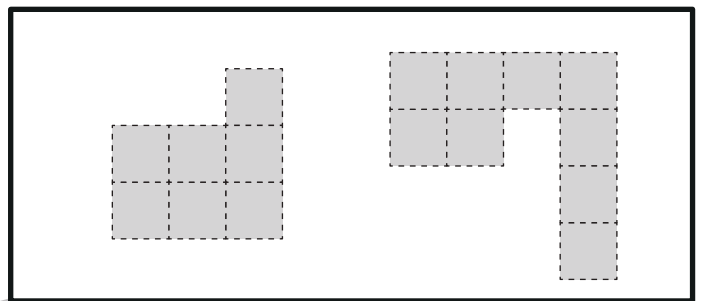
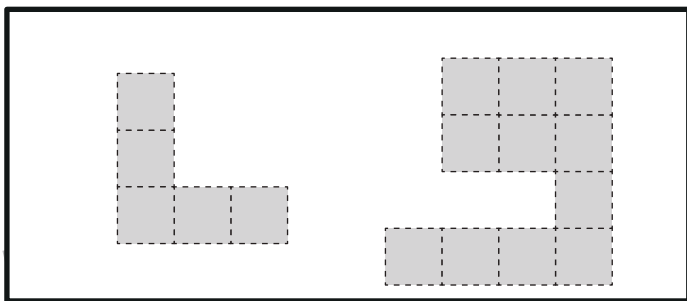


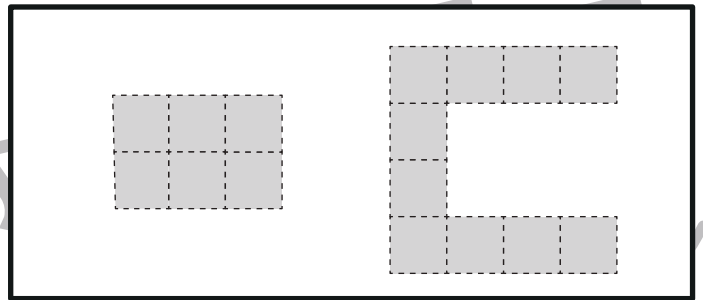
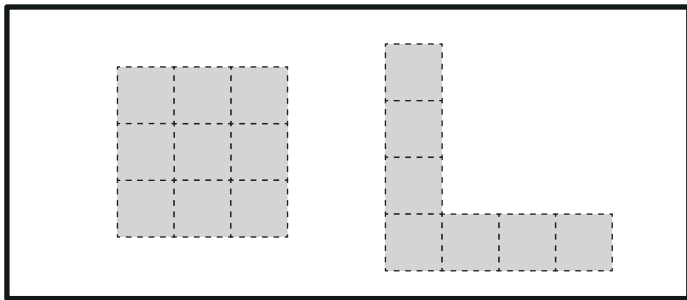


おうちで、やろう。

Study at home. 小学校受験の家庭学習教材

図形：構成 20

太枠の中のパズルピースは、下のマスどこかにハサミを入れて分けたものです。ピースは分けたときに向きを変えたり、回転をしていたりすることはありません。どこにハサミを入れたのかを考えて、その場所に線を引きましょう。



※1. このプリントは、しながわ・目黒こどもスクールのウェブサイトでダウンロードができます。無断複写・引用はご遠慮ください。
※2. このプリントを活用したオンライン授業のスケジュールは、しながわ・目黒こどもスクールのウェブサイトでご確認ください。





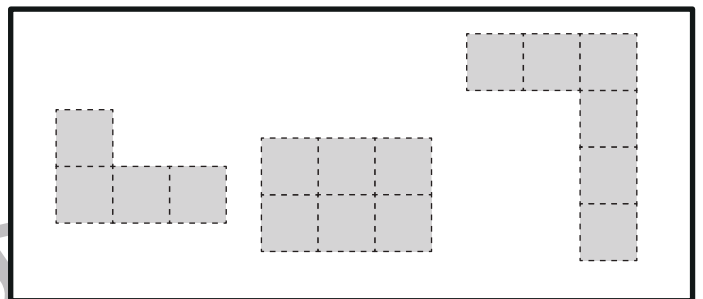
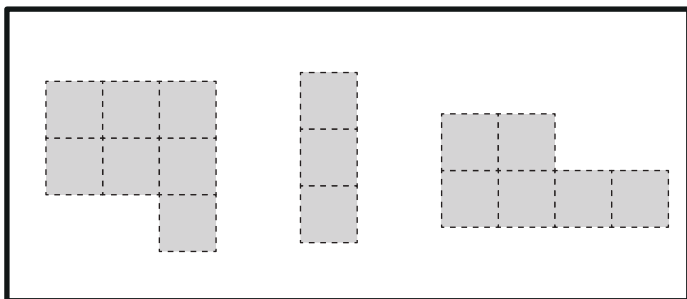


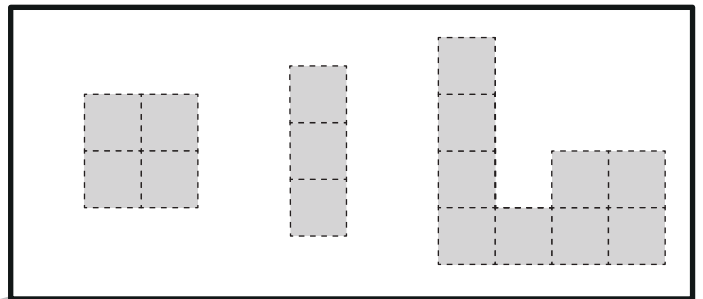
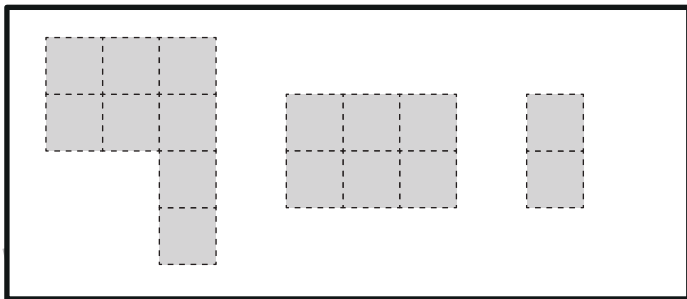


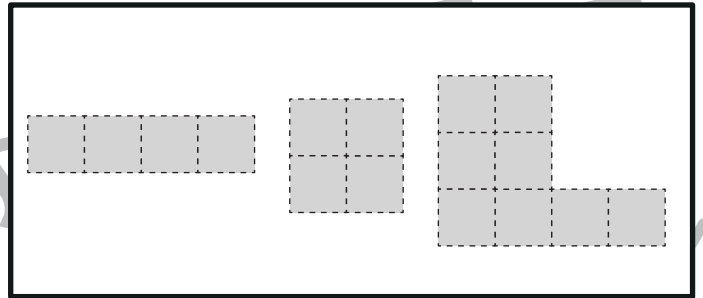
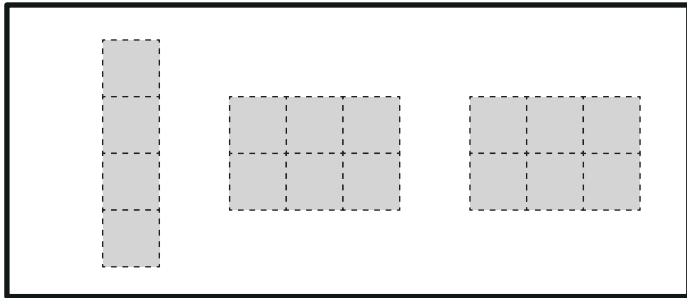
おうちで、やろう。

Study at home. 小学校受験の家庭学習教材

図形：構成 21

太枠の中のパズルピースは、下のマスどこかにハサミを入れて分けたものです。ピースは分けたときに向きを変えたり、回転をしてみたりすることはありません。どこにハサミを入れたのかを考えて、その場所に線を引きましょう。

※解答は一例です。正しく解答できていれば正解としてください。



※1. このプリントは、しながわ・目黒こどもスクールのウェブサイトでダウンロードができます。無断複写・引用はご遠慮ください。
※2. このプリントを活用したオンライン授業のスケジュールは、しながわ・目黒こどもスクールのウェブサイトでご確認ください。

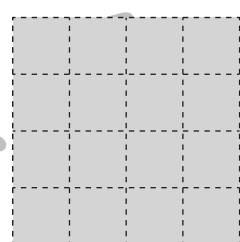
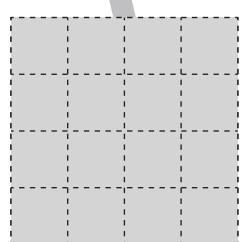
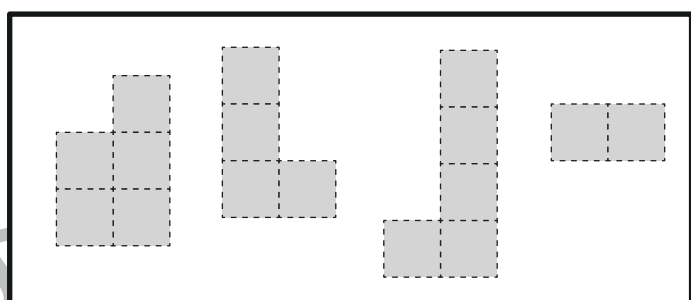
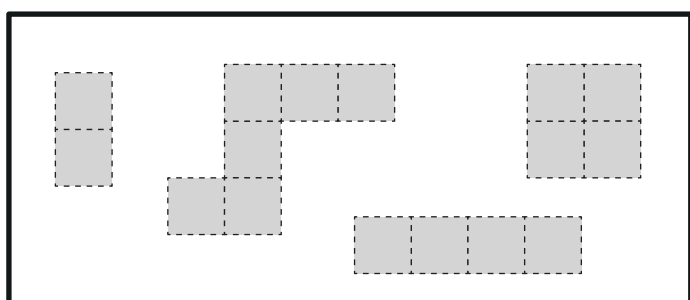


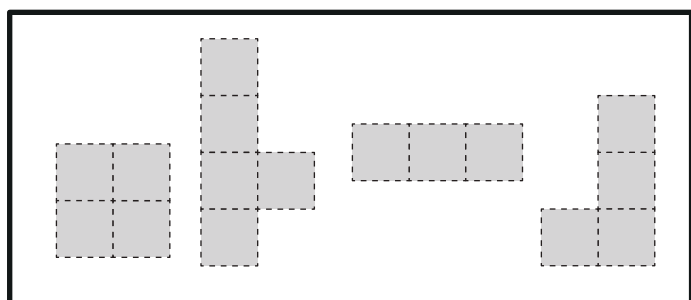
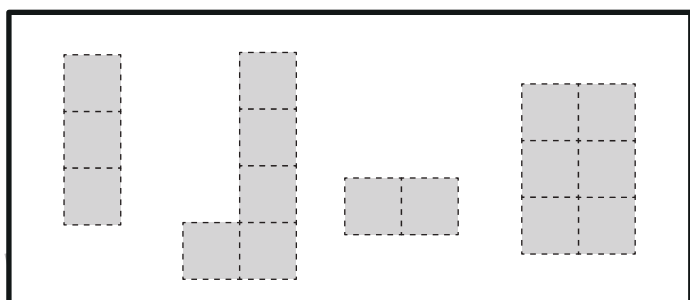


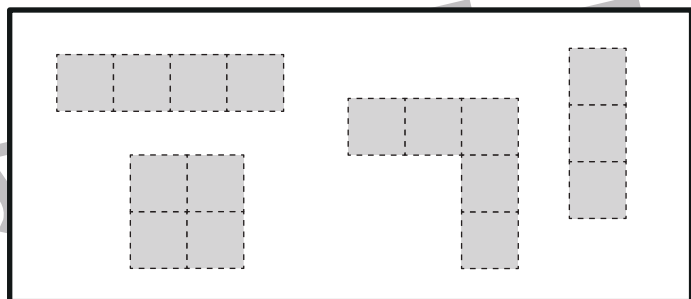
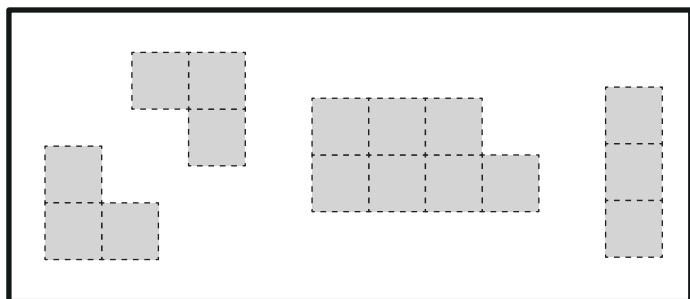


おうちで、やろう。

Study at home. 小学校受験の家庭学習教材

図形：構成 22

太枠の中のパズルピースは、下のマスのどこかにハサミを入れて分けたものです。ピースは分けたときに向きを変えたり、回転をしてみたりすることはありません。どこにハサミを入れたのかを考えて、その場所に線を引きましょう。



※1. このプリントは、しながわ・目黒こどもスクールのウェブサイトでダウンロードができます。無断複写・引用はご遠慮ください。
※2. このプリントを活用したオンライン授業のスケジュールは、しながわ・目黒こどもスクールのウェブサイトでご確認ください。

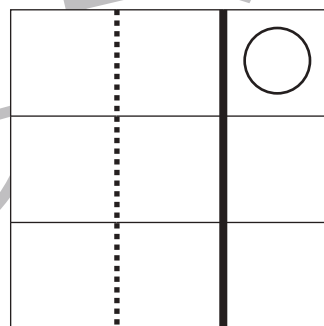
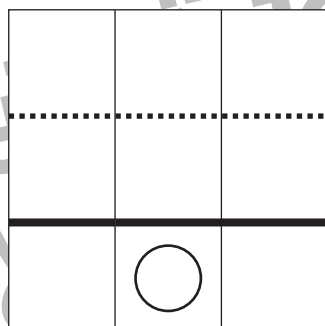
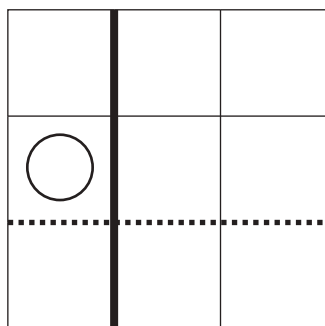
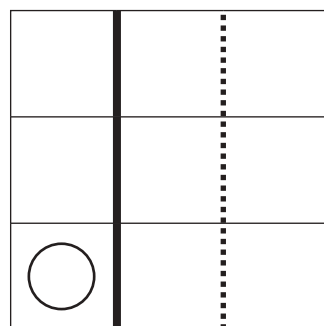
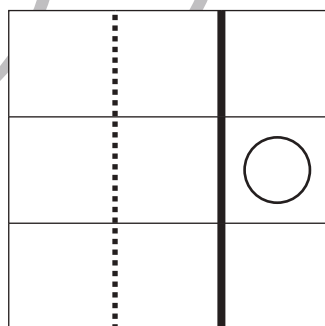

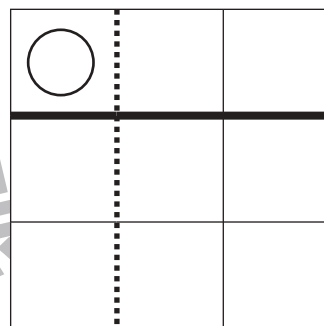
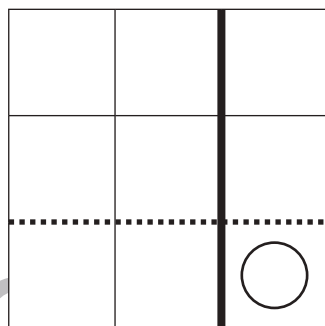
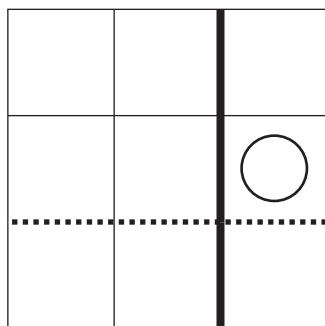
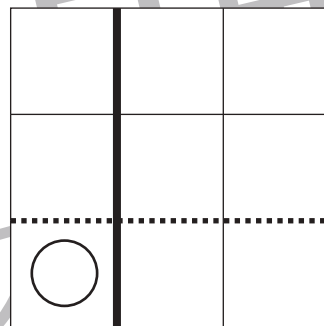
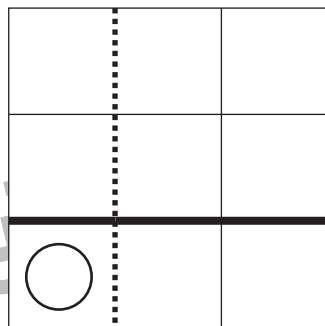
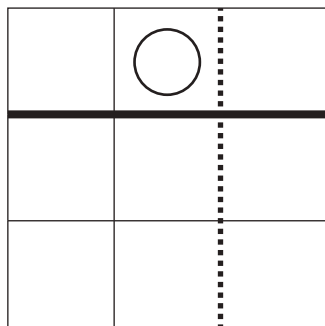


おうちで、やろう。

Study at home. 小学校受験の家庭学習教材

図形：折り重ね 31

四角い紙を線で折ると重なったマスに○が移動します。この約束でまず黒い線で折ります。折ったものを広げてから、次に点線で折ります。このとき、○が動いたマスに○をかきます。折るときは○がある方を折ります。



※1. このプリントは、しながわ・目黒こどもスクールのウェブサイトでダウンロードができます。無断複写・引用はご遠慮ください。
※2. このプリントを活用したオンライン授業のスケジュールは、しながわ・目黒こどもスクールのウェブサイトでご確認ください。



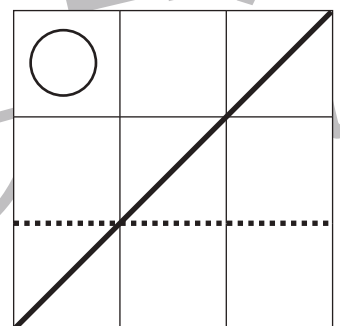
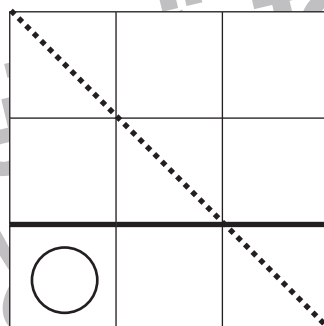
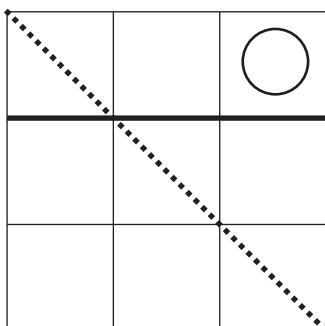
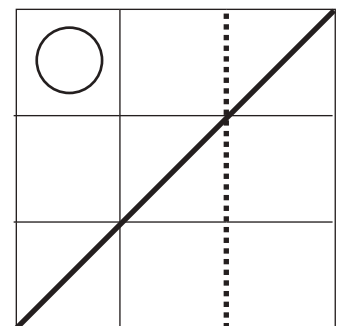
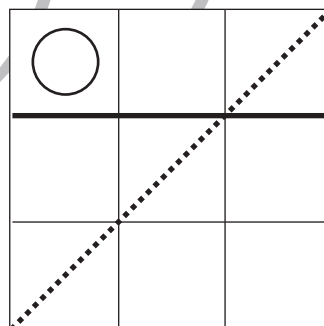
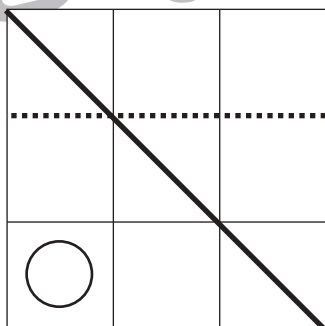
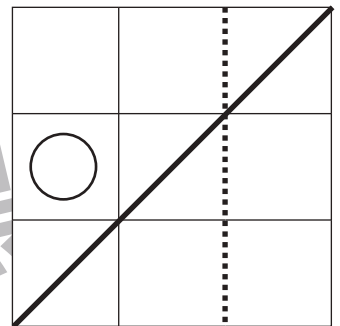
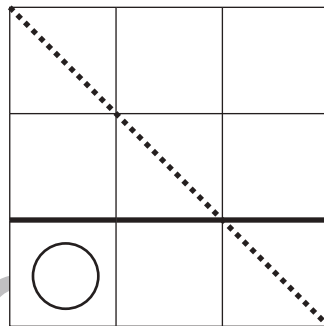
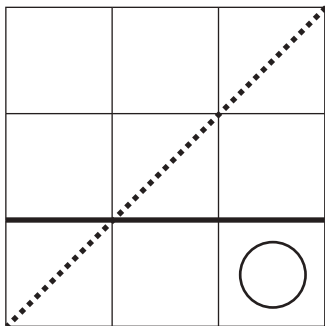
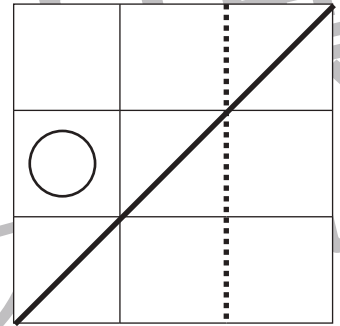
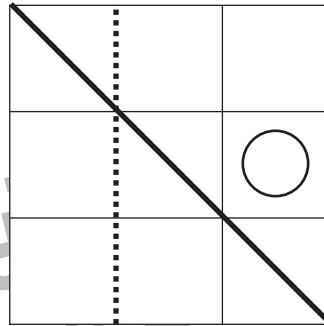
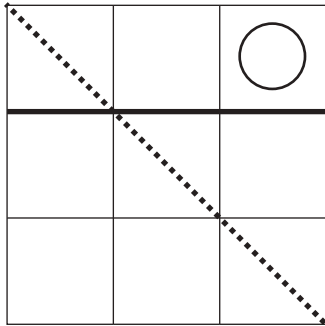


おうちで、やろう。

Study at home. 小学校受験の家庭学習教材

図形：折り重ね 32

四角い紙を線で折ると重なったマスに○が移動します。この約束でまず黒い線で折ります。折ったものを広げてから、次に点線で折ります。このとき、○が動いたマスに○をかきます。折るときは○がある方を折ります。



※1. このプリントは、しながわ・目黒こどもスクールのウェブサイトでダウンロードができます。無断複写・引用はご遠慮ください。
※2. このプリントを活用したオンライン授業のスケジュールは、しながわ・目黒こどもスクールのウェブサイトでご確認ください。



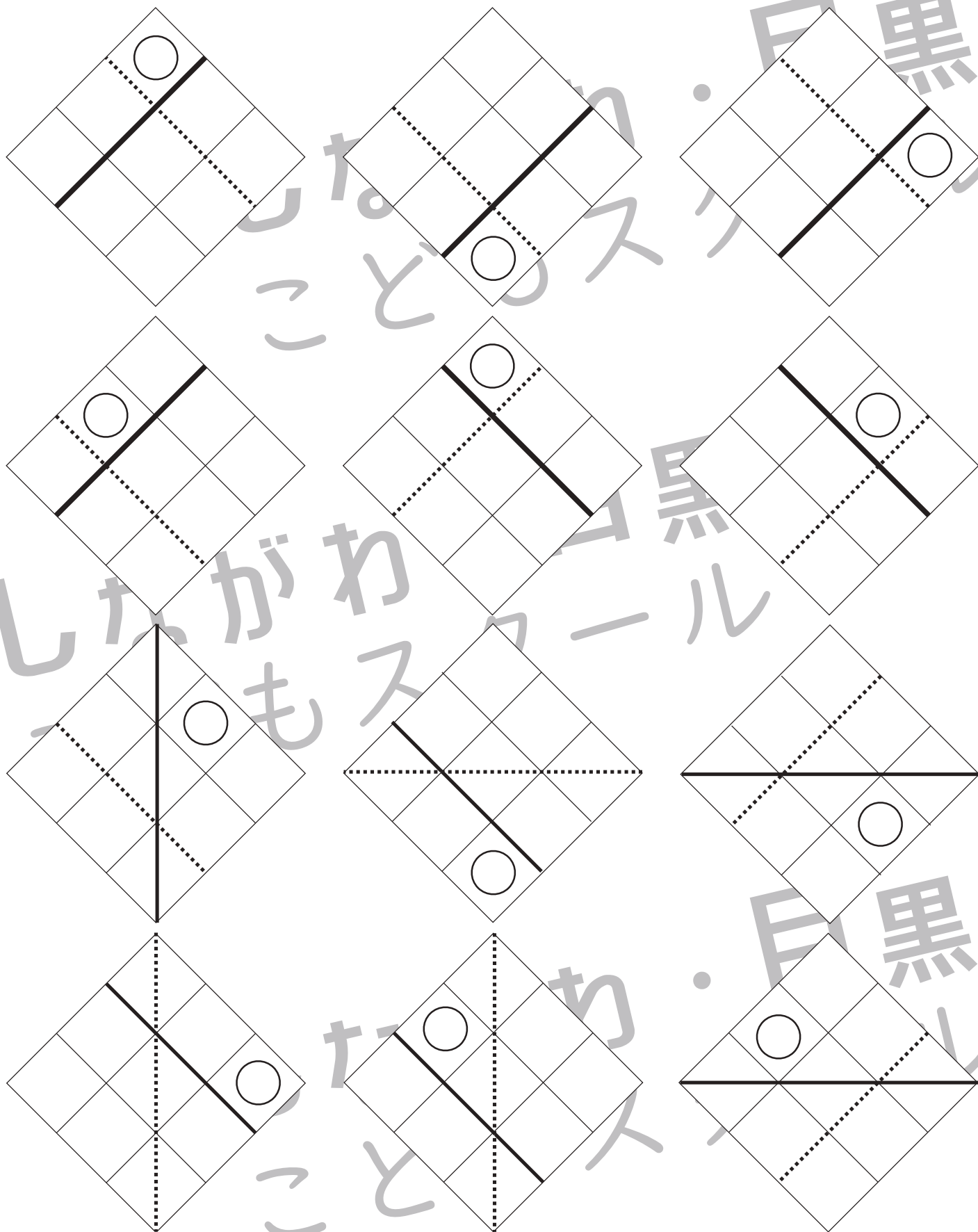


おうちで、やろう。

Study at home. 小学校受験の家庭学習教材

図形：折り重ね 33

四角い紙を線で折ると重なったマスに○が移動します。この約束でまず黒い線で折ります。折ったものを広げてから、次に点線で折ります。このとき、○が動いたマスに○をかきます。折るときは○がある方を折ります。



※1. このプリントは、しながわ・目黒こどもスクールのウェブサイトでダウンロードができます。無断複写・引用はご遠慮ください。
※2. このプリントを活用したオンライン授業のスケジュールは、しながわ・目黒こどもスクールのウェブサイトでご確認ください。

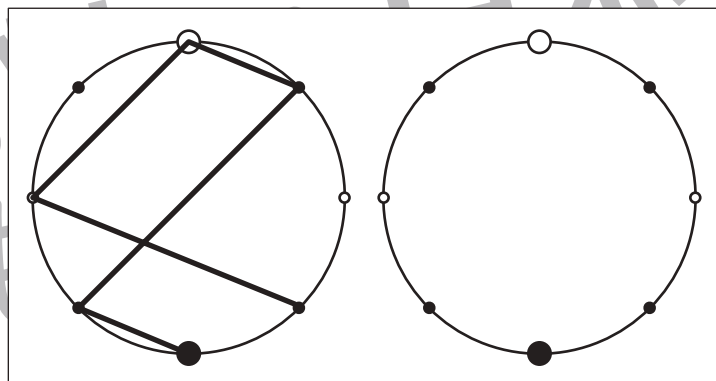
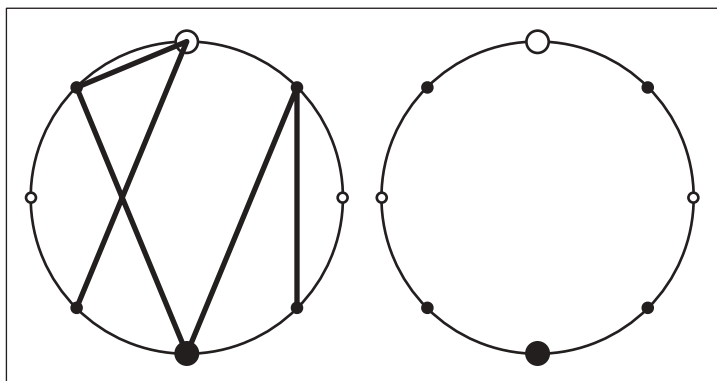
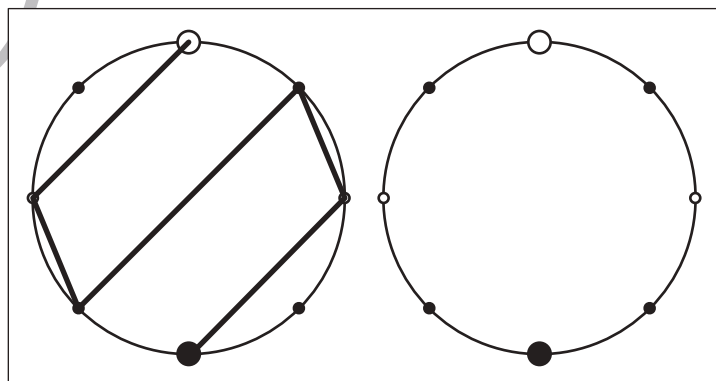
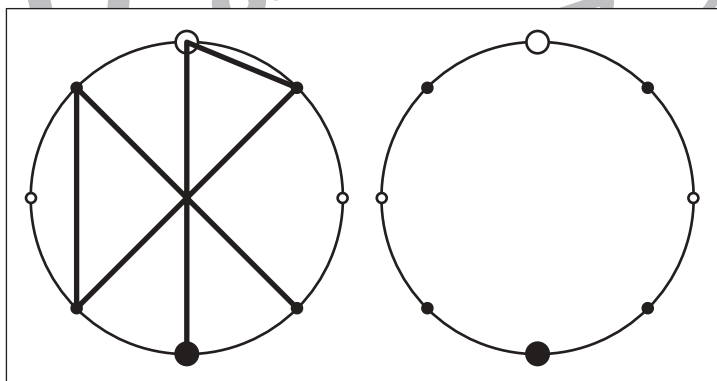
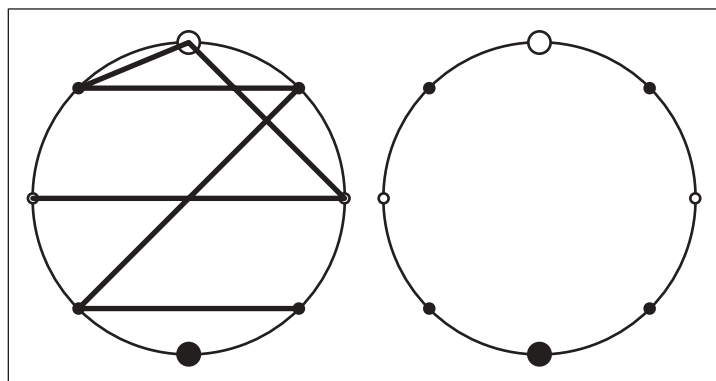
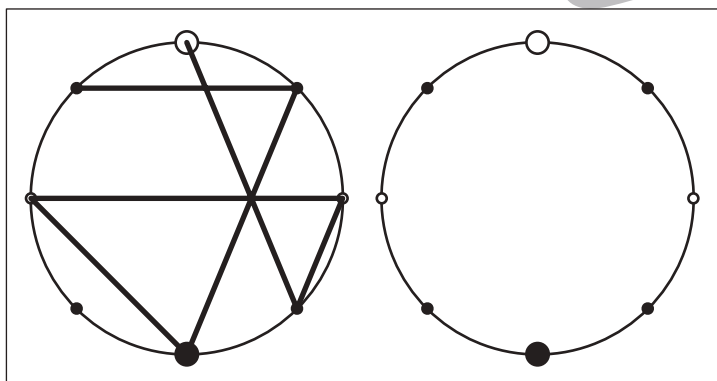
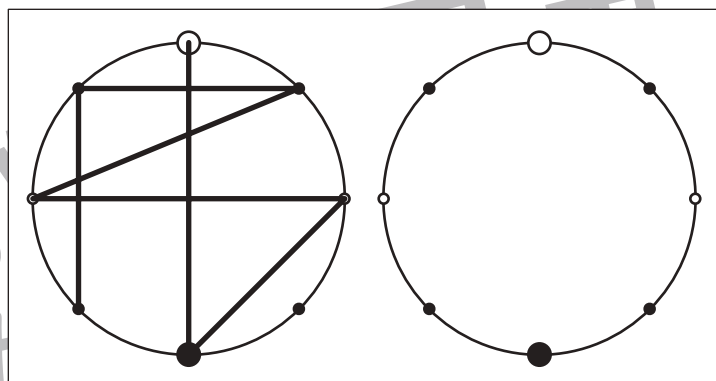
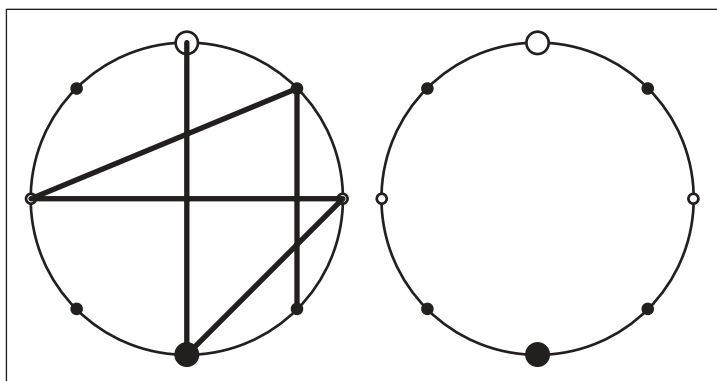


おうちで、やろう。

Study at home. 小学校受験の家庭学習教材

図形：点図形 40

左のお手本を見て、右にそっくり描き写しましょう。※このプリントに解答はありません。



※1. このプリントは、しながわ・目黒こどもスクールのウェブサイトでダウンロードができます。無断複写・引用はご遠慮ください。
※2. このプリントを活用したオンライン授業のスケジュールは、しながわ・目黒こどもスクールのウェブサイトでご確認ください。



おうちで、やろう。

Study at home. 小学校受験の家庭学習教材

推理：重さ 20

天秤とバネを使って重さ比べをしました。3つのボールの中で一番重いボールはどれですか。右の四角の中のボールに○をつけます。

※1. このプリントは、しながわ・目黒こどもスクールのウェブサイトでダウンロードができます。無断複写・引用はご遠慮ください。

※2. このプリントを活用したオンライン授業のスケジュールは、しながわ・目黒こどもスクールのウェブサイトでご確認ください。



おうちで、やろう。

Study at home. 小学校受験の家庭学習教材

推理：重さ 21

天秤とバネを使って重さ比べをしました。3つのボールの中で一番軽いボールはどれですか。右の四角の中のボールに○をつけます。

※1. このプリントは、しながわ・目黒こどもスクールのウェブサイトでダウンロードができます。無断複写・引用はご遠慮ください。

※2. このプリントを活用したオンライン授業のスケジュールは、しながわ・目黒こどもスクールのウェブサイトでご確認ください。