

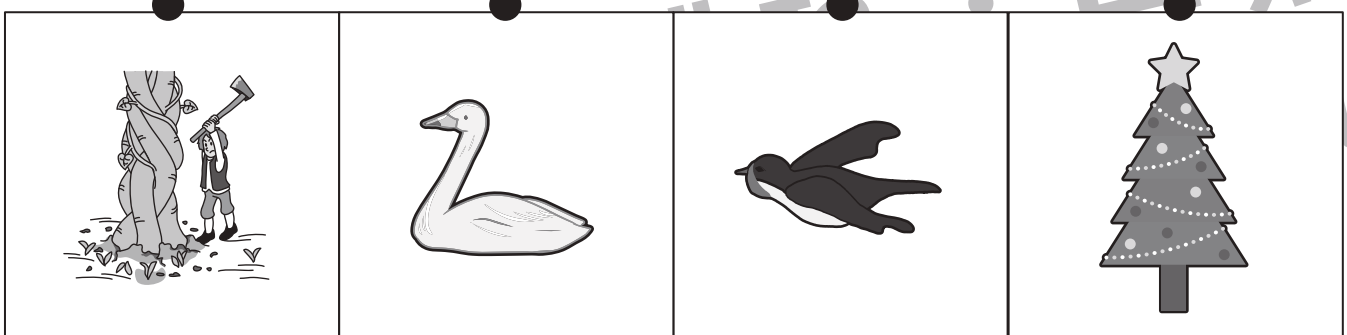




おうちで、やろう。

Study at home. 小学校受験の家庭学習教材

常識：昔話 3

上の四角の昔話やおとぎ話に出てくるもの・関係するものを真ん中の段と下の段から選んで、点と点を線で結びます。



※1. このプリントは、しながわ・目黒こどもスクールのウェブサイトでダウンロードができます。無断複写・引用はご遠慮ください。
 ※2. このプリントを活用したオンライン授業のスケジュールは、しながわ・目黒こどもスクールのウェブサイトでご確認ください。






おうちで、やろう。

Study at home. 小学校受験の家庭学習教材

常識：昔話4

上の四角の昔話やおとぎ話に出てくるもの・関係するものを真ん中の段と下の段から選んで、点と点を線で結びます。



※1. このプリントは、しながわ・目黒こどもスクールのウェブサイトでダウンロードができます。無断複写・引用はご遠慮ください。
 ※2. このプリントを活用したオンライン授業のスケジュールは、しながわ・目黒こどもスクールのウェブサイトでご確認ください。



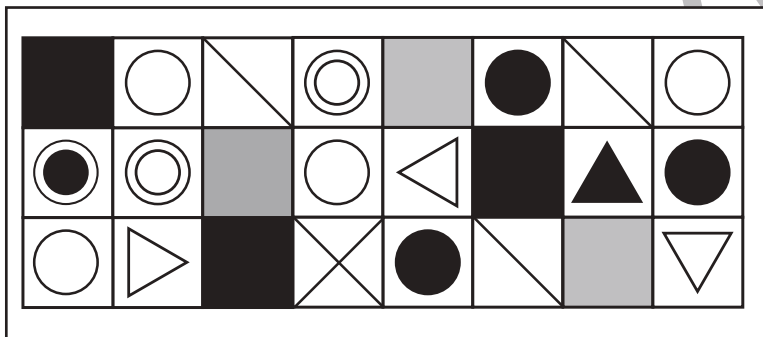
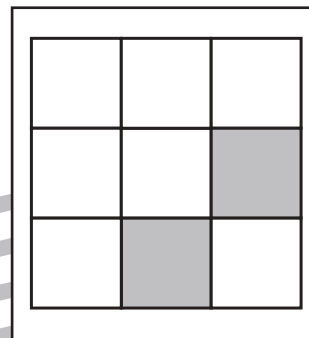

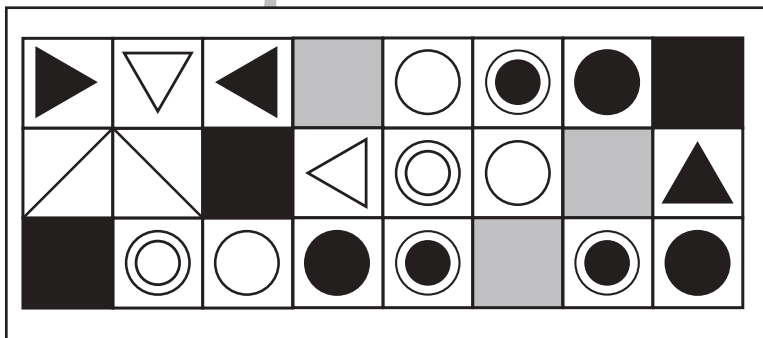
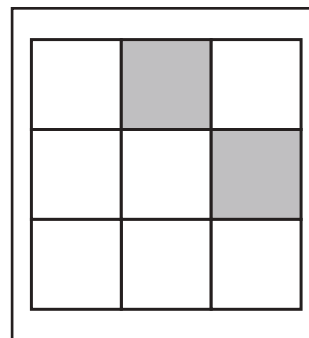





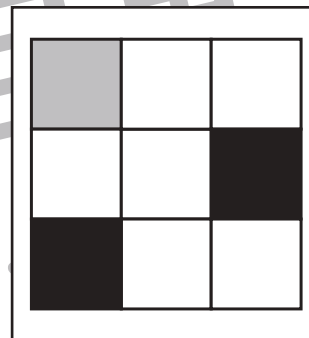




おうちで、やろう。

Study at home. 小学校受験の家庭学習教材

図形：構成 19

左の四角の中には色のついたマスとマークがかかっているマスがあります。右の四角の場所に色のついたマスがあるとき、白いマスの中にはどのようなマークが入るかを考えて、描きましょう。問題は2つずつ用意されているので、忘れないように気をつけましょう。



※1. このプリントは、しながわ・目黒こどもスクールのウェブサイトでダウンロードができます。無断複写・引用はご遠慮ください。
※2. このプリントを活用したオンライン授業のスケジュールは、しながわ・目黒こどもスクールのウェブサイトでご確認ください。

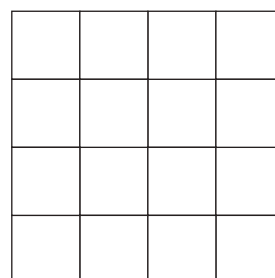
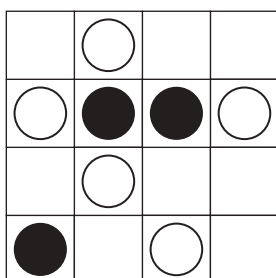
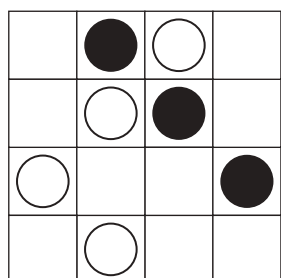
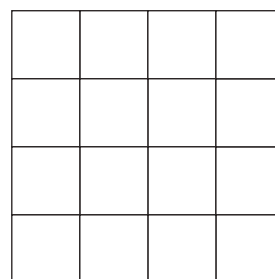
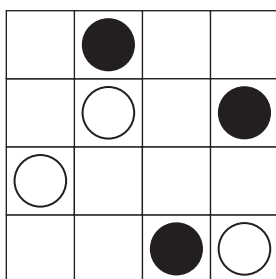
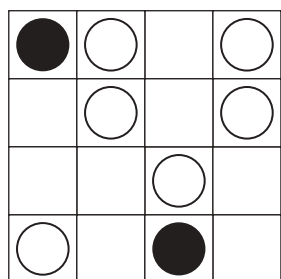

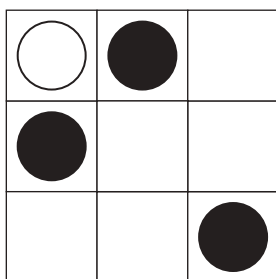
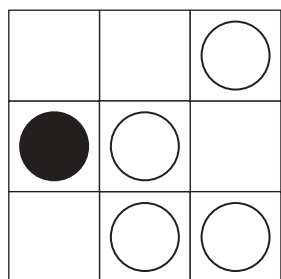
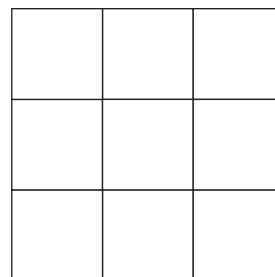
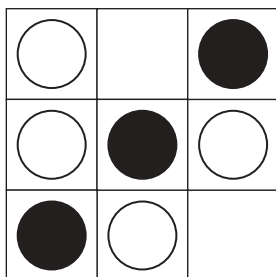
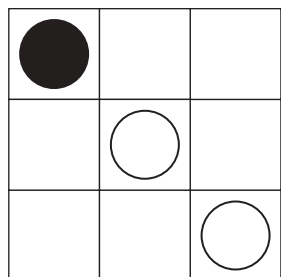

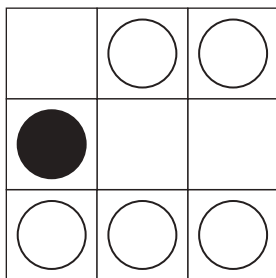
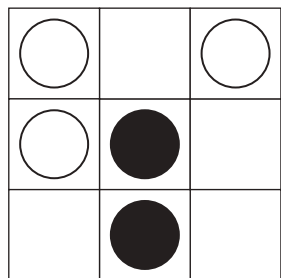


おうちで、やろう。

Study at home. 小学校受験の家庭学習教材

図形：重ね 42

左の2枚の透明な板が重なった時の見え方を考えて、白い丸になる場所だけ矢印の右の四角に○をかきます。



※1. このプリントは、しながわ・目黒こどもスクールのウェブサイトでダウンロードができます。無断複写・引用はご遠慮ください。
※2. このプリントを活用したオンライン授業のスケジュールは、しながわ・目黒こどもスクールのウェブサイトでご確認ください。



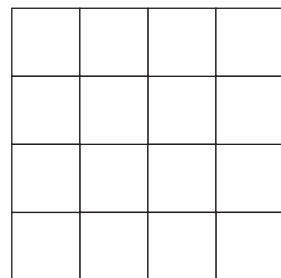

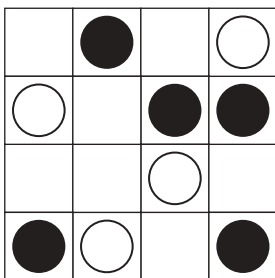
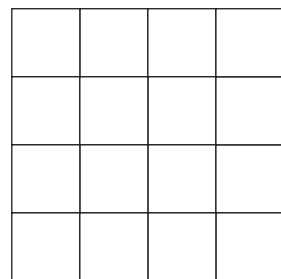
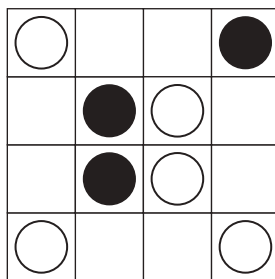
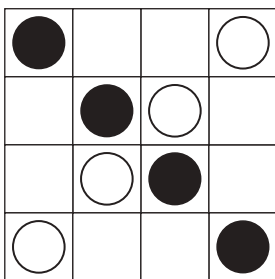
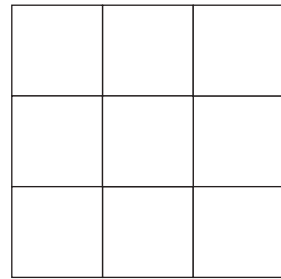
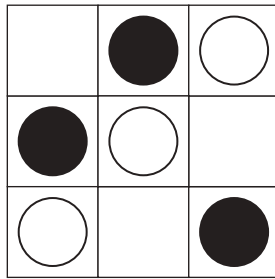
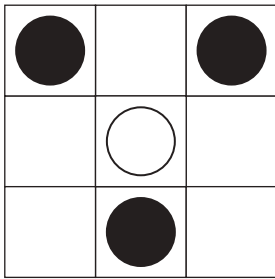
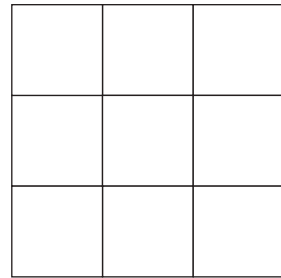
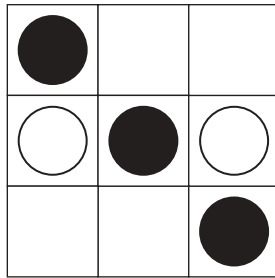
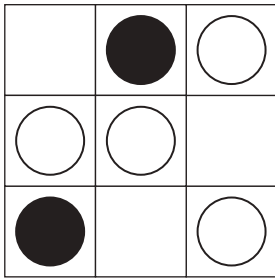
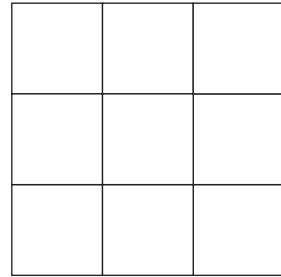
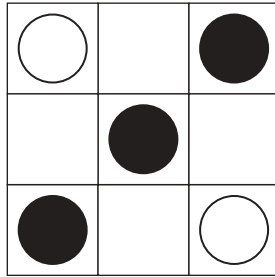
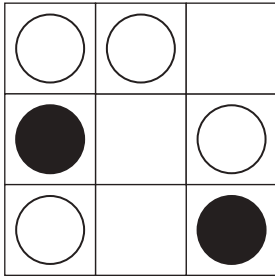


おうちで、やろう。

Study at home. 小学校受験の家庭学習教材

図形：重ね 43

左の2枚の透明な板が重なった時の見え方を考えて、黒い丸になる場所だけ矢印の右の四角に●をかきます。



※1. このプリントは、しながわ・目黒こどもスクールのウェブサイトでダウンロードができます。無断複写・引用はご遠慮ください。
※2. このプリントを活用したオンライン授業のスケジュールは、しながわ・目黒こどもスクールのウェブサイトでご確認ください。


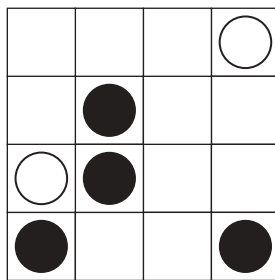
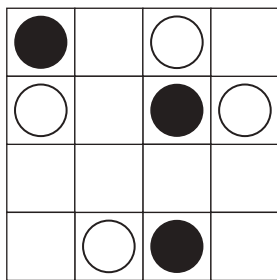
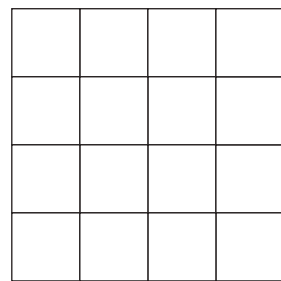
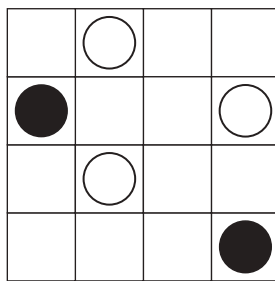
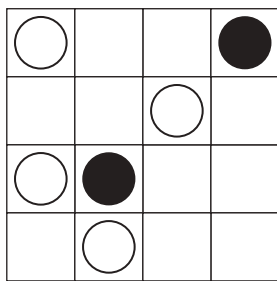
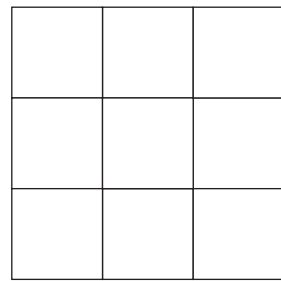
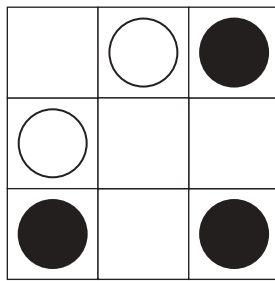
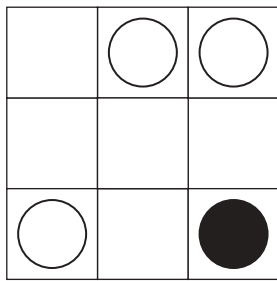
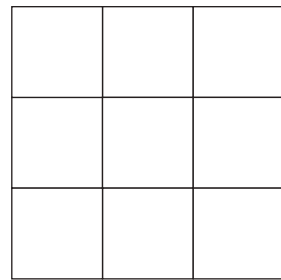
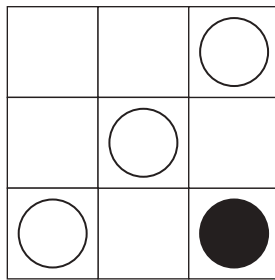
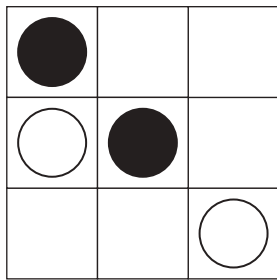
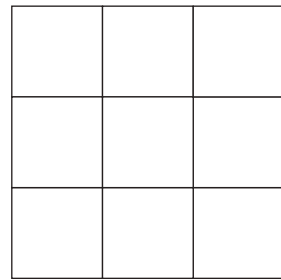
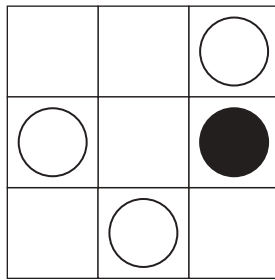
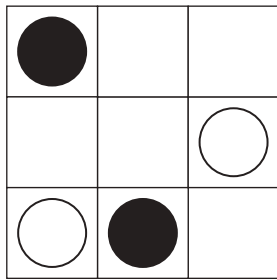


おうちで、やろう。

Study at home. 小学校受験の家庭学習教材

図形：重ね 44

左の2枚の透明な板が重なった時の見え方を考えて、右の四角にかきます。



※1. このプリントは、しながわ・目黒こどもスクールのウェブサイトでダウンロードができます。無断複写・引用はご遠慮ください。

※2. このプリントを活用したオンライン授業のスケジュールは、しながわ・目黒こどもスクールのウェブサイトでご確認ください。





おうちで、やろう。

Study at home. 小学校受験の家庭学習教材

推理：ブラックボックス9

上の四角の中に入っているマークが下の四角の中に落ちて入るとき、白いマークは黒いマークに、黒いマークは白いマークになるお約束です。それぞれのマークがどのように見えるか考えて、下のマスの中にマークをかきましょう。

●	●
○	○

○	△
■	●

□	○
●	△

△	▲
▼	◁

▽	▶	▲
●	▽	▶
○	●	○

△	△	□
●	△	■
○	■	○

△	○	○
■	□	■
●	△	□

●	▽	○
○	■	△
▲	□	◁

※1. このプリントは、しながわ・目黒こどもスクールのウェブサイトでダウンロードができます。無断複写・引用はご遠慮ください。
 ※2. このプリントを活用したオンライン授業のスケジュールは、しながわ・目黒こどもスクールのウェブサイトでご確認ください。




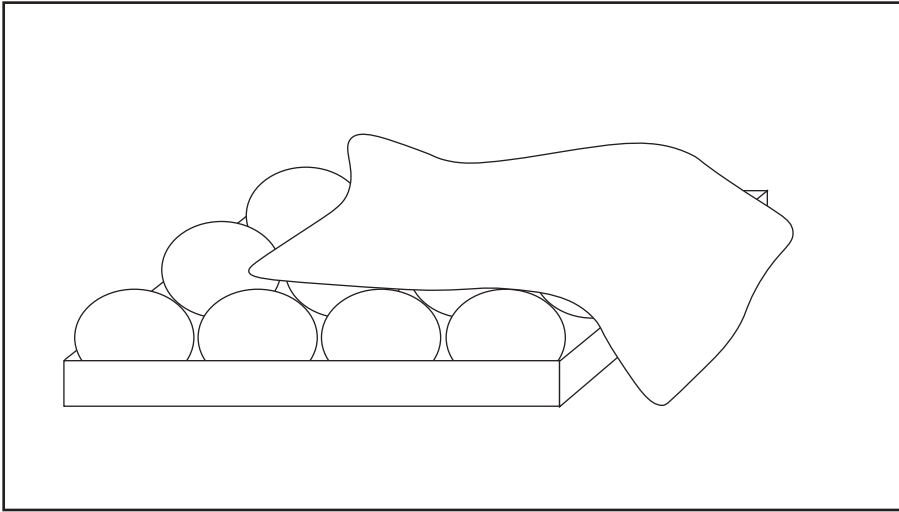
おうちで、やろう。

Study at home. 小学校受験の家庭学習教材

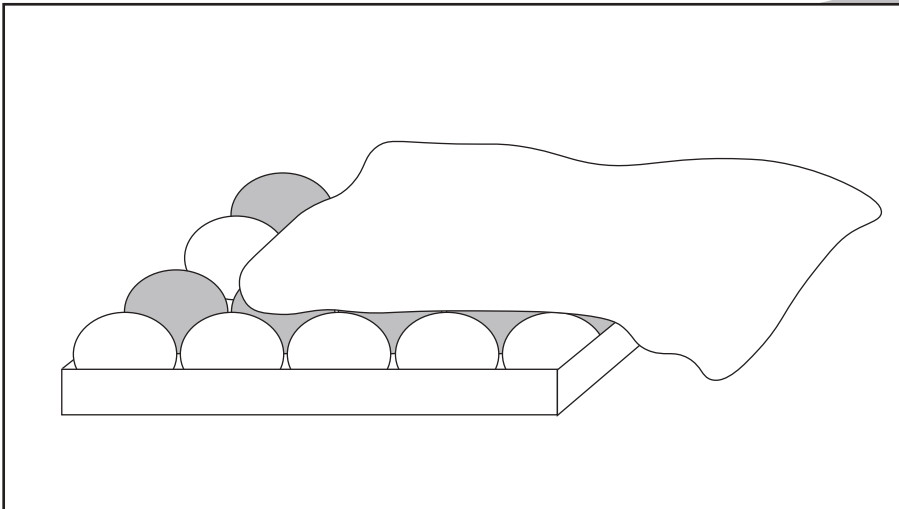
推理：隠れた数1

箱にはいったおまんじゅうに、布がかかっています。


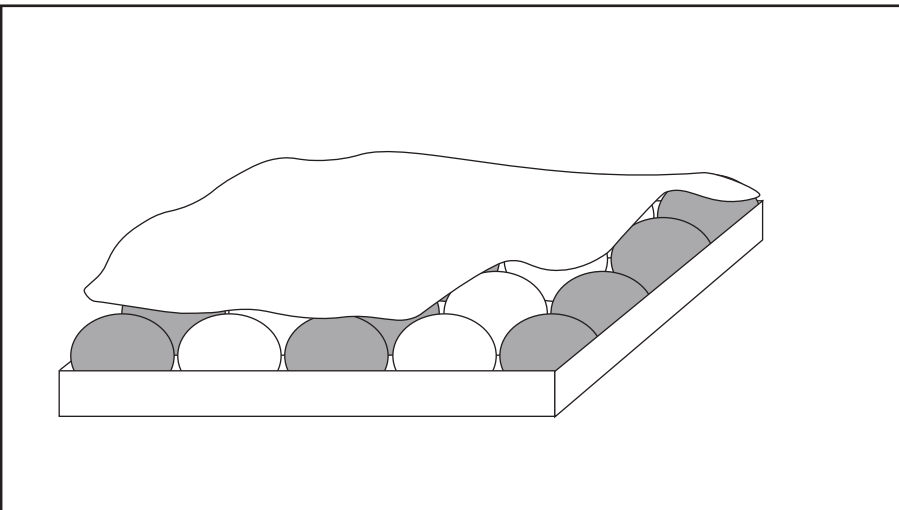
①布でかくれているおまんじゅうの数だけ、○をかきましょう。



②しろいおまんじゅうの列と、あかいおまんじゅうの列が交互に並んでいます。布がかかっているところのあかいおまんじゅうの数だけ、○をかきましょう。



③しろいおまんじゅうの列と、あかいおまんじゅうの列が交互に並んでいます。布がかかっているところのしろいおまんじゅうの数だけ、○をかきましょう。



※1. このプリントは、しながわ・目黒こどもスクールのウェブサイトでダウンロードができます。無断複写・引用はご遠慮ください。
※2. このプリントを活用したオンライン授業のスケジュールは、しながわ・目黒こどもスクールのウェブサイトでご確認ください。












おうちで、やろう。

Study at home. 小学校受験の家庭学習教材

推理：観察力 9

上の太い枠と坂道にいるお友だちの並び方を考えて、記号の位置にいる子どもを探します。
右のお友だちに記号をつけて答えましょう。



※1. このプリントは、しながわ・目黒こどもスクールのウェブサイトでダウンロードができます。無断複写・引用はご遠慮ください。
※2. このプリントを活用したオンライン授業のスケジュールは、しながわ・目黒こどもスクールのウェブサイトでご確認ください。















おうちで、やろう。

Study at home. 小学校受験の家庭学習教材

推理：観察力 10

上の太い枠と坂道にいるお友だちの並び方を考えて、記号の位置にいる子どもを探します。
右のお友だちに記号をつけて答えましょう。



※1. このプリントは、しながわ・目黒子どもスクールのウェブサイトでダウンロードができます。無断複写・引用はご遠慮ください。
※2. このプリントを活用したオンライン授業のスケジュールは、しながわ・目黒子どもスクールのウェブサイトでご確認ください。