



# おうちで、やろう。

Study at home. 小学校受験の家庭学習教材

## 指示の聞き取り 25









それぞれお話をよく聞いて動物たちが動いたマスを考えます。

(ゾウ) 右へ2つ動きました。着いたマスに○をつけます。

(ウサギ) 左へ2つ、上へ1つ動きました。着いたマスに×をつけます。

(ネコ) 下へ2つ、右へ2つ、下へ3つ動きました。着いたマスに□をつけます。

(ライオン) 上へ3つ、左へ3つ、下へ2つ、右へ1つ動きました。着いたマスに△をつけます。

※1. このプリントは、しながわ・目黒こどもスクールのウェブサイトでダウンロードができます。無断複写・引用はご遠慮ください。

※2. このプリントを活用したオンライン授業のスケジュールは、しながわ・目黒こどもスクールのウェブサイトでご確認ください。



# おうちで、やろう。

Study at home. 小学校受験の家庭学習教材

図形：回転 45

左のテントウムシが右のように向きをかえました。このときの黒丸の模様を考えて○を塗ります。


※1. このプリントは、しながわ・目黒こどもスクールのウェブサイトでダウンロードができます。無断複写・引用はご遠慮ください。  
 ※2. このプリントを活用したオンライン授業のスケジュールは、しながわ・目黒こどもスクールのウェブサイトでご確認ください。



# おうちで、やろう。

Study at home. 小学校受験の家庭学習教材

図形：回転 46

左のテントウムシが右のように向きをかえました。このときの黒丸の模様を考えて○を塗ります。


※1. このプリントは、しながわ・目黒こどもスクールのウェブサイトでダウンロードができます。無断複写・引用はご遠慮ください。  
 ※2. このプリントを活用したオンライン授業のスケジュールは、しながわ・目黒こどもスクールのウェブサイトでご確認ください。



# おうちで、やろう。

Study at home. 小学校受験の家庭学習教材

図形：回転 47

左のテントウムシが右のように向きをかえました。このときの黒丸の模様を考えて○を塗ります。


※1. このプリントは、しながわ・目黒こどもスクールのウェブサイトでダウンロードができます。無断複写・引用はご遠慮ください。  
 ※2. このプリントを活用したオンライン授業のスケジュールは、しながわ・目黒こどもスクールのウェブサイトでご確認ください。

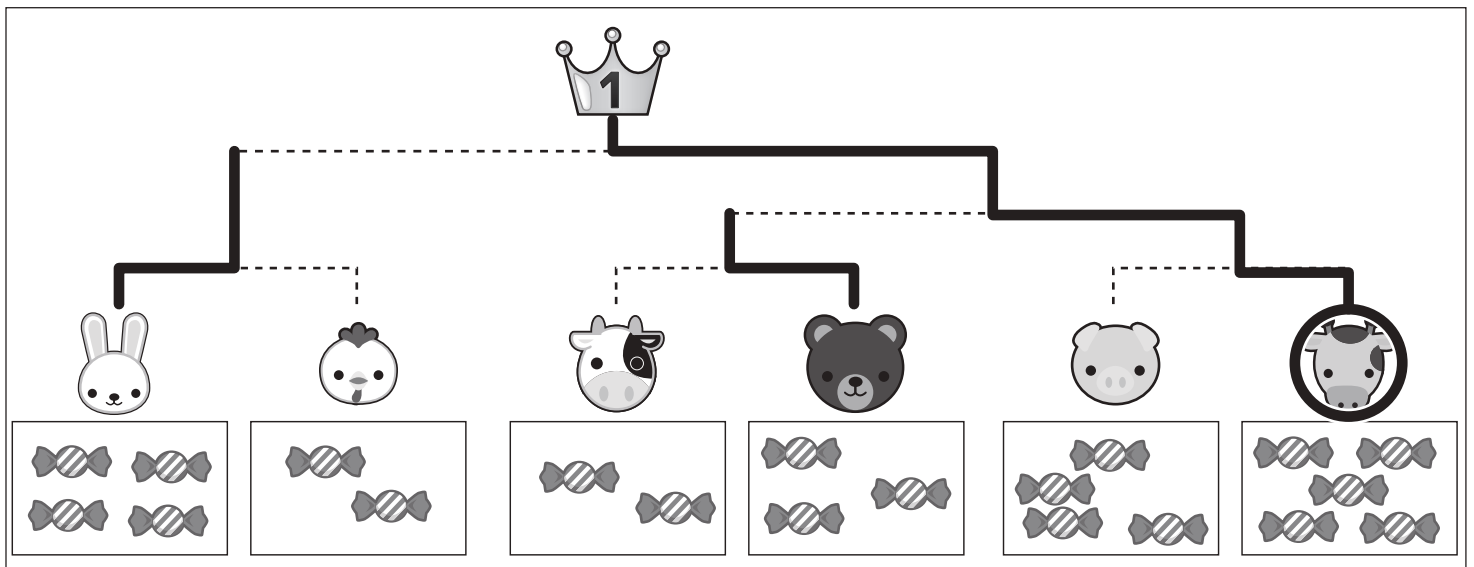
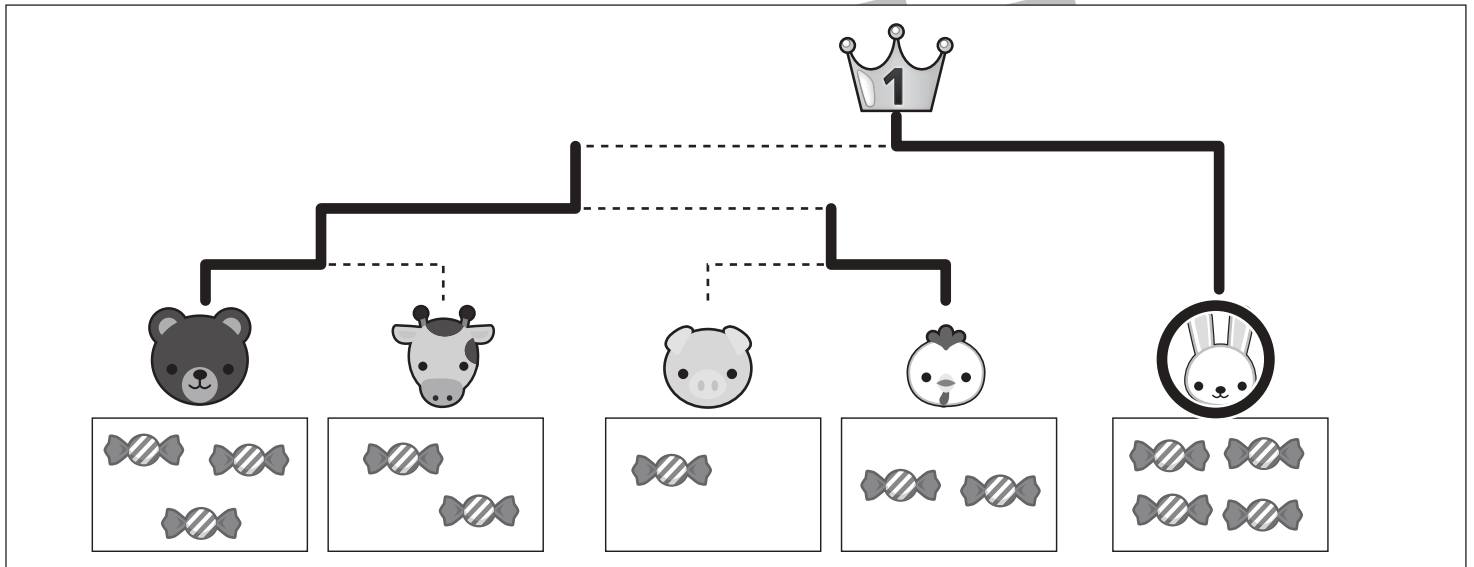
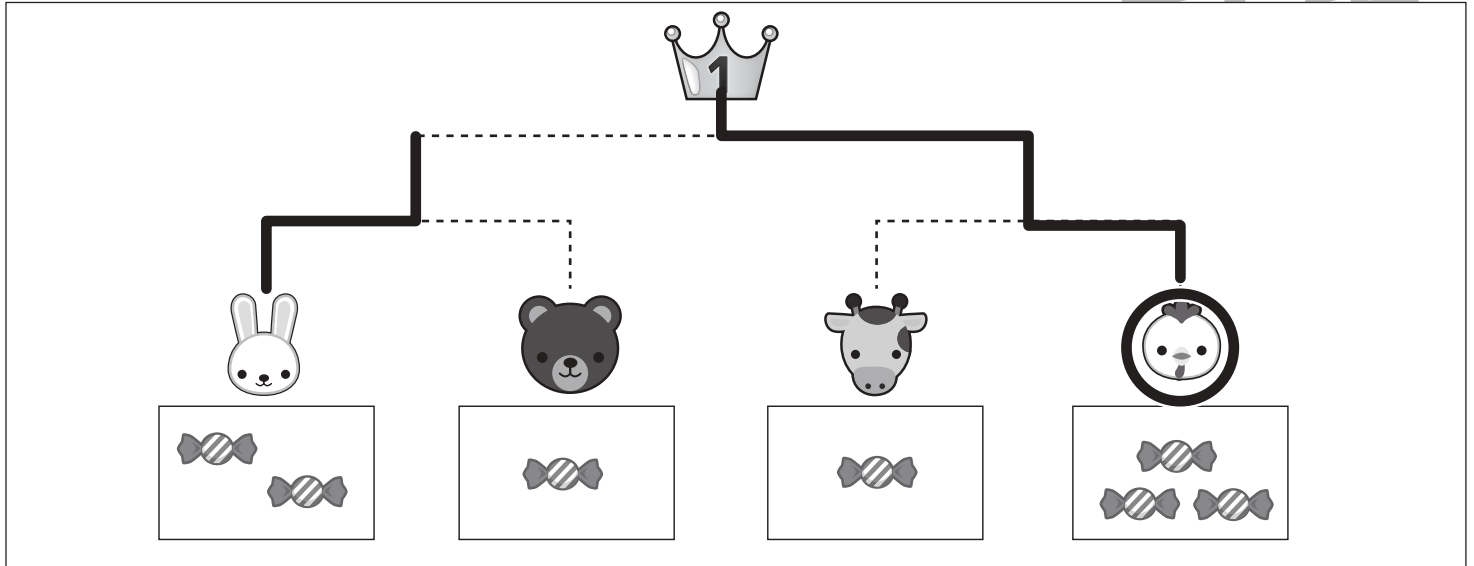


# おうちで、やろう。

Study at home. 小学校受験の家庭学習教材

## 推理：条件推理 36

動物たちがトーナメント勝負をします。トーナメントは点線で結んである2匹の勝負です。勝負はそれぞれの動物たちの持っている飴の数です。飴の数を比べて多い方が勝ちです。勝った動物は次の勝負に進み、点線で結んである動物と勝負します。この約束で順番に勝負をして一番になった動物に○をつけます。また、それぞれの動物がどのようにトーナメントを進んだか点線をなぞってみましょう。



※1. このプリントは、しながわ・目黒こどもスクールのウェブサイトでダウンロードができます。無断複写・引用はご遠慮ください。

※2. このプリントを活用したオンライン授業のスケジュールは、しながわ・目黒こどもスクールのウェブサイトでご確認ください。

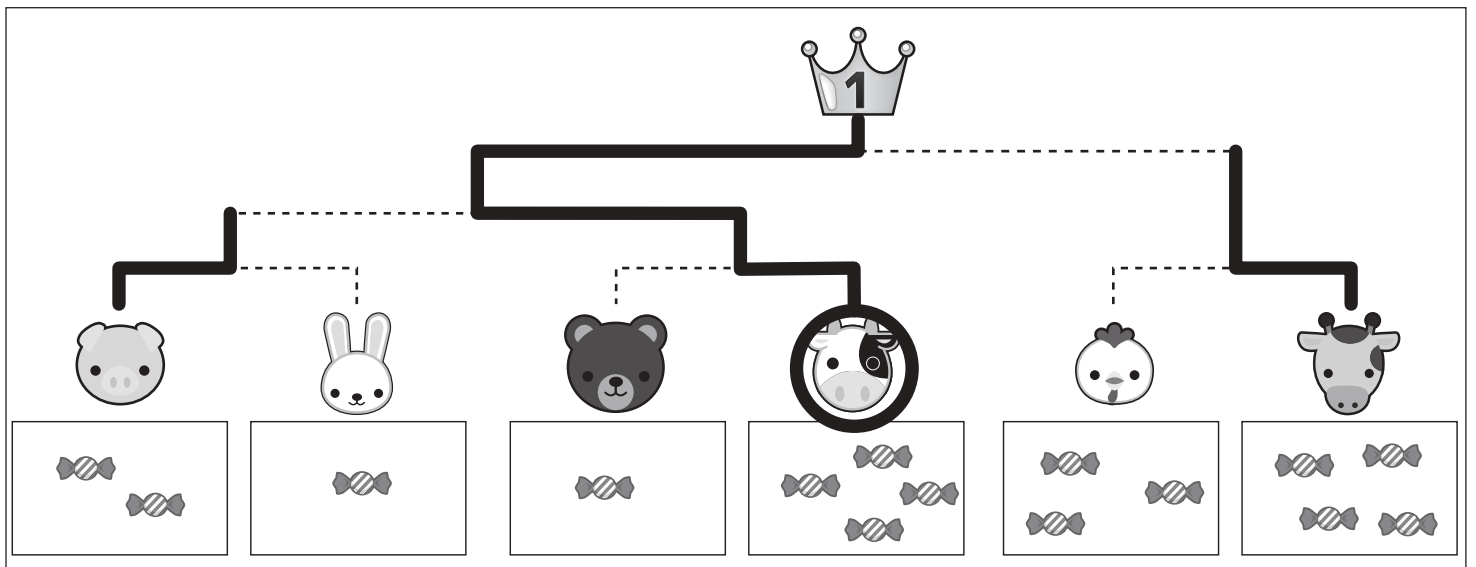
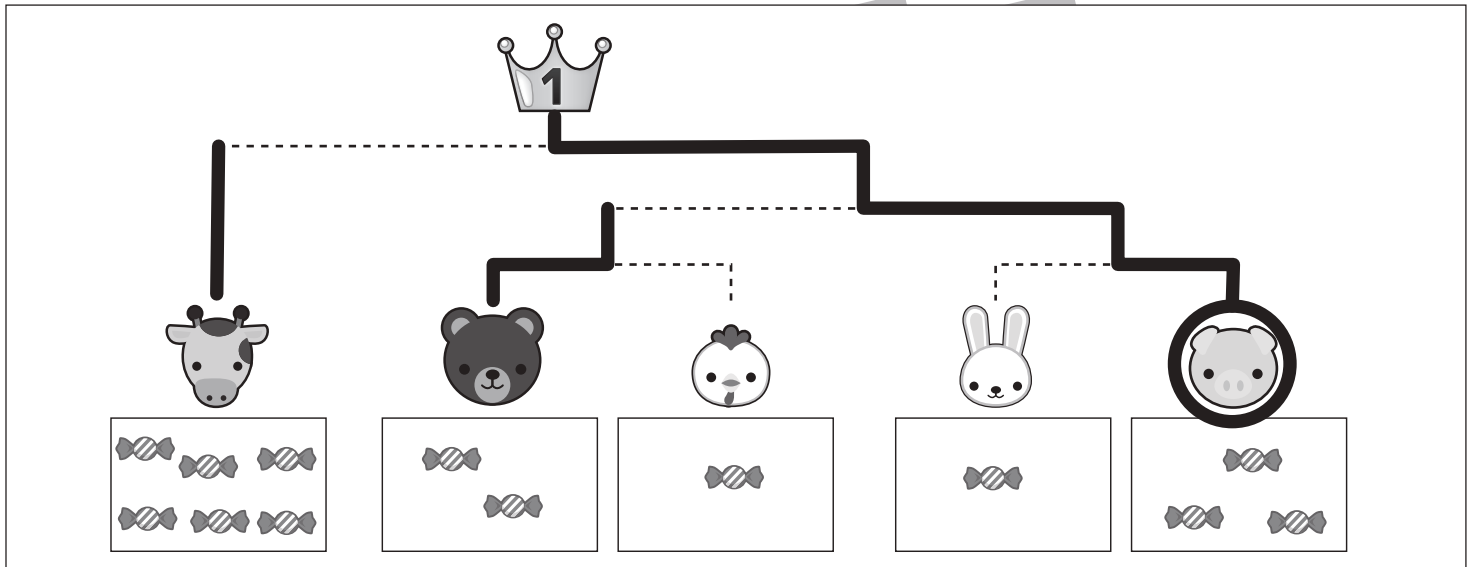
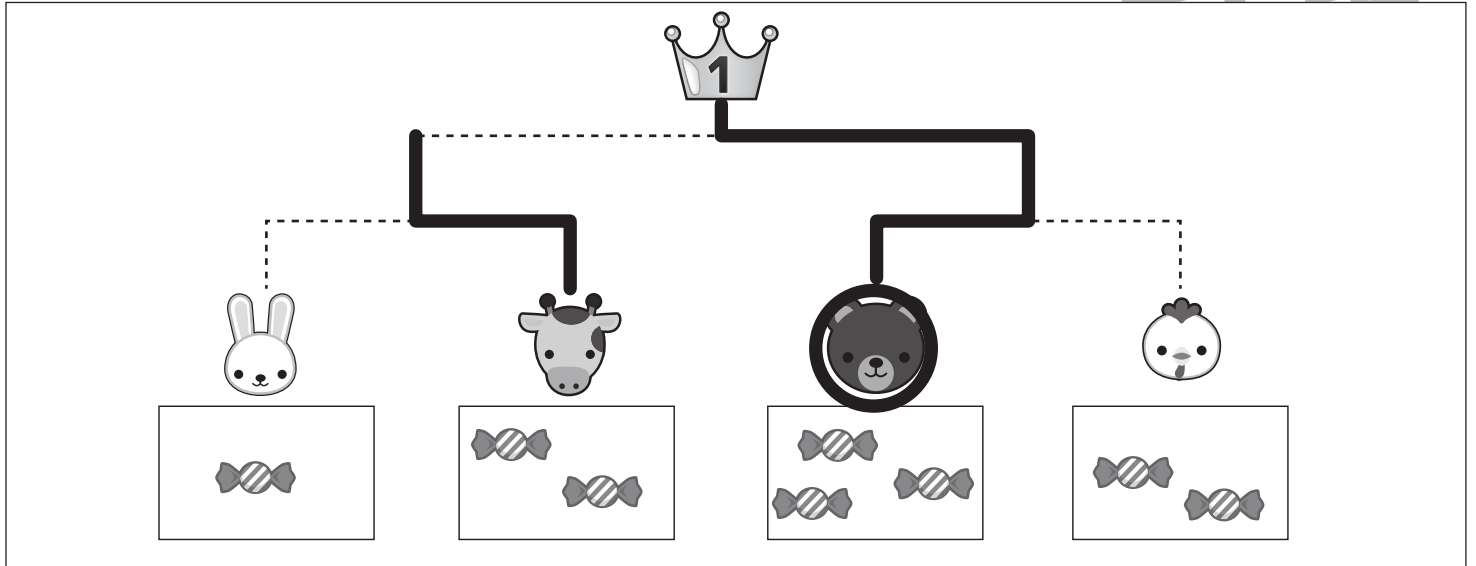


# おうちで、やろう。

Study at home. 小学校受験の家庭学習教材

## 推理：条件推理 37

動物たちがトーナメント勝負をします。トーナメントは点線で結んである2匹の勝負です。勝負はそれぞれの動物たちの持っている飴の数です。飴の数を比べて多い方が勝ちです。勝った動物は負けた動物の持っている飴をもらって次の勝負に進み、点線で結んである動物と勝負します。この約束で順番に勝負をして一番になった動物に○をつけます。また、それぞれの動物がどのようにトーナメントを進んだか点線をなぞってみましょう。



※1. このプリントは、しながわ・目黒こどもスクールのウェブサイトでダウンロードができます。無断複写・引用はご遠慮ください。  
※2. このプリントを活用したオンライン授業のスケジュールは、しながわ・目黒こどもスクールのウェブサイトでご確認ください。



# おうちで、やろう。

Study at home. 小学校受験の家庭学習教材

## 数量：数の操作 1

男の子と女の子がそれぞれ同じクッキーを持っていますが、持っているクッキーの数が違います。男の子が女の子に何枚かクッキーをあげると2人のクッキーの数が同じになります。2人のクッキーの枚数が同じになるためには男の子が女の子にあげるクッキーは何枚ですか。その数だけ真ん中の四角に○をかきます。

	$\bigcirc \times 2$	
--	---------------------	--

	$\bigcirc \times 2$	
--	---------------------	--

	$\bigcirc \times 3$	
--	---------------------	--

	$\bigcirc \times 3$	
--	---------------------	--

	$\bigcirc \times 4$	
--	---------------------	--

※1. このプリントは、しながわ・目黒こどもスクールのウェブサイトでダウンロードができます。無断複写・引用はご遠慮ください。

※2. このプリントを活用したオンライン授業のスケジュールは、しながわ・目黒こどもスクールのウェブサイトでご確認ください。





# おうちで、やろう。

Study at home. 小学校受験の家庭学習教材

## 数量：数の操作2

男の子と女の子がそれぞれ同じクッキーを持っていますが、持っているクッキーの数が違います。どちらかが何枚かクッキーをあげると2人のクッキーの数が同じになります。2人のクッキーの枚数が同じになるためにどちらかがあげるクッキーは何枚ですか。その数だけ真ん中の四角に○をかきます。

	$\bigcirc \times 1$	
---	---------------------	---

	$\bigcirc \times 1$	
--	---------------------	--

	$\bigcirc \times 2$	
---	---------------------	---

	$\bigcirc \times 5$	
---	---------------------	---

	$\bigcirc \times 4$	
---	---------------------	---

※1. このプリントは、しながわ・目黒こどもスクールのウェブサイトでダウンロードができます。無断複写・引用はご遠慮ください。  
※2. このプリントを活用したオンライン授業のスケジュールは、しながわ・目黒こどもスクールのウェブサイトでご確認ください。





# おうちで、やろう。

Study at home. 小学校受験の家庭学習教材

## 数量：数の操作3

パンダ、サル、クマの3匹は同じクッキーを持っていますが、持っている数が違います。誰かが誰かにクッキーをあげると3匹ともクッキーの枚数が同じになります。同じ枚数になったとき、1匹の枚数は何枚になりますか。その数だけ下の四角に○をかきます。誰かが誰かにあげるのは1匹とは限りません。

--	--	--

$$\bigcirc \times 3$$

--	--	--

$$\bigcirc \times 6$$

--	--	--

$$\bigcirc \times 5$$

--	--	--

$$\bigcirc \times 6$$

--	--	--

$$\bigcirc \times 9$$

※1. このプリントは、しながわ・目黒こどもスクールのウェブサイトでダウンロードができます。無断複写・引用はご遠慮ください。  
※2. このプリントを活用したオンライン授業のスケジュールは、しながわ・目黒こどもスクールのウェブサイトでご確認ください。




# おうちで、やろう。

Study at home. 小学校受験の家庭学習教材

処理：計数7

上の四角の中の絵の数をかぞえて、下の四角の同じ絵の右にその数より2つ多い数の○をかきます。  
この問題はスピードを意識して取り組む練習をしてみましょう。(1分～1分30秒)



○×7



○×8



○×11



○×9

※1. このプリントは、しながわ・目黒こどもスクールのウェブサイトでダウンロードができます。無断複写・引用はご遠慮ください。  
※2. このプリントを活用したオンライン授業のスケジュールは、しながわ・目黒こどもスクールのウェブサイトでご確認ください。