



おうちで、やろう。

Study at home. 小学校受験の家庭学習教材

記憶：絵の記憶9

別紙『記憶 - 絵の記憶9記憶用紙』を使用します。記憶用紙の形を見た後に①、②、③の問題に取り組みましょう。

①リンゴの数だけ○をかきます。


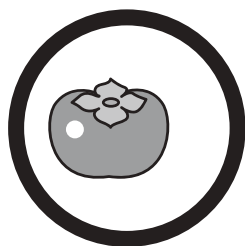
②覚えた絵にあったものに○をつけます。

③覚えた絵になかったものに○をつけます。





①

○ × 6

②



③



※1. このプリントは、しながわ・目黒こどもスクールのウェブサイトからダウンロードができます。無断複写・引用はご遠慮ください。

※2. このプリントを活用したオンライン授業のスケジュールは、しながわ・目黒こどもスクールのウェブサイトでご確認ください。





おうちで、やろう。

Study at home. 小学校受験の家庭学習教材

図形：重ね回転 1

左の2枚の四角は透明な板です。この2枚の板をぴったり重ねたあと、右に1度倒したときの見え方を考えて、右の四角にかきます。

※1. このプリントは、しながわ・目黒こどもスクールのウェブサイトでダウンロードができます。無断複写・引用はご遠慮ください。

※2. このプリントを活用したオンライン授業のスケジュールは、しながわ・目黒こどもスクールのウェブサイトでご確認ください。



おうちで、やろう。

Study at home. 小学校受験の家庭学習教材

図形：重ね回転 2

左の2枚の四角は透明な板です。この2枚の板をぴったり重ねたあと、右に1度倒したときの見え方を考えて、右の四角にかきます。

Figure 2: A 6x4 grid of visual puzzles. Each row contains four panels. The first panel in each row shows two overlapping 2x2 grids. The second panel shows the top grid from the first panel with a dashed border. The third panel shows the bottom grid from the first panel with a dashed border. The fourth panel shows the result of rotating the top grid 90 degrees clockwise and placing it on top of the bottom grid. The circles in the overlapping areas represent the combined shapes of both grids after rotation.

※1. このプリントは、しながわ・目黒こどもスクールのウェブサイトからダウンロードできます。無断複写・引用はご遠慮ください。

※2. このプリントを活用したオンライン授業のスケジュールは、しながわ・目黒こどもスクールのウェブサイトでご確認ください。



おうちで、やろう。

Study at home. 小学校受験の家庭学習教材

図形：重ね回転 3

左の2枚の四角は透明な板です。この2枚の板をぴったり重ねたあと、右に1度倒したときの見え方を考えて、右の四角にかきます。

※1. このプリントは、しながわ・目黒こどもスクールのウェブサイトからダウンロードができます。無断複写・引用はご遠慮ください。

※2. このプリントを活用したオンライン授業のスケジュールは、しながわ・目黒こどもスクールのウェブサイトでご確認ください。



おうちで、やろう。

Study at home.

推理：ブラックボックス 10

上の太い四角の中が約束です。黒い星、白い星の箱の中に丸が入ると、数が変わって出てきます。この約束で星の箱を通して出た丸が一番右になります。このとき、太い箱の星は黒と白どちらですか。正しい星に○をつけてます。

※1. このプリントは、しながわ・目黒こどもスクールのウェブサイトでダウンロードができます。無断複写・引用はご遠慮ください。
 ※2. このプリントを活用したオンライン授業のスケジュールは、しながわ・目黒こどもスクールのウェブサイトでご確認ください。



おうちで、やろう。

Study at home.

推理：ブラックボックス 11

上の太い四角の中が約束です。黒い星、白い星の箱の中に丸が入ると、数が変わって出てきます。この約束で星の箱を通して出た丸が一番右になります。このとき、太い箱の星は黒と白どちらですか。正しい星に○をつけます。

--	--

--	--

--	--

--	--

※1. このプリントは、しながわ・目黒こどもスクールのウェブサイトでダウンロードができます。無断複写・引用はご遠慮ください。

※2. このプリントを活用したオンライン授業のスケジュールは、しながわ・目黒こどもスクールのウェブサイトでご確認ください。



おうちで、よろう。

Study at home.

推理：ブラックボックス 12

上の太い四角の中が約束です。黒い星、白い星の箱の中に丸が入ると、数や色が変わって出てきます。この約束で星の箱を通して出てきた丸が一番右になります。このとき、太い箱の星は黒と白どちらですか。正しい星に○をつけてます。

--	--

--	--

--	--

--	--

※1. このプリントは、しながわ・目黒こどもスクールのウェブサイトでダウンロードができます。無断複写・引用はご遠慮ください。

※2. このプリントを活用したオンライン授業のスケジュールは、しながわ・目黒こどもスクールのウェブサイトでご確認ください。



おうちで、やろう。

Study at home. 小学校受験の家庭学習教材

推理：系列完成 21

サイコロがある決まりに従って並んでいます。記号のついている四角に入るサイコロの目の数を考えて、下の四角から選びそれぞれの記号をかきます。

※1. このプリントは、しながわ・目黒こどもスクールのウェブサイトでダウンロードができます。無断複写・引用はご遠慮ください。
 ※2. このプリントを活用したオンライン授業のスケジュールは、しながわ・目黒こどもスクールのウェブサイトでご確認ください。



おうちで、やろう。

Study at home. 小学校受験の家庭学習教材

推理：系列完成 22

サイコロがある決まりに従って並んでいます。記号のついている四角に入るサイコロの目の数を考えて、下の四角から選びそれぞれの記号をかきます。

※1. このプリントは、しながわ・目黒こどもスクールのウェブサイトでダウンロードができます。無断複写・引用はご遠慮ください。
 ※2. このプリントを活用したオンライン授業のスケジュールは、しながわ・目黒こどもスクールのウェブサイトでご確認ください。




おうちで、やろう。

Study at home. 小学校受験の家庭学習教材

処理：計数 10

上の四角の中の絵の数をかぞえて、下の四角の同じ絵の右にその数より2つ少ない数の○をかきます。
この問題はスピードを意識して取り組む練習をしてみましょう。(1分～1分30秒)



○ × 8



○ × 7



○ × 5



○ × 10

※1. このプリントは、しながわ・目黒こどもスクールのウェブサイトからダウンロードできます。無断複写・引用はご遠慮ください。
※2. このプリントを活用したオンライン授業のスケジュールは、しながわ・目黒こどもスクールのウェブサイトでご確認ください。