






おうちで、やろう。

Study at home. 小学校受験の家庭学習教材

記憶：絵の記憶9 記憶用紙

別紙『記憶 - 絵の記憶9』を行う際に使用します。記憶用紙は点線で折って(切って)、①、②、③の問題の際にそれぞれ20秒間ずつ記憶させてください。記憶する際は問題用紙は裏返しにします。記憶後①、②、③それぞれの問題に答えましょう。

※2023年7月21日(金)のオンライン授業では実施中に記憶する絵を画面で表示します。



※1. このプリントは、しながわ・目黒こどもスクールのウェブサイトからダウンロードできます。無断複写・引用はご遠慮ください。

※2. このプリントを活用したオンライン授業のスケジュールは、しながわ・目黒こどもスクールのウェブサイトでご確認ください。



おうちで、やろう。

Study at home. 小学校受験の家庭学習教材

記憶：絵の記憶9

別紙『記憶 - 絵の記憶9記憶用紙』を使用します。記憶用紙の形を見た後に①、②、③の問題に取り組みましょう。

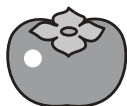
①リンゴの数だけ○をかきます。

②覚えた絵にあったものに○をつけます。



③覚えた絵になかったものに○をつけます。

①

②



③



※1. このプリントは、しながわ・目黒こどもスクールのウェブサイトでダウンロードができます。無断複写・引用はご遠慮ください。

※2. このプリントを活用したオンライン授業のスケジュールは、しながわ・目黒こどもスクールのウェブサイトでご確認ください。





おうちで、やろう。

Study at home. 小学校受験の家庭学習教材

図形：重ね回転 1

左の2枚の四角は透明な板です。この2枚の板をぴったり重ねたあと、右に1度倒したときの見え方を考えて、右の四角にかきます。

※1. このプリントは、しながわ・目黒こどもスクールのウェブサイトでダウンロードができます。無断複写・引用はご遠慮ください。
 ※2. このプリントを活用したオンライン授業のスケジュールは、しながわ・目黒こどもスクールのウェブサイトでご確認ください。



おうちで、やろう。

Study at home. 小学校受験の家庭学習教材

図形：重ね回転 2

左の2枚の四角は透明な板です。この2枚の板をぴったり重ねたあと、右に1度倒したときの見え方を考えて、右の四角にかきます。

※1. このプリントは、しながわ・目黒こどもスクールのウェブサイトでダウンロードができます。無断複写・引用はご遠慮ください。

※2. このプリントを活用したオンライン授業のスケジュールは、しながわ・目黒こどもスクールのウェブサイトでご確認ください。



おうちで、やろう。

Study at home. 小学校受験の家庭学習教材

図形：重ね回転3

左の2枚の四角は透明な板です。この2枚の板をぴったり重ねたあと、右に1度倒したときの見え方を考えて、右の四角にかきます。

※1. このプリントは、しながわ・目黒こどもスクールのウェブサイトでダウンロードができます。無断複写・引用はご遠慮ください。

※2. このプリントを活用したオンライン授業のスケジュールは、しながわ・目黒こどもスクールのウェブサイトでご確認ください。



おうちで、やろう。

Study at home.

推理：ブラックボックス 10

上の太い四角の中が約束です。黒い星、白い星の箱の中に丸が入ると、数が変わって出てきます。この約束で星の箱を通して出た丸が一番右になります。このとき、太い箱の星は黒と白どちらですか。正しい星に○をつけます。

※1. このプリントは、しながわ・目黒こどもスクールのウェブサイトでダウンロードができます。無断複写・引用はご遠慮ください。

※2. このプリントを活用したオンライン授業のスケジュールは、しながわ・目黒こどもスクールのウェブサイトでご確認ください。



おうちで、やろう。

Study at home.

推理：ブラックボックス 11

上の太い四角の中が約束です。黒い星、白い星の箱の中に丸が入ると、数が変わって出てきます。この約束で星の箱を通して出た丸が一番右になります。このとき、太い箱の星は黒と白どちらですか。正しい星に○をつけます。

※1. このプリントは、しながわ・目黒こどもスクールのウェブサイトでダウンロードができます。無断複写・引用はご遠慮ください。
 ※2. このプリントを活用したオンライン授業のスケジュールは、しながわ・目黒こどもスクールのウェブサイトでご確認ください。



おうちで、よろう。

Study at home.

推理：ブラックボックス 12

上の太い四角の中が約束です。黒い星、白い星の箱の中に丸が入ると、数や色が変わって出てきます。この約束で星の箱を通して出てきた丸が一番右になります。このとき、太い箱の星は黒と白どちらですか。正しい星に○をつけてます。

--	--

--	--

--	--

--	--

※1. このプリントは、しながわ・目黒こどもスクールのウェブサイトでダウンロードができます。無断複写・引用はご遠慮ください。

※2. このプリントを活用したオンライン授業のスケジュールは、しながわ・目黒こどもスクールのウェブサイトでご確認ください。



おうちで、やろう。

Study at home. 小学校受験の家庭学習教材

推理：系列完成 21

サイコロがある決まりに従って並んでいます。記号のついている四角に入るサイコロの目の数を考えて、下の四角から選びそれぞれの記号をかきます。

※1. このプリントは、しながわ・目黒こどもスクールのウェブサイトでダウンロードができます。無断複写・引用はご遠慮ください。
 ※2. このプリントを活用したオンライン授業のスケジュールは、しながわ・目黒こどもスクールのウェブサイトでご確認ください。



おうちで、やろう。

Study at home. 小学校受験の家庭学習教材

推理：系列完成 22

サイコロがある決まりに従って並んでいます。記号のついている四角に入るサイコロの目の数を考えて、下の四角から選びそれぞれの記号をかきます。

※1. このプリントは、しながわ・目黒こどもスクールのウェブサイトでダウンロードができます。無断複写・引用はご遠慮ください。

※2. このプリントを活用したオンライン授業のスケジュールは、しながわ・目黒こどもスクールのウェブサイトでご確認ください。




おうちで、やろう。

Study at home. 小学校受験の家庭学習教材

処理：計数 10

上の四角の中の絵の数をかぞえて、下の四角の同じ絵の右にその数より2つ少ない数の○をかきます。
この問題はスピードを意識して取り組む練習をしてみましょう。(1分～1分30秒)



※1. このプリントは、しながわ・目黒こどもスクールのウェブサイトでダウンロードができます。無断複写・引用はご遠慮ください。
※2. このプリントを活用したオンライン授業のスケジュールは、しながわ・目黒こどもスクールのウェブサイトでご確認ください。