



# おうちで、やろう。

Study at home. 小学校受験の家庭学習教材

言語：言葉 7

それぞれの言葉にぴったり合う絵をみつけてそれぞれの記号をつけます。

①「ぱちぱち」に合う絵を見つけて○をつけます。 ②「とんとん」に合う絵を見つけて△をつけます。

③「ばしゃばしゃ」に合う絵を見つけて◎をつけます。 ④「ごろごろ」に合う絵を見つけて×をつけます。



※1. このプリントは、しながわ・目黒こどもスクールのウェブサイトでダウンロードができます。無断複写・引用はご遠慮ください。

※2. このプリントを活用したオンライン授業のスケジュールは、しながわ・目黒こどもスクールのウェブサイトでご確認ください。


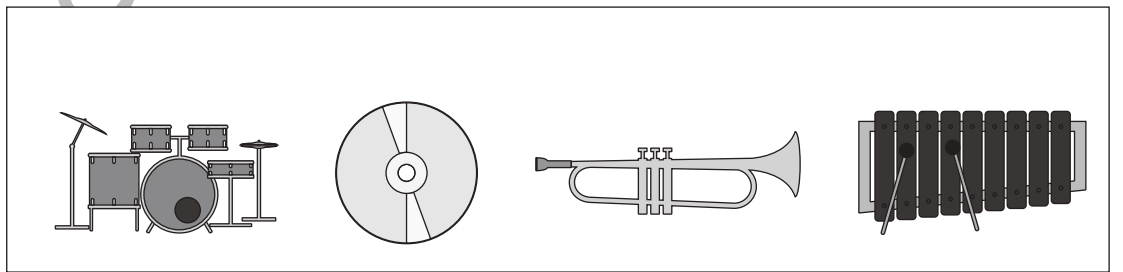


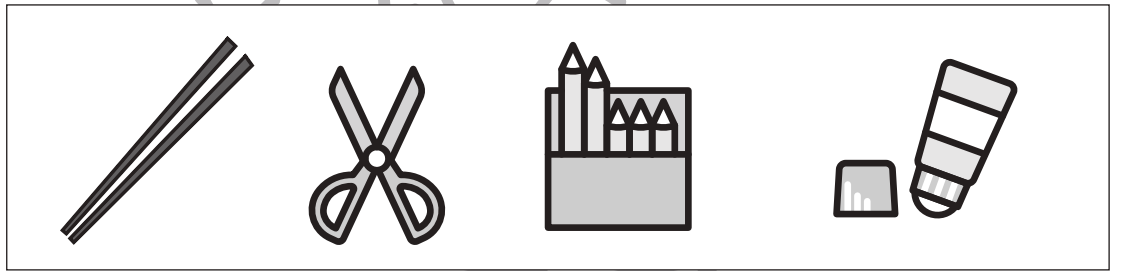
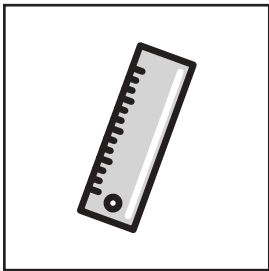
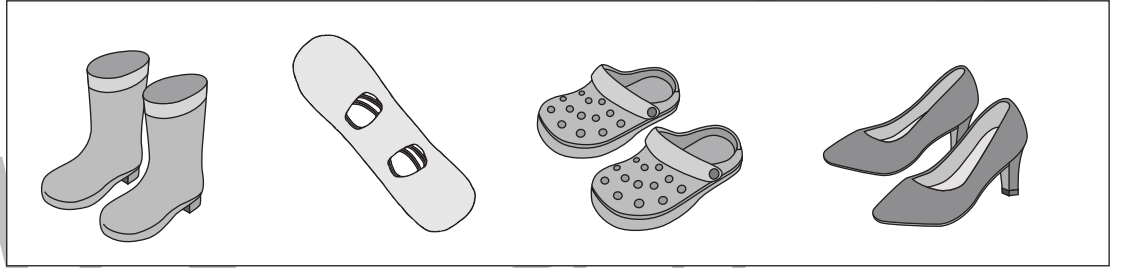


# おうちで、やろう。

Study at home. 小学校受験の家庭学習教材

## 常識：仲間外れ5

左の四角の絵と仲間ではない絵に○をつけましょう。



※1. このプリントは、しながわ・目黒こどもスクールのウェブサイトでダウンロードができます。無断複写・引用はご遠慮ください。  
※2. このプリントを活用したオンライン授業のスケジュールは、しながわ・目黒こどもスクールのウェブサイトでご確認ください。





# おうちで、やろう。

Study at home. 小学校受験の家庭学習教材

## 図形：置き換え 11

上の四角の中がお手本の形です。このお手本の黒いマスには×、白色のマスには○、灰色のマスには●をそれぞれすぐ下の四角の同じマスにかきます。この問題は間違えてしまったら下の四角に書き直します。


※1. このプリントは、しながわ・目黒こどもスクールのウェブサイトからダウンロードできます。無断複写・引用はご遠慮ください。

※2. このプリントを活用したオンライン授業のスケジュールは、しながわ・目黒こどもスクールのウェブサイトでご確認ください。



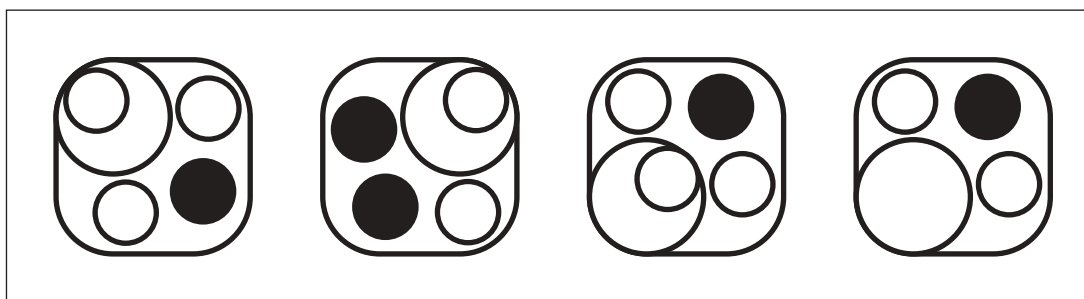

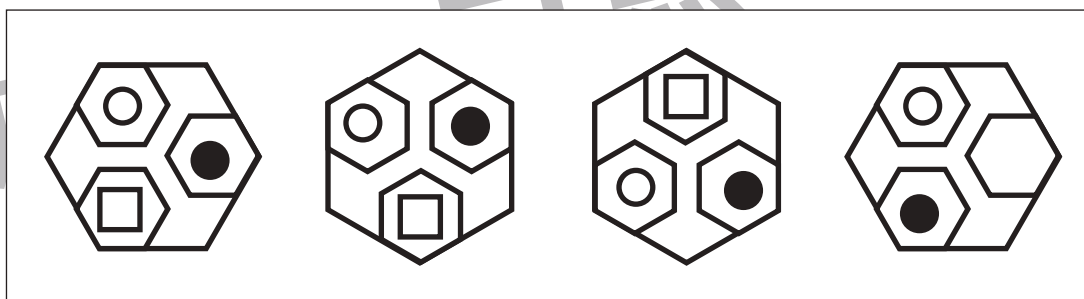
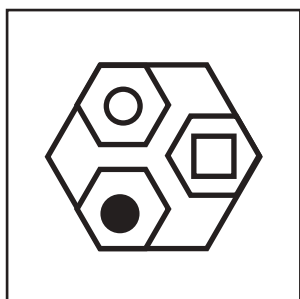
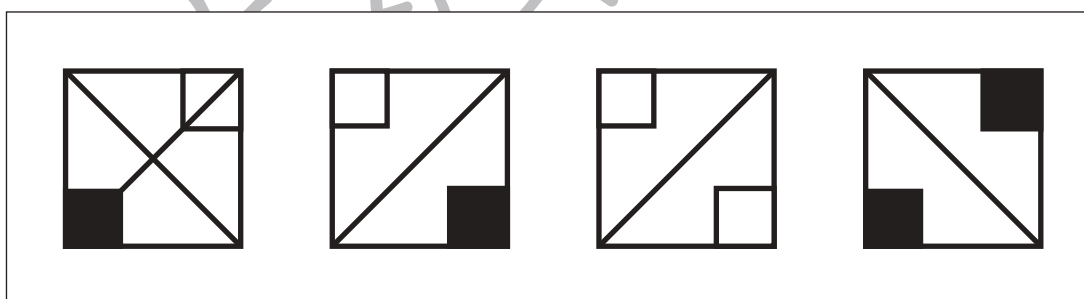
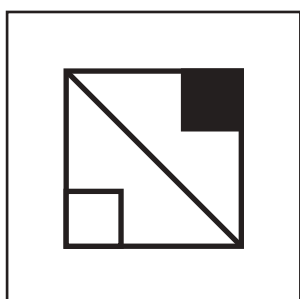




# おうちで、よろう。

Study at home. 小学校受験の家庭学習教材

図形：同図形 18

左の四角の図形と同じ形の図形に○をつけます。



※1. このプリントは、しながわ・目黒こどもスクールのウェブサイトでダウンロードができます。無断複写・引用はご遠慮ください。  
※2. このプリントを活用したオンライン授業のスケジュールは、しながわ・目黒こどもスクールのウェブサイトでご確認ください。



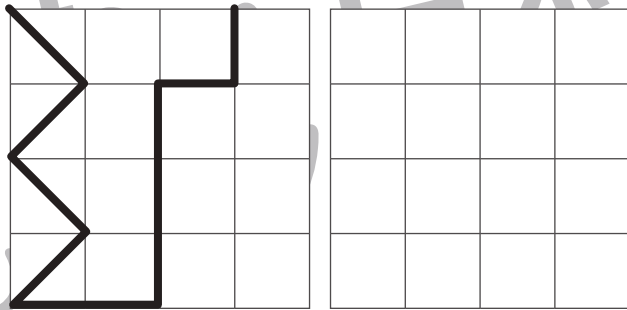

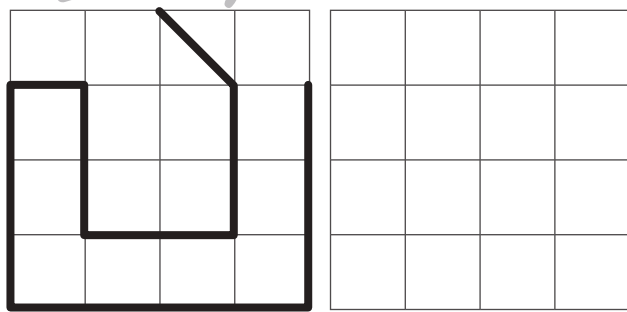


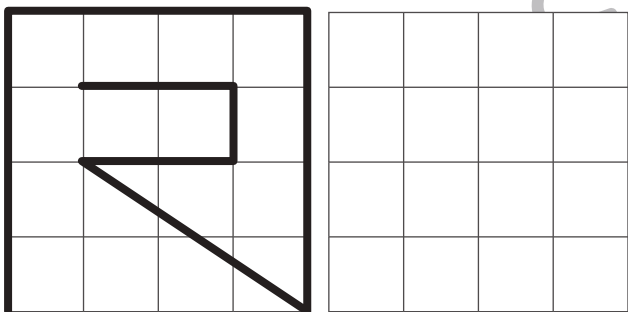
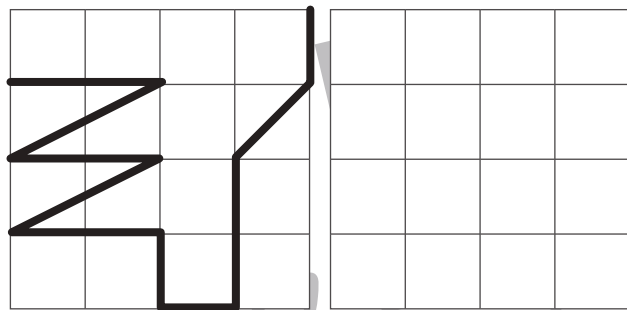
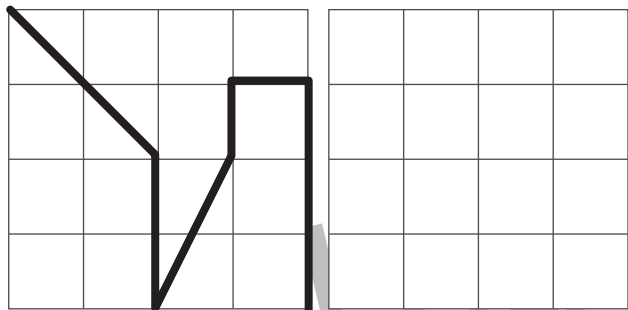


# おうちで、やろう。

Study at home. 小学校受験の家庭学習教材

図形：模写 12

左のお手本と同じように右側に線を引きましょう。※このプリントに解答はありません。



※1. このプリントは、しながわ・目黒こどもスクールのウェブサイトでダウンロードができます。無断複写・引用はご遠慮ください。  
※2. このプリントを活用したオンライン授業のスケジュールは、しながわ・目黒こどもスクールのウェブサイトでご確認ください。



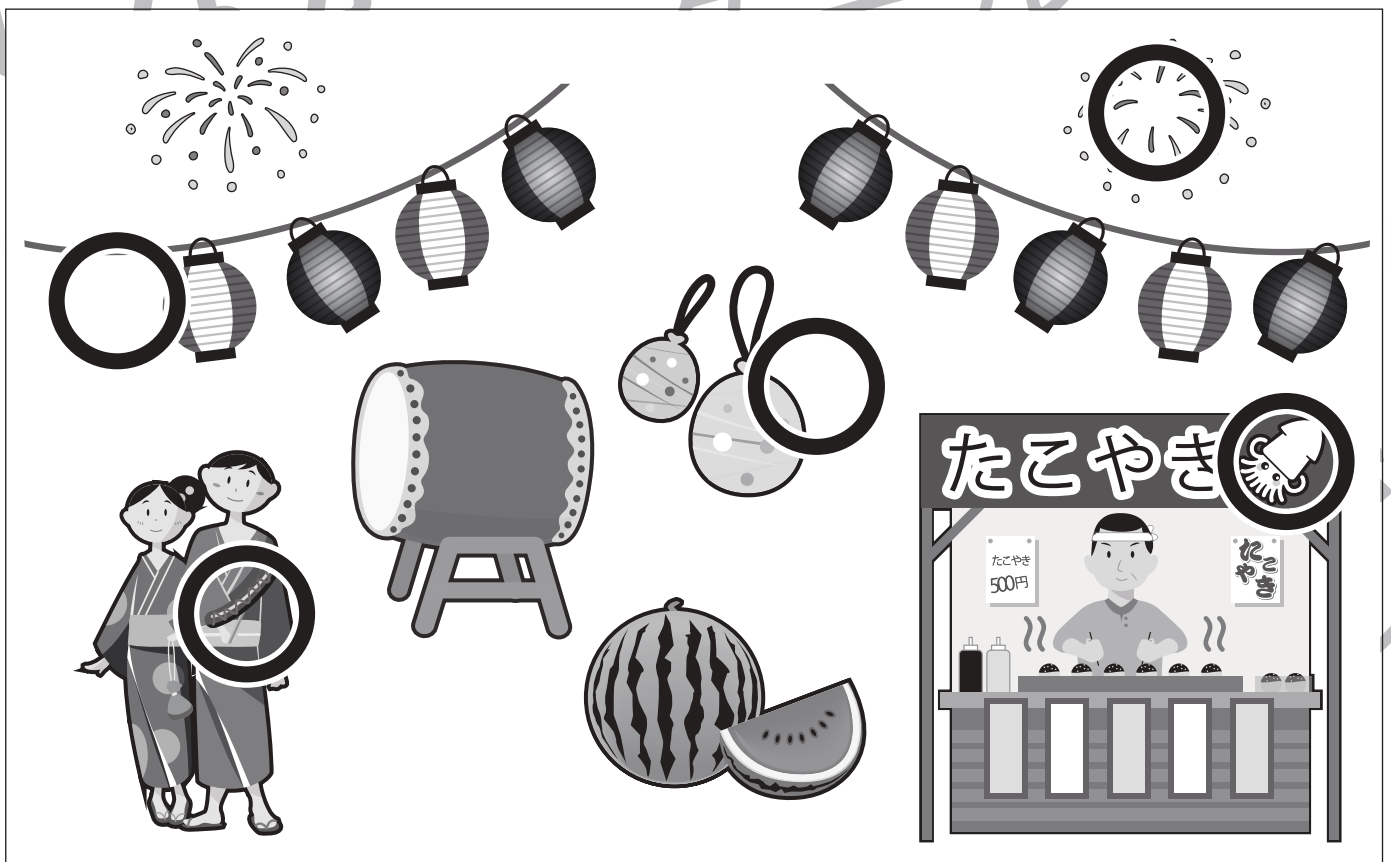
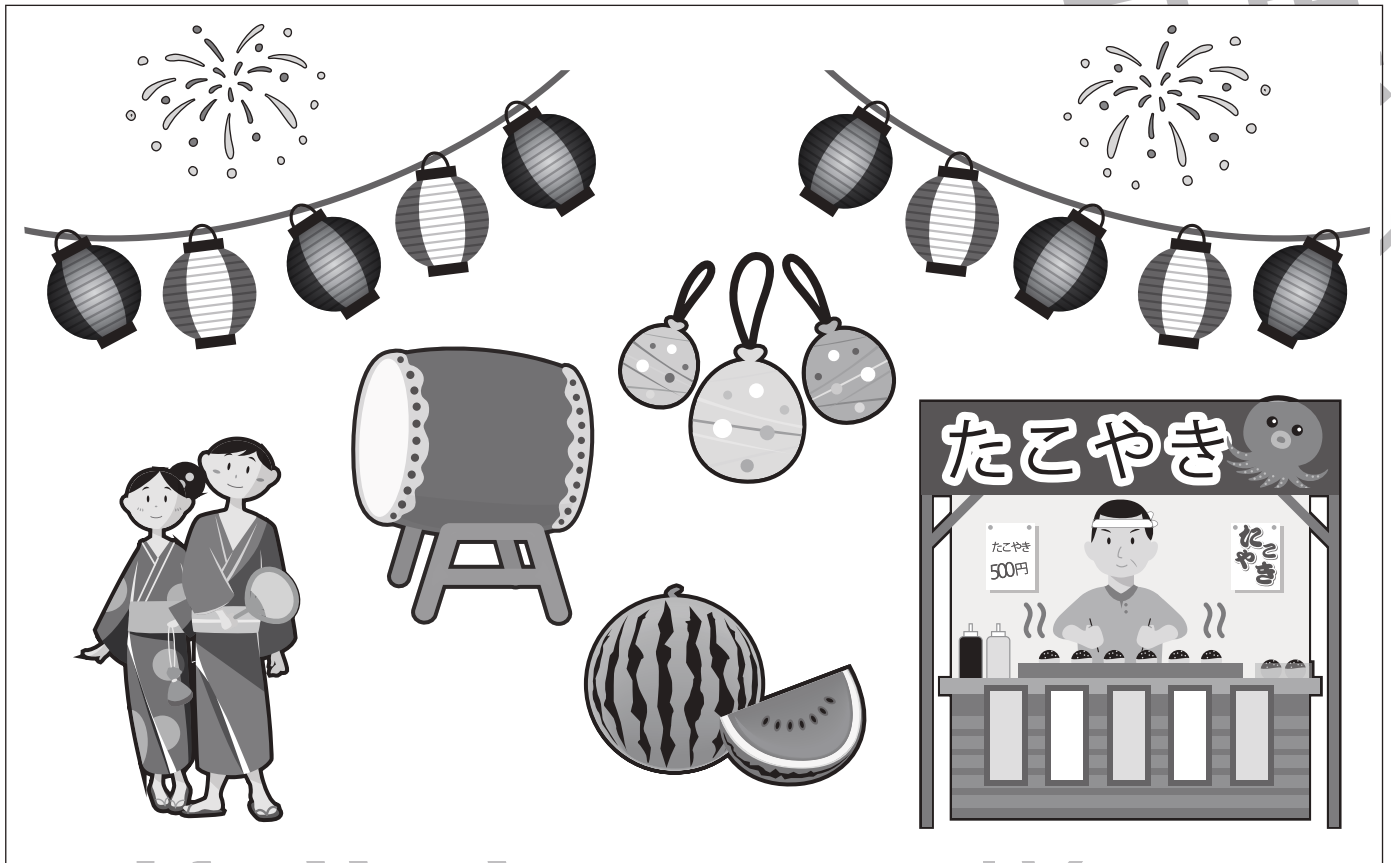


# おうちで、やろう。

Study at home. 小学校受験の家庭学習教材

## まちがいさがし 8

上下の絵を見比べて、変わっているところを5つ探します。見つけたら、下の絵の変わっている部分に丸をつけます。



※1. このプリントは、しながわ・目黒こどもスクールのウェブサイトでダウンロードができます。無断複写・引用はご遠慮ください。

※2. このプリントを活用したオンライン授業のスケジュールは、しながわ・目黒こどもスクールのウェブサイトでご確認ください。





# おうちで、やろう。

Study at home. 小学校受験の家庭学習教材

推理：影 16

左の太い四角の中は、影になってできた絵があります。どの絵が影になって重なっているかを考えて、影になっているものに○をつけます。


※1. このプリントは、しながわ・目黒こどもスクールのウェブサイトからダウンロードできます。無断複写・引用はご遠慮ください。

※2. このプリントを活用したオンライン授業のスケジュールは、しながわ・目黒こどもスクールのウェブサイトでご確認ください。

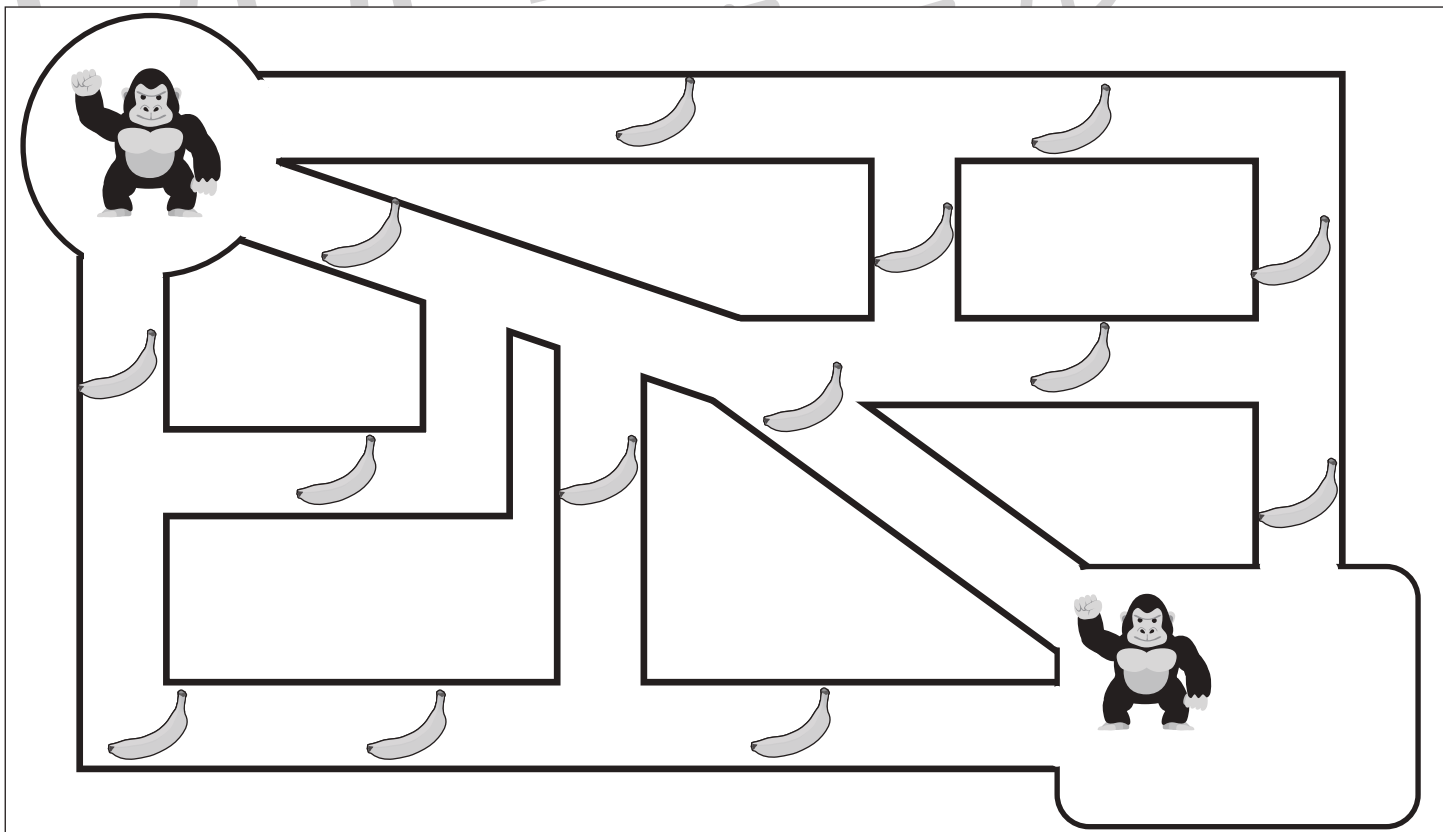
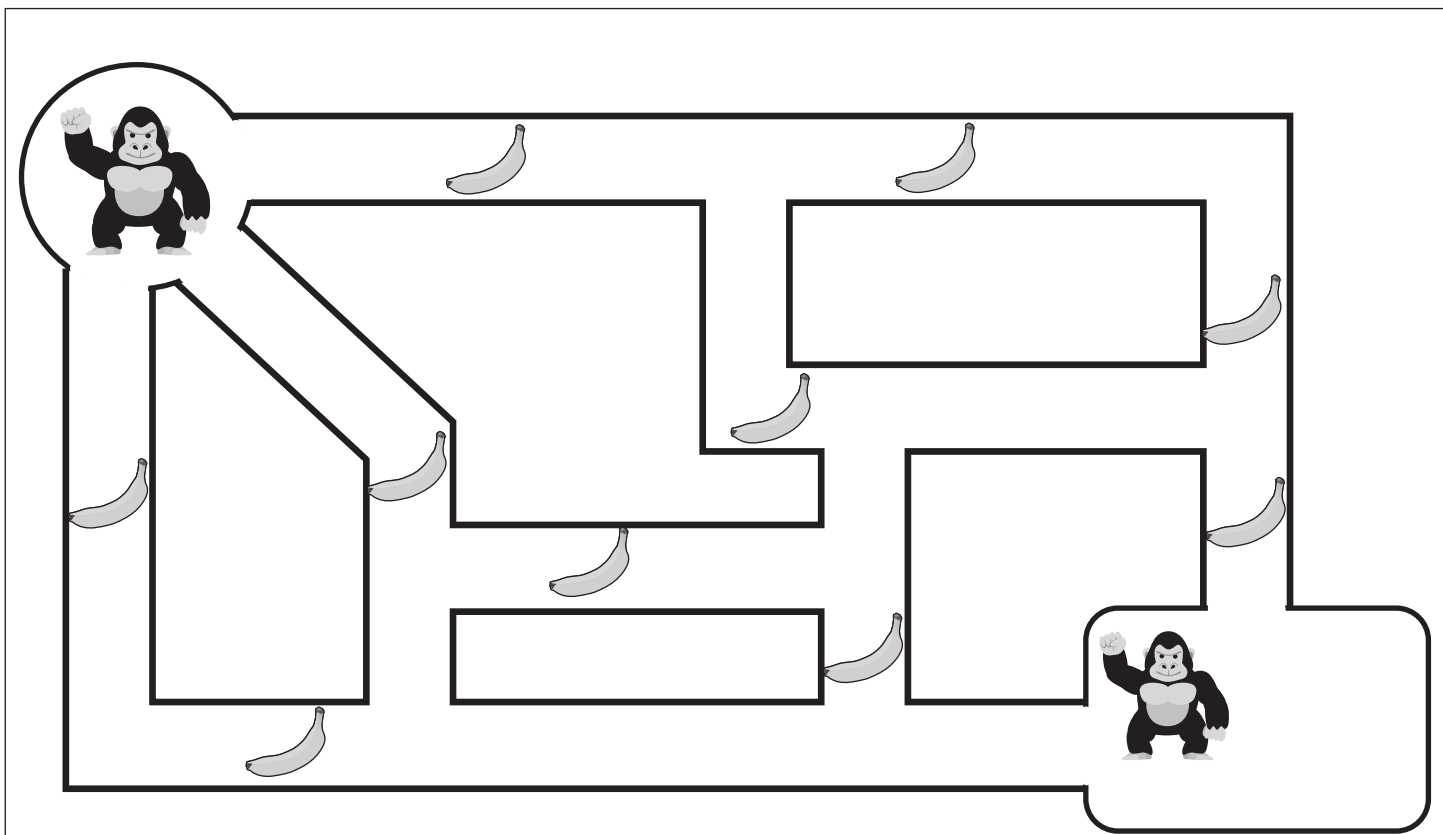


# おうちで、やろう。

Study at home. 小学校受験の家庭学習教材

## 推理：条件推理 40

左上がスタートです。道の途中にバナナが落ちています。ゴリラはバナナを拾いながら右下のゴールまでの道を進んでいきます。一番バナナが拾えなかった道に線を引き袋の中に拾えた数だけ〇をつけます。来た道は戻ることができません。



※1. このプリントは、しながわ・目黒こどもスクールのウェブサイトでダウンロードができます。無断複写・引用はご遠慮ください。  
※2. このプリントを活用したオンライン授業のスケジュールは、しながわ・目黒こどもスクールのウェブサイトでご確認ください。










# おうちで、やろう。

Study at home. 小学校受験の家庭学習教材

推理：水量 15

それぞれ四角の中のコップには水が入っています。  
水を満タンに入れたとき、入れた水の量が1番多いコップに○をつけます。



※1. このプリントは、しながわ・目黒こどもスクールのウェブサイトでダウンロードができます。無断複写・引用はご遠慮ください。  
※2. このプリントを活用したオンライン授業のスケジュールは、しながわ・目黒こどもスクールのウェブサイトでご確認ください。







# おうちで、やろう。

Study at home. 小学校受験の家庭学習教材

数量：分割 20

左の四角の中にあるお友だちに袋の中にあるおやつを同じ数ずつ分けることができる絵に○をつけます。



※1. このプリントは、しながわ・目黒こどもスクールのウェブサイトでダウンロードができます。無断複写・引用はご遠慮ください。  
※2. このプリントを活用したオンライン授業のスケジュールは、しながわ・目黒こどもスクールのウェブサイトでご確認ください。

