



# おうちで、やろう。

Study at home. 小学校受験の家庭学習教材

## 図形：重なり 17

左の太い四角の中には色々な形が重なっています。下から2番目にある形を、右の四角の中から見つけて○をつけます。


※1. このプリントは、しながわ・目黒こどもスクールのウェブサイトでダウンロードができます。無断複写・引用はご遠慮ください。

※2. このプリントを活用したオンライン授業のスケジュールは、しながわ・目黒こどもスクールのウェブサイトでご確認ください。

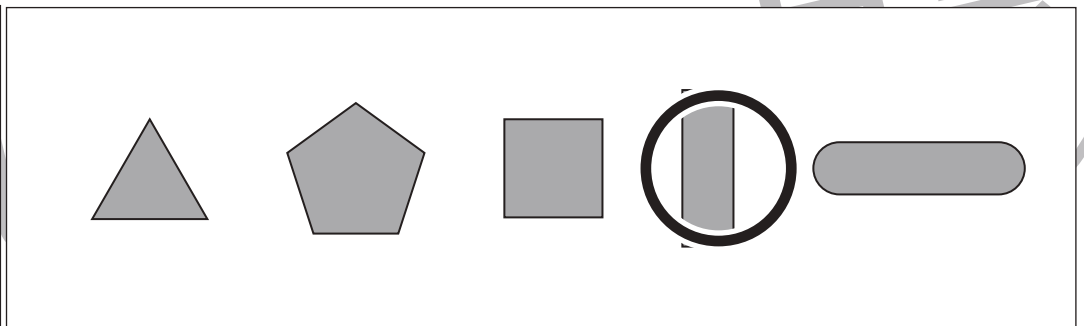
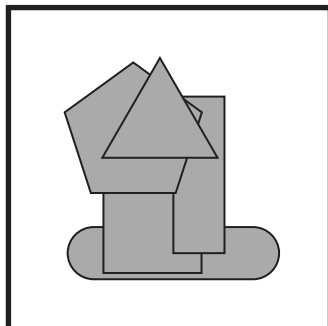
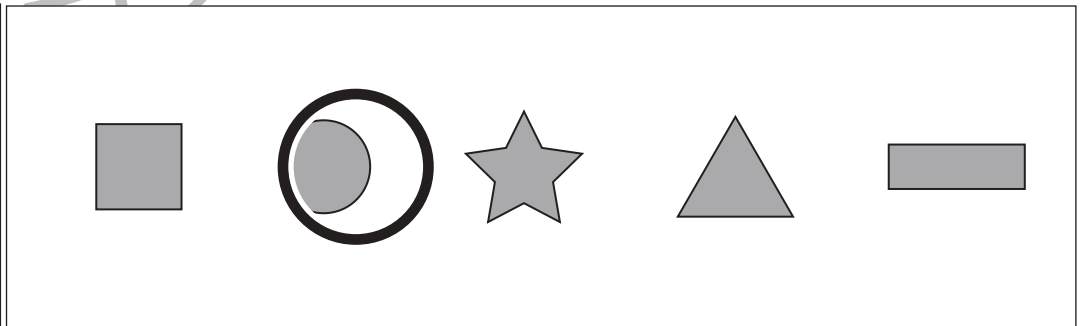

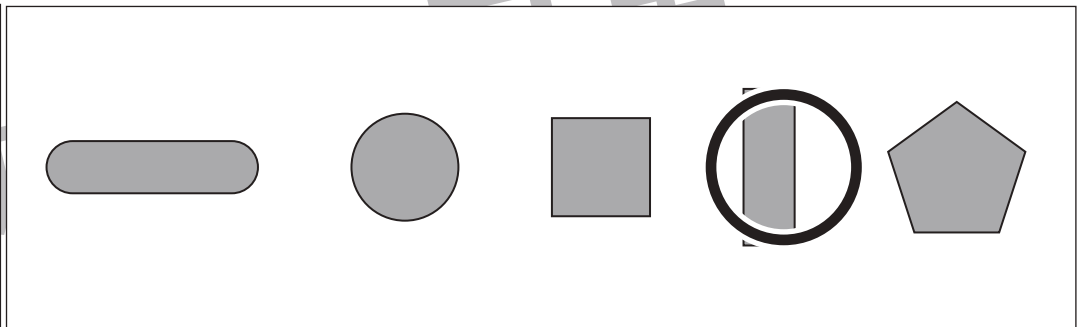
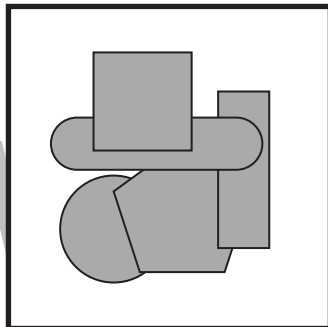
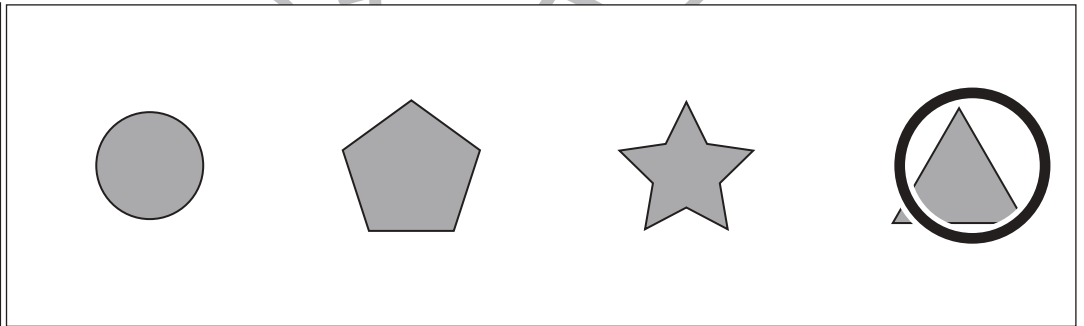
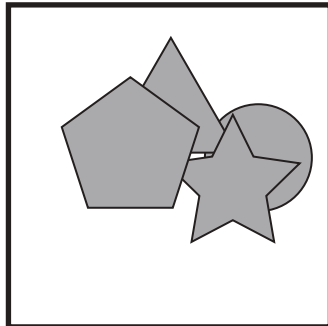
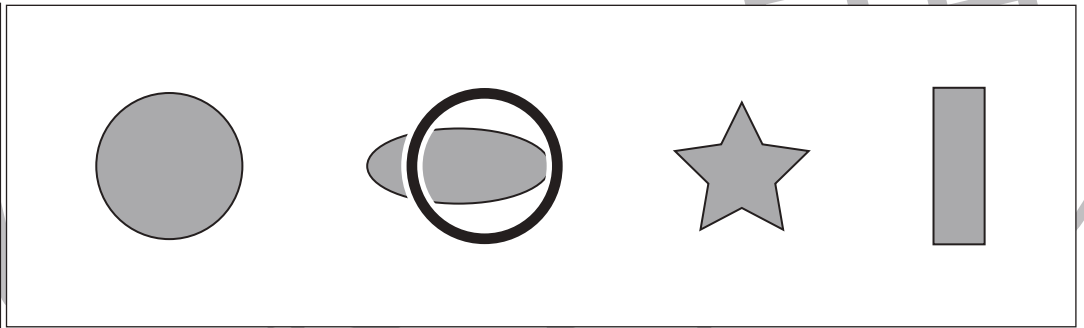



# おうちで、やろう。

Study at home. 小学校受験の家庭学習教材

## 図形：重なり 18

左の太い四角の中には色々な形が重なっています。上から3番目にある形を、右の四角の中から見つけて○をつけます。



※1. このプリントは、しながわ・目黒こどもスクールのウェブサイトでダウンロードができます。無断複写・引用はご遠慮ください。  
※2. このプリントを活用したオンライン授業のスケジュールは、しながわ・目黒こどもスクールのウェブサイトでご確認ください。





# おうちで、よろう。

Study at home. 小学校受験の家庭学習教材

## 図形：重なり 19

左の太い四角の中には色々な形が重なっています。上から2番目にある形には○を、下から3番目にある形には△を、右の四角の中から見つけて印をつけます。


※1. このプリントは、しながわ・目黒こどもスクールのウェブサイトでダウンロードができます。無断複写・引用はご遠慮ください。

※2. このプリントを活用したオンライン授業のスケジュールは、しながわ・目黒こどもスクールのウェブサイトでご確認ください。



# おうちで、やろう。

Study at home. 小学校受験の家庭学習教材

数量：計数 43

太い四角の中の絵の数と同じ数だけ灰色のマスがある四角を、右の四角の中から見つけて○をつけます。


※1. このプリントは、しながわ・目黒こどもスクールのウェブサイトでダウンロードができます。無断複写・引用はご遠慮ください。

※2. このプリントを活用したオンライン授業のスケジュールは、しながわ・目黒こどもスクールのウェブサイトでご確認ください。



# おうちで、やろう。

Study at home. 小学校受験の家庭学習教材

数量：計数 44

太い四角の中の絵の数と同じ数だけ白色のマスがある四角を、右の四角の中から見つけて○をつけます。


※1. このプリントは、しながわ・目黒こどもスクールのウェブサイトでダウンロードができます。無断複写・引用はご遠慮ください。

※2. このプリントを活用したオンライン授業のスケジュールは、しながわ・目黒こどもスクールのウェブサイトでご確認ください。

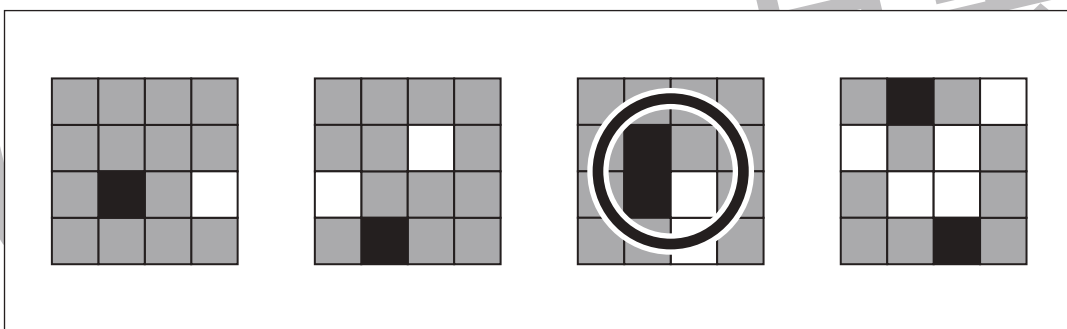

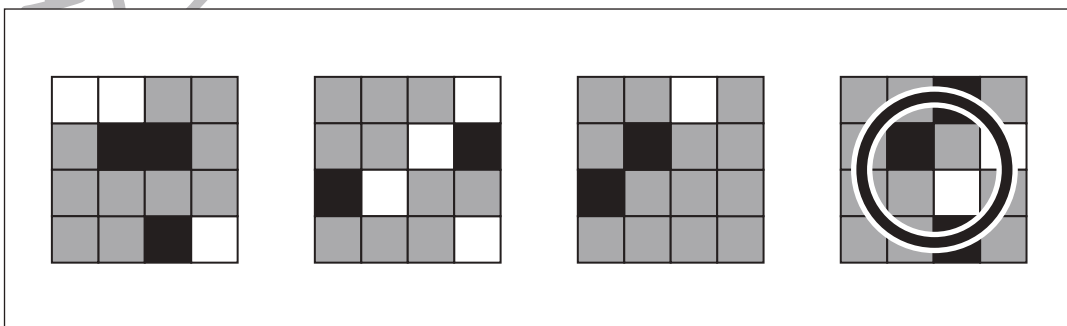

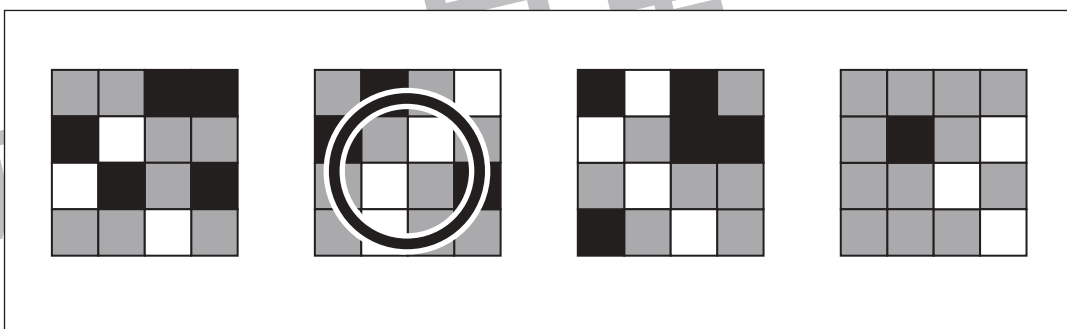

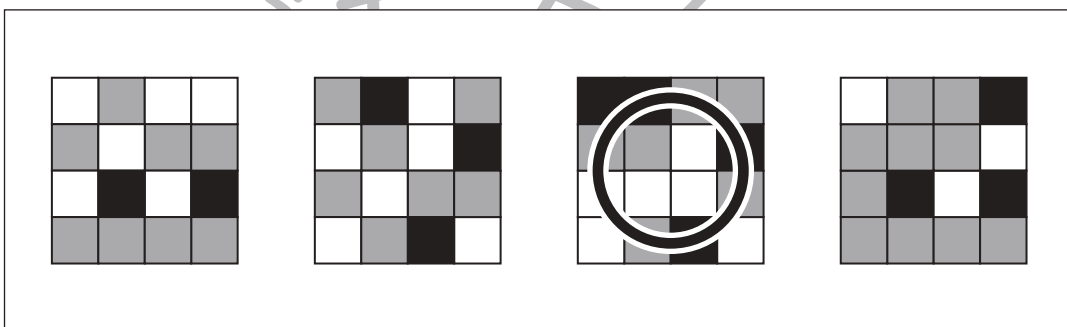
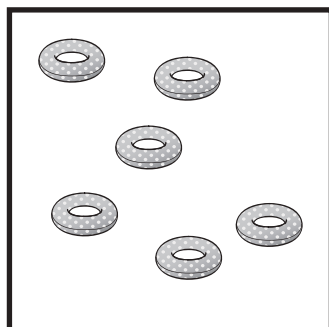
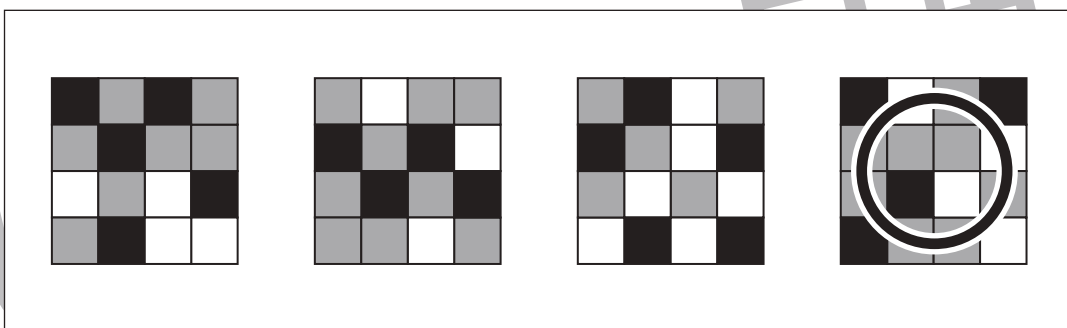



# おうちで、やろう。

Study at home. 小学校受験の家庭学習教材

数量：計数 45

太い四角の中の絵の数と同じ数だけ灰色のマスがある四角を、右の四角の中から見つけて○をつけます。



※1. このプリントは、しながわ・目黒こどもスクールのウェブサイトでダウンロードができます。無断複写・引用はご遠慮ください。  
※2. このプリントを活用したオンライン授業のスケジュールは、しながわ・目黒こどもスクールのウェブサイトでご確認ください。



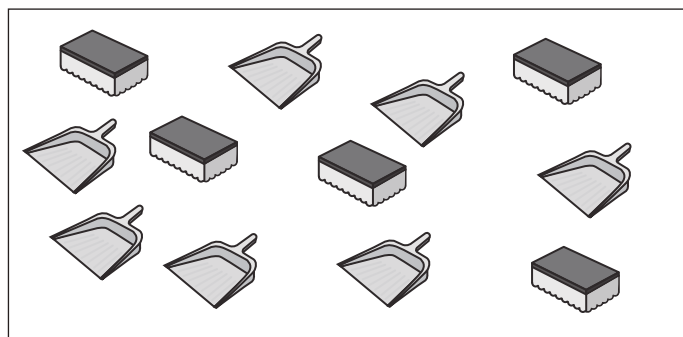




# おうちで、やろう。

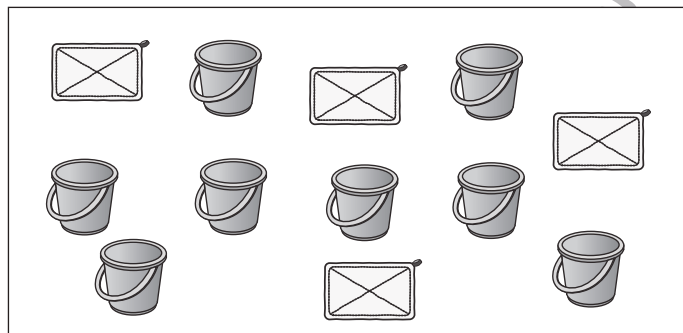
Study at home. 小学校受験の家庭学習教材

数量：多少 14


左の四角の中には2種類のものがあります。どちらの数がいくつ多いかを考えて、多いものの四角に多い数だけ〇をかきます。




	○ × 2
	





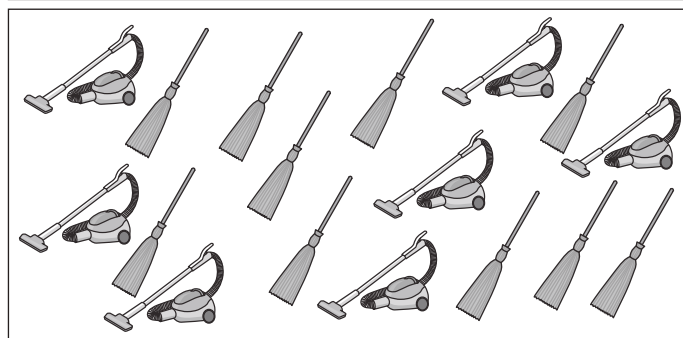
	
	○ × 4



	
	○ × 5



	○ × 3
	



	○ × 3
	

※1. このプリントは、しながわ・目黒こどもスクールのウェブサイトでダウンロードができます。無断複写・引用はご遠慮ください。

※2. このプリントを活用したオンライン授業のスケジュールは、しながわ・目黒こどもスクールのウェブサイトでご確認ください。




# おうちで、やろう。

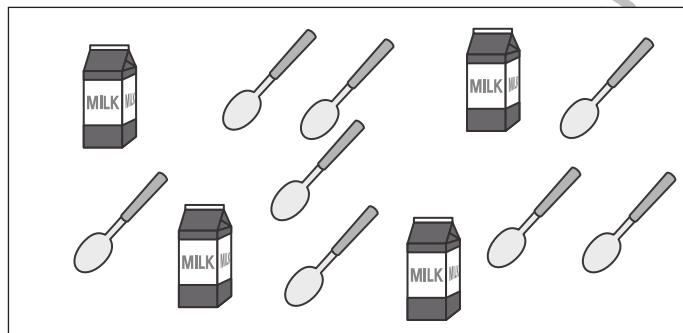
Study at home. 小学校受験の家庭学習教材

数量：多少 15


左の四角の中には2種類のものがあります。どちらの数がいくつ少ないかを考えて、少ないものの四角に少ない数だけ〇をかきます。






	
	○ × 2




	○ × 4
	





	
	○ × 5



	○ × 4
	



	
	○ × 2

※1. このプリントは、しながわ・目黒こどもスクールのウェブサイトダウンロードできます。無断複写・引用はご遠慮ください。

※2. このプリントを活用したオンライン授業のスケジュールは、しながわ・目黒こどもスクールのウェブサイトでご確認ください。





# おうちで、やろう。

Study at home. 小学校受験の家庭学習教材

運筆：濃淡 12

四角の中の3つの形を、1番大きい形が1番薄く、1番小さい形が1番濃く、真ん中の大きさの形はその間の濃さになるように、①～③は鉛筆で、④～⑤は青のクーピーで塗ります。

①

②

③

④

⑤

※1. このプリントは、しながわ・目黒こどもスクールのウェブサイトでダウンロードができます。無断複写・引用はご遠慮ください。  
 ※2. このプリントを活用したオンライン授業のスケジュールは、しながわ・目黒こどもスクールのウェブサイトでご確認ください。