



# おうちで、やろう。年中児版

Study at home. 小学校受験の家庭学習教材

## 指示の聞き取り 17

- ①～④の話を聞き、生き物に○をつけましょう。
- ①上から3段目の右から3番目のマスにいる生き物に○をつけましょう。
- ②下から4段目の左から2番目のマスにいる生き物に×をつけましょう。
- ③下から2段目の真ん中のマスにいる生き物に□をつけましょう。
- ④ライオンの2マス右にいる生き物に△をつけましょう。

口 用



※1. このプリントは、しながわ・目黒こどもスクールのウェブサイトでダウンロードができます。無断複写・引用はご遠慮ください。  
 ※2. このプリントを活用したオンライン授業のスケジュールは、しながわ・目黒こどもスクールのウェブサイトでご確認ください。





















# おうちで、やろう。年中児版

Study at home. 小学校受験の家庭学習教材

## 処理能力：置き換え6

上の太い四角が約束です。それぞれの絵を矢印の先の記号に置き換えます。上のマスの中の絵を約束どおりに置き換えたときの形を下のマスにかきましょう。

 → 	 → 	 → 
---	--	---


※1. このプリントは、しながわ・目黒こどもスクールのウェブサイトでダウンロードができます。無断複写・引用はご遠慮ください。  
 ※2. このプリントを活用したオンライン授業のスケジュールは、しながわ・目黒こどもスクールのウェブサイトでご確認ください。










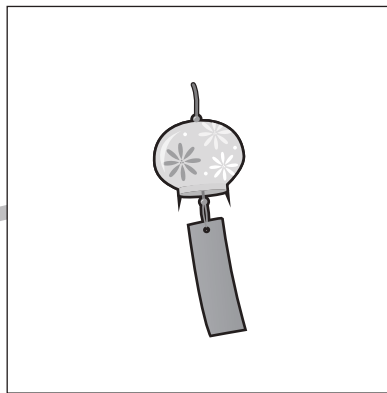
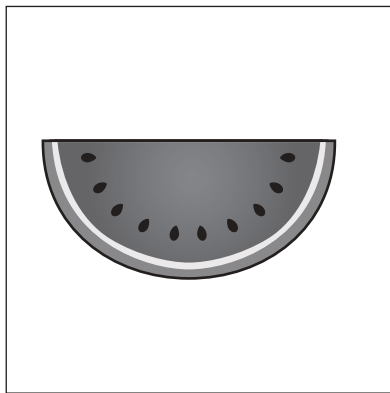


# おうちで、やろう。 年中児版

Study at home. 小学校受験の家庭学習教材

## 常識：季節 12

一番左の四角と真ん中の四角の中の2つの絵の季節が同じときは○、違うときは×を一番右の太い四角の中にかきましょう。



※1. このプリントは、しながわ・目黒こどもスクールのウェブサイトでダウンロードができます。無断複写・引用はご遠慮ください。

※2. このプリントを活用したオンライン授業のスケジュールは、しながわ・目黒こどもスクールのウェブサイトでご確認ください。














# おうちで、やろう。 年中児版

Study at home. 小学校受験の家庭学習教材

## 図形：島づくり1

黒い点を全て通って1本の線で結んで島を作りましょう。縦と横は進めますが、斜めには進めません。



※1. このプリントは、しながわ・目黒こどもスクールのウェブサイトでダウンロードができます。無断複写・引用はご遠慮ください。  
※2. このプリントを活用したオンライン授業のスケジュールは、しながわ・目黒こどもスクールのウェブサイトでご確認ください。














# おうちで、やろう。 年中児版

Study at home. 小学校受験の家庭学習教材

## 図形：島づくり2

黒い点を全て通って1本の線で結んで島を作りましょう。縦と横は進めますが、斜めには進めません。



※1. このプリントは、しながわ・目黒こどもスクールのウェブサイトからダウンロードできます。無断複写・引用はご遠慮ください。

※2. このプリントを活用したオンライン授業のスケジュールは、しながわ・目黒こどもスクールのウェブサイトでご確認ください。























































# おうちで、やろう。 年中児版

Study at home. 小学校受験の家庭学習教材

## 推理：じゃんけん1

一番左のお友だちとじゃんけん勝負をします。それぞれのお友だちが出す手は上の吹き出しの中にある手です。この時、左のお友だちが勝つのは何回ですか。その数だけ右の四角に〇をかきます。

目黒

 	→	 	 	 	 	
 	→	 	 	 	 	
 	→	 	 	 	 	
 	→	 	 	 	 	
 	→	 	 	 	 	

※1. このプリントは、しながわ・目黒こどもスクールのウェブサイトからダウンロードできます。無断複写・引用はご遠慮ください。

※2. このプリントを活用したオンライン授業のスケジュールは、しながわ・目黒こどもスクールのウェブサイトでご確認ください。



# おうちで、やろう。年中児版

Study at home. 小学校受験の家庭学習教材

推理：影9

左の太い四角の中は、動物が影になってできた絵です。どの動物が影になって重なっているかを考えて、影にないものを右の四角の中から選んで○をつけます。


※1. このプリントは、しながわ・目黒こどもスクールのウェブサイトでダウンロードができます。無断複写・引用はご遠慮ください。

※2. このプリントを活用したオンライン授業のスケジュールは、しながわ・目黒こどもスクールのウェブサイトでご確認ください。





# おうちで、やろう。 年中児版

Study at home. 小学校受験の家庭学習教材

数量：計数 23

上の大きな四角の中の絵を見て、それぞれの数を下の四角の中の絵の右に○をかきましょう。



※1. このプリントは、しながわ・目黒こどもスクールのウェブサイトでダウンロードができます。無断複写・引用はご遠慮ください。

※2. このプリントを活用したオンライン授業のスケジュールは、しながわ・目黒こどもスクールのウェブサイトでご確認ください。