



# おうちで、やろう。 年中児版

Study at home. 小学校受験の家庭学習教材

## 指示の聞き取り 18


①～④の話を聞き、靴に○をつけましょう。

①下から4段目の左から3番目の下駄箱に入っている靴に○をつけましょう。

②一番上の段の右から4番目の下駄箱に入っている靴に×をつけましょう。

③上から5段目の左から2番目の下駄箱に入っている靴に□をつけましょう。

④一番下の段の一番右の下駄箱に入っている靴に△をつけましょう。



※1. このプリントは、しながわ・目黒こどもスクールのウェブサイトでダウンロードができます。無断複写・引用はご遠慮ください。

※2. このプリントを活用したオンライン授業のスケジュールは、しながわ・目黒こどもスクールのウェブサイトでご確認ください。



# おうちで、やろう。 年中児版

Study at home. 小学校受験の家庭学習教材

言語：はじめの音 8

はじめの音が同じ絵を見つけて上、真ん中、下の点と点を線で結びましょう。

The grid consists of three rows of four boxes each. The items in the boxes are as follows:

- Row 1 (Top): Peach, Tadpole, Dango (rice balls), Beetle.
- Row 2 (Middle): Wolf, Carrot, Onigiri (rice ball), Knife.
- Row 3 (Bottom): Daruma doll, Samurai, Broom, Katana.

Connections between rows:

- Row 1 to Row 2: Peach connects to Onigiri; Tadpole connects to Wolf; Dango connects to Carrot; Beetle connects to Knife.
- Row 2 to Row 3: Wolf connects to Samurai; Carrot connects to Katana; Onigiri connects to Daruma doll; Knife connects to Broom.

※1. このプリントは、しながわ・目黒こどもスクールのウェブサイトからダウンロードができます。無断複写・引用はご遠慮ください。

※2. このプリントを活用したオンライン授業のスケジュールは、しながわ・目黒こどもスクールのウェブサイトでご確認ください。



# おうちで、やろう。 年中児版

Study at home. 小学校受験の家庭学習教材

## 言語：おわりの音6

おわりの音が同じ絵を見つけて上、真ん中、下の点と点を線で結びましょう。

The matching exercise consists of three rows of four boxes each. Each box contains a black and white illustration of an object or animal. Lines connect the bottom dots of the boxes in the top row to the bottom dots of the boxes in the middle row, and then to the bottom dots of the boxes in the bottom row. The connections are: Top Row 1 to Middle Row 2, Top Row 2 to Middle Row 1, Top Row 3 to Middle Row 4, Top Row 4 to Middle Row 3, Middle Row 1 to Bottom Row 2, Middle Row 2 to Bottom Row 1, Middle Row 3 to Bottom Row 4, Middle Row 4 to Bottom Row 3.

※1. このプリントは、しながわ・目黒こどもスクールのウェブサイトからダウンロードができます。無断複写・引用はご遠慮ください。

※2. このプリントを活用したオンライン授業のスケジュールは、しながわ・目黒こどもスクールのウェブサイトでご確認ください。

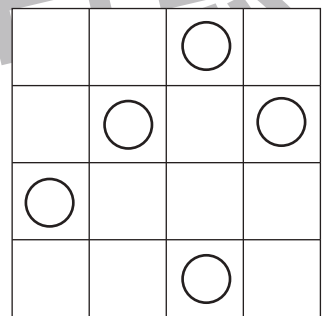

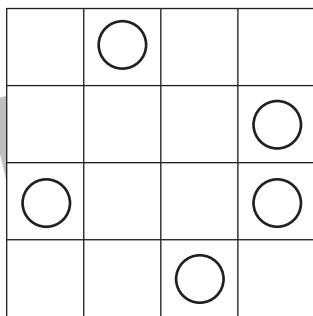

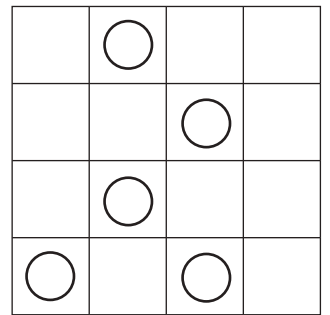

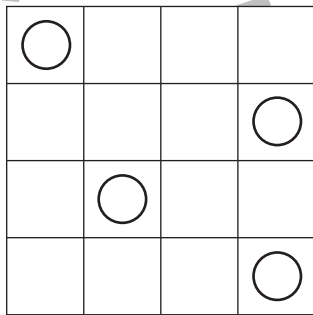

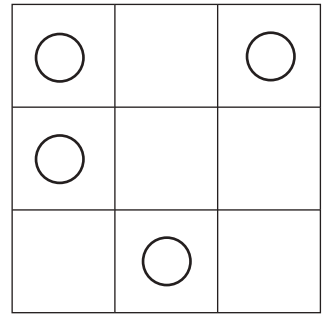

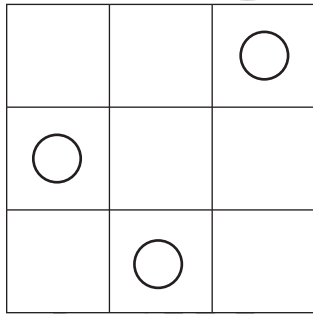

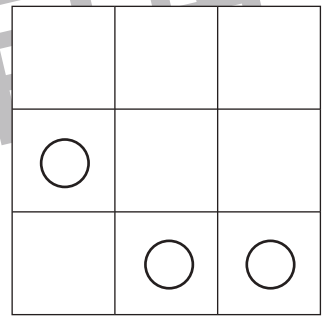

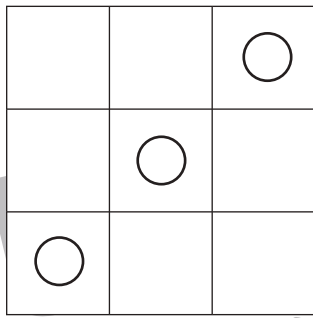



# おうちで、やろう。 年中児版

Study at home. 小学校受験の家庭学習教材

図形：模写8

左の四角がお手本です。左の黒いマスと同じ場所に○をかきましょう。



※1. このプリントは、しながわ・目黒こども学校のウェブサイトからダウンロードができます。無断複写・引用はご遠慮ください。  
※2. このプリントを活用したオンライン授業のスケジュールは、しながわ・目黒こども学校のウェブサイトでご確認ください。






# おうちで、やろう。

Study at home. 小学校受験の家庭学習教材

## 推理：条件迷路 4

➡から⇨まで、「かき氷・カブトムシ・朝顔」の順に通って線をかきましょう。(答え1つではありませんので、約束通りにゴールできれば正解とします。)



※1. このプリントは、しながわ・目黒こどもスクールのウェブサイトでダウンロードができます。無断複写・引用はご遠慮ください。

※2. このプリントを活用したオンライン授業のスケジュールは、しながわ・目黒こどもスクールのウェブサイトでご確認ください。






# おうちで、やろう。 年中児版

Study at home. 小学校受験の家庭学習教材

数量：足りない数4

太い四角の中が1人分のセットです。右の四角の中のをセットにしたとき、下の絵のものが足りません。それぞれいくつ足りないのかを考えてその数だけ〇をかきましょう。



※1. このプリントは、しながわ・目黒こどもスクールのウェブサイトでダウンロードができます。無断複写・引用はご遠慮ください。  
※2. このプリントを活用したオンライン授業のスケジュールは、しながわ・目黒こどもスクールのウェブサイトでご確認ください。






# おうちで、やろう。 年中児版


Study at home. 小学校受験の家庭学習教材



数量：足りない数5

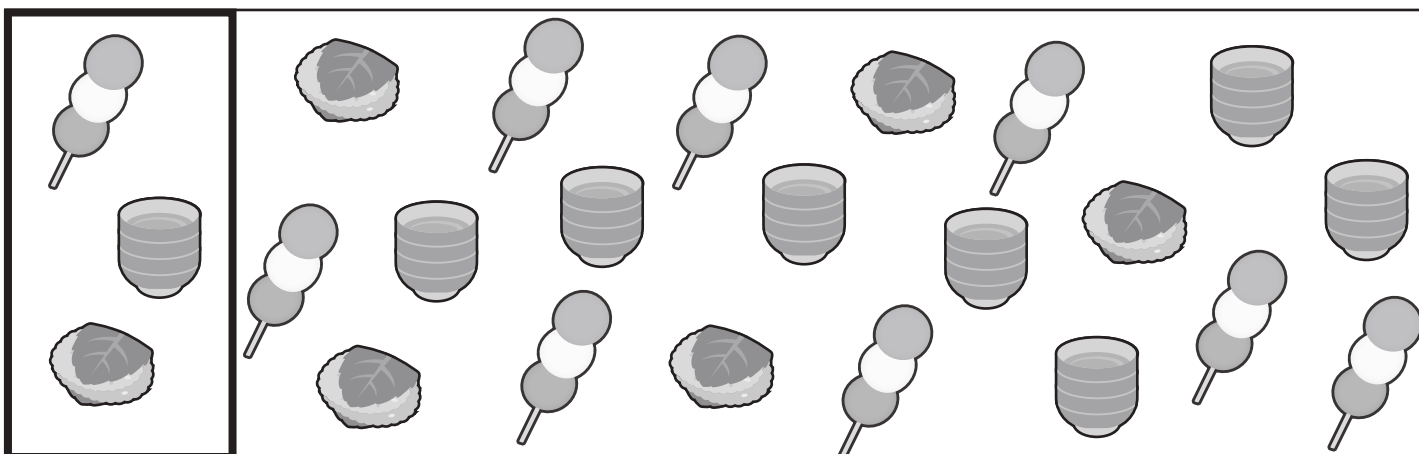
太い四角の中が1人分のセットです。右の四角の中のものセットにしたとき、下の絵のものが足りません。それぞれいくつ足りないのかを考えてその数だけ〇をかきましょう。





	$\bigcirc \times 3$
---	---------------------



	$\bigcirc \times 3$		$\bigcirc \times 2$
---	---------------------	---	---------------------



	$\bigcirc \times 1$		$\bigcirc \times 3$
---	---------------------	---	---------------------

※1. このプリントは、しながわ・目黒こどもスクールのウェブサイトでダウンロードができます。無断複写・引用はご遠慮ください。  
※2. このプリントを活用したオンライン授業のスケジュールは、しながわ・目黒こどもスクールのウェブサイトでご確認ください。