


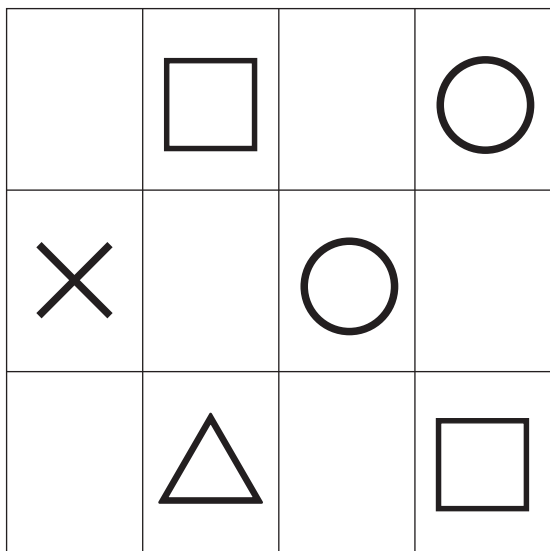

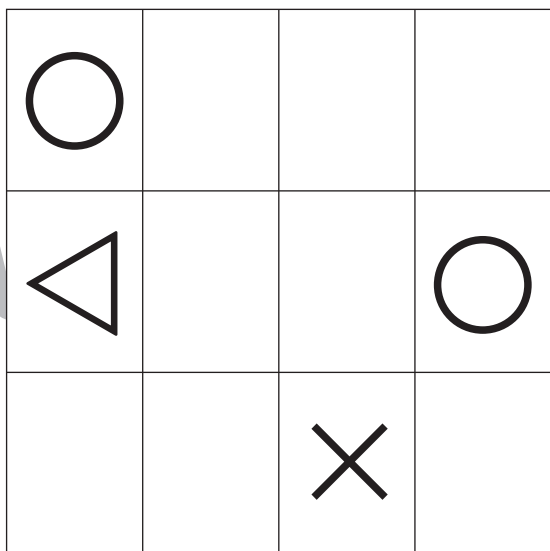

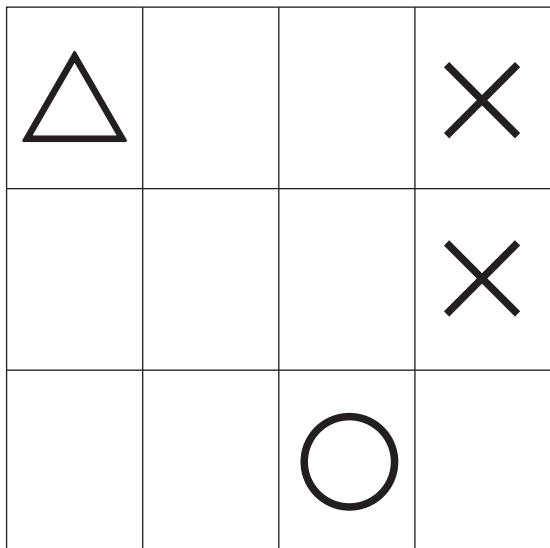


# おうちで、よろう。 年中児版

Study at home. 小学校受験の家庭学習教材

運筆：模写 1

左の四角の中の絵がお手本です。お手本通りに右の四角に記号をかきましょう。  
※この問題に解答はありません。



※1. このプリントは、しながわ・目黒こどもスクールのウェブサイトでダウンロードができます。無断複写・引用はご遠慮ください。

※2. このプリントを活用したオンライン授業のスケジュールは、しながわ・目黒こどもスクールのウェブサイトでご確認ください。


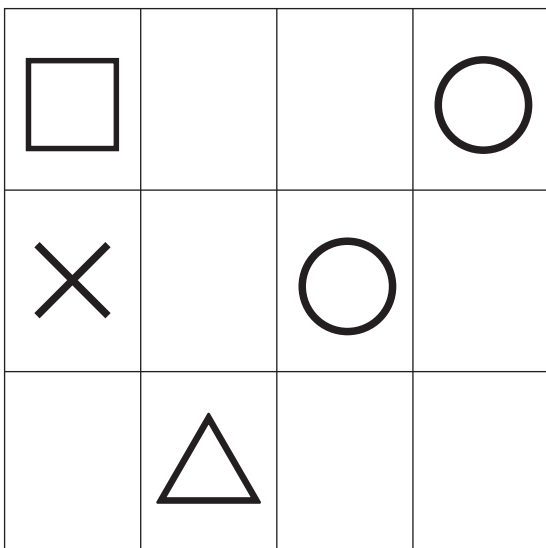

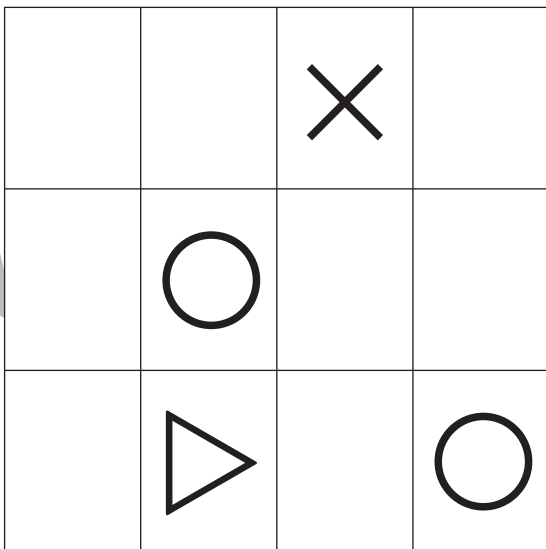




# おうちで、やろう。 年中児版

Study at home. 小学校受験の家庭学習教材

運筆：模写2

左の四角の中の絵がお手本です。お手本通りに右の四角に記号をかきましょう。  
※この問題に解答はありません。

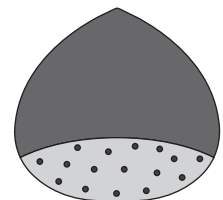
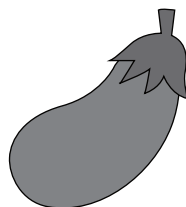





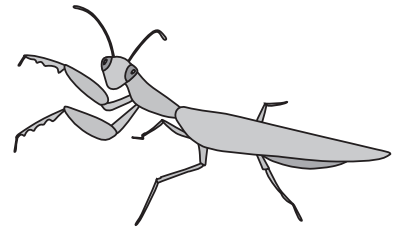



※1. このプリントは、しながわ・目黒こどもスクールのウェブサイトでダウンロードができます。無断複写・引用はご遠慮ください。

※2. このプリントを活用したオンライン授業のスケジュールは、しながわ・目黒こどもスクールのウェブサイトでご確認ください。



左の丸の中の絵とはじめの音が同じの絵に○、四角の中の絵と終わりの音が同じ絵に□をつけましょう。



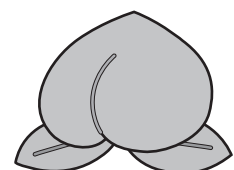



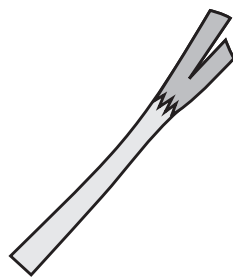

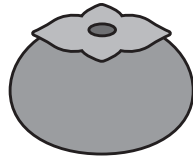


# おうちで、やろう。 年中児版

Study at home. 小学校受験の家庭学習教材

## 言語：音の理解 15

左の丸の中の絵とはじめの音が同じの絵に○、四角の中の絵と終わりの音が同じ絵に×をつけましょう。



※1. このプリントは、しながわ・目黒こどもスクールのウェブサイトでダウンロードができます。無断複写・引用はご遠慮ください。  
※2. このプリントを活用したオンライン授業のスケジュールは、しながわ・目黒こどもスクールのウェブサイトでご確認ください。



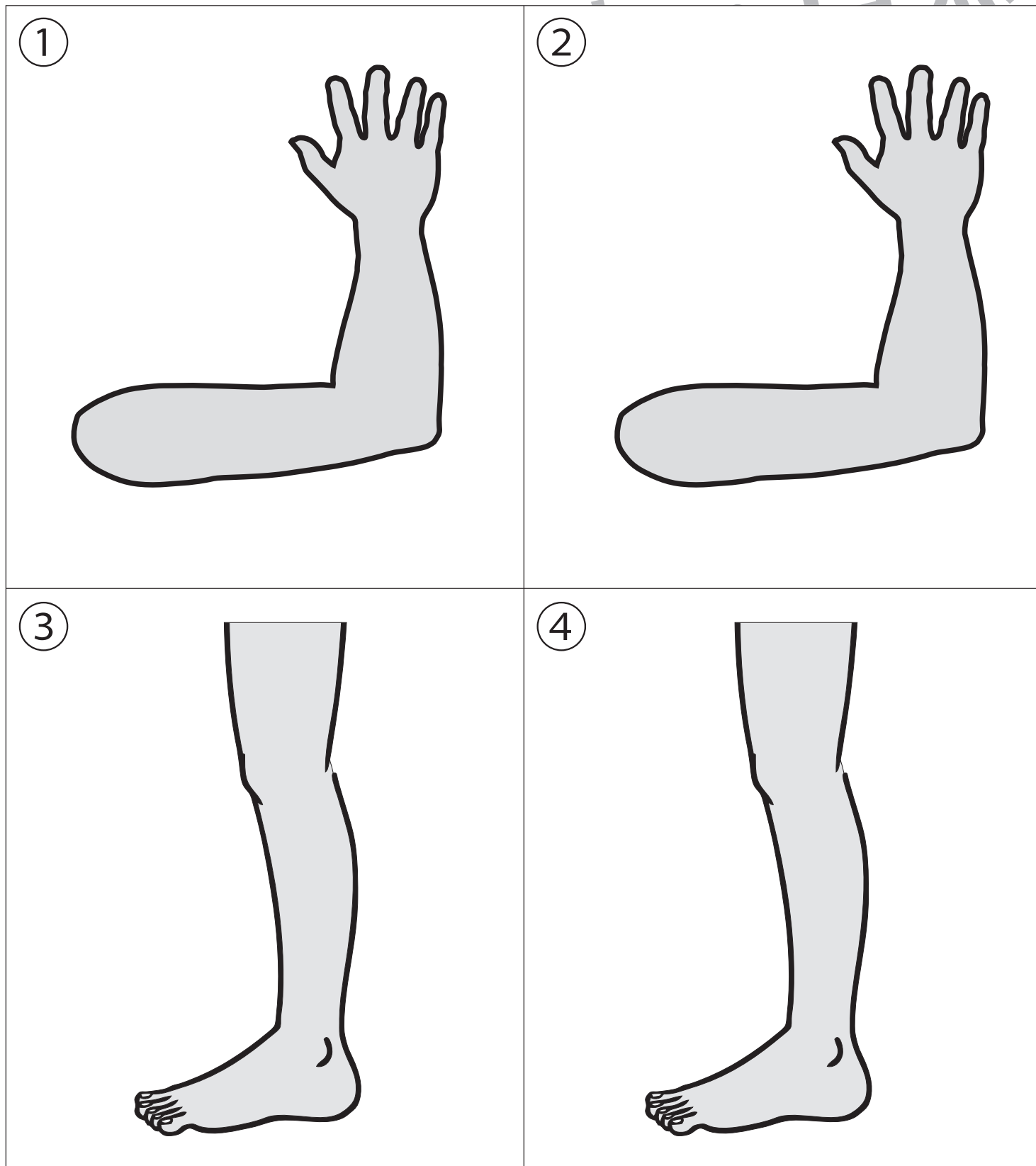
# おうちで、やろう。 年中児版

Study at home. 小学校受験の家庭学習教材

常識：人体 1

- ①親指に○、くすり指に△をかきましょう。
- ②中指に○、小指に△をかきましょう。
- ③膝に○、かかとに△をかきましょう。
- ④太ももに○、くるぶしに△をかきましょう。

目黒



※1. このプリントは、しながわ・目黒こどもスクールのウェブサイトからダウンロードできます。無断複写・引用はご遠慮ください。  
※2. このプリントを活用したオンライン授業のスケジュールは、しながわ・目黒こどもスクールのウェブサイトでご確認ください。



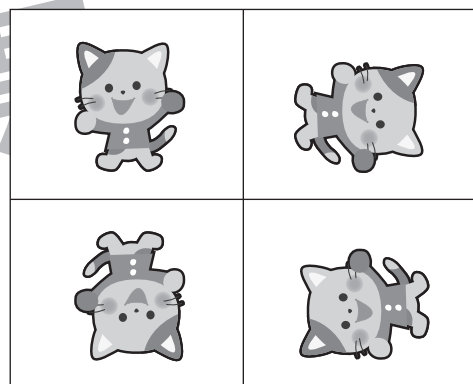





# おうちで、やろう。 年中児版

Study at home. 小学校受験の家庭学習教材

推理：系列完成6

左の四角の中の絵が回転しながらマスを進んだとき太い四角の中に入る絵を右の四角の中から選んで○をつけましょう。



※1. このプリントは、しながわ・目黒こどもスクールのウェブサイトでダウンロードができます。無断複写・引用はご遠慮ください。  
 ※2. このプリントを活用したオンライン授業のスケジュールは、しながわ・目黒こどもスクールのウェブサイトでご確認ください。









# おうちで、やろう。 年中児版

Study at home. 小学校受験の家庭学習教材

推理：系列完成7

左の四角の中の絵が回転しながらマスを進んだとき太い四角の中に入る絵を右の四角の中から選んで○をつけましょう。



※1. このプリントは、しながわ・目黒こどもスクールのウェブサイトでダウンロードができます。無断複写・引用はご遠慮ください。  
 ※2. このプリントを活用したオンライン授業のスケジュールは、しながわ・目黒こどもスクールのウェブサイトでご確認ください。



# おうちで、やろう。 年中児版

Study at home. 小学校受験の家庭学習教材

## まちがいさがし 24

上と下の絵を見比べて、変わっているところを4つ探します。見つけたら、下の絵の変わっている部分に○をつけましょう。

