




# おうちで、やろう。

Study at home. 小学校受験の家庭学習教材

常識：なぞなぞ6

①～⑤の問題を聞いて、下の四角の中から正しいものを選びます。

- ①私は外と中で色が違います。夏に美味しく、中に黒い小さい種がたくさんあります。私に○をつけてください。
- ②私は畑ではなく、池や沼などの水がある場所で育ちます。私に△をつけてください。
- ③私は冬に美味しい野菜です。土の中で育ち、おでんで食べるとおいしいです。私に□をつけてください。
- ④私は切ると中に穴があいています。緑色をしていて、食べると苦いです。私に◎をつけてください。
- ⑤私は秋になるとおいしくなります。ひとふさ、ふたふさとかぞえたりします。私に×をつけてください。



※1. このプリントは、しながわ・目黒こどもスクールのウェブサイトでダウンロードができます。無断複写・引用はご遠慮ください。  
 ※2. このプリントを活用したオンライン授業のスケジュールは、しながわ・目黒こどもスクールのウェブサイトでご確認ください。

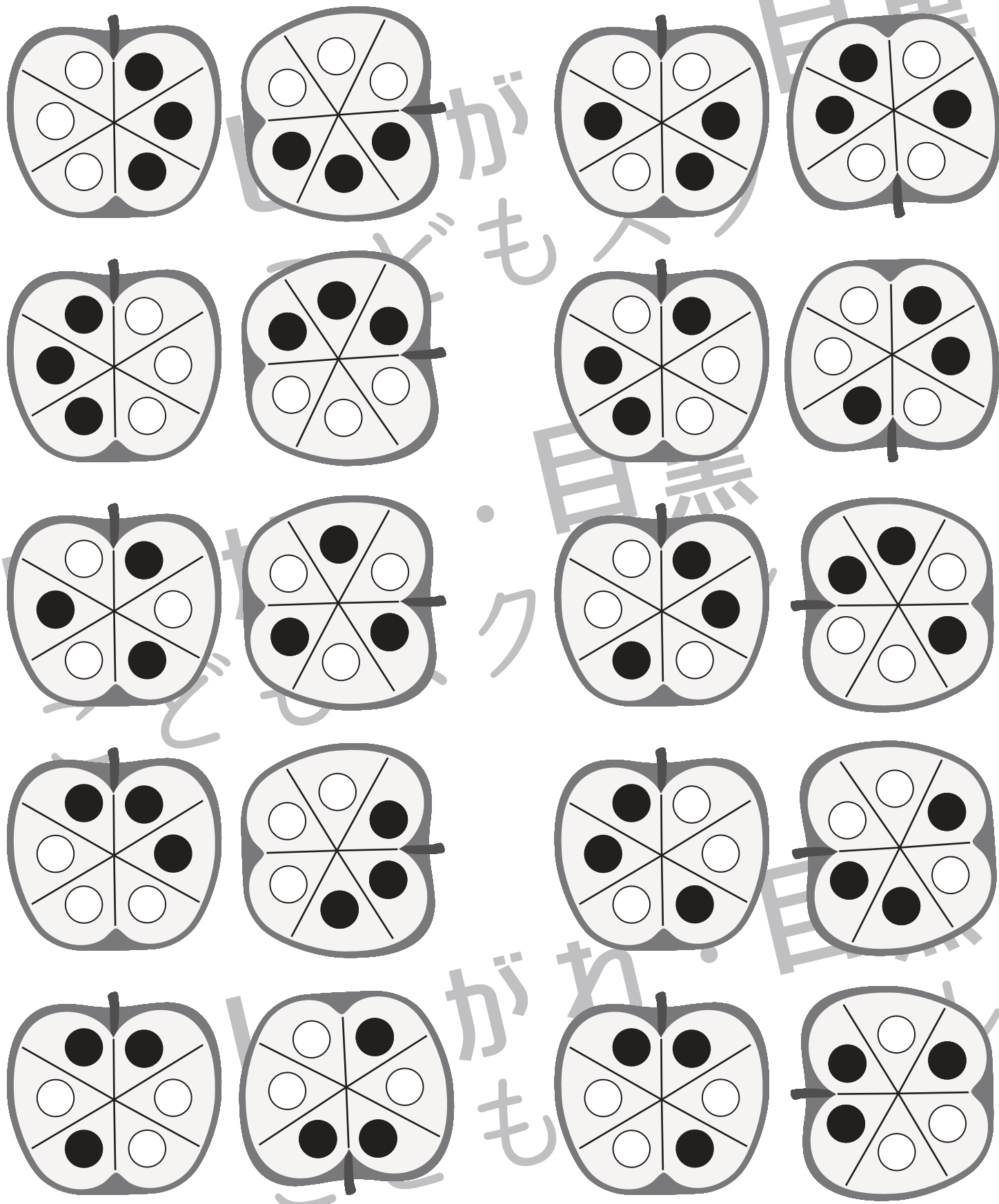


# おうちで、やろう。

Study at home. 小学校受験の家庭学習教材

図形：回転 54

左のりんごを右の向きに回したときの見え方を考えて、○を塗ります。



※1. このプリントは、しながわ・目黒こどもスクールのウェブサイトからダウンロードできます。無断複写・引用はご遠慮ください。  
 ※2. このプリントを活用したオンライン授業のスケジュールは、しながわ・目黒こどもスクールのウェブサイトでご確認ください。

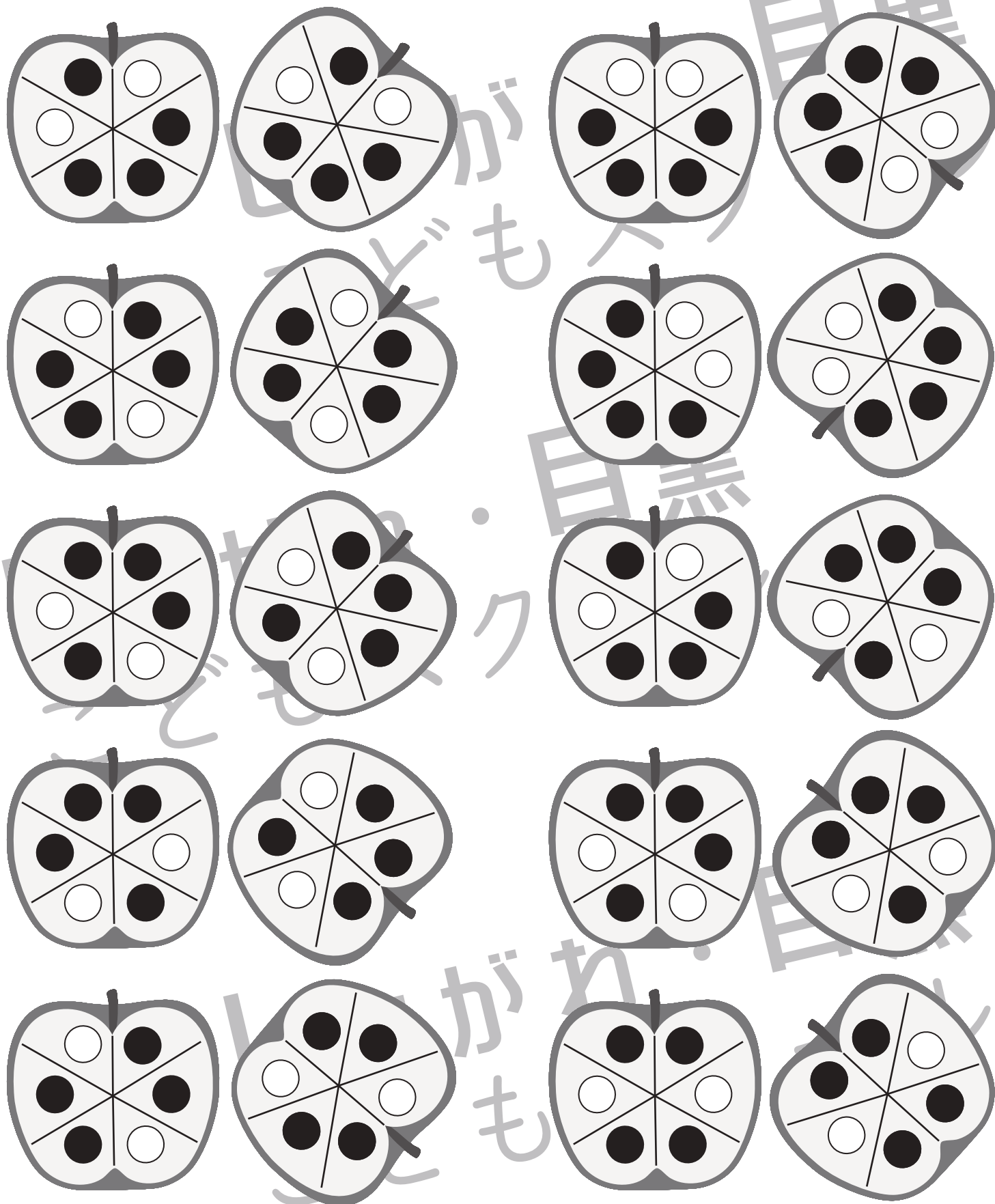


# おうちで、やろう。

Study at home. 小学校受験の家庭学習教材

図形：回転 55

左のりんごを右の向きに回したときの見え方を考えて、○を塗ります。



※1. このプリントは、しながわ・目黒こどもスクールのウェブサイトでダウンロードができます。無断複写・引用はご遠慮ください。  
 ※2. このプリントを活用したオンライン授業のスケジュールは、しながわ・目黒こどもスクールのウェブサイトでご確認ください。

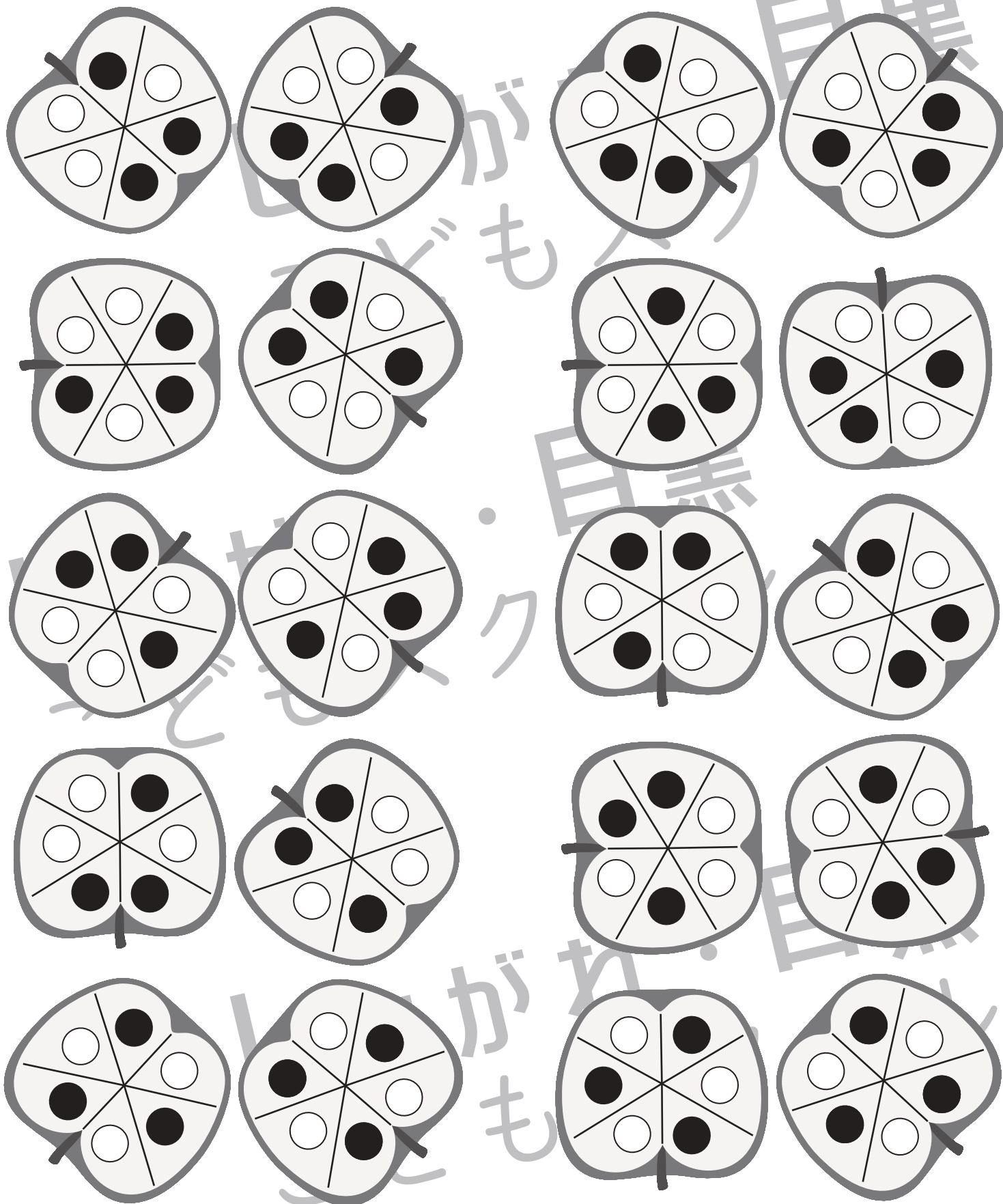


# おうちで、やろう。

Study at home. 小学校受験の家庭学習教材

図形：回転 56

左のりんごを右の向きに回したときの見え方を考えて、○を塗ります。



※1. このプリントは、しながわ・目黒こどもスクールのウェブサイトでダウンロードができます。無断複写・引用はご遠慮ください。  
※2. このプリントを活用したオンライン授業のスケジュールは、しながわ・目黒こどもスクールのウェブサイトでご確認ください。



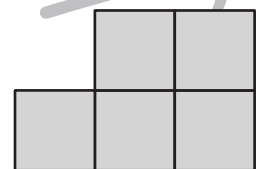
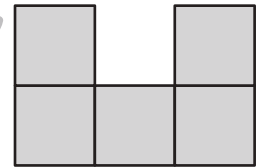
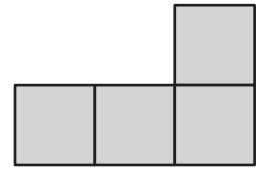
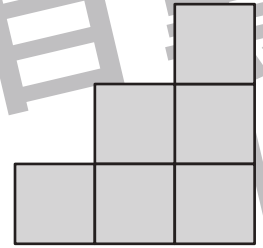
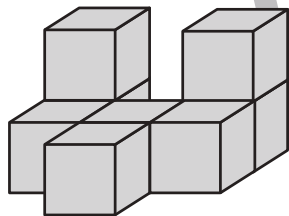

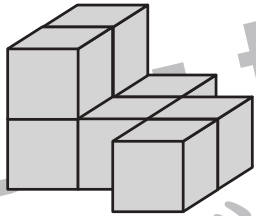
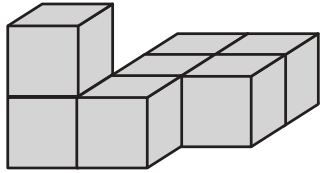
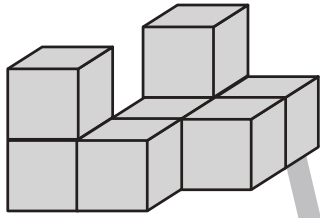


# おうちで、やろう。

Study at home. 小学校受験の家庭学習教材

## 推理：四方観察 12

左の積み木を右側から見た時の見え方で正しいものを右の中から見つけて点と点を線で結びます。



※1. このプリントは、しながわ・目黒こどもスクールのウェブサイトでダウンロードができます。無断複写・引用はご遠慮ください。  
※2. このプリントを活用したオンライン授業のスケジュールは、しながわ・目黒こどもスクールのウェブサイトでご確認ください。




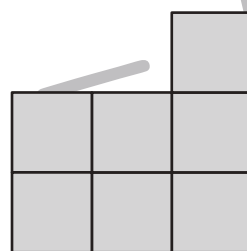
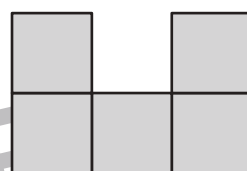
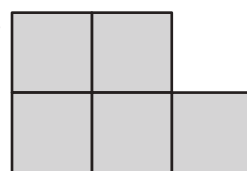
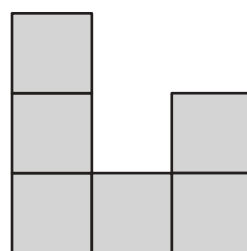
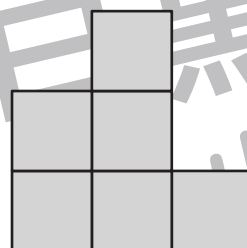
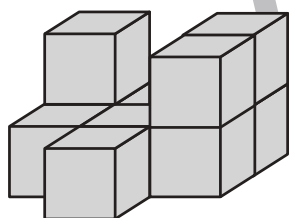


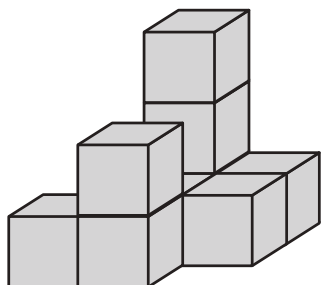
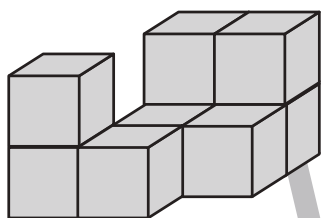


# おうちで、やろう。

Study at home. 小学校受験の家庭学習教材

## 推理：四方観察 13

左の積み木を左側から見た時の見え方で正しいものを右の中から見つけて点と点を線で結びます。



※1. このプリントは、しながわ・目黒こどもスクールのウェブサイトでダウンロードができます。無断複写・引用はご遠慮ください。  
※2. このプリントを活用したオンライン授業のスケジュールは、しながわ・目黒こどもスクールのウェブサイトでご確認ください。






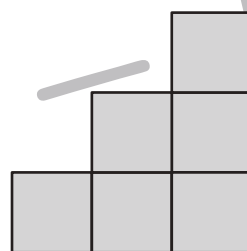
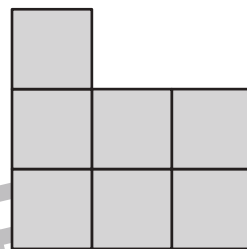
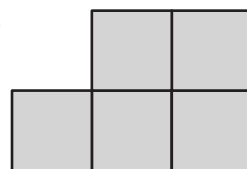
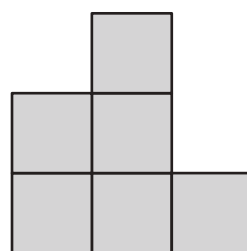

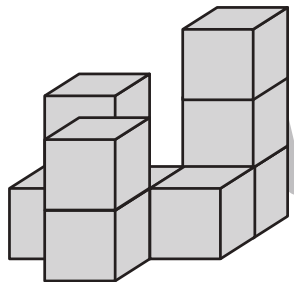
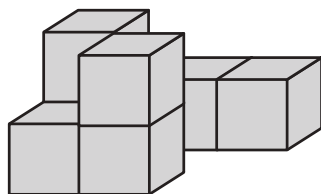
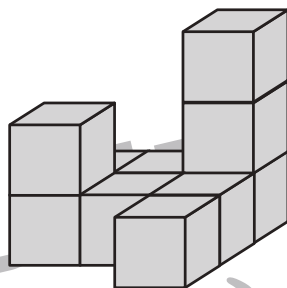
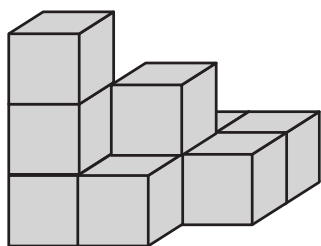
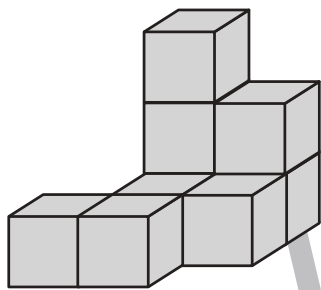


# おうちで、よろう。

Study at home. 小学校受験の家庭学習教材

## 推理：四方観察 14

左の積み木を後ろ側から見た時の見え方で正しいものを右の中から見つけて点と点を線で結びます。



※1. このプリントは、しながわ・目黒こどもスクールのウェブサイトでダウンロードができます。無断複写・引用はご遠慮ください。  
※2. このプリントを活用したオンライン授業のスケジュールは、しながわ・目黒こどもスクールのウェブサイトでご確認ください。





# おうちで、やろう。

Study at home. 小学校受験の家庭学習教材

推理：条件推理 38

サルとウサギがじゃんけんをして勝った方が上の太い四角の中の約束通りに階段を上ることができます。じゃんけんでは勝ったときだけ、上の約束の手の右にある○の数だけ階段を上ります。2匹がじゃんけんをした様子は階段の上の四角の中にあります。左から順番に見ていったとき、高いところにいる動物に○をつけます。印はじゃんけんの手の場所の太い四角の中の動物につけます。

○ ○	○	○ ○ ○
-----	---	-------





※1. このプリントは、しながわ・目黒こどもスクールのウェブサイトでダウンロードができます。無断複写・引用はご遠慮ください。  
 ※2. このプリントを活用したオンライン授業のスケジュールは、しながわ・目黒こどもスクールのウェブサイトでご確認ください。





# おうちで、やろう。

Study at home. 小学校受験の家庭学習教材

## 推理：条件推理 39

サルとウサギがじゃんけんをして勝った方が上の太い四角の中の約束通りに階段を上ることができます。じゃんけんが勝ったときだけ、上の約束の手の右にある○の数だけ階段を上ります。2匹がじゃんけんをした様子は階段の上の四角の中にあります。左から順番に見ていったとき、高いところにいる動物に○をつけます。印はじゃんけんの手の場所の太い四角の中の動物につけます。

○ ○ ○	○ ○	○
-------	-----	---





※1. このプリントは、しながわ・目黒こどもスクールのウェブサイトからダウンロードできます。無断複写・引用はご遠慮ください。

※2. このプリントを活用したオンライン授業のスケジュールは、しながわ・目黒こどもスクールのウェブサイトでご確認ください。