




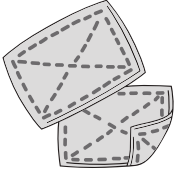




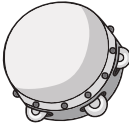
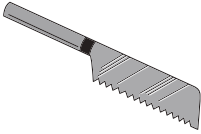









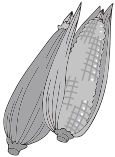
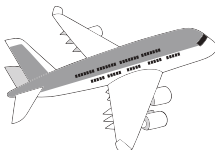



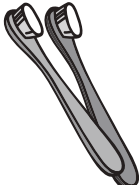


# おうちで、やろう。

Study at home. 小学校受験の家庭学習教材

## 言語：音の理解 36

絵の下の○は音の数を表しています。

左の四角の中の絵の黒くなっている音と同じ音が入っている物の絵に○をつけましょう。

 ○ ● ○ ●	   
 ○ ○ ●	   
 ○ ○ ● ○	   
 ○ ● ○	   
 ○ ○ ● ○	   

※1. このプリントは、しながわ・目黒こどもスクールのウェブサイトでダウンロードができます。無断複写・引用はご遠慮ください。

※2. このプリントを活用したオンライン授業のスケジュールは、しながわ・目黒こどもスクールのウェブサイトでご確認ください。









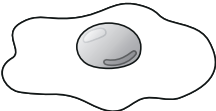

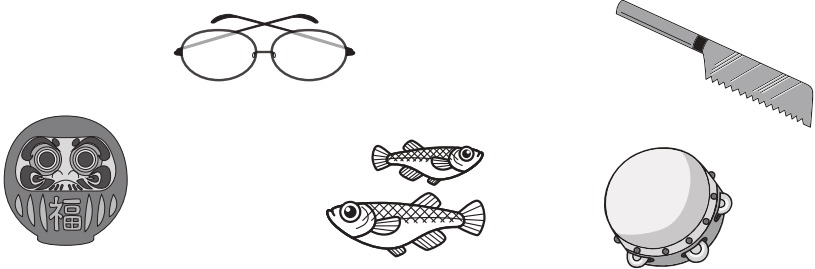
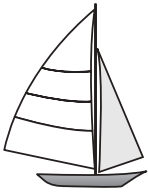





# おうちで、やろう。

Study at home. 小学校受験の家庭学習教材

## 言語：音の理解 37

絵の下の○は音の数を表しています。

左の四角の中の絵の黒くなっている音と同じ音が入っている物の絵に○をつけましょう。

※1. このプリントは、しながわ・目黒こどもスクールのウェブサイトでダウンロードができます。無断複写・引用はご遠慮ください。

※2. このプリントを活用したオンライン授業のスケジュールは、しながわ・目黒こどもスクールのウェブサイトでご確認ください。



# おうちで、やろう。

Study at home. 小学校受験の家庭学習教材

## 常識：季節 19

星の書いてある四角から春、夏、秋、冬の順番に三角が描かれているマスまで線を引いて進みましょう。  
縦と横に進むことはできますが、斜めは進めません。



※1. このプリントは、しながわ・目黒こどもスクールのウェブサイトでダウンロードができます。無断複写・引用はご遠慮ください。  
 ※2. このプリントを活用したオンライン授業のスケジュールは、しながわ・目黒こどもスクールのウェブサイトでご確認ください。




# おうちで、やろう。

Study at home. 小学校受験の家庭学習教材

## 常識：季節20

星の書いてある四角から春、夏、秋、冬の順番に三角が描かれているマスまで線を引いて進みましょう。  
縦と横に進むことはできますが、斜めは進めません。



※1. このプリントは、しながわ・目黒こどもスクールのウェブサイトでダウンロードができます。無断複写・引用はご遠慮ください。  
 ※2. このプリントを活用したオンライン授業のスケジュールは、しながわ・目黒こどもスクールのウェブサイトでご確認ください。



# おうちで、やろう。

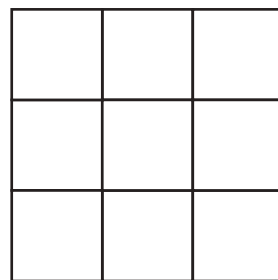
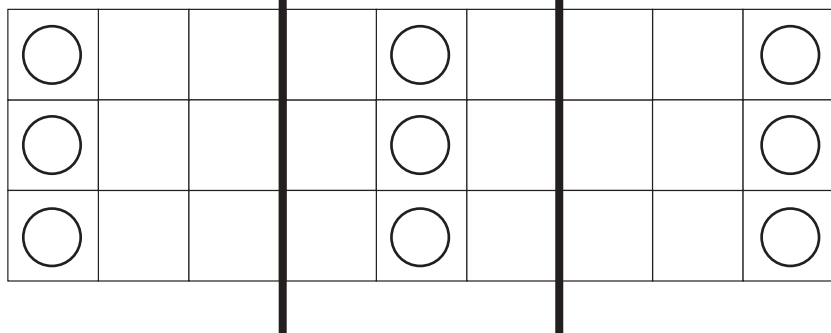
Study at home. 小学校受験の家庭学習教材

## 図形：折り重ね 35

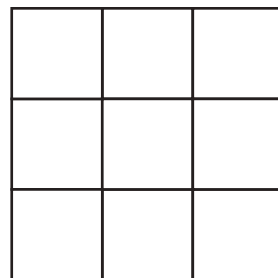
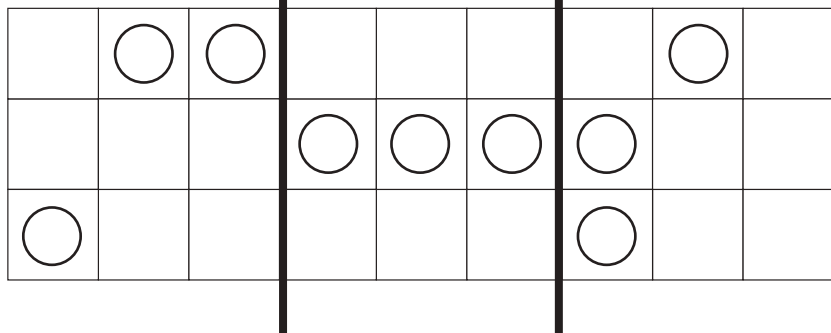
透明な四角の中に丸があります。

太い線のところで真ん中に向かって折り重ねた時の見え方を考えて、右の四角にかきます。

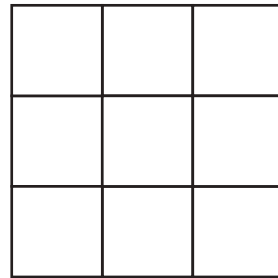
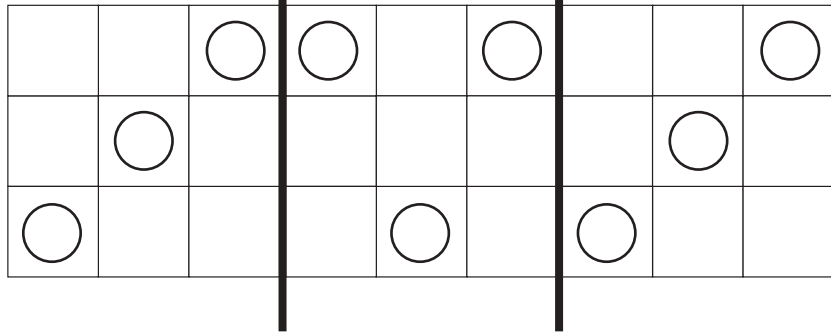
①



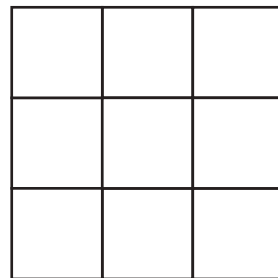
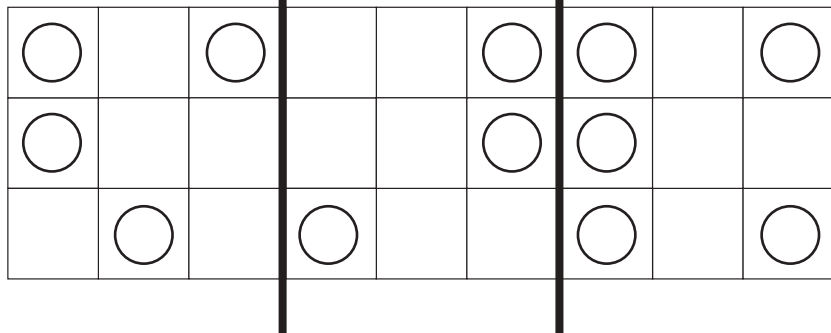
②



③



④



※1. このプリントは、しながわ・目黒こどもスクールのウェブサイトでダウンロードができます。無断複写・引用はご遠慮ください。

※2. このプリントを活用したオンライン授業のスケジュールは、しながわ・目黒こどもスクールのウェブサイトでご確認ください。



# おうちで、やろう。

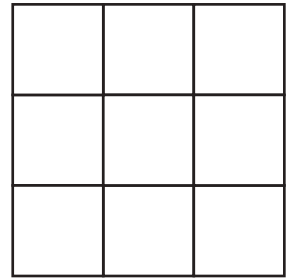
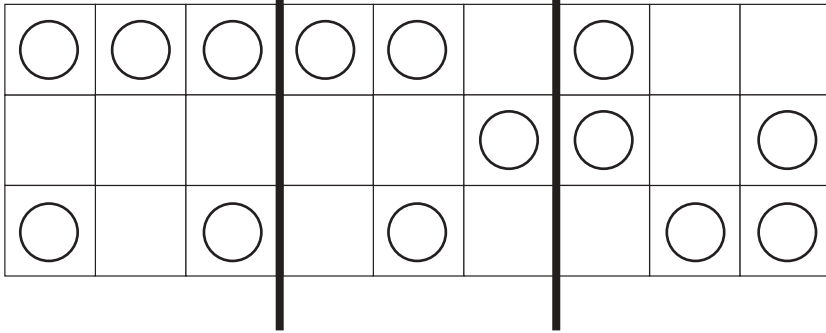
Study at home. 小学校受験の家庭学習教材

## 図形：折り重ね 36

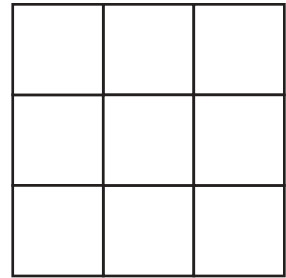
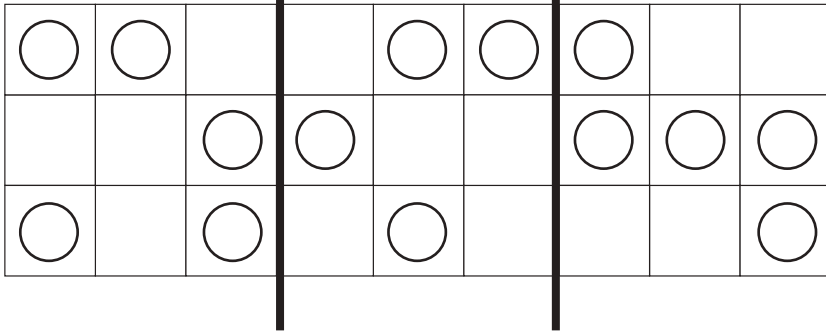
透明な四角の中に丸があります。

太い線のところで真ん中に向かって折り重ねた時の見え方を考えて、右の四角にかきます。

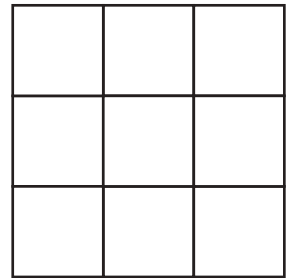
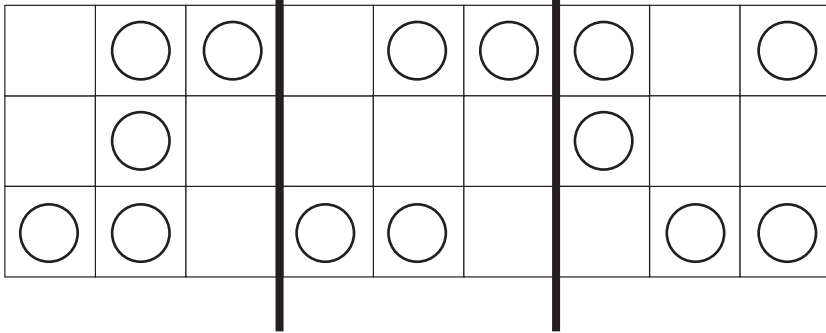
①



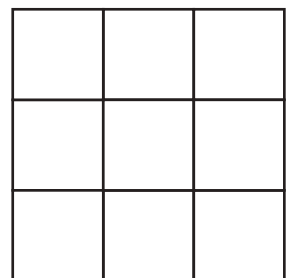
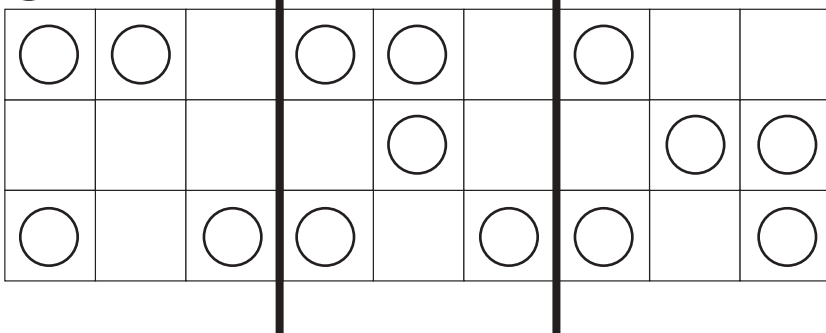
②



③



④



※1. このプリントは、しながわ・目黒こどもスクールのウェブサイトでダウンロードができます。無断複写・引用はご遠慮ください。

※2. このプリントを活用したオンライン授業のスケジュールは、しながわ・目黒こどもスクールのウェブサイトでご確認ください。



# おうちで、やろう。

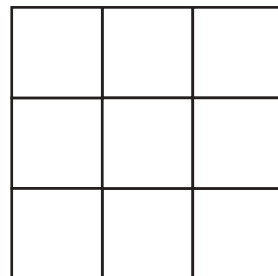
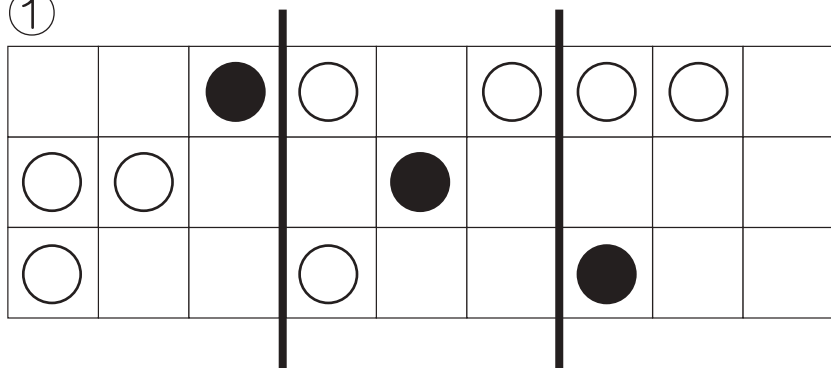
Study at home. 小学校受験の家庭学習教材

## 図形：折り重ね 37

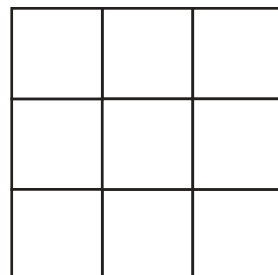
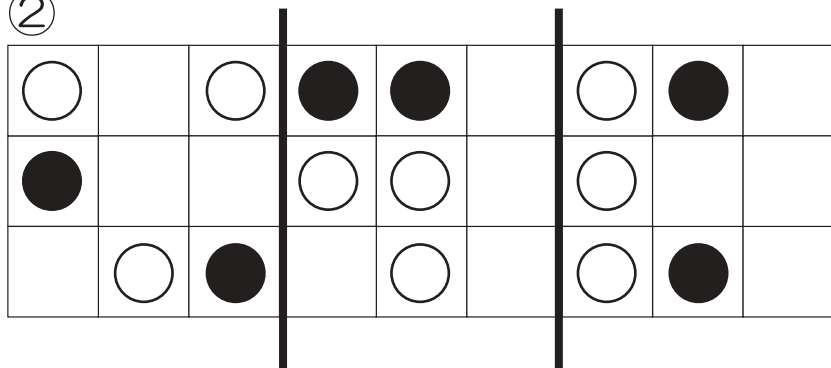
透明な四角の中に丸があります。

太い線のところで真ん中に向かって折り重ねた時の見え方を考えて、右の四角にかきます。

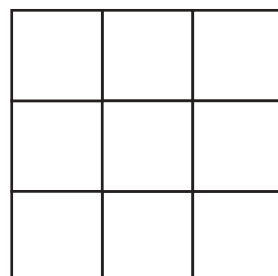
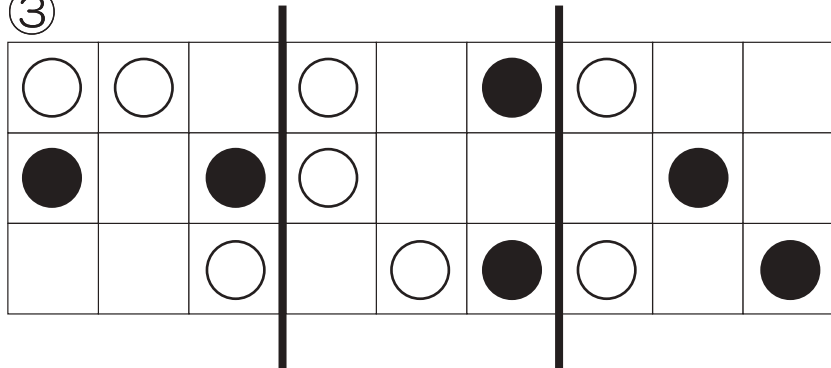
①



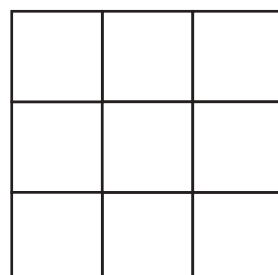
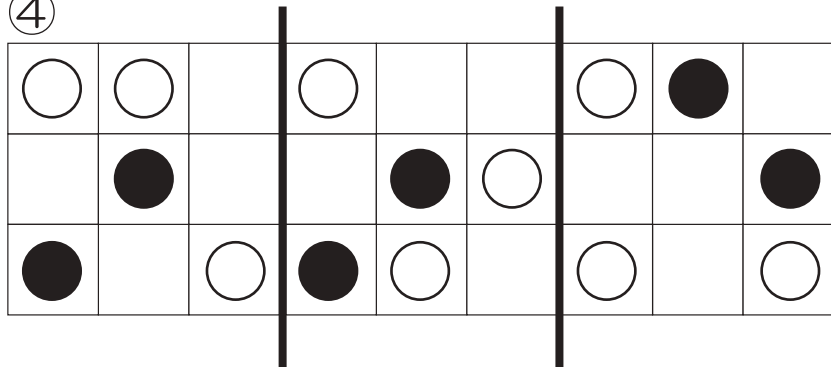
②



③



④



※1. このプリントは、しながわ・目黒こどもスクールのウェブサイトでダウンロードができます。無断複写・引用はご遠慮ください。

※2. このプリントを活用したオンライン授業のスケジュールは、しながわ・目黒こどもスクールのウェブサイトでご確認ください。



# おうちで、やろう。

Study at home. 小学校受験の家庭学習教材

数量：同数 14

上の果物の数をかぞえます。

それぞれの果物の数と星の数が同じ四角をみつけて、それぞれの果物の四角の左上にある記号をつけます。

○		×	
△		□	


※1. このプリントは、しながわ・目黒こどもスクールのウェブサイトでダウンロードができます。無断複写・引用はご遠慮ください。

※2. このプリントを活用したオンライン授業のスケジュールは、しながわ・目黒こどもスクールのウェブサイトでご確認ください。





# おうちで、やろう。

Study at home. 小学校受験の家庭学習教材

数量：同数 15

上のクッキーの数をかぞえます。

それぞれのクッキーの数と星の数が同じ四角をみつけて、それぞれのクッキーの四角の左上にある記号をつけます。



※1. このプリントは、しながわ・目黒こどもスクールのウェブサイトでダウンロードができます。無断複写・引用はご遠慮ください。

※2. このプリントを活用したオンライン授業のスケジュールは、しながわ・目黒こどもスクールのウェブサイトでご確認ください。


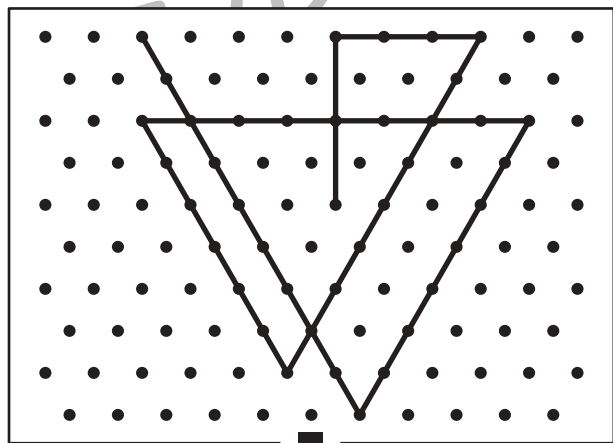

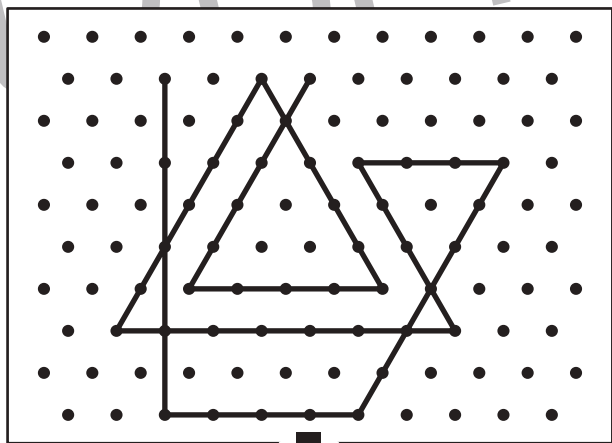

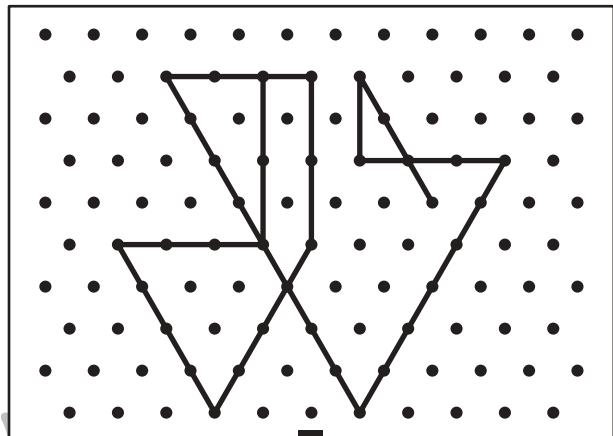

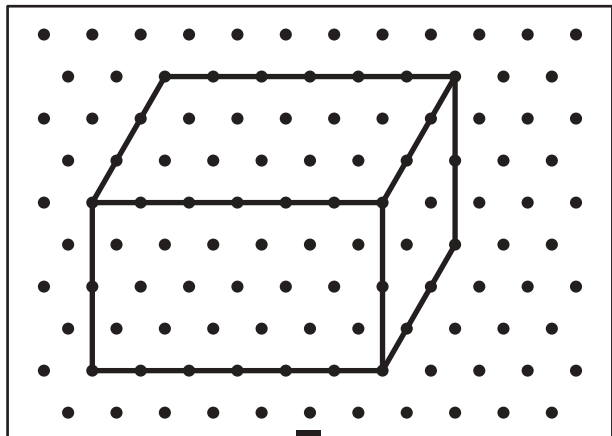


# おうちで、よろう。

Study at home. 小学校受験の家庭学習教材

## 図形：点図形 44

上のお手本と同じになるように下の四角の点と点を結びます。※このプリントに解答はありません。



※1. このプリントは、しながわ・目黒こどもスクールのウェブサイトからダウンロードできます。無断複写・引用はご遠慮ください。

※2. このプリントを活用したオンライン授業のスケジュールは、しながわ・目黒こどもスクールのウェブサイトでご確認ください。

