



おうちで、やろう。



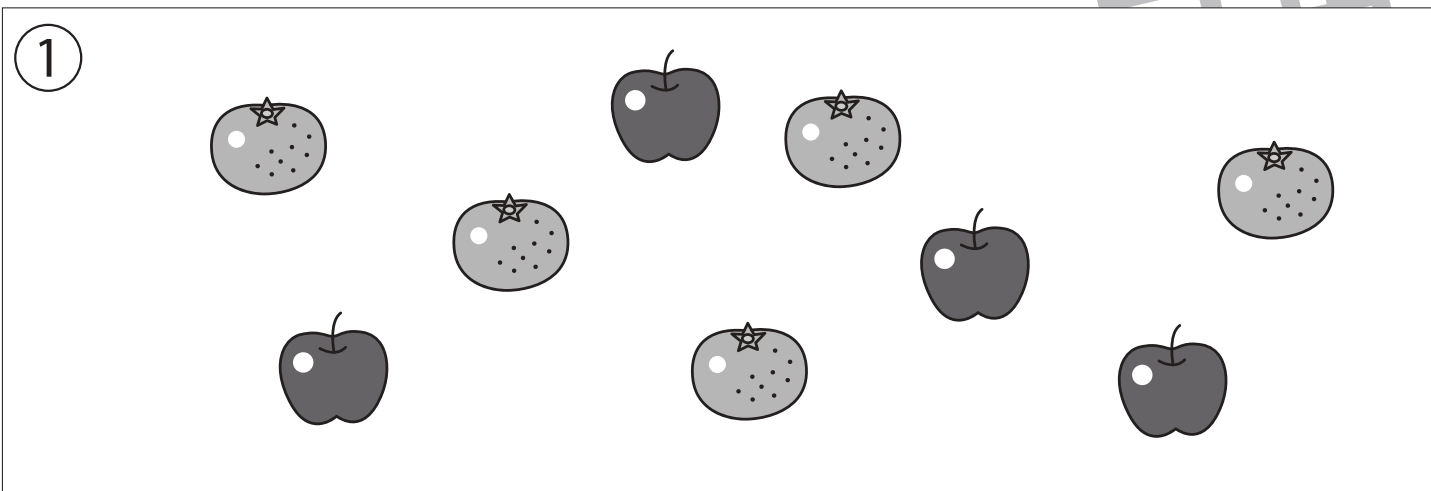
Study at home. 小学校受験の家庭学習教材

記憶：絵の記憶 11 記憶用紙

別紙『記憶 - 絵の記憶 11』を行う際に使用します。記憶用紙は点線で折って(切って)、①、②、③の問題の際にそれぞれ 20 秒間ずつ記憶させてください。記憶する際は問題用紙は裏返しにします。記憶後①、②、③それぞれの問題に答えましょう。

①ミカンの数だけ○をかきます。 ②バナナの数だけ○をかきます。 ③ピーマンの数だけ○をかきます。

※2023年8月18日(金)のオンライン授業では実施中に記憶するものを画面で表示します。



※1. このプリントは、しながわ・目黒こどもスクールのウェブサイトダウンロードができます。無断複写・引用はご遠慮ください。

※2. このプリントを活用したオンライン授業のスケジュールは、しながわ・目黒こどもスクールのウェブサイトでご確認ください。



おうちで、やろう。

Study at home. 小学校受験の家庭学習教材

記憶：絵の記憶 11

別紙『記憶 - 絵の記憶 11 記憶用紙』を使用します。記憶用紙の形を見た後に①、②、③の問題に取り組みましょう。

- ①ミカンの数だけ○をかきます。
- ②バナナの数だけ○をかきます。
- ③ピーマンの数だけ○をかきます。

①

②

③

※1. このプリントは、しながわ・目黒こどもスクールのウェブサイトダウンロードができます。無断複写・引用はご遠慮ください。

※2. このプリントを活用したオンライン授業のスケジュールは、しながわ・目黒こどもスクールのウェブサイトでご確認ください。

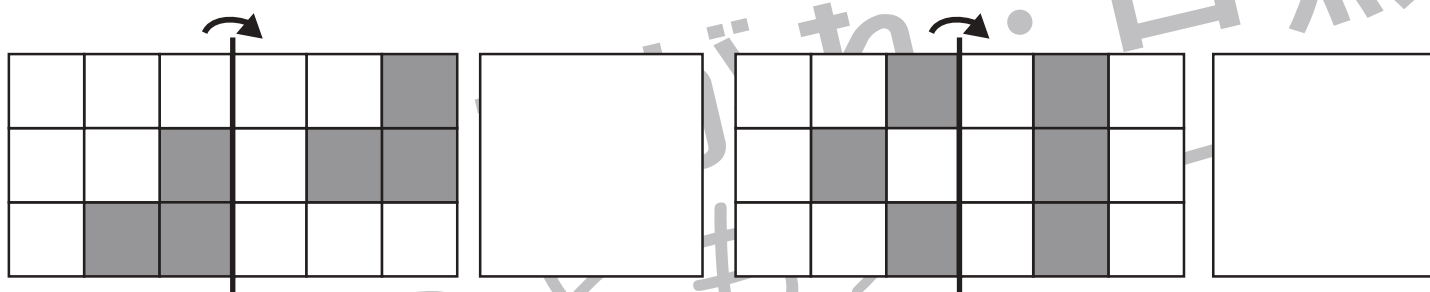
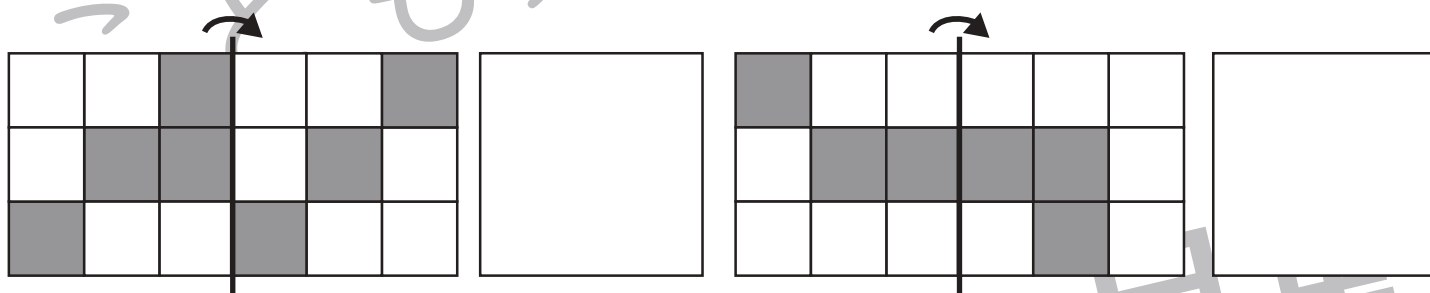
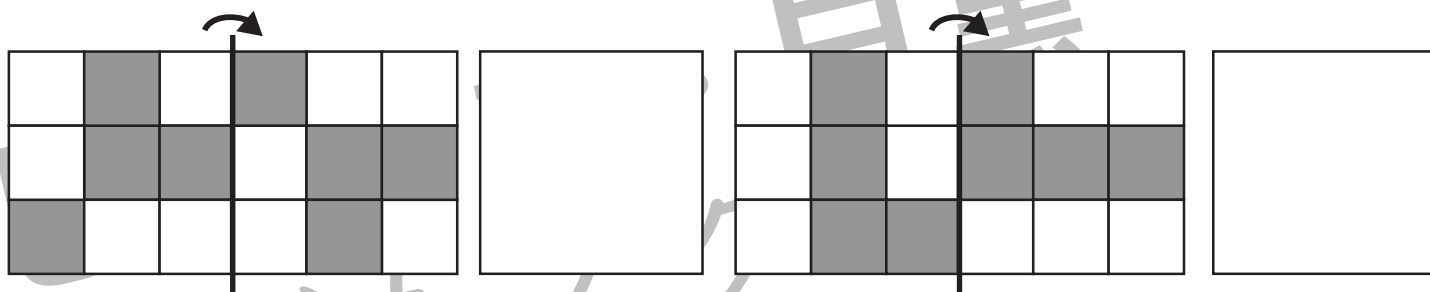
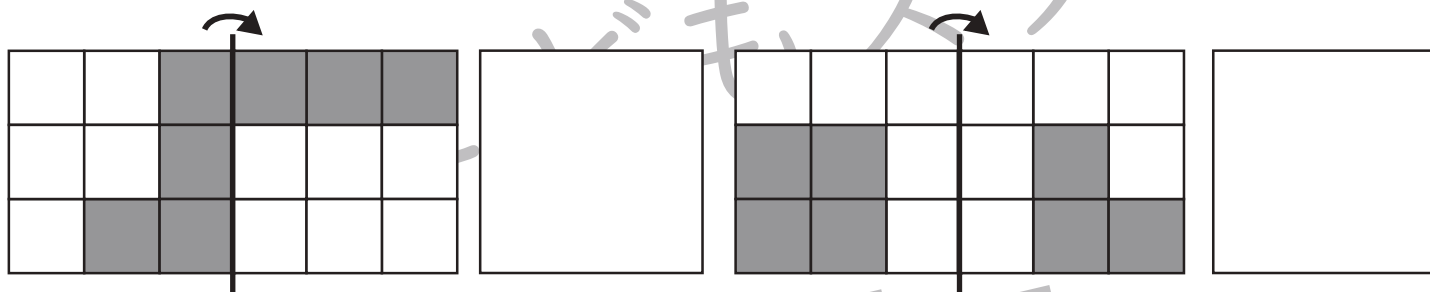
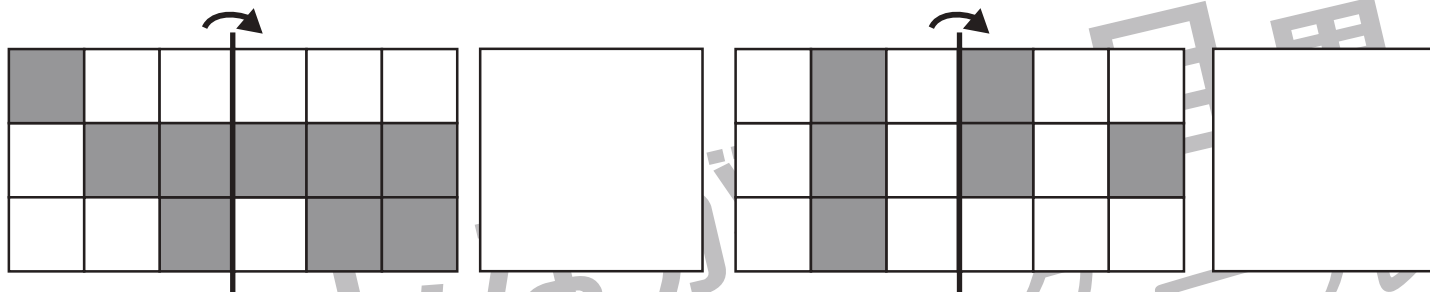


おうちで、やろう。

Study at home. 小学校受験の家庭学習教材

図形：折り重ね 38

左のマスは透明です。このマス我真ん中の太い線で矢印の方向へ折り重ねます。このとき、黒くならないマスはいくつありますか。その数だけ右の四角に○をかきます。



※1. このプリントは、しながわ・目黒こどもスクールのウェブサイトでダウンロードができます。無断複写・引用はご遠慮ください。
 ※2. このプリントを活用したオンライン授業のスケジュールは、しながわ・目黒こどもスクールのウェブサイトでご確認ください。

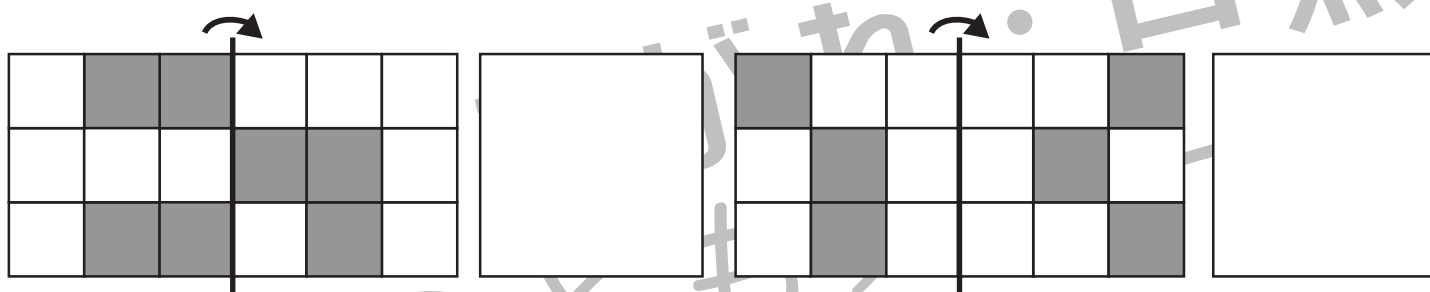
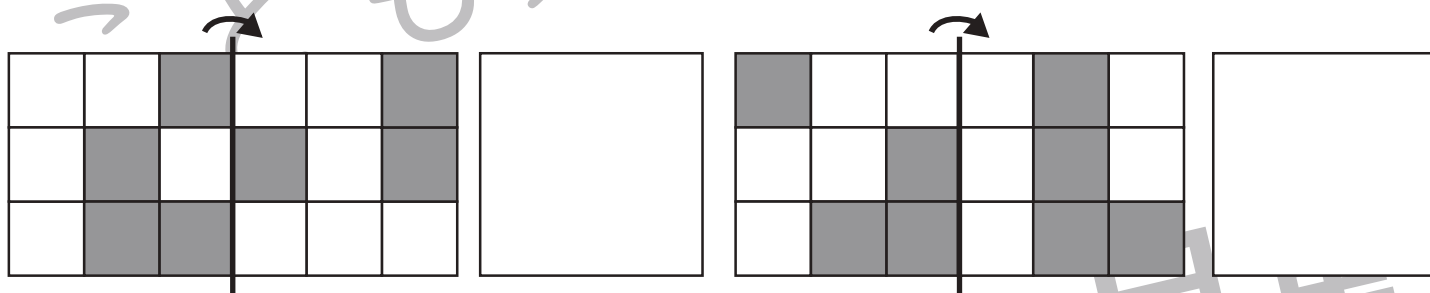
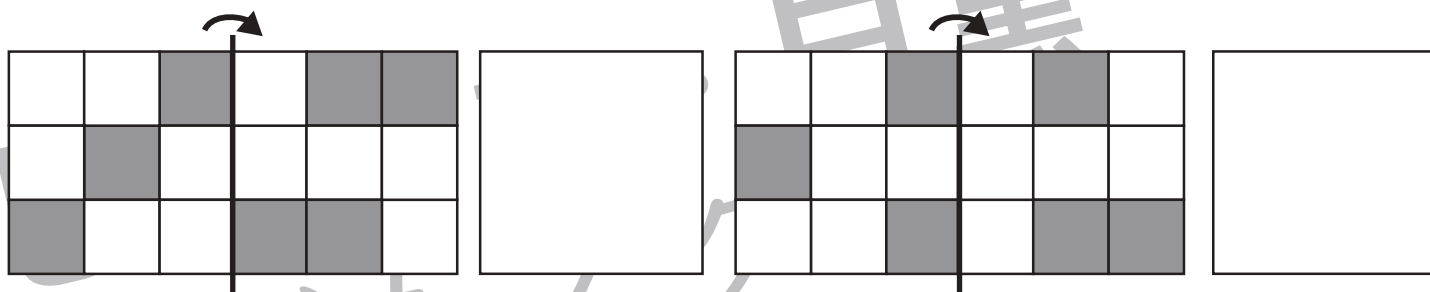
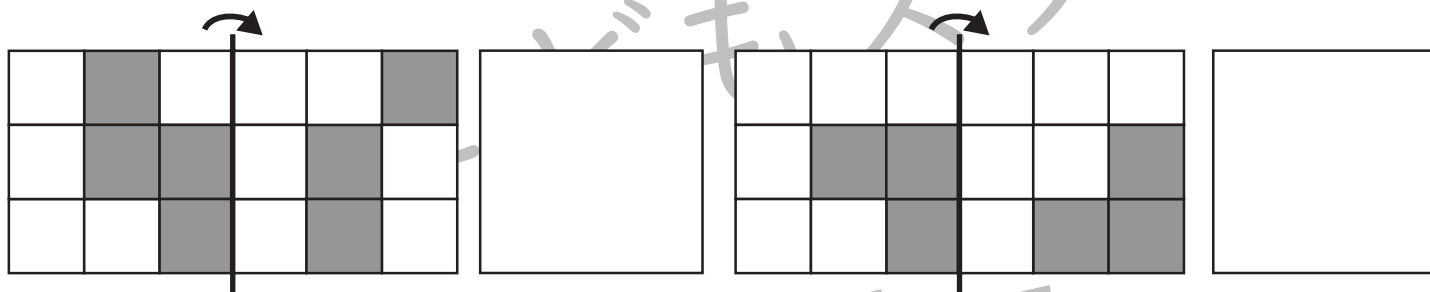
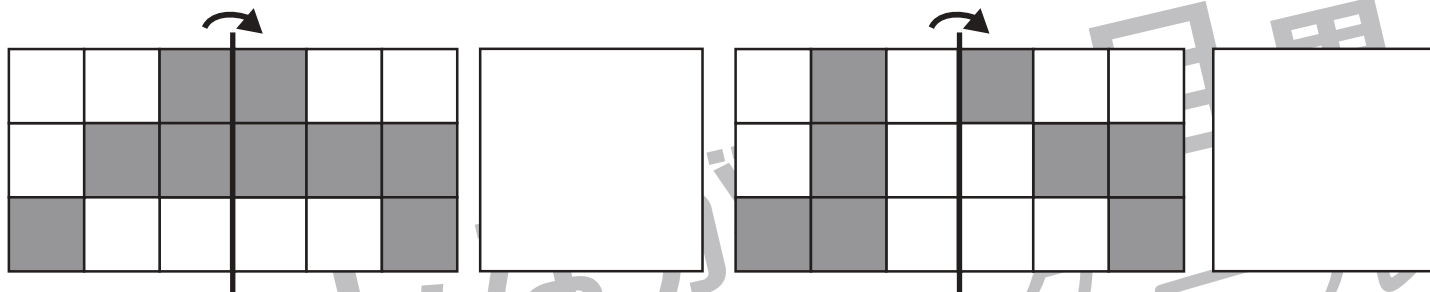


おうちで、やろう。

Study at home. 小学校受験の家庭学習教材

図形：折り重ね 39

左のマスは透明です。このマス我真ん中の太い線で矢印の方向へ折り重ねます。このとき、黒くならないマスはいくつありますか。その数だけ右の四角に○をかきます。



※1. このプリントは、しながわ・目黒こどもスクールのウェブサイトでダウンロードができます。無断複写・引用はご遠慮ください。
 ※2. このプリントを活用したオンライン授業のスケジュールは、しながわ・目黒こどもスクールのウェブサイトでご確認ください。



おうちで、やろう。

Study at home. 小学校受験の家庭学習教材

図形：折り重ね 40

左のマスは透明です。このマス我真ん中の太い線で矢印の方向へ折り重ねます。このとき、黒くならないマスはいくつありますか。その数だけ右の四角に○をかきます。

※1. このプリントは、しながわ・目黒こどもスクールのウェブサイトでダウンロードができます。無断複写・引用はご遠慮ください。

※2. このプリントを活用したオンライン授業のスケジュールは、しながわ・目黒こどもスクールのウェブサイトでご確認ください。



おうちで、やろう。

Study at home. 小学校受験の家庭学習教材

推理：じゃんけん 16

ウサギとブタでじゃんけんゲームをします。じゃんけんの手は左がウサギで、右がブタです。じゃんけんに勝つと相手から1つ食べ物をもらえます。二回じゃんけんした後、ブタが持っている食べ物の数だけ下の四角に○をかきます。

※1. このプリントは、しながわ・目黒こどもスクールのウェブサイトでダウンロードができます。無断複写・引用はご遠慮ください。

※2. このプリントを活用したオンライン授業のスケジュールは、しながわ・目黒こどもスクールのウェブサイトでご確認ください。



おうちで、やろう。

Study at home. 小学校受験の家庭学習教材

推理：じゃんけん 17

ウサギとブタでじゃんけんゲームをします。じゃんけんの手は左がウサギで、右がブタです。じゃんけんに勝つと相手から2つ食べ物をもらえます。二回じゃんけんした後、ウサギが持っている食べ物の数だけ下の四角に〇をかきます。

※1. このプリントは、しながわ・目黒こどもスクールのウェブサイトからダウンロードできます。無断複写・引用はご遠慮ください。

※2. このプリントを活用したオンライン授業のスケジュールは、しながわ・目黒こどもスクールのウェブサイトでご確認ください。



おうちで、やろう。

Study at home. 小学校受験の家庭学習教材

推理：じゃんけん 18

ウサギとブタでじゃんけんゲームをします。じゃんけんの手は左がウサギで、右がブタです。じゃんけんに勝つと相手から2つ食べ物をもらえます。二回じゃんけんした後、数が少ない方はどちらですか。少ない方が持っている食べ物の数だけ下の四角に○をかきます。

※1. このプリントは、しながわ・目黒こどもスクールのウェブサイトでダウンロードができます。無断複写・引用はご遠慮ください。

※2. このプリントを活用したオンライン授業のスケジュールは、しながわ・目黒こどもスクールのウェブサイトでご確認ください。



おうちで、やろう。

Study at home. 小学校受験の家庭学習教材

数量：加減 37

別紙「数量：加減 37・38（問題文）」を使用して①～④の問題に答えましょう。

①

②

③

④





おうちで、やろう。

Study at home. 小学校受験の家庭学習教材

数量：加減 38

別紙「数量：加減 37・38（問題文）」を使用して①～④の問題に答えましょう。

①

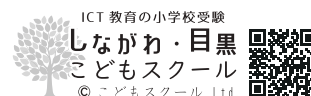
②

③

④

※1. このプリントは、しながわ・目黒こどもスクールのウェブサイトでダウンロードができます。無断複写・引用はご遠慮ください。

※2. このプリントを活用したオンライン授業のスケジュールは、しながわ・目黒こどもスクールのウェブサイトでご確認ください。




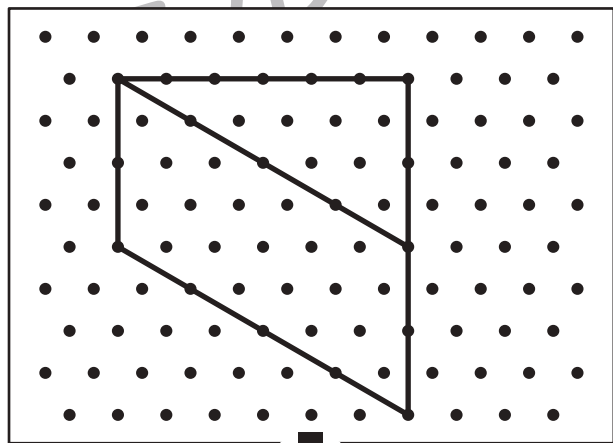

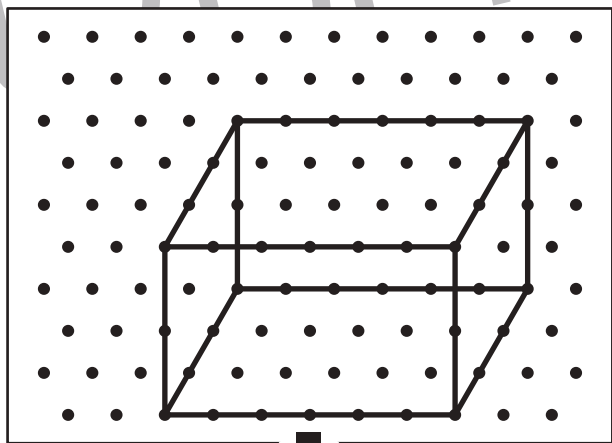

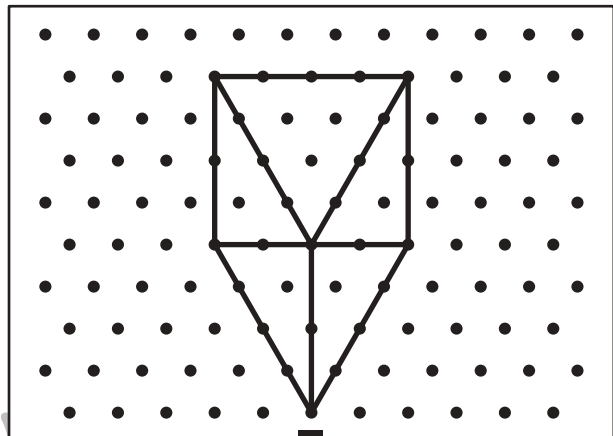

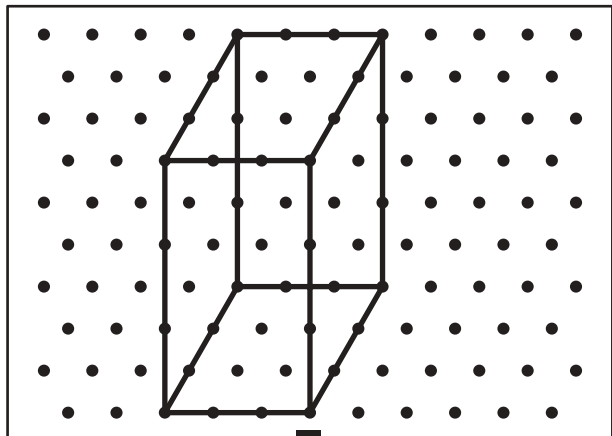


おうちで、やろう。

Study at home. 小学校受験の家庭学習教材

図形：点図形 46

上のお手本と同じになるように下の四角の点と点を結びます。※このプリントに解答はありません。



※1. このプリントは、しながわ・目黒こどもスクールのウェブサイトでダウンロードができます。無断複写・引用はご遠慮ください。

※2. このプリントを活用したオンライン授業のスケジュールは、しながわ・目黒こどもスクールのウェブサイトでご確認ください。

