



# おうちで、やろう。

Study at home. 小学校受験の家庭学習教材

図形：回転57

左のお手本を矢印の方向へ1回倒した時の見え方を考えて右の四角の黒丸の場所を塗ります。

Figure 57: A 3x3 grid rotation puzzle. Each problem consists of a 3x3 grid on the left and a 3x3 grid on the right. An arrow indicates a 90-degree clockwise rotation. The goal is to identify the positions of black circles in the right grid based on the left grid after rotation.

●	●	●
○	○	○
○	○	●

○	○	●
○	○	●
●	○	●

●	○	○
○	●	●
○	○	●

○	○	○
○	○	○
○	○	○

○	○	○
○	○	○
○	○	○

○	○	○
○	○	○
○	○	○

○	○	○
○	○	○
○	○	○

○	○	○
○	○	○
○	○	○

○	○	○
○	○	○
○	○	○

○	○	○
○	○	○
○	○	○

○	○	○
○	○	○
○	○	○

○	○	○
○	○	○
○	○	○

○	○	○
○	○	○
○	○	○

○	○	○
○	○	○
○	○	○

○	○	○
○	○	○
○	○	○

○	○	○
○	○	○
○	○	○

○	○	○
○	○	○
○	○	○

○	○	○
○	○	○
○	○	○

※1. このプリントは、しながわ・目黒こどもスクールのウェブサイトからダウンロードできます。無断複写・引用はご遠慮ください。  
 ※2. このプリントを活用したオンライン授業のスケジュールは、しながわ・目黒こどもスクールのウェブサイトでご確認ください。



# おうちで、やろう。

Study at home. 小学校受験の家庭学習教材

## 図形：回転 58

左のお手本を矢印の方向へ 1 回倒した時の見え方を考えて右の四角の黒丸の場所を塗ります。

This section contains ten 3x3 grid puzzles. Each puzzle consists of a 'sample' grid on the left and a 'target' grid on the right, connected by a curved arrow. The sample grid is rotated 90 degrees clockwise to create the target grid. The goal is to identify the positions of black circles in the target grid by applying the rotation to the sample grid.

	→	
	→	
	→	
	→	
	→	
	→	
	→	

※ 1. このプリントは、しながわ・目黒こどもスクールのウェブサイトでダウンロードができます。無断複写・引用はご遠慮ください。

※ 2. このプリントを活用したオンライン授業のスケジュールは、しながわ・目黒こどもスクールのウェブサイトでご確認ください。



# おうちで、よろう。

Study at home. 小学校受験の家庭学習教材

図形：回転 59

左のお手本を矢印の方向へ 1 回倒した時の見え方を考えて右の四角の黒丸の場所を塗ります。

A 5x2 grid of 3x3 dot patterns. Each cell contains a 3x3 grid of circles. A curved arrow points from the left grid to the right grid, indicating a 90-degree clockwise rotation. The right grid shows the result of the rotation, with some circles shaded gray to indicate the new positions of the original black circles.

<table border="1"><tr><td>●</td><td>●</td><td>○</td></tr><tr><td>●</td><td>●</td><td>●</td></tr><tr><td>○</td><td>●</td><td>○</td></tr></table>	●	●	○	●	●	●	○	●	○	→	<table border="1"><tr><td>○</td><td>●</td><td>●</td></tr><tr><td>●</td><td>●</td><td>●</td></tr><tr><td>○</td><td>●</td><td>○</td></tr></table>	○	●	●	●	●	●	○	●	○
●	●	○																		
●	●	●																		
○	●	○																		
○	●	●																		
●	●	●																		
○	●	○																		
<table border="1"><tr><td>○</td><td>●</td><td>○</td></tr><tr><td>●</td><td>●</td><td>●</td></tr><tr><td>●</td><td>●</td><td>○</td></tr></table>	○	●	○	●	●	●	●	●	○	→	<table border="1"><tr><td>●</td><td>●</td><td>○</td></tr><tr><td>●</td><td>●</td><td>○</td></tr><tr><td>○</td><td>●</td><td>○</td></tr></table>	●	●	○	●	●	○	○	●	○
○	●	○																		
●	●	●																		
●	●	○																		
●	●	○																		
●	●	○																		
○	●	○																		
<table border="1"><tr><td>○</td><td>○</td><td>○</td></tr><tr><td>●</td><td>●</td><td>●</td></tr><tr><td>●</td><td>●</td><td>●</td></tr></table>	○	○	○	●	●	●	●	●	●	→	<table border="1"><tr><td>○</td><td>○</td><td>○</td></tr><tr><td>●</td><td>●</td><td>●</td></tr><tr><td>●</td><td>●</td><td>●</td></tr></table>	○	○	○	●	●	●	●	●	●
○	○	○																		
●	●	●																		
●	●	●																		
○	○	○																		
●	●	●																		
●	●	●																		
<table border="1"><tr><td>○</td><td>○</td><td>○</td></tr><tr><td>○</td><td>○</td><td>○</td></tr><tr><td>○</td><td>○</td><td>○</td></tr></table>	○	○	○	○	○	○	○	○	○	→	<table border="1"><tr><td>○</td><td>○</td><td>○</td></tr><tr><td>○</td><td>○</td><td>○</td></tr><tr><td>○</td><td>○</td><td>○</td></tr></table>	○	○	○	○	○	○	○	○	○
○	○	○																		
○	○	○																		
○	○	○																		
○	○	○																		
○	○	○																		
○	○	○																		
<table border="1"><tr><td>○</td><td>○</td><td>○</td></tr><tr><td>○</td><td>○</td><td>○</td></tr><tr><td>○</td><td>○</td><td>○</td></tr></table>	○	○	○	○	○	○	○	○	○	→	<table border="1"><tr><td>○</td><td>○</td><td>○</td></tr><tr><td>○</td><td>○</td><td>○</td></tr><tr><td>○</td><td>○</td><td>○</td></tr></table>	○	○	○	○	○	○	○	○	○
○	○	○																		
○	○	○																		
○	○	○																		
○	○	○																		
○	○	○																		
○	○	○																		
<table border="1"><tr><td>○</td><td>○</td><td>○</td></tr><tr><td>○</td><td>○</td><td>○</td></tr><tr><td>○</td><td>○</td><td>○</td></tr></table>	○	○	○	○	○	○	○	○	○	→	<table border="1"><tr><td>○</td><td>○</td><td>○</td></tr><tr><td>○</td><td>○</td><td>○</td></tr><tr><td>○</td><td>○</td><td>○</td></tr></table>	○	○	○	○	○	○	○	○	○
○	○	○																		
○	○	○																		
○	○	○																		
○	○	○																		
○	○	○																		
○	○	○																		
<table border="1"><tr><td>○</td><td>○</td><td>○</td></tr><tr><td>○</td><td>○</td><td>○</td></tr><tr><td>○</td><td>○</td><td>○</td></tr></table>	○	○	○	○	○	○	○	○	○	→	<table border="1"><tr><td>○</td><td>○</td><td>○</td></tr><tr><td>○</td><td>○</td><td>○</td></tr><tr><td>○</td><td>○</td><td>○</td></tr></table>	○	○	○	○	○	○	○	○	○
○	○	○																		
○	○	○																		
○	○	○																		
○	○	○																		
○	○	○																		
○	○	○																		

※1. このプリントは、しながわ・目黒こどもスクールのウェブサイトからダウンロードできます。無断複写・引用はご遠慮ください。  
※2. このプリントを活用したオンライン授業のスケジュールは、しながわ・目黒こどもスクールのウェブサイトでご確認ください。



# おうちで、やろう。

Study at home. 小学校受験の家庭学習教材

## 推理：四方観察 27

左の太い四角の中の積み木がお手本です。このお手本を男の子の方（右側）から見たときの見え方を考えます。男の子が見えている灰色の積み木の数だけ右の四角の丸を塗ります。

	<input type="radio"/>	<input type="radio"/>	<input type="radio"/>	<input type="radio"/>	<input type="radio"/>
	<input type="radio"/>	<input type="radio"/>	<input type="radio"/>	<input type="radio"/>	<input type="radio"/>
	<input type="radio"/>	<input type="radio"/>	<input type="radio"/>	<input type="radio"/>	<input type="radio"/>
	<input type="radio"/>	<input type="radio"/>	<input type="radio"/>	<input type="radio"/>	<input type="radio"/>
	<input type="radio"/>	<input type="radio"/>	<input type="radio"/>	<input type="radio"/>	<input type="radio"/>
	<input type="radio"/>	<input type="radio"/>	<input type="radio"/>	<input type="radio"/>	<input type="radio"/>

※1. このプリントは、しながわ・目黒こどもスクールのウェブサイトでダウンロードができます。無断複写・引用はご遠慮ください。

※2. このプリントを活用したオンライン授業のスケジュールは、しながわ・目黒こどもスクールのウェブサイトでご確認ください。



# おうちで、やろう。

Study at home. 小学校受験の家庭学習教材

## 推理：四方観察 28

左の太い四角の中の積み木がお手本です。このお手本を女の子の方（左側）から見たときの見え方を考えます。女の子が見えている灰色の積み木の数だけ右の四角の丸を塗ります。隠れて見えない積み木はすべて灰色です。

	● ○ ○ ○ ○ ○ ○ ○ ○ ○
	● ○ ○ ○ ○ ○ ○ ○ ○ ○
	● ○ ○ ○ ○ ○ ○ ○ ○ ○
	● ○ ○ ○ ○ ○ ○ ○ ○ ○
	● ○ ○ ○ ○ ○ ○ ○ ○ ○
	● ○ ○ ○ ○ ○ ○ ○ ○ ○

※1. このプリントは、しながわ・目黒こどもスクールのウェブサイトでダウンロードができます。無断複写・引用はご遠慮ください。

※2. このプリントを活用したオンライン授業のスケジュールは、しながわ・目黒こどもスクールのウェブサイトでご確認ください。




# おうちで、やろう。


Study at home. 小学校受験の家庭学習教材

## 推理：四方観察 29


左の太い四角の中の積み木がお手本です。このお手本を男の子が上からのぞいて（上から）見たときの見え方を考えます。男の子が見えている灰色の積み木の数だけ右の四角の丸を塗ります。




<input checked="" type="radio"/>	<input checked="" type="radio"/>	<input checked="" type="radio"/>	<input type="radio"/>	<input type="radio"/>
<input type="radio"/>	<input type="radio"/>	<input type="radio"/>	<input type="radio"/>	<input type="radio"/>




<input checked="" type="radio"/>	<input checked="" type="radio"/>	<input checked="" type="radio"/>	<input type="radio"/>	<input type="radio"/>
<input type="radio"/>	<input type="radio"/>	<input type="radio"/>	<input type="radio"/>	<input type="radio"/>



<input checked="" type="radio"/>	<input checked="" type="radio"/>	<input checked="" type="radio"/>	<input checked="" type="radio"/>	<input type="radio"/>
<input type="radio"/>	<input type="radio"/>	<input type="radio"/>	<input type="radio"/>	<input type="radio"/>



<input checked="" type="radio"/>	<input checked="" type="radio"/>	<input checked="" type="radio"/>	<input checked="" type="radio"/>	<input type="radio"/>
<input type="radio"/>	<input type="radio"/>	<input type="radio"/>	<input type="radio"/>	<input type="radio"/>



<input checked="" type="radio"/>	<input checked="" type="radio"/>	<input checked="" type="radio"/>	<input checked="" type="radio"/>	<input checked="" type="radio"/>
<input type="radio"/>	<input type="radio"/>	<input type="radio"/>	<input type="radio"/>	<input type="radio"/>

※1. このプリントは、しながわ・目黒こどもスクールのウェブサイトでダウンロードができます。無断複写・引用はご遠慮ください。

※2. このプリントを活用したオンライン授業のスケジュールは、しながわ・目黒こどもスクールのウェブサイトでご確認ください。



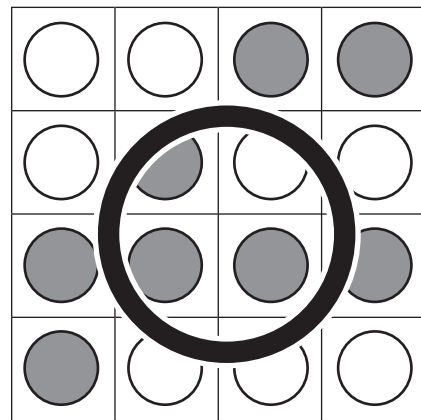
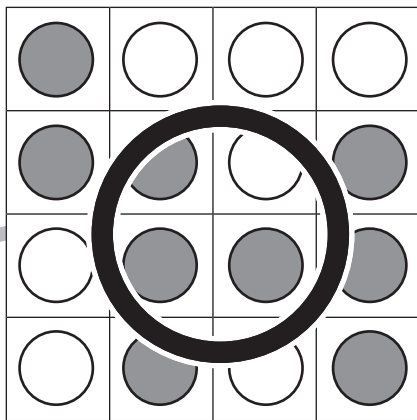

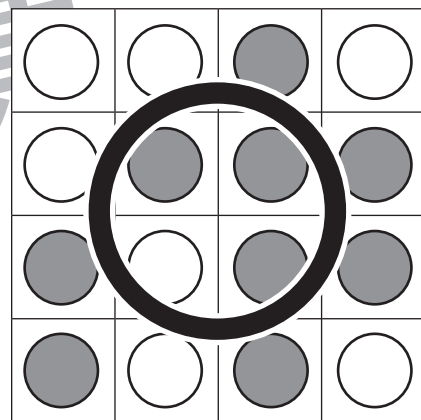

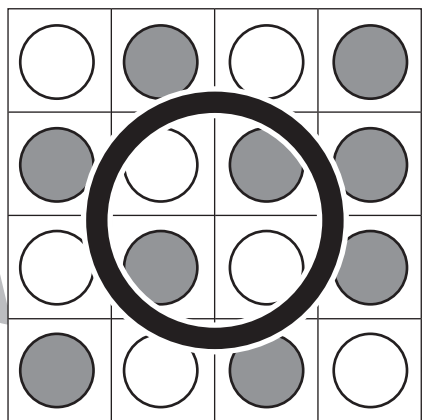
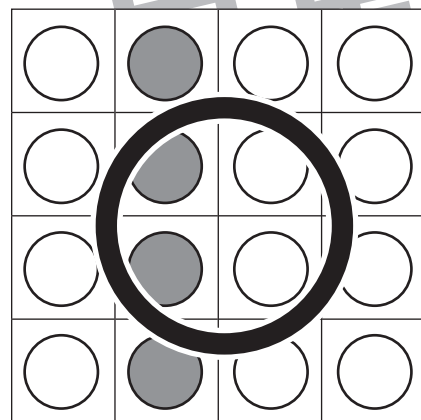


# おうちで、やろう。

Study at home. 小学校受験の家庭学習教材

数量：計数 46

それぞれの四角のマスには白丸と灰色の丸が並んでいます。

縦・横・斜めのどこかに灰色の丸が4つ並んでいる四角をすべて見つけて○をつけます。



※1. このプリントは、しながわ・目黒こどもスクールのウェブサイトでダウンロードができます。無断複写・引用はご遠慮ください。  
 ※2. このプリントを活用したオンライン授業のスケジュールは、しながわ・目黒こどもスクールのウェブサイトでご確認ください。





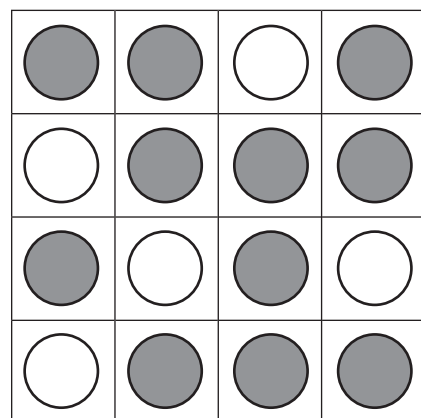
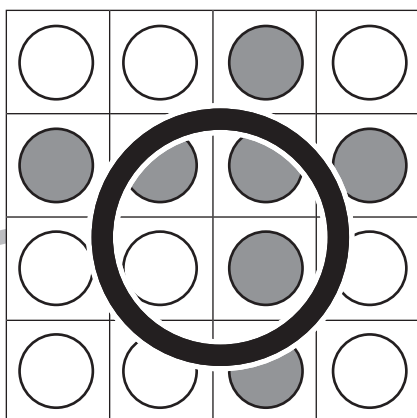


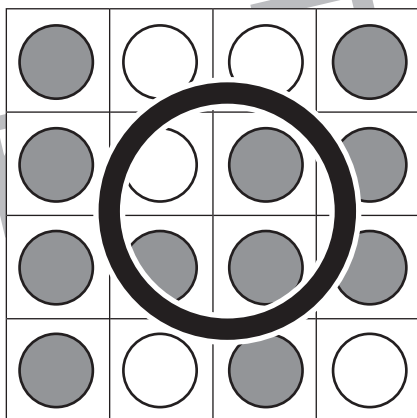
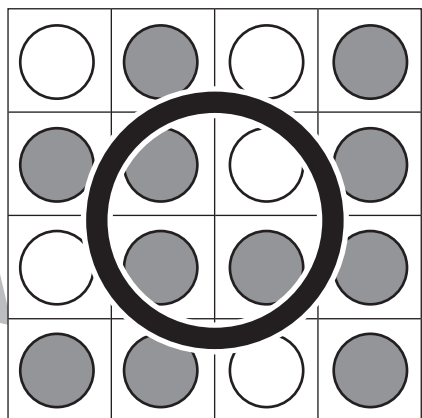
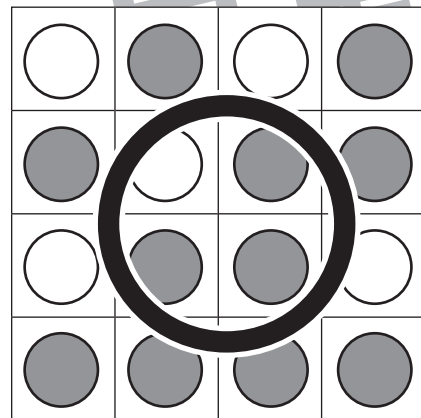
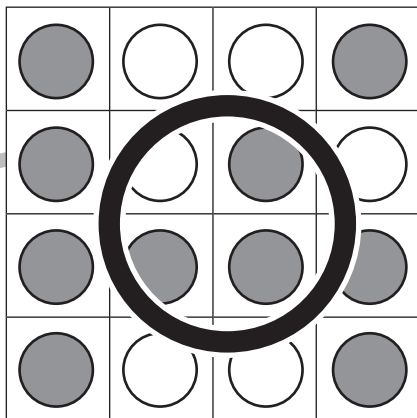

# おうちで、やろう。

Study at home. 小学校受験の家庭学習教材

数量：計数 47

それぞれの四角のマスには白丸と灰色の丸が並んでいます。

縦・横・斜めのどこかに灰色の丸が4つ並んでいる列が2つある四角をすべて見つけて○をつけます。



※1. このプリントは、しながわ・目黒こどもスクールのウェブサイトでダウンロードができます。無断複写・引用はご遠慮ください。  
※2. このプリントを活用したオンライン授業のスケジュールは、しながわ・目黒こどもスクールのウェブサイトでご確認ください。