



おうちで、やろう。

Study at home. 小学校受験の家庭学習教材

図形：折り重ね 41

真ん中の太い線で折り重ねたときの見え方を考えます。このとき黒のマスの隠れないで見えている○を見つけて、下の四角に○をかきます。

Each grid is a 3x3 grid with a thick horizontal line across the middle row. The top two rows are visible, and the bottom two rows are hidden behind the line. The grids contain circles (○) and black squares (■). The circles are located in the top part of the grid. The black squares form various patterns. The goal is to identify the circles that are visible through the black cells and draw them in the bottom part of the grid.

※1. このプリントは、しながわ・目黒子どもスクールのウェブサイトでダウンロードができます。無断複写・引用はご遠慮ください。

※2. このプリントを活用したオンライン授業のスケジュールは、しながわ・目黒子どもスクールのウェブサイトでご確認ください。



おうちで、やろう。

Study at home. 小学校受験の家庭学習教材

図形：折り重ね 42

真ん中の太い線で折り重ねたときの見え方を考えます。このとき黒のマスの隠れないで見えている○を見つけて、下の四角に○をかきます。

※1. このプリントは、しながわ・目黒こどもスクールのウェブサイトでダウンロードができます。無断複写・引用はご遠慮ください。
※2. このプリントを活用したオンライン授業のスケジュールは、しながわ・目黒こどもスクールのウェブサイトでご確認ください。



おうちで、やろう。

Study at home. 小学校受験の家庭学習教材

図形：折り重ね 43

真ん中の太い線で折り重ねたときの見え方を考えます。このとき黒のマスの隠れないで見えている○を見つけて、下の四角に○をかきます。

※1. このプリントは、しながわ・目黒こどもスクールのウェブサイトでダウンロードができます。無断複写・引用はご遠慮ください。
※2. このプリントを活用したオンライン授業のスケジュールは、しながわ・目黒こどもスクールのウェブサイトでご確認ください。



おうちで、やろう。

Study at home.

推理：ブラックボックス 13

上の太い四角の中が約束です。黒い星、白い星の箱の中に黒や白の丸が入ると、数が変わったり色が変わって出てきます。この約束で星の箱を通して出てきた丸はどちらの色でいくつになるでしょうか。その数だけ、その色で○を書きます。

--	--

--	--

--	--

--	--

※1. このプリントは、しながわ・目黒こどもスクールのウェブサイトでダウンロードができます。無断複写・引用はご遠慮ください。
 ※2. このプリントを活用したオンライン授業のスケジュールは、しながわ・目黒こどもスクールのウェブサイトでご確認ください。



おうちで、よろう。

Study at home.

推理：ブラックボックス 14

上の太い四角の中が約束です。黒い星、白い星の箱の中に黒や白の丸が入ると、数が変わったり色が変わって出てきます。この約束で星の箱を通して出てきた丸はどちらの色でいくつになるでしょうか。その数だけ、その色で○を書きます。

--

--

--

--

※1. このプリントは、しながわ・目黒こどもスクールのウェブサイトでダウンロードができます。無断複写・引用はご遠慮ください。

※2. このプリントを活用したオンライン授業のスケジュールは、しながわ・目黒こどもスクールのウェブサイトでご確認ください。

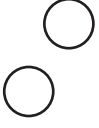








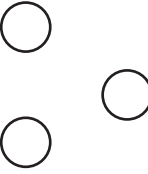









おうちで、やろう。






Study at home.






推理：ブラックボックス 15






上の太い四角の中が約束です。黒い星、白い星の箱の中に黒や白の丸が入ると、数が変わったり色が変わって出てきます。この約束で星の箱を通して出てきた丸はどちらの色でいくつになるでしょうか。その数だけ、その色で○を書きます。

	→		→	
	→		→	
	→		→	
	→		→	

	→		→		→		→	 × 6
--	---	--	---	--	---	---	---	--

	→		→		→		→	 × 8
---	---	---	---	---	---	--	---	---

	→		→		→		→	 × 8
---	---	---	---	---	---	--	---	---

	→		→		→		→	 × 10
--	---	---	---	---	---	--	---	--

※1. このプリントは、しながわ・目黒こどもスクールのウェブサイトでダウンロードができます。無断複写・引用はご遠慮ください。
 ※2. このプリントを活用したオンライン授業のスケジュールは、しながわ・目黒こどもスクールのウェブサイトでご確認ください。