



# おうちで、やろう。

Study at home. 小学校受験の家庭学習教材

## 図形：折り重ね 41

真ん中の太い線で折り重ねたときの見え方を考えます。このとき黒のマスの隠れないで見えている○を見つけて、下の四角に○をかきます。

The puzzles are arranged in three rows and three columns. Each puzzle has a top 3x3 grid of circles and a bottom 3x3 grid of squares. A thick horizontal line is drawn between the two grids. An arrow on the left of each puzzle indicates that the top grid is folded over the bottom grid. The goal is to identify which circles are visible after the fold.

- Puzzle 1 (top-left):** All squares in the bottom grid are black. All circles in the top grid are visible.
- Puzzle 2 (top-middle):** The middle row of squares in the bottom grid is black. The top and bottom rows are white. The top row of circles is visible.
- Puzzle 3 (top-right):** The middle square in the middle column of the bottom grid is black. All other squares are white. The top row of circles is visible.
- Puzzle 4 (middle-left):** All squares in the bottom grid are white. All circles in the top grid are visible.
- Puzzle 5 (middle-middle):** All squares in the bottom grid are white. All circles in the top grid are visible.
- Puzzle 6 (middle-right):** All squares in the bottom grid are white. All circles in the top grid are visible.
- Puzzle 7 (bottom-left):** The middle square in the middle column of the bottom grid is black. All other squares are white. The top row of circles is visible.
- Puzzle 8 (bottom-middle):** The middle row of squares in the bottom grid is black. The top and bottom rows are white. The top row of circles is visible.
- Puzzle 9 (bottom-right):** The middle square in the middle column of the bottom grid is black. All other squares are white. The top row of circles is visible.

※1. このプリントは、しながわ・目黒こどもスクールのウェブサイトでダウンロードができます。無断複写・引用はご遠慮ください。

※2. このプリントを活用したオンライン授業のスケジュールは、しながわ・目黒こどもスクールのウェブサイトでご確認ください。

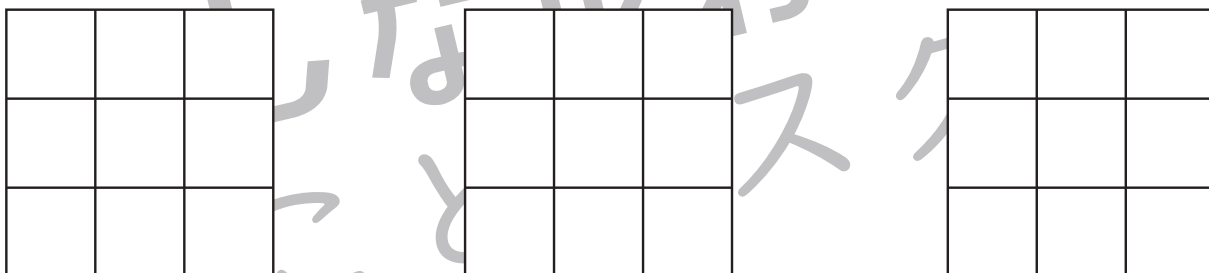
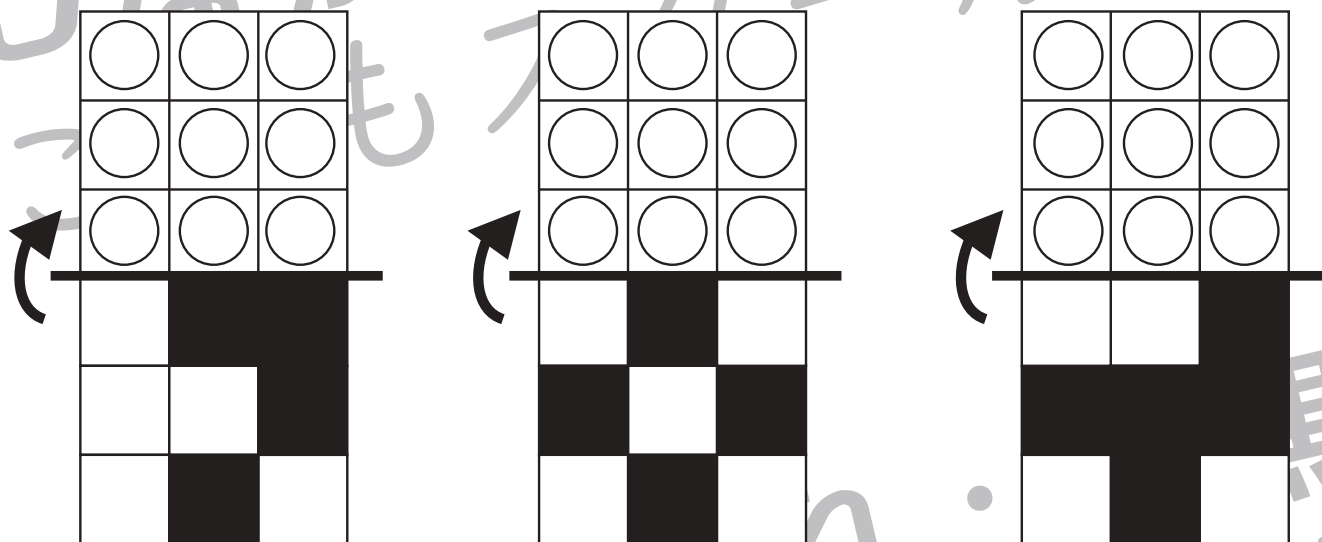
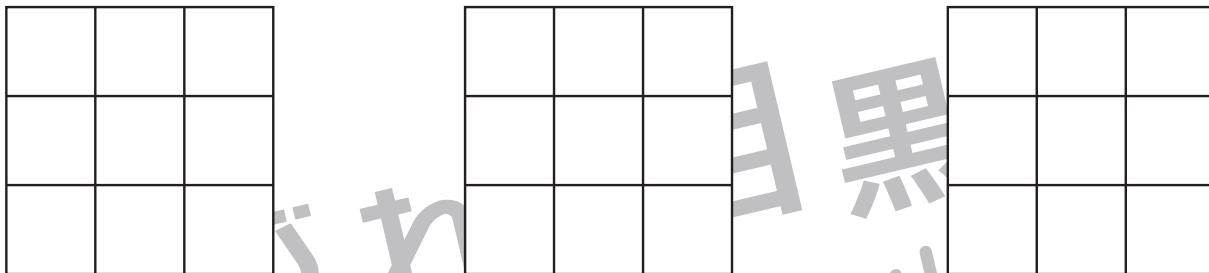
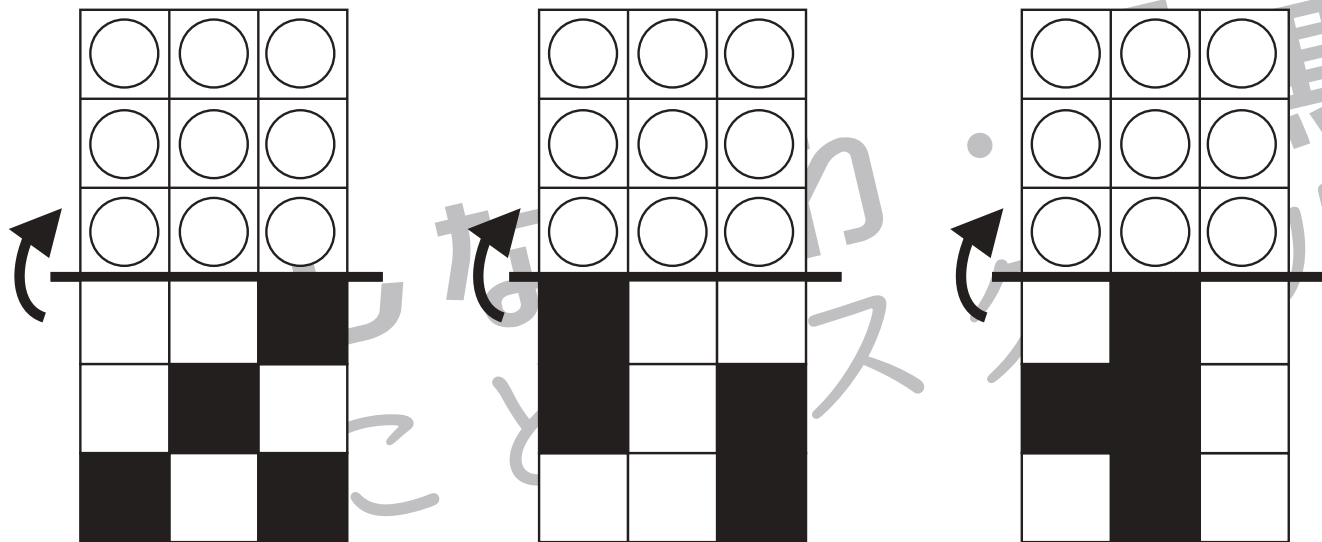


# おうちで、やろう。

Study at home. 小学校受験の家庭学習教材

## 図形：折り重ね 42

真ん中の太い線で折り重ねたときの見え方を考えます。このとき黒のマスの隠れないで見えている○を見つけて、下の四角に○をかきます。



※1. このプリントは、しながわ・目黒こどもスクールのウェブサイトでダウンロードができます。無断複写・引用はご遠慮ください。  
 ※2. このプリントを活用したオンライン授業のスケジュールは、しながわ・目黒こどもスクールのウェブサイトでご確認ください。

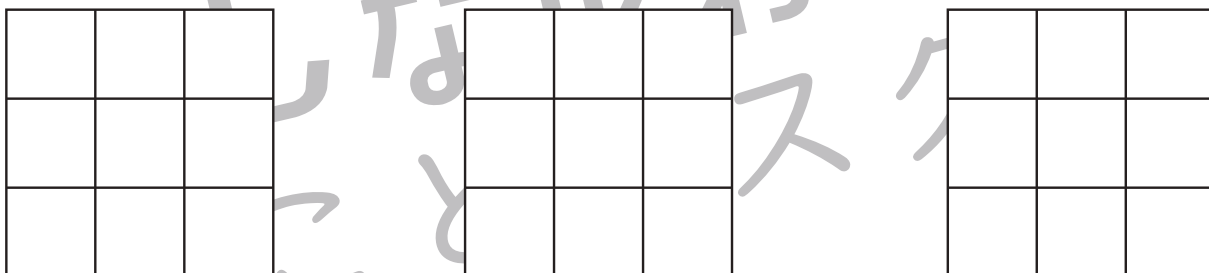
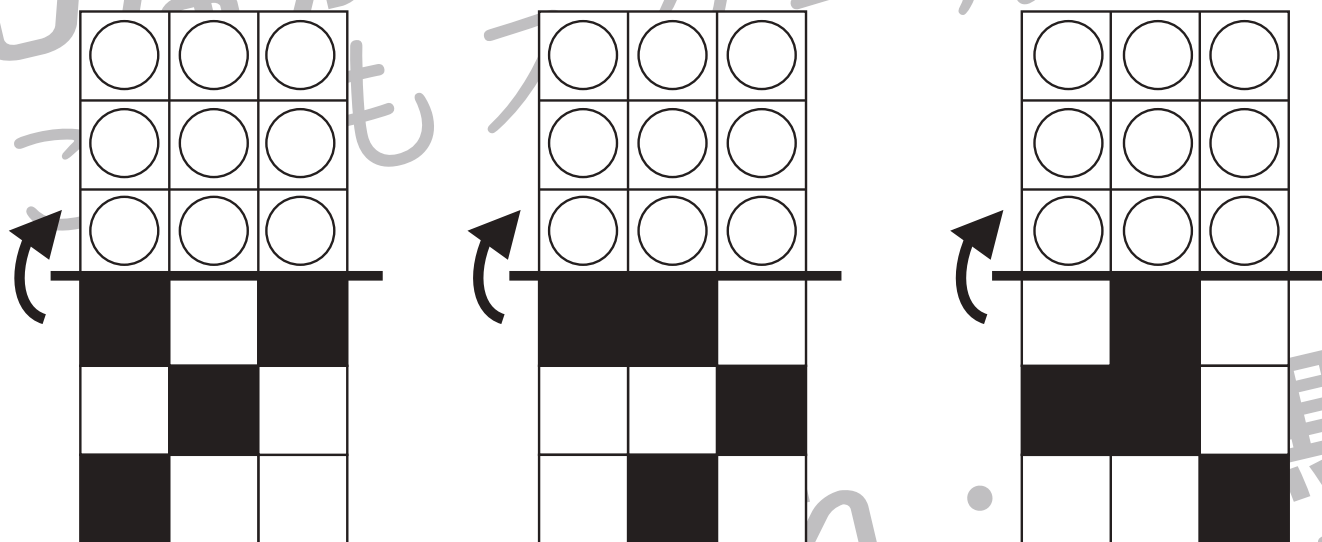
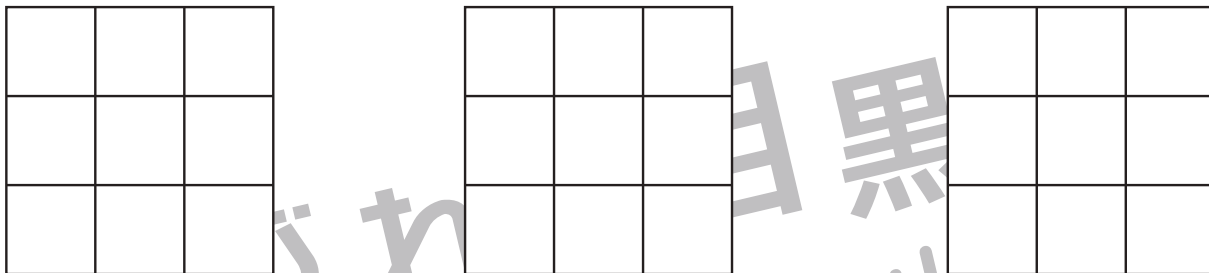



# おうちで、やろう。

Study at home. 小学校受験の家庭学習教材

## 図形：折り重ね 43

真ん中の太い線で折り重ねたときの見え方を考えます。このとき黒のマスの隠れないで見えている○を見つけて、下の四角に○をかきます。



※1. このプリントは、しながわ・目黒こどもスクールのウェブサイトでダウンロードができます。無断複写・引用はご遠慮ください。  
 ※2. このプリントを活用したオンライン授業のスケジュールは、しながわ・目黒こどもスクールのウェブサイトでご確認ください。



# おうちで、やろう。

Study at home.

## 推理：ブラックボックス 13

上の太い四角の中が約束です。黒い星、白い星の箱の中に黒や白の丸が入ると、数が変わったり色が変わって出てきます。この約束で星の箱を通して出てきた丸はどちらの色でいくつになるでしょうか。その数だけ、その色で○を書きます。


--	--

--	--

--	--

--	--

※1. このプリントは、しながわ・目黒こどもスクールのウェブサイトでダウンロードができます。無断複写・引用はご遠慮ください。

※2. このプリントを活用したオンライン授業のスケジュールは、しながわ・目黒こどもスクールのウェブサイトでご確認ください。



# おうちで、よろう。

Study at home.

## 推理：ブラックボックス 14

上の太い四角の中が約束です。黒い星、白い星の箱の中に黒や白の丸が入ると、数が変わったり色が変わって出てきます。この約束で星の箱を通して出てきた丸はどちらの色でいくつになるでしょうか。その数だけ、その色で○を書きます。


--	--

--	--

--	--

--	--

※1. このプリントは、しながわ・目黒こどもスクールのウェブサイトでダウンロードができます。無断複写・引用はご遠慮ください。  
 ※2. このプリントを活用したオンライン授業のスケジュールは、しながわ・目黒こどもスクールのウェブサイトでご確認ください。



















# おうちで、やろう。





Study at home.





## 推理：ブラックボックス 15





上の太い四角の中が約束です。黒い星、白い星の箱の中に黒や白の丸が入ると、数が変わったり色が変わって出てきます。この約束で星の箱を通して出てきた丸はどちらの色でいくつになるでしょうか。その数だけ、その色で○を書きます。

	→		→	
	→		→	
	→		→	
	→		→	

	→		→		→		→	
--	---	--	---	--	---	--	---	--

	→		→		→		→	
---	---	---	---	---	---	---	---	--

	→		→		→		→	
---	---	---	---	---	---	---	---	--

	→		→		→		→	
--	---	---	---	---	---	---	---	--

※1. このプリントは、しながわ・目黒こどもスクールのウェブサイトでダウンロードができます。無断複写・引用はご遠慮ください。  
 ※2. このプリントを活用したオンライン授業のスケジュールは、しながわ・目黒こどもスクールのウェブサイトでご確認ください。



# おうちで、やろう。

Study at home. 小学校受験の家庭学習教材

## 言語：お話づくり 15

4枚の絵でお話づくりをします。順番を考えてお話ししましょう。保護者の方がお子さまのお話した内容を下に記入してください。

<学習のアドバイス>絵の説明だけに終わらないようにすることが大切です。まずは、何をしている様子なのかを考えましょう。人物の名前や、どんな会話をしているか想像してみると、お話の内容が充実していきます。※この問題に正解はありません。



あなたの考えたお話

※1. このプリントは、しながわ・目黒こどもスクールのウェブサイトでダウンロードができます。無断複写・引用はご遠慮ください。  
 ※2. このプリントを活用したオンライン授業のスケジュールは、しながわ・目黒こどもスクールのウェブサイトでご確認ください。






# おうちで、やろう。

Study at home. 小学校受験の家庭学習教材

## 言語：お話づくり 16

4枚の絵でお話づくりをします。順番を考えてお話ししましょう。保護者の方がお子さまのお話した内容を下に記入してください。

<学習のアドバイス>絵の説明だけに終わらないようにすることが大切です。まずは、何をしている様子なのかを考えましょう。人物の名前や、どんな会話をしているか想像してみると、お話の内容が充実していきます。※この問題に正解はありません。



あなたの考えたお話

※1. このプリントは、しながわ・目黒こどもスクールのウェブサイトでダウンロードができます。無断複写・引用はご遠慮ください。  
 ※2. このプリントを活用したオンライン授業のスケジュールは、しながわ・目黒こどもスクールのウェブサイトでご確認ください。





おうちで、やろう。

Study at home. 小学校受験の家庭学習教材

巧緻性：ちぎり 11

- ①点線をはさみで切ります。
- ②絵の太い線をちぎります。



※1. このプリントは、しながわ・目黒こどもスクールのウェブサイトでダウンロードができます。無断複写・引用はご遠慮ください。  
※2. このプリントを活用したオンライン授業のスケジュールは、しながわ・目黒こどもスクールのウェブサイトでご確認ください。






おうちで、やろう。

Study at home. 小学校受験の家庭学習教材

巧緻性：ちぎり 12

①点線をはさみで切ります。

②絵の太い線をちぎります。



※1. このプリントは、しながわ・目黒こどもスクールのウェブサイトでダウンロードができます。無断複写・引用はご遠慮ください。

※2. このプリントを活用したオンライン授業のスケジュールは、しながわ・目黒こどもスクールのウェブサイトでご確認ください。

